

WPISUJE UCZEŃ

KOD UCZNI

--	--	--

DATA URODZENIA UCZNI

--	--	--	--	--	--	--	--

dzień miesiąc rok

UZUPEŁNIA ZESPÓŁ
NADZORUJĄCY

miejsce
na naklejkę
z kodem

dysleksja

EGZAMIN W TRZECIEJ KLASIE GIMNAZJUM Z ZAKRESU PRZEDMIOTÓW MATEMATYCZNO-PRZYRODNICZYCH

Instrukcja dla ucznia

1. Sprawdź, czy zestaw egzaminacyjny zawiera 12 stron.
Ewentualny brak stron lub inne usterki zgłoś nauczycielowi.
2. Na tej stronie i na karcie odpowiedzi wpisz swój kod i datę urodzenia.
3. Czytaj uważnie wszystkie teksty i zadania.
4. Rozwiązania zapisuj długopisem lub piórem z czarnym tuszem/atramentem. Nie używaj korektora.
5. W zadaniach od 1. do 25. są podane cztery odpowiedzi: A, B, C, D.
Odpowiada im następujący układ na karcie odpowiedzi:

A	B	C	D
---	---	---	---

Wybierz tylko jedną odpowiedź i zamaluj kratkę z odpowiadającą jej literą - np. gdy wybrałeś odpowiedź "A":

■	B	C	D
---	---	---	---

6. Staraj się nie popełniać błędów przy zaznaczaniu odpowiedzi, ale jeśli się pomylisz,
błędne zaznaczenie otocz kółkiem i zamaluj inną odpowiedź.

⊙ ■	B	C	■
-----	---	---	---

7. Rozwiązania zadań od 26. do 34. zapisz czytelnie i starannie w wyznaczonych miejscach. Pomyłki przekreślaj.
8. Redagując odpowiedzi do zadań, możesz wykorzystać miejsce opatrzone napisem *Brudnopis*. Zapisy w brudnopisie nie będą sprawdzane i oceniane.

MAJ 2004

Czas pracy:
120 minut

Liczba punktów
do uzyskania: 50

Powodzenia!

GM-A1-042

WYPOCZYNEK

Zadanie 1. (0-1)

Uczestnicy wycieczki rowerowej potrzebują szczegółowej mapy. Najdokładniejsza będzie mapa w skali

- A. 1:5 000 B. 1:10 000 C. 1:25 000 D. 1:50 000

Zadanie 2. (0-1)

W wycieczce rowerowej uczestniczy 32 uczniów. Chłopców jest o 8 więcej niż dziewcząt. Ilu chłopców jest w tej grupie?

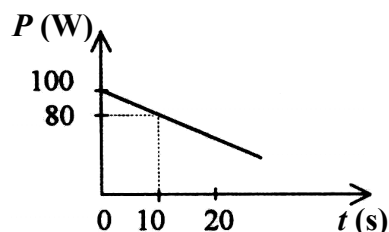
- A. 12 B. 16 C. 20 D. 24

Zadanie 3. (0-1)

Wykres przedstawia zależność mocy mięśni rowerzysty od czasu jazdy na wybranym odcinku trasy.

Ile razy moc mięśni rowerzysty w chwili rozpoczęcia pomiaru jest większa od mocy jego mięśni w chwili 10 s?

- A. 2 B. 1,25
C. 0,8 D. 0,5

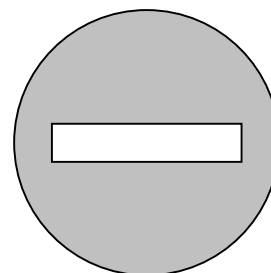


Zadanie 4. (0-1)

Zamieszczona na rysunku obok figura przedstawia znak drogowy.

Figura ta

- A. nie ma osi symetrii.
B. ma dokładnie jedną oś symetrii.
C. ma dokładnie dwie osie symetrii.
D. ma nieskończenie wiele osi symetrii.



Zadanie 5. (0-1)

Wojtek, Marek, Janek i Kuba zorganizowali wyścigi rowerowe. W tabeli podano czasy uzyskane przez chłopców.

Imię chłopca	Wojtek	Marek	Janek	Kuba
Uzyskany czas	5 min 42 s	6 min 5 s	7 min 8 s	4 min 40 s

Ile czasu po zwycięzcy przybył na metę ostatni chłopiec?


- A. 1 min 2 s B. 2 min 28 s C. 3 min 8 s D. 3 min 32 s

Zadanie 6. (0-1)

Wykres przedstawia zależność siły mięśni każdego z dwóch rowerzystów od przebytej drogi.

Na podstawie wykresu można stwierdzić, że

- A. Adam i Maciek wykonali jednakową pracę.
- B. Adam i Maciek nie wykonali żadnej pracy.
- C. Maciek wykonał dwa razy większą pracę niż Adam.
- D. Adam wykonał dwa razy większą pracę niż Maciek.

**Zadanie 7. (0-1)**

Następnego dnia po wycieczce rowerzyści odczuwali ból mięśni. Przyczyną tych dolegliwości był nagromadzony w mięśniach kwas mlekowy, powstający w wyniku

- A. oddychania tlenowego.
- B. oddychania beztlenowego.
- C. wymiany gazowej w tkankach.
- D. połączenia tlenu z hemoglobina.

Zadanie 8. (0-1)

Tabela przedstawia wybrane zależności między populacjami dwóch gatunków.

Zależność	Wynik oddziaływania	
	gatunek I	gatunek II
konkurencja	–	–
pasożytnictwo	+	–
współbiesiadnictwo	+	○
symbioza	+	+

+ gatunek odnosi korzyść – gatunek odnosi stratę ○ brak istotnego wpływu

Na podstawie: Ewa Pyłka-Gutowska, *Ekologia z ochroną środowiska*, Warszawa 1997.

Zależność między hubą drzewną a brzozą to

- A. konkurencja.
- B. pasożytnictwo.
- C. współbiesiadnictwo.
- D. symbioza.

Zadanie 9. (0-1)

Dwaj chłopcy, stojąc na deskorolkach, pociągnęli za końce napiętej między nimi liny. Jeżeli pierwszy chłopiec ma dwa razy większą masę od drugiego, to

- A. żaden z chłopców nie uzyska prędkości.
- B. obaj chłopcy uzyskają prędkość o takiej samej wartości.
- C. uzyska on dwa razy większą szybkość niż lżejszy chłopiec.
- D. uzyska on dwa razy mniejszą szybkość niż lżejszy chłopiec.

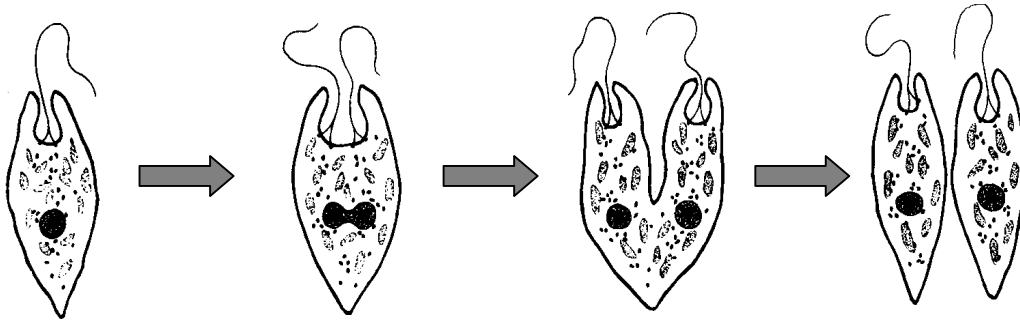
Zadanie 10. (0-1)

Woda w jeziorze ma zielony kolor wskutek występowania w niej glonów. „Zakwit wody” mógł być spowodowany

- A. częstymi opadami kwaśnych deszczów.
- B. nadmiernym nawożeniem okolicznych pól.
- C. zanieczyszczeniem wody związanym z otwarciem kąpieliska.
- D. przedostaniem się do wody paliwa z uszkodzonej łodzi motorowej.

Zadanie 11. (0-1)

Rysunek przedstawia kolejne etapy rozmnażania eugleny.



Na podstawie: *Ziemia, rośliny, zwierzęta*, Larousse, Warszawa 1970.

Przedstawiony na rysunku proces to

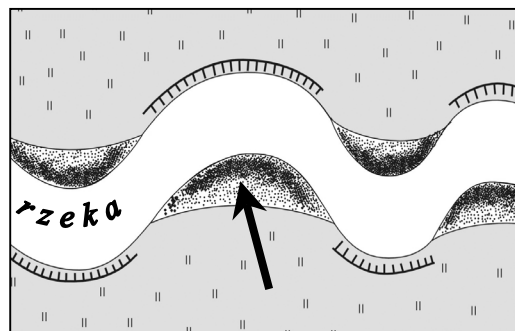
- A. pączkowanie.
- B. fragmentacja plechy.
- C. podział komórki.
- D. wytwarzanie zarodników.

Zadanie 12. (0-1)

Płynąca woda pogłębia koryto rzeki (erozja denna) i przenosi materiały skalne (transport). Przy jednym brzegu rzeki osadza się materiał (akumulacja), natomiast drugi jest podmywany przez płynącą wodę (erozja boczna).

Na rysunku strzałką wskazano miejsce

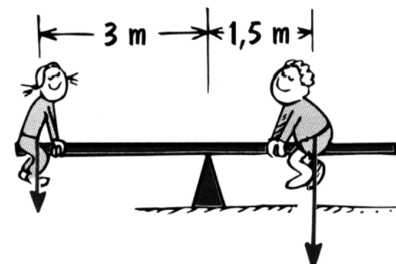
- A. erozji bocznej.
- B. erozji dennej.
- C. akumulacji.
- D. transportu.



Zadanie 13. (0-1)

Ewa i Karol siedzą na huśtawce, która jest w równowadze. Odległości dzieci od miejsca podparcia huśtawki podano na rysunku. Jeśli Ewa ma masę 25 kg, to masa Karola wynosi

- A. 45 kg
- B. 50 kg
- C. 60 kg
- D. 65 kg



Zadanie 17. (0-1)

W tabeli podano gęstości wybranych gazów.

Nazwa substancji chemicznej	Gęstość w g/dm ³ (w temp. 25°C)
hel	0,164
dwutlenek węgla	1,811
powietrze	1,185

Na podstawie: Witold Mizerski, *Małe tablice chemiczne*, Warszawa 1993.

Każdy z trzech cienkich, gumowych baloników napelniono taką samą objętością różnych gazów: pierwszy hel, drugi powietrzem, trzeci dwutlenkiem węgla. Następnie wszystkie baloniki puszczono swobodnie. Okazało się, że

- A. wszystkie uniosły się wysoko.
- B. wszystkie pozostały przy ziemi.
- C. dwa uniosły się wysoko, a jeden pozostał przy ziemi.
- D. jeden uniosł się wysoko, a dwa pozostały przy ziemi.

Zadanie 18. (0-1)

Woda w basenie jest podgrzewana. Aby obliczyć energię potrzebną do jej ogrzania, należy znaleźć w tablicach gęstość i ciepło właściwe wody oraz znać

- A. objętość i temperaturę końcową wody.
- B. objętość, temperaturę początkową i końcową wody.
- C. głębokość i szerokość basenu oraz różnicę temperatur wody.
- D. powierzchnię basenu oraz temperaturę początkową i końcową wody.

Zadanie 19. (0-1)

Tabela przedstawia ceny kart wstępu na pływalnię. Czas pływania uwzględnia liczbę wejść oraz czas jednego pobytu na basenie.

Numer karty	I	II	III	IV
Czas pływania	10 × 1 godz.	8 × 1,5 godz.	20 × 1 godz.	15 × 1 godz.
Cena karty	50 zł	50 zł	80 zł	70 zł

Godzina pływania jest najtańsza przy zakupie karty

- A. I
- B. II
- C. III
- D. IV

Zadanie 20. (0-1)

Podczas spaceru brat Zosi jedzie czterokołowym rowerkiem. Obwód dużego koła wynosi 80 cm, a małego 40 cm. O ile obrotów więcej wykona małe koło rowerka niż duże na półkilometrowym odcinku drogi?

- A. 2500
- B. 1250
- C. 625
- D. 400

Zadanie 21. (0-1)

Podczas trzydniowej pieszej wycieczki uczniowie przeszli 39 km. Drugiego dnia pokonali dwa razy dłuższą trasę niż pierwszego dnia, a trzeciego o 5 km mniej niż pierwszego. Ile km przebyli pierwszego dnia?

- A. 6 B. 11 C. 22 D. 28

Zadanie 22. (0-1)

Podczas gotowania lub smażenia jaja kurzego, białko ścina się nieodwracalnie. Innym czynnikiem powodującym nieodwracalne ścinanie białka jest

- A. zimna woda. B. sól kuchenna. C. alkohol etylowy. D. roztwór cukru.

Zadanie 23. (0-1)

Na lekcji jazdy konnej dzieci dosiadały konia prowadzonego po okręgu na napiętej uwięzi o długości 5 metrów. Jaką drogę pokonał koń, jeżeli łącznie przebył 40 okrążeń? Wynik zaokrąglij do 0,1 km.

- A. Około 1,3 km B. Około 1 km C. Około 0,2 km D. Około 12,6 km

Zadanie 24. (0-1)

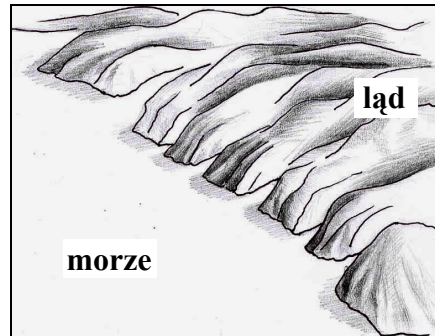
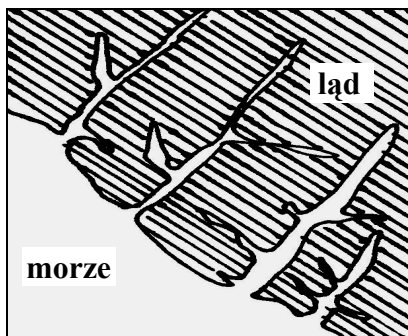
W trakcie konkursu każda drużyna otrzymała plastelinę i 120 patyczków tej samej długości. Zadanie polegało na zbudowaniu ze wszystkich patyczków 15 modeli sześciątów i czworościanów. Który układ równań powinna rozwiązać drużyna, aby dowiedzieć się, ile sześciątów i ile czworościanów trzeba zbudować?

x – liczba czworościanów, y – liczba sześciątów

- A. $\begin{cases} x + y = 15 \\ 12x - 6y = 120 \end{cases}$ B. $\begin{cases} 6y - 12x = 120 \\ x + y = 15 \end{cases}$ C. $\begin{cases} 6x + 6y = 120 \\ x + y = 15 \end{cases}$ D. $\begin{cases} x + y = 15 \\ 6x + 12y = 120 \end{cases}$

Zadanie 25. (0-1)

Rysunki przedstawiają ten sam typ wybrzeża.



Jest to wybrzeże

- A. dalmatyńskie. B. wyrównane. C. szkierowe. D. fiordowe.

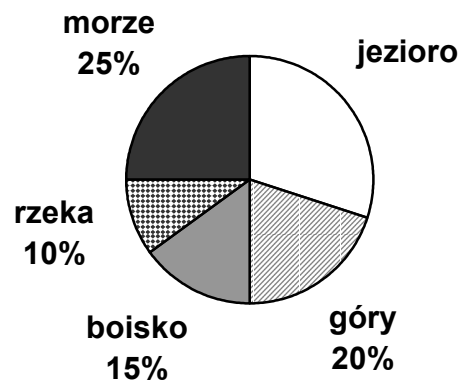
Zadanie 26. (0-2)

Woda gazowana zawiera rozpuszczony w wodzie dwutlenek węgla. Niewielkie ilości tego gazu reagują z wodą, tworząc kwas węglowy.

Napisz równanie reakcji tworzenia się tego kwasu.

Informacje do zadań 27. i 28.

Diagram przedstawia wyniki ankiety przeprowadzonej wśród grupy gimnazjalistów na temat ulubionego miejsca wypoczynku. Każdy wskazał tylko jedno miejsce.



Zadanie 27. (0-3)

Oblicz, ilu uczniów liczyła ankietowana grupa, jeśli nad jeziorem lubi wypoczywać 90 spośród ankietowanych gimnazjalistów. Zapisz obliczenia.

Odpowiedź:

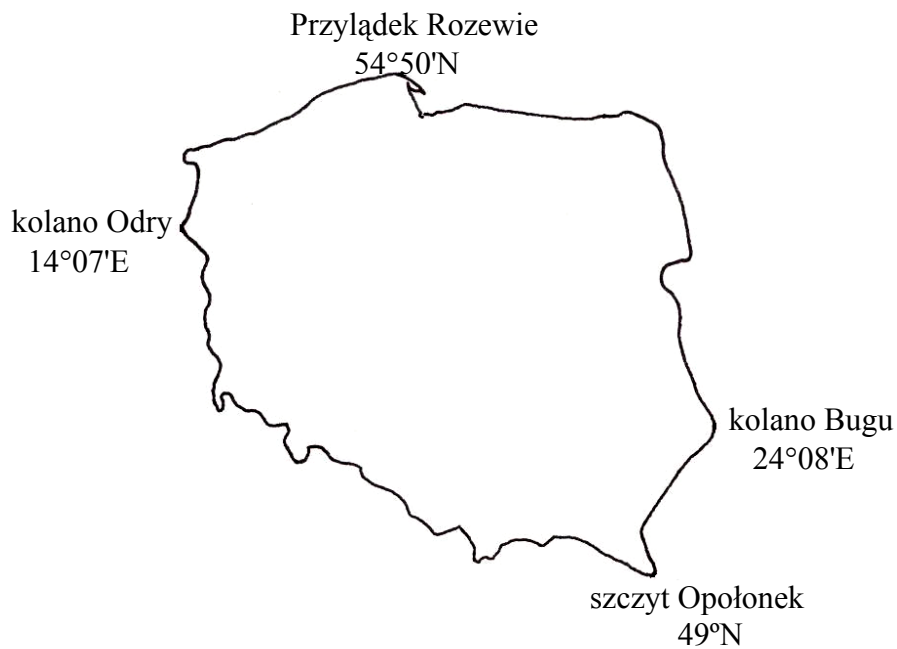
Zadanie 28. (0-1)

Oblicz, jaką miarę ma kąt środkowy ilustrujący na diagramie kołowym procent uczniów lubiących wypoczywać w górach. Zapisz obliczenia.

Odpowiedź:

Zadanie 29. (0-3)

Oblicz rozciągłość w kilometrach między najbardziej wysuniętymi na północ i na południe punktami Polski (1° odpowiada 111,1 km w terenie). Zapisz obliczenia.



Odpowiedź:

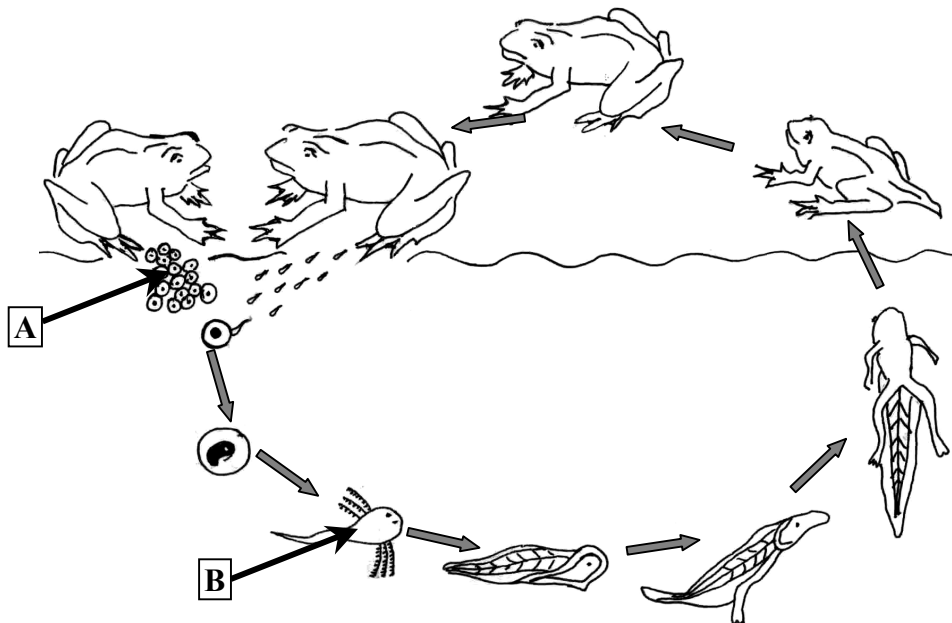
Zadanie 30. (0-4)

Na rzece zbudowano most, który zachodzi na jej brzegi: 150 metrów mostu zachodzi na jeden brzeg, a $\frac{1}{3}$ długości mostu na drugi. Oblicz szerokość rzeki, jeżeli stanowi ona $\frac{1}{6}$ długości mostu. Zapisz obliczenia.

Odpowiedź:

Informacje do zadań 31. i 32.

Schemat przedstawia cykl rozwojowy żaby.



Zadanie 31. (0-2)

Nazwij formy rozwojowe oznaczone literami A i B.

A –

B –

Zadanie 32. (0-2)

Wymień dwie cechy formy rozwojowej oznaczonej literą B, które przystosowują ją do życia w wodzie i jednocześnie odróżniają ją od osobnika dorosłego.

1.

2.

Zadanie 33. (0-3)

Bateria wyczerpie się po godzinie, jeżeli będzie pobierany z niej prąd stały o natężeniu 8,1 A. Oblicz, jaki ładunek wtedy przepłynie. Wynik podaj w kulombach ($1C = 1A \cdot 1s$). Przez żarówkę latarki zasilanej tą baterią płynie prąd stały o natężeniu 0,3 A. Po ilu godzinach używania tej latarki wyczerpie się bateria? Zapisz obliczenia.

Odpowiedź: Ładunek, jaki przepłynie w ciągu godziny, wynosi

Bateria wyczerpie się po godzinach.

Zadanie 34. (0-5)

Dziecko nasypuje piasek do foremek w kształcie stożka o promieniu podstawy 5 cm i tworzącej 13 cm. Następnie przesypuje go do wiaderka w kształcie walca o wysokości 36 cm i promieniu dwa razy większym niż promień foremki. Jaką część wiaderka wypełniło dziecko, wsypując 6 foremek piasku? Zapisz obliczenia.

Odpowiedź:

Brudnopis

Więcej arkuszy znajdziesz na stronie: arkusze.pl