

WYPEŁNIA ZDAJĄCY

KOD

--	--	--

PESEL

--	--	--	--	--	--	--	--	--	--

Miejsce na naklejkę.

Sprawdź, czy kod na naklejce to
E-100.

Jeżeli tak – przyklej naklejkę.
Jeżeli nie – zgłoś to nauczycielowi.

Egzamin maturalny

Formuła 2015

CHEMIA

Poziom rozszerzony

Symbol arkusza

ECHP-R0-100-2406

DATA: 10 czerwca 2024 r.

GODZINA ROZPOCZĘCIA: 9:00

CZAS TRWANIA: 180 minut

LICZBA PUNKTÓW DO UZYSKANIA: 60

Przed rozpoczęciem pracy z arkuszem egzaminacyjnym

1. Sprawdź, czy nauczyciel przekazał Ci **właściwy arkusz egzaminacyjny**, tj. arkusz we **właściwej formule**, z **właściwego przedmiotu** na **właściwym poziomie**.
2. Jeżeli przekazano Ci **niewłaściwy** arkusz – natychmiast zgłoś to nauczycielowi. Nie rozrywaj banderol.
3. Jeżeli przekazano Ci **właściwy** arkusz – rozerwij banderole po otrzymaniu takiego polecenia od nauczyciela. Zapoznaj się z instrukcją na stronie 2.



Instrukcja dla zdającego

1. Sprawdź, czy arkusz egzaminacyjny zawiera 28 stron (zadania 1–33).
Ewentualny brak zgłoś przewodniczącemu zespołu nadzorującego egzamin.
2. Na pierwszej stronie oraz na karcie odpowiedzi wpisz swój numer PESEL i przyklej naklejkę z kodem.
3. Odpowiedzi i rozwiązania zapisz w miejscu na to przeznaczonym przy każdym zadaniu.
4. W rozwiązaniach zadań rachunkowych przedstaw tok rozumowania prowadzący do ostatecznego wyniku oraz pamiętaj o jednostkach.
5. Pisz czytelnie. Używaj długopisu/pióra tylko z czarnym tuszem/atramentem.
6. Nie używaj korektora, a błędne zapisy wyraźnie przekreśl.
7. Nie wpisuj żadnych znaków w części przeznaczonej dla egzaminatora.
8. Pamiętaj, że zapisy w brudnopisie nie będą oceniane.
9. Możesz korzystać z *Wybranych wzorów i stałych fizykochemicznych na egzamin maturalny z biologii, chemii i fizyki*, linijki oraz kalkulatora prostego. Upewnij się, czy przekazano Ci broszurę z okładką taką jak widoczna poniżej.



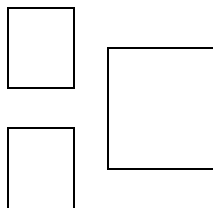
**Zadania egzaminacyjne są wydrukowane
na następnych stronach.**

Zadanie 1.

Dwa pierwiastki E i X tworzą jony E^+ i X^- o takiej samej konfiguracji elektronowej $1s^2 2s^2 2p^6 3s^2 3p^6$ (stan podstawowy). W atomie jednego z trwałych izotopów pierwiastka E liczba nukleonów jest o 20 większa od liczby protonów.

Zadanie 1.1. (0–1)

Uzupełnij poniższy schemat. Wpisz w odpowiednie pola symbol pierwiastka E, jego liczbę atomową oraz liczbę masową opisanego izotopu.



Zadanie 1.2. (0–1)

Napisz fragment konfiguracji elektronowej atomu X w stanie podstawowym opisujący rozmieszczenie elektronów walencyjnych na orbitalach. Zastosuj graficzny (klatkowy) zapis konfiguracji elektronowej. W zapisie uwzględnij numer powłoki i symbole podpowłok.

.....

Zadanie 1.3. (0–1)

Pierwiastek E przyjmuje w związkach chemicznych jeden stopień utlenienia, a pierwiastek X tworzy związki, w których występuje na różnych stopniach utlenienia.

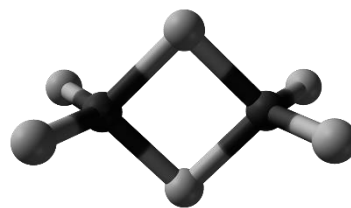
Określ charakter chemiczny (kwasowy, zasadowy, amfoteryczny, obojętny) tlenku pierwiastka E. Napisz wzór sumaryczny tlenku pierwiastka X, w którym ten pierwiastek przyjmuje najwyższy stopień utlenienia.

Charakter chemiczny tlenku pierwiastka E:

Wzór sumaryczny tlenku pierwiastka X na najwyższym stopniu utlenienia:

Zadanie 2.

Gal tworzy trihalogenki, np. chlorek galu(III). W fazie stałej chlorek galu(III) występuje głównie w postaci dimerów, a w fazie gazowej – jako mieszanina dimerów i monomerów. Monomer chlorku galu(III) jest płaską cząsteczką, w której wszystkie atomy chloru są równocenne. Model dimeru przedstawiono na rysunku.



Na podstawie: *CRC Handbook of Chemistry and Physics 97th Edition*, CRC Press 2017.

Zadanie 2.1. (0–1)

Narysuj wzór elektronowy monomeru chlorku galu(III). Zaznacz kreskami wiążące i wolne pary elektronowe.

Wzór monomeru chlorku galu(III)

Zadanie 2.2. (0–1)

Uzupełnij tabelę. Napisz, jaki typ hybrydyzacji (sp , sp^2 albo sp^3) przypisuje się orbitalom walencyjnym atomu galu w monomerze oraz w dimerze chlorku galu(III).

Chlorek galu(III):	monomer	dimer
Typ hybrydyzacji		

Zadanie 2.3. (0–1)

Wyjaśnij, dlaczego monomery chlorku galu(III) mają zdolność łączenia się w dimery. Uwzględnij sposób powstawania wiązań, dzięki którym z monomeru chlorku galu(III) powstaje dimer.

.....

.....

.....

.....

Zadanie 3.

Tytan jest lekkim metalem odpornym na korozję. W zależności od stopnia utlenienia tytanu chlorki tego pierwiastka odznaczają się różnymi właściwościami fizycznymi. Wartości temperatury topnienia i temperatury wrzenia dwóch związków tytanu z chlorem zestawiono w poniższej tabeli.

Wzór związku tytanu z chlorem	Temperatura topnienia, °C	Temperatura wrzenia, °C
TiCl ₂	1035	1500
TiCl ₄	- 24	136

Reakcja tlenku tytanu(IV) – o wzorze TiO₂ – z tetrachlorometanem w temperaturze 500 °C prowadzi do powstania chlorku tytanu(IV) oraz tlenku węgla(IV) (reakcja 1.). Z kolei chlorek tytanu(II) – jako jedyny produkt reakcji – można otrzymać w wyniku przepuszczania par chlorku tytanu(IV) w temperaturze 1040 °C nad metalicznym tytanem (reakcja 2.).

Na podstawie: L. Kolditz, *Chemia nieorganiczna*, Warszawa 1994.

Zadanie 3.1. (0–1)

Uzupełnij poniższe zdania dotyczące tytanu i jego chlorków. Wybierz i zaznacz jedno określenie spośród podanych w każdym nawiasie.

Sieć krystaliczna metalicznego tytanu składa się z (atomów / kationów) otoczonych chmurą zdelokalizowanych elektronów. W sieci krystalicznej chlorku tytanu(II) obecne są (atomy / jony). Wraz z obniżeniem stopnia utlenienia tytanu w chlorkach (maleje / rośnie) jonowy charakter wiązania.

Zadanie 3.2. (0–2)

Napisz w formie cząsteczkowej równania opisanych reakcji otrzymywania TiCl₄ (reakcja 1.) i TiCl₂ (reakcja 2.). Rozstrzygnij, czy dana przemiana jest reakcją utleniania-redukcji. Zaznacz TAK albo NIE.

Równanie reakcji 1.:

.....

Rozstrzygnięcie: TAK NIE

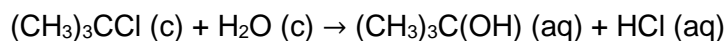
Równanie reakcji 2.:

.....

Rozstrzygnięcie: TAK NIE

Zadanie 4. (0–1)

Badano szybkość reakcji opisanej równaniem



Dokończ zdanie. Wybierz odpowiedź A albo B i jej uzasadnienie 1., 2. albo 3.

Pomiar pH roztworu, w którym zachodzi opisana reakcja,

A.	umożliwia wyznaczenie szybkości tej reakcji,	ponieważ w miarę jej postępu	1.	pH roztworu pozostaje stałe.
	B.		nie umożliwia wyznaczenia szybkości tej reakcji,	2.
3.				pH roztworu rośnie.

Zadanie 5. (0–1)


Poniżej przedstawiono równanie syntezy chlorowodoru.



Tę reakcję prowadzono w zamkniętym reaktorze i po pewnym czasie w układzie reakcyjnym ustaliła się równowaga.

Oceń prawdziwość poniższych zdań. Zaznacz P, jeśli zdanie jest prawdziwe, albo F – jeśli jest fałszywe.

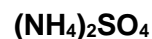
1.	Podwyższenie temperatury (w warunkach izobarycznych) skutkuje wzrostem wydajności tworzenia chlorowodoru.	P	F
2.	Zmiana ciśnienia (w warunkach izotermicznych) nie wpływa na wydajność tworzenia chlorowodoru.	P	F



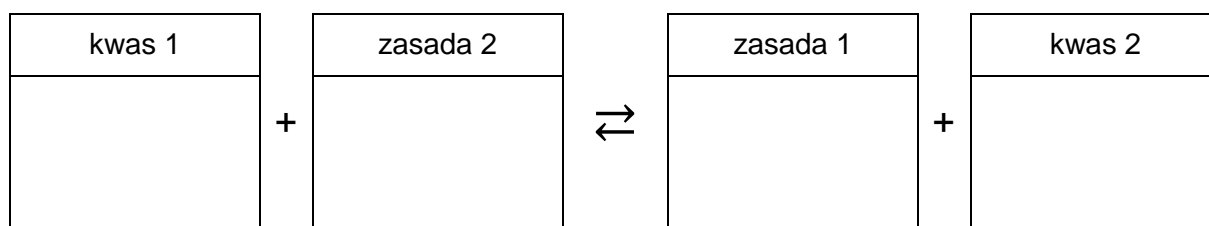
Zadanie 8. (0–1)

Nawozy stosowane do zasilania gleby w azot mogą powodować jej zakwaszenie i nie powinny być stosowane do nawożenia gleb kwaśnych.

Spośród wymienionych poniżej związków:



wyberz i zaznacz ten, który może spowodować dalsze zakwaszenie gleby kwaśnej. Napisz w formie jonowej równanie reakcji, której przebieg skutkuje zakwaszeniem gleby przez wybrany związek. Zastosuj definicję kwasu i zasady Brønsteda.



Zadanie 9. (0–2)

Zbadano właściwości dwóch wodorotlenków (I i II) wybranych spośród wymienionych poniżej.



W doświadczeniu użyto wodnego roztworu kwasu siarkowego(VI) oraz wodnego roztworu wodorotlenku sodu. Stwierdzono, że:

- wodorotlenek I rozpuścił się zarówno w roztworze kwasu siarkowego(VI), jak i w roztworze wodorotlenku sodu. Powstały bezbarwne, klarowne roztwory
- wodorotlenek II rozpuścił się zarówno w roztworze kwasu siarkowego(VI), jak i w roztworze wodorotlenku sodu. Powstały klarowne roztwory o barwie zielonej.

W reakcjach, w których powstają hydroksokompleksy, atom centralny w jonie kompleksowym ma liczbę koordynacyjną równą 4.

Wyberz i napisz wzór wodorotlenku I oraz napisz w formie jonowej równanie reakcji wodorotlenku II z wodorotlenkiem sodu.

Wzór wodorotlenku I:

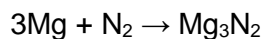
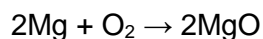
Równanie reakcji wodorotlenku II z wodorotlenkiem sodu:

.....

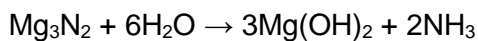
Informacja do zadań 10.–11.

Azotki berylowców, o wzorze ogólnym Me_3N_2 (Me – atom berylowca), powstają w trakcie ogrzewania tych metali w atmosferze azotu. Są to związki o budowie jonowej składające się z kationów metali i anionów azotkowych N^{3-} .

W wyniku spalania magnezu w powietrzu powstają dwa związki o stałym stanie skupienia: tlenek magnezu i azotek magnezu. Te reakcje można opisać równaniami:



Azotek magnezu reaguje z wodą zgodnie z poniższym równaniem:

**Zadanie 10. (0–1)**

Uzupełnij tabelę. Uwzględnij stałą Avogadra i napisz, ile kationów magnezu i anionów azotkowych znajduje się w 1 molu azotku magnezu.


Liczba kationów magnezu	Liczba anionów azotkowych

Zadanie 11. (0–2)

Przeprowadzono następujące doświadczenie: próbkę magnezu spalono w powietrzu i otrzymano 0,15 g mieszaniny tlenku i azotku magnezu. W reakcji tej mieszaniny z wodą wydzielił się gaz o objętości równej 4,7 cm³ w przeliczeniu na warunki normalne.

Oblicz, jaki procent masy mieszaniny tlenku i azotku magnezu stanowi MgO. Przyjmij, że reakcja wydzielania gazu zaszła z wydajnością równą 100 %.

Obliczenia:



Informacja do zadań 12.–13.

Wprowadzenie CO₂ do roztworu pozostającego w równowadze z osadem węglanów powoduje ich przemianę w lepiej rozpuszczalne wodorowęglany.

Stężenie CO₂ w roztworze zwiększa się wraz ze wzrostem ciśnienia tego gazu w mieszaninie gazów (np. w powietrzu) nad roztworem. W tabeli przedstawiono stężenie jonów Ca²⁺ w roztworze pozostającym w równowadze z osadem węglanu wapnia w zależności od ciśnienia CO₂ w mieszaninie gazów nad roztworem (w temperaturze *T*).

ciśnienie CO ₂ , kPa	0,0	0,032	1,0
stężenie jonów Ca ²⁺ , mol · dm ⁻³	2,53 · 10 ⁻⁵	8,68 · 10 ⁻⁴	2,73 · 10 ⁻³

Na podstawie: A.M. Trzeciak, *Wstęp do chemii nieorganicznej środowiska*, Wrocław 1995.

Zadanie 12. (0–1)

Uzupełnij poniższe zdania. Wybierz i zaznacz jedną odpowiedź spośród podanych w każdym nawiasie.

Wartość pH wody, w której rozpuszcza się CO₂, (rośnie / maleje).

Przy wzroście ciśnienia tlenu węgla(IV) w mieszaninie gazów nad roztworem, w układzie mającym temperaturę *T*, od wartości 0,0 kPa do wartości 1,0 kPa następuje ok. 100-krotny (wzrost / spadek) stężenia jonów Ca²⁺ w wodzie.

Zadanie 13.

Węglan ołowiu(II) jest białym ciałem stałym. Przeprowadzono doświadczenie, w którym do dwóch probówek dodano niewielką ilość węglanu ołowiu(II) oraz wodę i otrzymano zawiesinę.

Zadanie 13.1. (0–1)

Przez zawiesinę znajdującą się w pierwszej probówce przepuszczono CO₂ i zaobserwowano zanik osadu.

Napisz w formie jonowej równanie reakcji zachodzącej w tej probówce.

.....

Zadanie 13.2. (0–1)

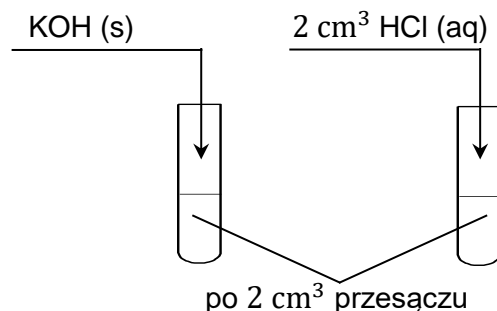
Do drugiej probówki dodano niewielką ilość świeżo przygotowanego wodnego roztworu KI i nie zaobserwowano żadnych zmian. Następnie przez zawiesinę znajdującą się w tej probówce przepuszczono CO₂. W probówce powstał osad o żółtej barwie.

Napisz w formie jonowej skróconej równanie reakcji, która była przyczyną obserwowanych zmian.

.....

Zadanie 15. (0–2)

Do zlewki zawierającej wodę destylowaną dodano stały wodorotlenek magnezu. Po pewnym czasie w zlewce ustalił się stan równowagi między osadem i roztworem, czyli powstał nasycony roztwór tej substancji. Osad oddzielono od roztworu, a otrzymany przesącz umieszczono w dwóch probówkach. Do jednej probówki wprowadzono stały wodorotlenek potasu, a do drugiej – rozcieńczony kwas solny, co zilustrowano na poniższym rysunku. Podczas doświadczenia utrzymywano stałą temperaturę T .



Rozstrzygnij, czy dodanie stałego wodorotlenku potasu do jednej próbki przesączu i kwasu solnego do drugiej próbki poskutkowało zmianą stężenia jonów Mg^{2+} w roztworze (w temperaturze T). Wybierz i zaznacz jedną odpowiedź spośród podanych w każdym nawiasie. Odpowiedzi uzasadnij.

Dodanie stałego wodorotlenku potasu do próbki przesączu (poskutkowało zmniejszeniem / poskutkowało zwiększeniem / nie wpłynęło na wartość) stężenia jonów Mg^{2+} w roztworze.

Uzasadnienie:

Dodanie kwasu solnego do próbki przesączu (poskutkowało zmniejszeniem / poskutkowało zwiększeniem / nie wpłynęło na wartość) stężenia jonów Mg^{2+} w roztworze.

Uzasadnienie:

Zadanie 16. (0–2)

Po wprowadzeniu tlenku chloru(IV) do wodnego roztworu wodorotlenku sodu zachodzi reakcja opisana schematem:



Napisz w formie jonowej z uwzględnieniem liczby oddawanych lub pobieranych elektronów (zapis jonowo-elektronowy) równania reakcji redukcji i utleniania zachodzących podczas opisanego procesu. Uwzględnij środowisko reakcji.

Równanie reakcji redukcji:

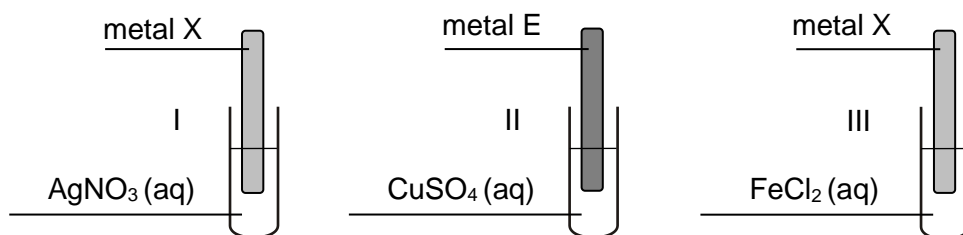
.....

Równanie reakcji utleniania:

.....

Zadanie 17.

Metale X i E tworzą jony proste – odpowiednio – X^{2+} i E^{2+} . Blaszki o znanych masach, wykonane z metalu X i z metalu E, zanurzono w roztworach soli trzech różnych metali, zgodnie ze schematem:



Objawy świadczące o zajściu reakcji chemicznych zaobserwowano w probówkach I i II. Po zakończeniu doświadczenia blaszki osuszono i zważono. Stwierdzono, że masa blaszki wykonanej z metalu X wzrosła, a masa blaszki wykonanej z metalu E zmalała.

Zadanie 17.1. (0–1)

Zastosuj symbol X i napisz w formie jonowej skróconej równanie reakcji zachodzącej w probówce I.

.....

Zadanie 17.2. (0–1)

Oceń prawdziwość poniższych zdań. Zaznacz P, jeśli zdanie jest prawdziwe, albo F – jeśli jest fałszywe.

1.	Metal X jest silniejszym reduktorem niż srebro.	P	F
2.	Jony żelaza(II) są silniejszym utleniaczem niż jony metalu X.	P	F

Zadanie 17.3. (0–1)

Poniżej podano nazwy czterech metali.

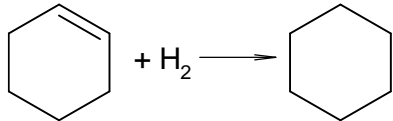
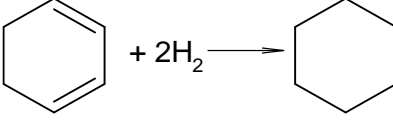
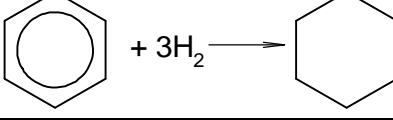
magnez miedź kadm srebro

Wybierz i napisz nazwę metalu X i nazwę metalu E, które mogły być użyte w doświadczeniu.

Metal X: Metal E:

Zadanie 18. (0–1)

W tabeli podano wartości standardowej entalpii uwodornienia: cykloheksenu, cykloheksa-1,3-dienu i benzenu:

Równanie reakcji uwodornienia	ΔH , $\text{kJ} \cdot \text{mol}^{-1}$
	-119,5
	-239,0
	-207,0

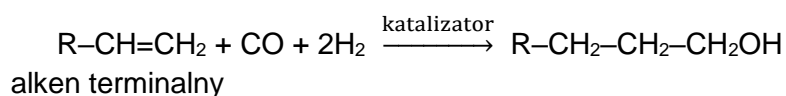
Na podstawie danych zamieszczonych w tabeli uzupełnij poniższe zdania. Wybierz i zaznacz jedną odpowiedź spośród podanych w każdym nawiasie.

Gdyby wiązania π w cząsteczce benzenu nie były zdelokalizowane, entalpia uwodornienia tego związku miałaby znacznie (niższą / wyższą) wartość niż $-207,0 \text{ kJ} \cdot \text{mol}^{-1}$.

Delokalizacja wiązań π skutkuje (zwiększeniem / zmniejszeniem) trwałości cząsteczki benzenu.

Zadanie 19. (0–1)

Propan-1-ol oraz wyższe alkohole pierwszorzędowe można otrzymać w procesie hydroformylowania alkenów terminalnych. Reakcja przebiega w warunkach podwyższonego ciśnienia i temperatury, w obecności katalizatorów (Co lub Ru) według schematu:



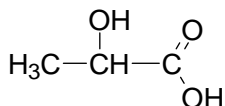
Na podstawie: R. Franke, D. Selent, A. Börner, *Applied Hydroformylation*, „Chem. Rev.” 2012, nr 112 (11), s. 5675–5732, oraz I. Ojima, C.Y. Tsai, M. Tzamarioudaki, D. Bonafoux, *The Hydroformylation Reaction*, „Org. React.” 2000, nr 56, s. 1.

Napisz równanie reakcji otrzymywania alkoholu ze styrenu (fenyloetenu) opisaną metodą. Zastosuj wzory półstrukturalne (grupowe) lub uproszczone związków organicznych.

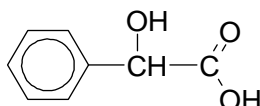
.....

Zadanie 20.

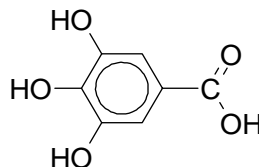
W zlewkach I, II i III umieszczono – w przypadkowej kolejności – wodne roztwory kwasów: mlekowego (2-hydroksypropanowego), migdałowego (2-fenyl-2-hydroksyetanowego) i galusowego (3,4,5-trihydroksybenzenokarboksylowego). Wzory kwasów przedstawiono poniżej.



kwas mlekowy



kwas migdałowy



kwas galusowy

W celu zidentyfikowania substancji przeprowadzono dwie próby.

W pierwszej próbie do trzech probówek z wodnym roztworem chlorku żelaza(III) wprowadzono po kilka kropel roztworów badanych substancji ze zlewek I, II i III. Do każdej probówki z chlorkiem żelaza(III) dodano roztwór jednego kwasu.

W drugiej próbie w trzech probówkach umieszczono po jednej z identyfikowanych substancji, oznaczając je zgodnie z oznaczeniem zlewki z której zostały pobrane. Następnie do probówek wprowadzono stężony kwas azotowy(V) z dodatkiem stężonego kwasu siarkowego(VI) i probówki ogrzano.

Zadanie 20.1. (0–1)

Wyniki przeprowadzonych prób przedstawiono w poniższej tabeli.

Uzupełnij tabelę. Wpisz nazwy kwasów, które były obecne w zlewkach I, II i III.

	Probówka I	Probówka II	Probówka III
FeCl ₃ (aq)	żółty roztwór	niebieskoczarny roztwór	żółty roztwór
HNO ₃ (stężony) + H ₂ SO ₄	żółty roztwór	żółty roztwór	bezbarny roztwór
Nazwa kwasu

Zadanie 20.2. (0–1)

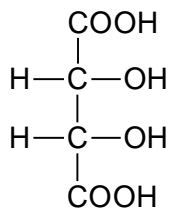
Podczas drugiej próby w dwóch probówkach zaobserwowano zmiany świadczące o przebiegu reakcji chemicznej.

Uzupełnij poniższe zdanie. Wybierz i zaznacz jedną odpowiedź spośród podanych w każdym nawiasie.

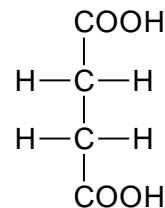
Przemiany, które zaszły w drugiej próbie, są reakcjami (addycji / eliminacji / substytucji) przebiegającymi według mechanizmu (elektrofilowego / nukleofilowego / rodnikowego).

Informacja do zadań 21.–22.

Poniżej przedstawiono wzory dwóch kwasów dikarboksylowych występujących w przyrodzie.



kwas winowy
(kwas 2,3-dihydroksybutanodiowy)



kwas bursztynowy
(kwas butanodiowy)

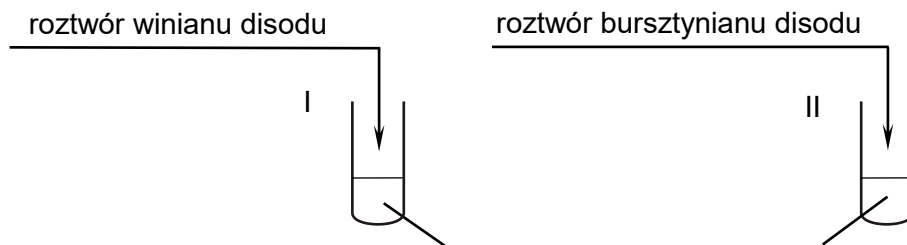
Zadanie 21. (0–2)

Przygotowano wodne roztwory soli sodowych kwasów: winowego i bursztynowego.

Uzupełnij schemat doświadczenia, które umożliwi rozróżnienie tych roztworów. Napisz nazwę odczynnika. Opisz obserwacje, które umożliwią identyfikację zawartości każdej próbówki.

Lista odczynników:

- rozcieńczony kwas solny z oranżem metylowym
- wodny roztwór wodorotlenku sodu z fenolftaleiną
- zalkalizowana świeżo strącona zawiesina wodorotlenku miedzi(II)
- mieszanina stężonych kwasów: azotowego(V) i siarkowego(VI).



Nazwa odczynnika:

Obserwacje:

Probówka z winianem disodu:

.....
.....


Probówka z bursztynianem disodu:

.....
.....

Więcej arkuszy znajdziesz na stronie: arkusze.pl

Zadanie 22. (0–1)

Napisz równanie reakcji kwasu winowego z alkoholem metylowym w obecności kwasu siarkowego(VI), w której powstaje produkt zawierający w cząsteczce sześć atomów węgla. Zastosuj wzory półstrukturalne (grupowe) związków organicznych.

**Informacja do zadań 23.–24.**

Kwas winowy jest stałą, krystaliczną substancją, dobrze rozpuszczalną w wodzie. Wodorowinian potasu $\text{KHC}_4\text{H}_4\text{O}_6$, zwany kamieniem winnym, jest solą trudno rozpuszczalną w wodzie. Roztwarza się w wodnym roztworze wodorotlenku potasu.

Zadanie 23. (0–1)


Oceń prawdziwość poniższych zdań. Zaznacz P, jeśli zdanie jest prawdziwe, albo F – jeśli jest fałszywe.

1.	Po zmieszaniu jednakowych objętości wodnego roztworu wodorotlenku potasu i wodnego roztworu kwasu winowego o takich samych stężeniach molowych powstaje osad.	P	F
2.	Po zmieszaniu jednakowych objętości wodnego roztworu winianu potasu i wodnego roztworu kwasu winowego o takich samych stężeniach molowych powstaje osad.	P	F

Zadanie 24. (0–1)

Napisz w formie jonowej równanie reakcji, która zachodzi podczas roztwarzania wodorowinianu potasu w wodnym roztworze wodorotlenku potasu. Zastosuj wzory półstrukturalne (grupowe) związków organicznych.

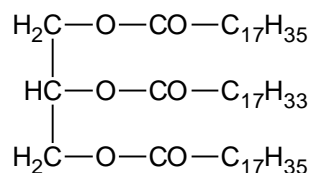
.....



Wzór związku X:

Zadanie 27.

Poniżej przedstawiono wzór cząsteczki pewnego związku:



Zadanie 27.1. (0-1)

Oceń prawdziwość poniższych zdań. Zaznacz **P**, jeśli zdanie jest prawdziwe, albo **F** – jeśli jest fałszywe.

1.	Związek o przedstawionym wzorze można zaliczyć do grupy tłuszczów.	P	F
2.	W wyniku hydrolizy zasadowej związku o przedstawionym wzorze powstaje, oprócz glicerolu, mieszanina <u>kwasów</u> tłuszczowych.	P	F

Zadanie 27.2. (0-1)

Rozstrzygnij, czy cząsteczki tego związku są chiralne. Odpowiedź uzasadnij.

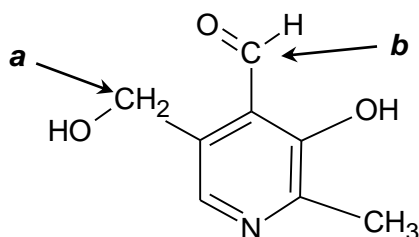
Rozstrzygnięcie:

Uzasadnienie:

.....

Zadanie 28.

Poniżej przedstawiono wzór pirydoksalu – jednego ze składników witaminy B6.



Atom azotu ma wolną parę elektronową, dlatego pirydoksal – podobnie jak inne aminy – reaguje z kwasami.

Zadanie 28.1. (0–2)

Uzupełnij tabelę. Wpisz formalny stopień utlenienia oraz typ hybrydyzacji (sp , sp^2 , sp^3) orbitali walencyjnych atomu węgla oznaczonego literą a oraz atomu węgla oznaczonego literą b we wzorze pirydoksalu.

	Stopień utlenienia	Hybrydyzacja
Atom węgla a		
Atom węgla b		

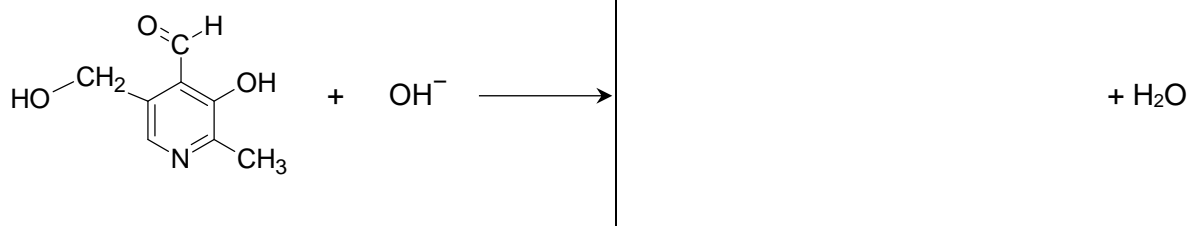
Zadanie 28.2. (0–2)

Uzupełnij poniższe schematy. Wpisz wzory organicznych produktów przemian, tak aby powstały zapisane w formie jonowej skróconej równania reakcji pirydoksalu:

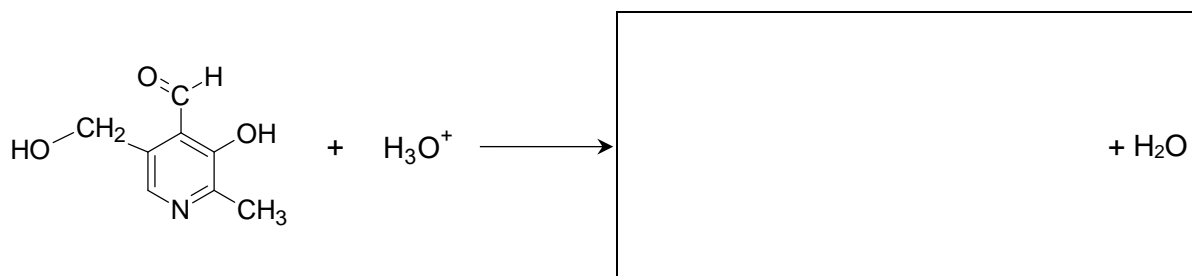
- z wodorotlenkiem sodu (reakcja 1.)
- z kwasem solnym (reakcja 2.).

Zastosuj wzory półstrukturalne (grupowe) lub uproszczone związków organicznych.

Równanie reakcji 1.:



Równanie reakcji 2.:



Informacja do zadań 29.– 30.

Nitrobenzen i anilina (benzenoamina) są bezbarwnymi cieczami, które na powietrzu i pod wpływem światła przyjmują żółte zabarwienie.

W pierwszym etapie jedną z opisanych cieczy wprowadzono do zlewki z wodą, wymieszano i pozostawiono na pewien czas. Zaobserwowano, że w naczyniu znajdowały się krople żółtej cieczy, a uniwersalny papierek wskaźnikowy zanurzony w badanym roztworze przyjął zielononiebieskie zabarwienie. W drugim etapie do mieszaniny dodano roztwór substancji X i otrzymano klarowny roztwór.

Zadanie 29. (0–2)

Rozstrzygnij, który związek (nitrobenzen albo anilina) został wprowadzony do wody w opisanym doświadczeniu. Uzasadnij swoją odpowiedź.

Rozstrzygnięcie:

Uzasadnienie:

.....

Spośród wymienionych niżej substancji wybierz tę, która mogła być użyta w drugim etapie doświadczenia, i zaznacz jej wzór. Wyjaśnij przyczynę zaobserwowanych zmian.

W drugim etapie doświadczenia można było użyć:

KOH

HCl

NaCl

NH₃

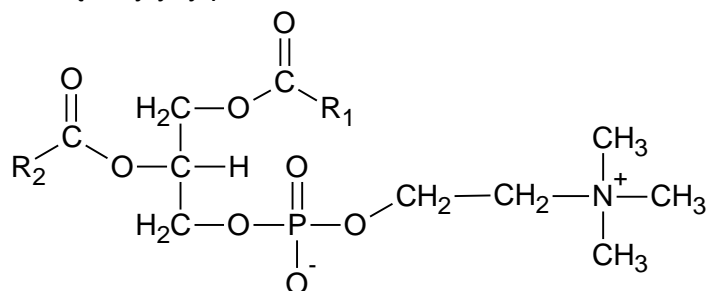
Wyjaśnienie:

.....

.....

Informacja do zadań 31.–32.

Lecytyny są naturalnymi związkami o dużym znaczeniu biologicznym. Znalazły one zastosowanie m.in. w przemyśle spożywczym jako emulgatory, czyli substancje stabilizujące emulsję. Ogólną strukturę lecytyny przedstawia wzór:



Symbolami $-\text{R}_1$ i $-\text{R}_2$ oznaczono grupy węglowodorowe. Najczęściej występujące łańcuchy węglowodorowe w cząsteczkach lecytyny wymieniono w poniższej tabeli.

$-\text{R}_1$	$-\text{R}_2$
$-\text{C}_{15}\text{H}_{31}$	$-\text{C}_{17}\text{H}_{33}$
$-\text{C}_{17}\text{H}_{35}$	$-\text{C}_{17}\text{H}_{31}$
$-\text{C}_{17}\text{H}_{33}$	$-\text{C}_{17}\text{H}_{29}$

Cząsteczka lecytyny zawsze zawiera co najmniej jeden nienasycony łańcuch węglowodorowy.

Na podstawie: E. Siepka, Ł. Bobak, W. Gładkowski, *Charakterystyka aktywności biologicznej fosfolipidów żółtka*, „Żywność. Nauka. Technologia. Jakość”, 2015, nr 2(99).

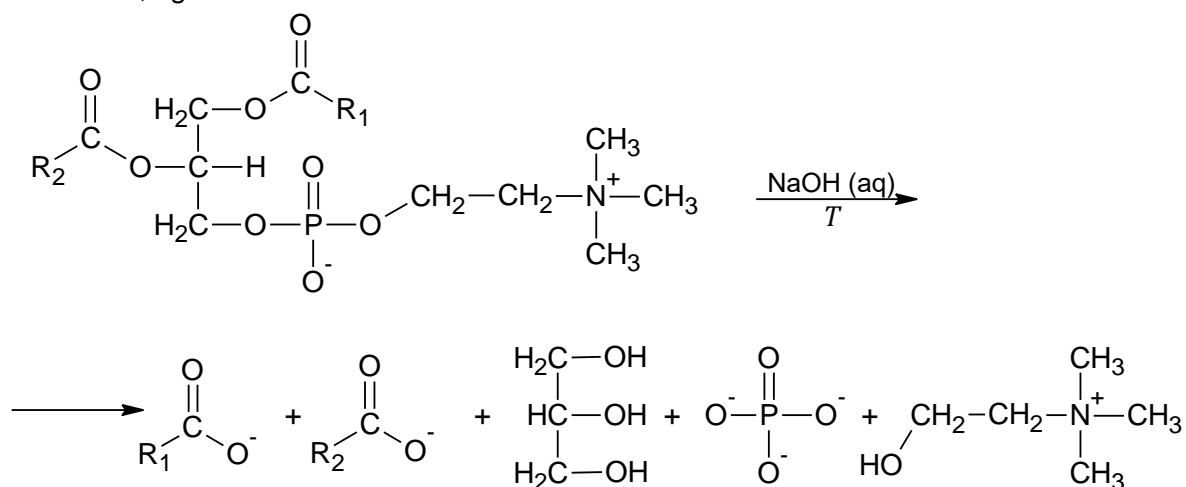
Zadanie 31. (0–1)

Oceń prawdziwość poniższych zdań. Zaznacz P, jeśli zdanie jest prawdziwe, albo F – jeśli jest fałszywe.

1.	Istnieją cząsteczki lecytyny, które są achiralne.	P	F
2.	Lecytyna jest substancją powierzchniowo czynną, ponieważ jej cząsteczka zawiera grupy polarne i łańcuchy niepolarne.	P	F

Zadanie 32.

Próbkę lecytyny ogrzewano z wodnym roztworem wodorotlenku sodu. Zaszła reakcja chemiczna, zgodnie ze schematem:

**Zadanie 32.1. (0–1)**

Uzupełnij zdanie. Określ stosunek liczby moli wodorotlenku sodu do liczby moli lecytyny w opisaney reakcji.

Stosunek liczby moli wodorotlenku sodu do liczby moli lecytyny jest równy :

Zadanie 32.2. (0–2)

W celu potwierdzenia obecności wybranych produktów reakcji mieszaninę poreakcyjną podzielono na trzy części i umieszczono w ponumerowanych probówkach. Do próbki 1. dodano wodę bromową, do 2. – zalkalizowaną świeżo strąconą zawiesinę wodorotlenku miedzi(II), natomiast do próbki 3. dodano kilka kropel wodnego roztworu chlorku wapnia.

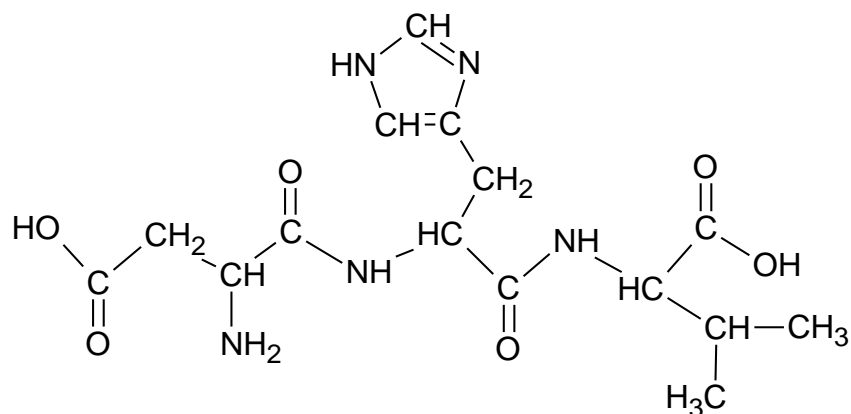
Uzupełnij tabelę. Wpisz w odpowiednie miejsca:

- obserwowane efekty reakcji
- wzory produktów (cząsteczki lub jednego wybranego jonu), których obecność była przyczyną obserwowanych efektów (w miejsce grup –R₁ albo –R₂ wpisz wzór odpowiedniej grupy węglowodorowej).

Numer próbki	Obserwowany efekt reakcji	Wzór wykrytej cząsteczki lub jonu
1	odbarwienie roztworu	
2		
3		PO ₄ ³⁻ LUB C ₁₇ H ₃₅ COO ⁻

Zadanie 33. (0–1)

Poniżej przedstawiono wzór pewnego tripeptydu.



Napisz nazwę lub trzyliterowy kod aminokwasu C-końcowego, czyli tego którego reszta w cząsteczce tego tripeptydu zawiera wolną grupę karboksylową połączoną z atomem węgla α aminokwasu.

.....

BRUDNOPIS (*nie podlega ocenie*)

Więcej arkuszy znajdziesz na stronie: arkusze.pl

Więcej arkuszy znajdziesz na stronie: arkusze.pl

Więcej arkuszy znajdziesz na stronie: arkusze.pl

Więcej arkuszy znajdziesz na stronie: arkusze.pl

CHEMIA

Poziom rozszerzony

Formuła 2015

CHEMIA

Poziom rozszerzony

Formuła 2015

CHEMIA

Poziom rozszerzony

Formuła 2015