

WPISUJE ZDAJĄCY

KOD			PESEL																	

*miejsce
na naklejkę*

EGZAMIN MATURALNY Z FIZYKI

POZIOM ROZSZERZONY

PRZYKŁADOWY ARKUSZ EGZAMINACYJNY

DATA: **18 grudnia 2014 r.**CZAS PRACY: **180 minut**LICZBA PUNKTÓW DO UZYSKANIA: **60**

Instrukcja dla zdającego

1. Sprawdź, czy arkusz egzaminacyjny zawiera 22 strony (zadania 1–21). Ewentualny brak zgłoś przewodniczącemu zespołu nadzorującego egzamin.
2. Rozwiązania i odpowiedzi zapisz w miejscu na to przeznaczonym przy każdym zadaniu.
3. W rozwiązaniach zadań rachunkowych przedstaw tok rozumowania prowadzący do ostatecznego wyniku oraz pamiętaj o jednostkach.
4. Pisz czytelnie. Używaj długopisu/pióra tylko z czarnym tuszem/atramentem.
5. Nie używaj korektora, a błędne zapisy wyraźnie przekreśl.
6. Pamiętaj, że zapisy w brudnopisie nie będą oceniane.
7. Możesz korzystać z *Karty wybranych wzorów i stałych fizykochemicznych na egzamin maturalny z biologii, chemii i fizyki*, linijki oraz kalkulatora prostego.
8. Na tej stronie oraz na karcie odpowiedzi wpisz swój numer PESEL i przyklej naklejkę z kodem.
9. Nie wpisuj żadnych znaków w części przeznaczonej dla egzaminatora.

Zadanie 1. (0–10)

Uczniowie badali zjawisko odbicia piłki. Upuszczali kauczukową piłeczkę z różnych wysokości H nad podłogą i mierzyli wysokość h , na którą piłeczka uniosła się po odbiciu. Pomiary powtarzano kilkakrotnie dla każdej wysokości H , a wyniki pomiarów h uśredniano. W tabeli poniżej zestawione są wyniki eksperymentu (Δh oznacza niepewność wartości h).


H [cm] $\pm 0,2$ cm	h [cm]	Δh [cm]
50,0	42	3
75,0	61	3
100,0	81	4
125,0	100	4
150,0	120	5
175,0	139	5
200,0	158	6

Zadanie 1.1. (0–5)

Sporządź wykres zależności h od H .


Na wykresie zaznacz dla każdego punktu niepewność wielkości h oraz narysuj prostą najlepiej dopasowaną do naniesionych punktów pomiarowych.

Na podstawie nachylenia otrzymanej prostej wykaż, że od upuszczenia do następnego zatrzymania się piłeczki w górnym położeniu rozpraszane jest około 20% energii mechanicznej.



**Zadanie 1.2. (0–2)**

Na podstawie tabeli wykaż, że piłeczka spadająca z wysokości 50 cm do następnego zatrzymania się w górnym położeniu traci od 10% do 22% energii mechanicznej, natomiast gdy spada z wysokości 200 cm, traci od 18% do 24% tej energii.



Wypełnia egzaminator	Nr zadania	1.1.	1.2.
	Maks. liczba pkt	5	2
	Uzyskana liczba pkt		

Zadanie 1.3. (0–3)

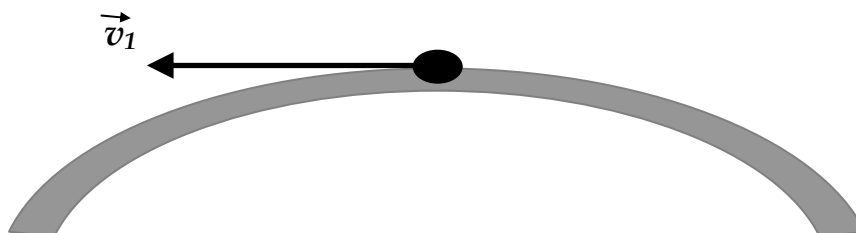
Punkty pomiarowe nie układają się na prostej. W zadaniu 1.1. przyjęto zależność liniową, ponieważ stosunkowo duża niepewność Δh nie wyklucza takiej zależności. Jeżeli jednak mierzylibyśmy h dokładniej, to okazałoby się, że względna strata energii między kolejnymi górnymi położeniami piłeczki wynosi 16% dla spadku z wysokości 50 cm i wzrasta do 21% przy spadku z wysokości 200 cm.

Uzasadnij, że taki wzrost względnej straty energii może wynikać z działania sił oporu powietrza na piłeczkę podczas lotu.

**Zadanie 2. (0–2)**

Samochód na zakręcie jedzie z prędkością \vec{v}_1 po płaskiej nawierzchni (zob. rysunek poniżej, przedstawiający tę sytuację z góry). Z samochodu wyrzucono jabłko, nadając mu prędkość \vec{v}_2 względem samochodu, skierowaną poziomo pod kątem 45° do tyłu w stosunku do kierunku wektora \vec{v}_1 .

Na poniższym rysunku dorysuj wektor prędkości jabłka względem jezdni natychmiast po rzucie (sporządź diagram wektorowy).



Zadanie 3.2. (0–3)

Trzymając swobodny koniec nici nieruchomo, uczeń puścił jo-jo.

Korzystając z zasady zachowania energii i wiedząc, że przyspieszenie zabawki jest stałe, wykaż, że przyspieszenie, z którym jo-jo przesuwa się w dół, opisane jest zależnością

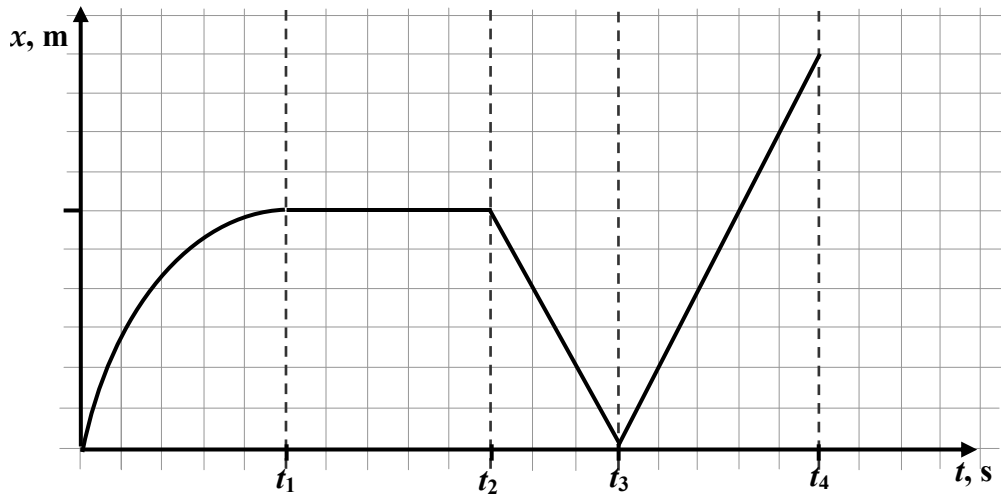
$$a = \frac{M}{M + \frac{I}{r^2}} g$$

gdzie M jest masą jo-jo, I – jego momentem bezwładności względem osi walców, a r – promieniem krążka, na który nawinięta jest nić.

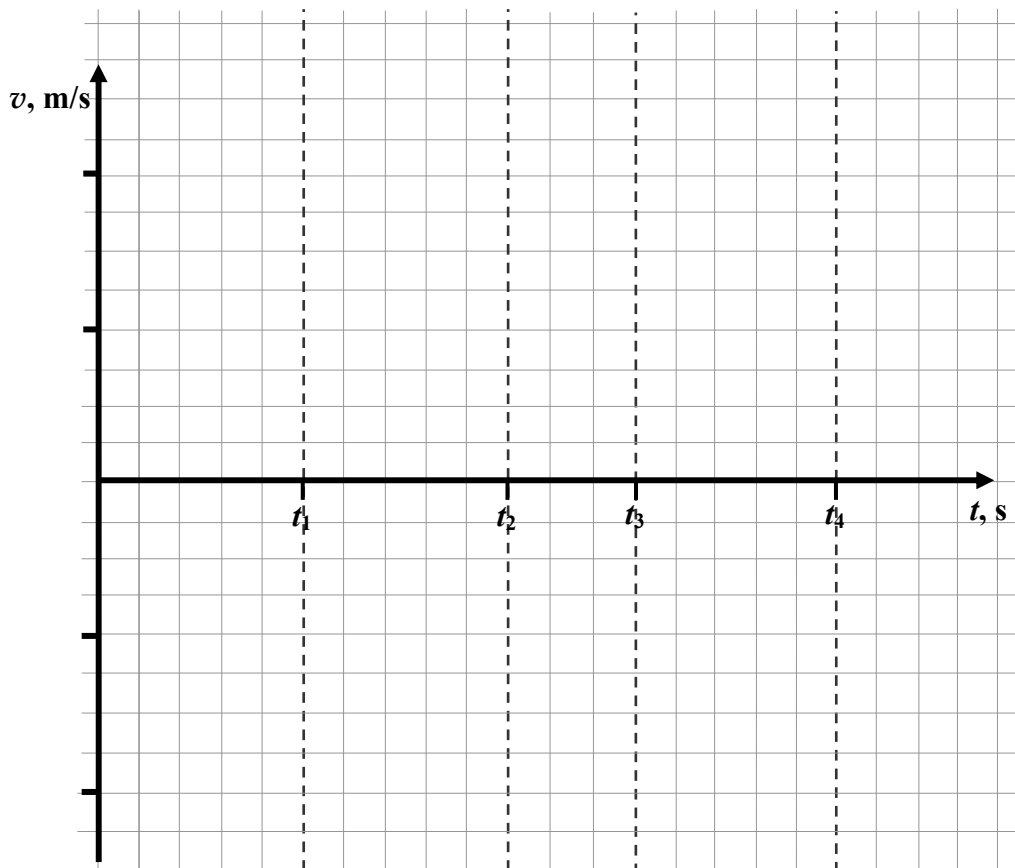


Zadanie 4. (0–3)

Punkt materialny porusza się ruchem prostoliniowym wzdłuż osi x . Jego położenie na osi zmienia się w czasie – zgodnie z wykresem przedstawionym poniżej.



Sporządź wykres prędkości v punktu materialnego w zależności od czasu t , odpowiadający wykresowi $x(t)$ przedstawionemu wyżej.




Wypełnia egzaminator	Nr zadania	3.2.	4.
	Maks. liczba pkt	3	3
	Uzyskana liczba pkt		

Zadanie 5. (0–4)

Wagon kolejowy o masie 45 t po zjechaniu z góry rozrządowej uzyskał prędkość 5 m/s. Następnie przez 10 s jechał po poziomo ułożonych torach w kierunku stojącego składu pociągu i automatycznie się z nim szepił. Skład, do którego dołączył wagon, stanowiły trzy wagony. Wszystkie cztery wagony były takie same. Podczas jazdy po torach na wagony działa siła tarcia, dla której efektywny współczynnik tarcia wynosi $f = 0,007$ (tzn. siła tarcia jest taka, jakby występował poślizg ze współczynnikiem tarcia $f = 0,007$).

Oblicz drogę, jaką pokona pociąg od momentu złączenia się wagonów do chwili zatrzymania.



Zadanie 8. (0–2)

Metoda paralaksy jest stosowana do wyznaczania odległości obiektów astronomicznych na podstawie ich położenia na niebie, obserwowanego z Ziemi.

Spośród przedstawionych poniżej wybierz i zaznacz kółkiem pomiary, do których można zastosować tę metodę.

- A. Wyznaczenie odległości do gwiazd odległych na podstawie obserwowanych w ciągu roku zmian ich wzajemnego położenia na sferze niebieskiej.
- B. Wyznaczenie odległości do gwiazd bliskich na podstawie obserwowanych w ciągu roku zmian ich położenia na sferze niebieskiej względem gwiazd odległych.
- C. Wyznaczenie odległości Księżyca od Ziemi na podstawie jego położenia na niebie widzianego z różnych miejsc na Ziemi.
- D. Wyznaczenie odległości Księżyca od Ziemi na podstawie jego położenia na niebie w różnych porach roku.
- E. Wyznaczenie odległości Ziemi od Słońca na podstawie zmiany jego położenia na niebie w ciągu dnia.
- F. Wyznaczenie odległości Ziemi od Słońca na podstawie kąta padania promieni słonecznych w południe.

Zadanie 9. (0–2)

W najprostszym silniku prądu stałego ramka z nawiniętym drutem i płynącym w nim prądem obraca się w stałym, jednorodnym polu magnetycznym. Podczas obrotu wirnika zmienia się wartość momentu sił napędowych. Siły oporu działające na obracający się wirnik powodują, że wirnik może zwolnić, gdy moment sił napędowych jest zbyt mały. Efekt ten jest mniejszy, gdy zwoje nawinięte są na rdzeń o dużym momencie bezwładności. Użycie rdzenia ołowianego spowodowałoby, że moment bezwładności wirnika byłby bardzo duży. W praktyce jednak rdzeń wirnika jest wykonywany ze stali.

Uzupełnij poniższy tekst wyjaśniający przyczynę zastosowania stalowego rdzenia w silniku elektrycznym.


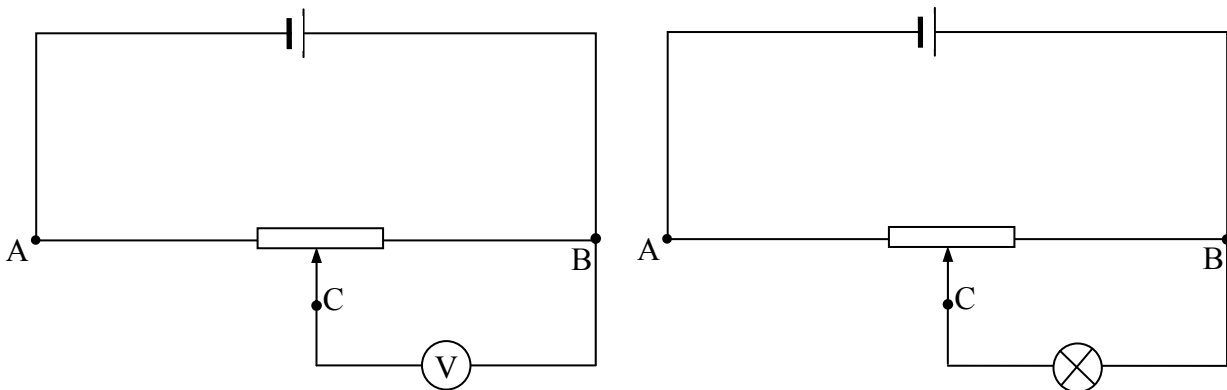
Spośród podanych poniżej wybierz prawidłowe uzupełnienie zdania. Wpisz w miejscach oznaczonych kropkami cyfry (1–8) odpowiadające elementom wybranym przez Ciebie.

Stal jest materiałem (1. *ferromagnetycznym*; 2. *paramagnetycznym*; 3. *diamagnetycznym*), co powoduje, że indukcja pola magnetycznego w rdzeniu stalowym (4. *się nie zmienia*; 5. *maleje*; 6. *wzrasta*), a tym samym zwiększa się wartość (7. *siły elektrodynamicznej*; 8. *siły elektrostatycznej*) działającej na wirnik.

Zadanie 11. (0–2)


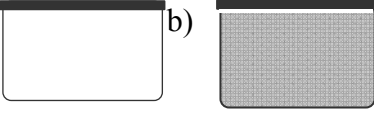
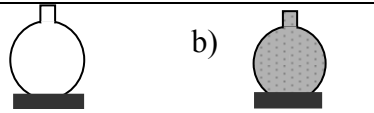
Opornica suwakowa podłączona zgodnie ze schematem (rysunki poniżej) pozwala, poprzez zmianę położenia suwaka C, na uzyskiwanie dowolnego napięcia U_{CB} o wartościach w przedziale od 0 do U_{AB} . Źródło o napięciu 6 V postanowiono wykorzystać do zasilania żarówki dostosowanej do pracy pod napięciem 4,5 V. Podłączając woltomierz pomiędzy punktami C i B (lewy rysunek), ustawiono opornicę tak, że mierzone napięcie wynosiło 4,5 V. Po takim ustawieniu odłączono woltomierz i w jego miejsce podłączono żarówkę (prawy rysunek).

Uzasadnij, dlaczego żarówka po podłączeniu świeciła słabiej niż po podłączeniu jej do źródła napięcia 4,5 V.



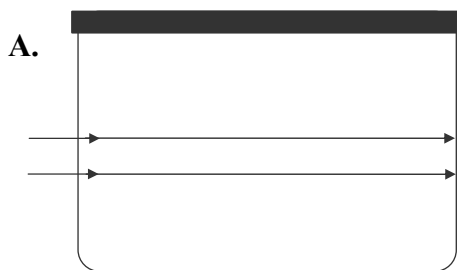
Zadanie 16. (0–3)

Badano bieg promieni świetlnych w różnych ośrodkach. W tym celu użyto:

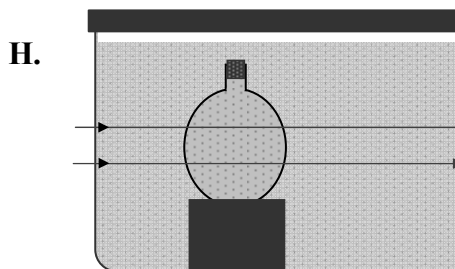
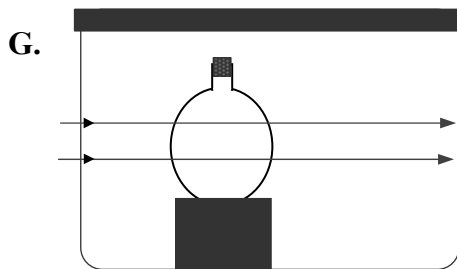
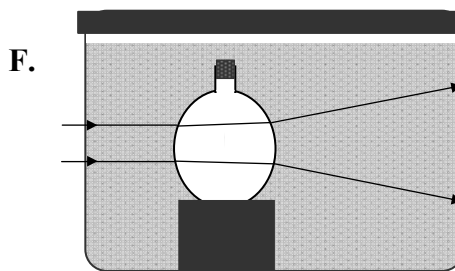
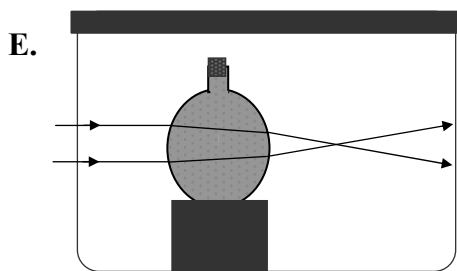
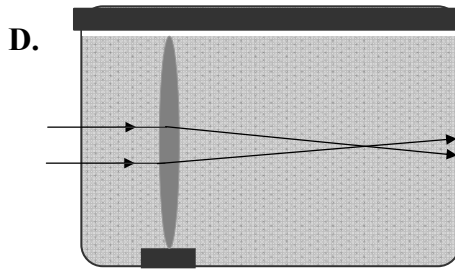
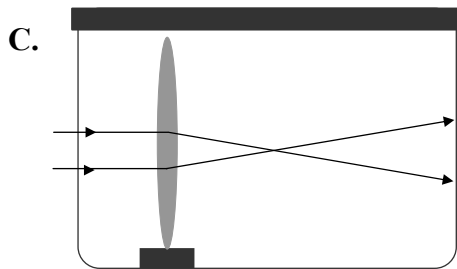
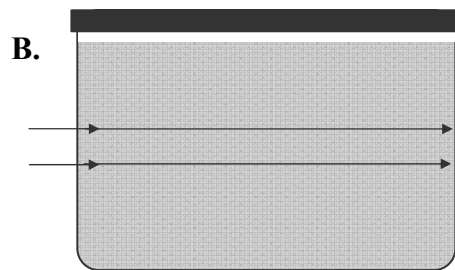
dwóch cienkich soczewek szklanych ze szkła tego samego gatunku	
szklanego naczynia o bardzo cienkich ściankach: a) pustego i b) z wodą	
szklanej kolby o bardzo cienkich ściankach: a) pustej i b) z wodą	

Na rysunkach poniżej przedstawiono schemat biegu promieni światła w kilku przypadkach:

w pustym naczyniu szklanym,



w naczyniu szklanym z wodą.



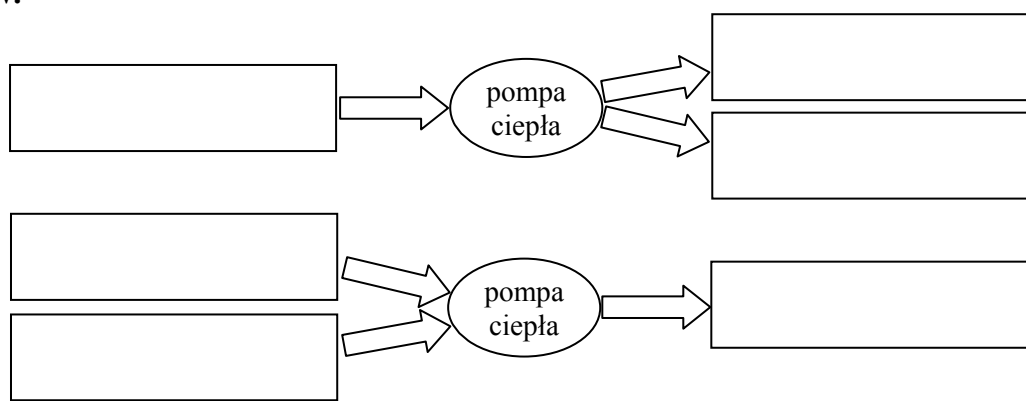
Zadanie 17. (0–2)

Pompa ciepła jest urządzeniem pobierającym ciepło w miejscu o niższej temperaturze (źródło), a oddającym ciepło w wyższej temperaturze (odpływ), a ponadto pobierającym energię w formie pracy (np. pracy mechanicznej lub pracy prądu elektrycznego). Pobór ciepła w źródle następuje wskutek parowania cieczy, a jego oddawanie w odpływie – wskutek jej skraplania, dlatego źródło nazywane jest często parownikiem, a odpływ – skraplaczem. Ciecz krąży w pompie ciepła w obiegu zamkniętym wymuszonym przez działanie sprężarki poruszanej przez silnik elektryczny. Pompa ciepła może być wykorzystana do ogrzewania budynków zimą lub ich chłodzenia latem.

Zadanie 17.1. (0–1)

Jeden z poniższych diagramów przedstawia przepływ energii w pompie ciepła.

Wybierz prawidłowy diagram i umieść w prostokątnych polach opisy „parownik”, „skraplacz” i „sieć elektryczna”. Na błędnym diagramie nie zamieszczaj żadnych opisów.

**Zadanie 17.2. (0–1)**

Zaznacz stwierdzenie prawdziwe.

- A. Zarówno latem (podczas upałów), jak i zimą, źródłem jest wnętrze budynku, a odpływem – zbiornik zewnętrzny (zbiornik wody lub grunt).
- B. Latem źródłem jest wnętrze budynku, a odpływem – zbiornik zewnętrzny. Zimą jest odwrotnie.
- C. Zarówno latem, jak i zimą, źródłem jest zbiornik zewnętrzny, a odpływem – wnętrze budynku.
- D. Latem źródłem jest zbiornik zewnętrzny, a odpływem – wnętrze budynku. Zimą jest odwrotnie.

Zadanie 18. (0–1)

Rozstrzygnij, czy podane poniżej informacje dotyczące promieniowania standardowej lampy rentgenowskiej są prawdziwe, czy – fałszywe.

Wybierz *P*, jeśli zdanie jest prawdziwe, lub *F*, jeśli jest fałszywe. Wstaw obok każdego zdania znak *X* w wybranej kolumnie.

		<i>P</i>	<i>F</i>
1.	Widmo promieniowania rentgenowskiego składa się z widma ciągłego i liniowego widma charakterystycznego.		
2.	Widmo ciągłe promieniowania rentgenowskiego powstaje przy przejściach elektronów w atomach pomiędzy wewnętrznymi poziomami energetycznymi.		
3.	Częstotliwości występujące w widmie charakterystycznym zależą od materiału, z którego wykonana jest katoda.		
4.	Fale promieniowania rentgenowskiego mają długości większe od długości fal promieniowania nadfioletowego.		

BRUDNOPIS (*nie podlega ocenie*)

Więcej arkuszy znajdziesz na stronie: arkusze.pl

