

WYPEŁNIA ZDAJĄCY

KOD

--	--	--

PESEL

--	--	--	--	--	--	--	--	--	--	--

Miejsce na naklejkę.

Sprawdź, czy kod na naklejce to
E-100.

Jeżeli tak – przyklej naklejkę.
Jeżeli nie – zgłoś to nauczycielowi.

Egzamin maturalny

Formuła 2015

HISTORIA

Poziom rozszerzony

Symbol arkusza

EHIP-R0-**100**-2306

DATA: **13 czerwca 2023 r.**

GODZINA ROZPOCZĘCIA: **9:00**

CZAS TRWANIA: **180 minut**

LICZBA PUNKTÓW DO UZYSKANIA: **50**

Przed rozpoczęciem pracy z arkuszem egzaminacyjnym

1. Sprawdź, czy nauczyciel przekazał Ci **właściwy arkusz egzaminacyjny**, tj. arkusz we **właściwej formule** z **właściwego przedmiotu** na **właściwym poziomie**.
2. Jeżeli przekazano Ci **niewłaściwy** arkusz – natychmiast zgłoś to nauczycielowi. Nie rozrywaj banderol.
3. Jeżeli przekazano Ci **właściwy** arkusz – rozerwij banderole po otrzymaniu takiego polecenia od nauczyciela. Zapoznaj się z instrukcją na stronie 2.



Instrukcja dla zdającego

1. Sprawdź, czy arkusz egzaminacyjny zawiera 33 strony (zadania 1–22).
Ewentualny brak zgłoś przewodniczącemu zespołu nadzorującego egzamin.
2. Na pierwszej stronie oraz na karcie odpowiedzi wpisz swój numer PESEL i przyklej naklejkę z kodem.
3. Zapoznaj się uważnie ze źródłami, a następnie wykonaj zadania umieszczone pod nimi. Odpowiadaj tylko na podstawie źródeł i tylko własnymi słowami – chyba że w zadaniu polecono inaczej. Udzielaj tylu odpowiedzi, o ile Cię poproszono.
4. Odpowiedzi zapisz w miejscu na to przeznaczonym przy każdym zadaniu.
5. Pisz czytelnie. Używaj długopisu/pióra tylko z czarnym tuszem/atramentem.
6. Nie używaj korektora, a błędne zapisy wyraźnie przekreśl.
7. Nie wpisuj żadnych znaków w części przeznaczonej dla egzaminatora.
8. Pamiętaj, że zapisy w brudnopisie nie będą oceniane.

**Zadania egzaminacyjne są wydrukowane
na następnych stronach.**

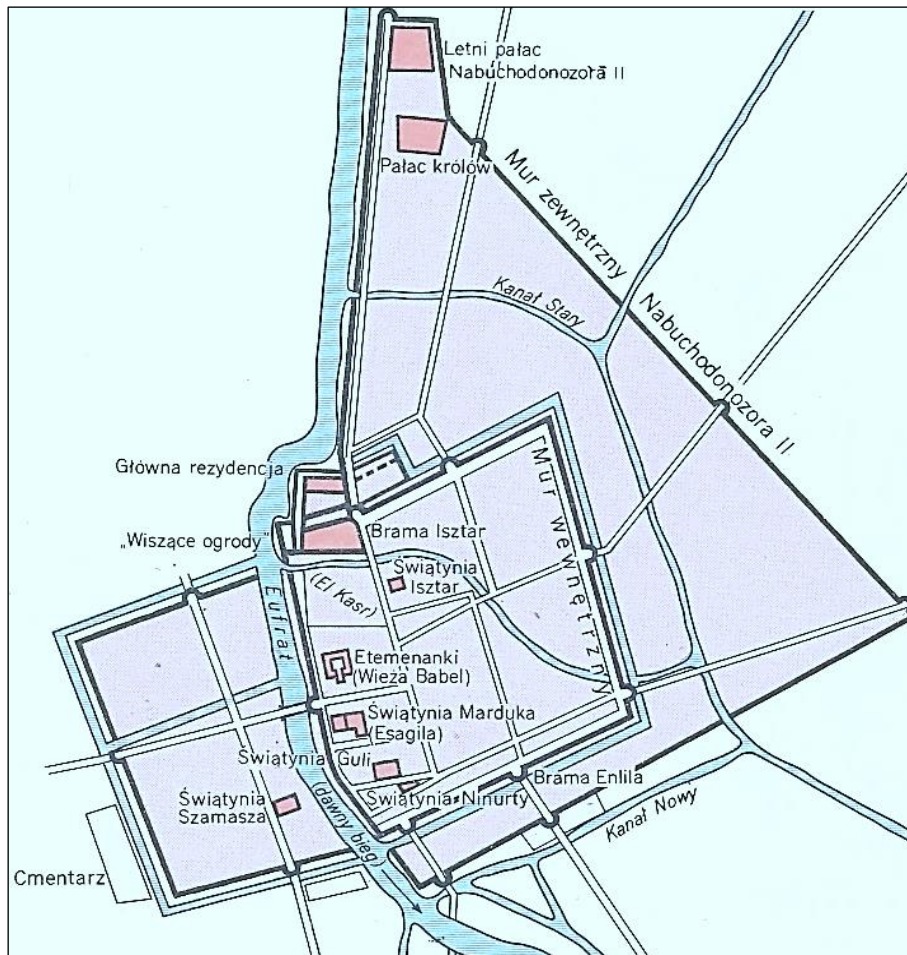
Zadanie 1. (0–1)

Źródło 1. Fragment współczesnego opracowania historycznego

Jest domem jednego Boga, stolicą dwóch narodów, świątynią trzech religii i jedynym miastem, które ma istnieć dwa razy – w niebie i na ziemi.

S. Montefiore, [...] *Biografia miasta*, Warszawa 2011, s. 19.

Źródło 2. Plan miasta



Na podstawie: *Atlas historyczny świata*, red. J. Wolski, Warszawa 1996, s. 8.

Rozstrzygnij, czy źródła 1. i 2. odnoszą się do tego samego miasta. Odpowiedź uzasadnij, odwołując się do informacji zawartych w obu źródłach.

Rozstrzygnięcie:

Uzasadnienie:

.....

.....

.....

Zadanie 2.

Źródło 1. Fragment dzieła Herodota

Zamierzam mostem połączyć Hellespont i przez Europę powieść wojsko na Helladę, aby ukarać Ateńczyków za wszystko zło, jakie wyrządzili [...] mojemu ojcu. [...] Działając w jego [...] imieniu, nie wprzód spocznię, aż zdobędę i spalę Ateny, których mieszkańcy mnie i mojemu ojcu pierwsi wyrządzili krzywdę. [...] Jeżeli podbijemy ich i ich sąsiadów [...], sprawimy, że ziemia [nasza] będzie graniczyła z eterem Zeusa. Bo istotnie słońce nie ujrzy żadnego kraju, który by z naszym graniczył, lecz wszystkie je z wami połączę w jedyny kraj, przeszedłszy przez całą Europę.

Teksty źródłowe do nauki historii w szkole, nr 2, Warszawa 1960, s. 34.

Źródło 2. Fragment wiersza Symonidesa

Ten grób bohaterów gromady
Stał się mieszkaniem...
Dla sławy Hellady!
Dowód ich cnót niezatarty
Dał Leonidas, król Sparty,
Który wspaniałej dzielności
Nam przykład zostawił
I piękną postawą
Na wieki się wslawił.

Teksty źródłowe do nauki historii w szkole, nr 2, Warszawa 1960, s. 28.

Zadanie 2.1. (0–1)

Rozstrzygnij, czy oba źródła dotyczą tej samej kampanii wojennej. Odpowiedź uzasadnij, odwołując się do informacji zawartych w obu źródłach.

Rozstrzygnięcie:

Uzasadnienie:

.....

.....

.....

Zadanie 2.2. (0–1)

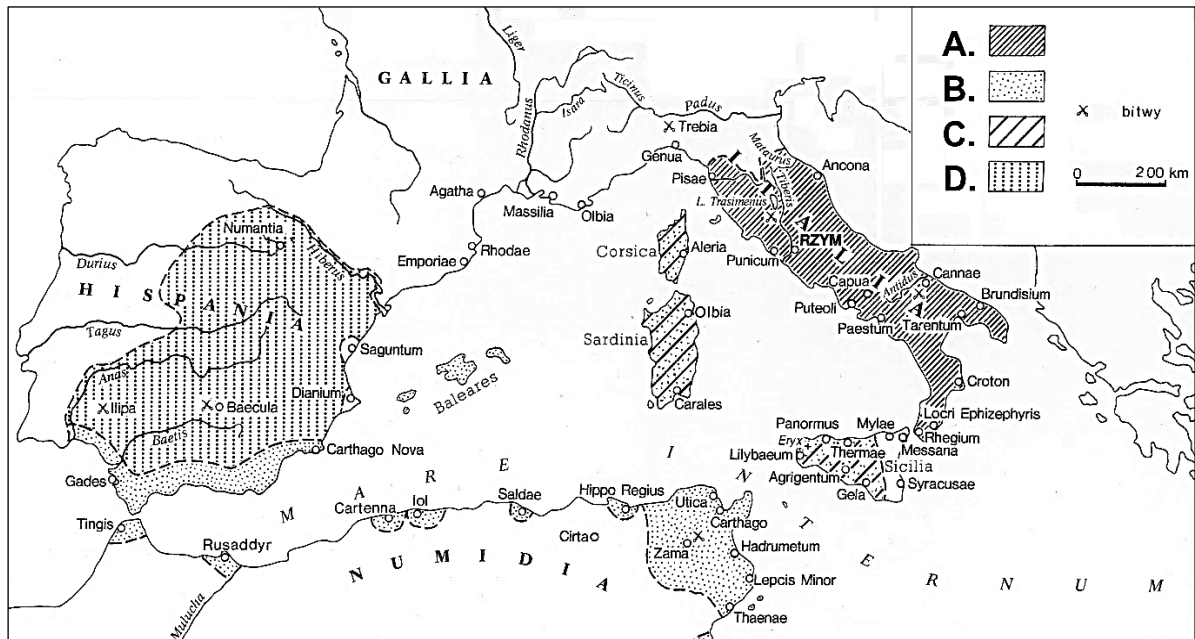
Dokończ zdanie. Zaznacz właściwą odpowiedź spośród podanych.

Źródło 2 nawiązuje do bitwy

- A. u wybrzeży Salaminy.
- B. pod Cheroneą.
- C. pod Maratonem.
- D. pod Platejami.

Zadanie 3. (0–2)

Fragment mapy basenu Morza Śródziemnego



M. Cary, H.H. Scullard, *Dzieje Rzymu*, t. 1, Warszawa 1992, s. 227.

Oceń prawdziwość poniższych stwierdzeń. Zaznacz P, jeśli stwierdzenie jest prawdziwe, albo F – jeśli jest fałszywe.

1.	Literą C oznaczono w legendzie mapy obszary opanowane przez Kartaginę między I a II wojną punicką.	P	F
2.	Obszary znajdujące się pod panowaniem Rzymu przed wybuchem I wojny punickiej oznaczono w legendzie mapy literą A.	P	F
3.	Literą B oznaczono w legendzie mapy obszary utracone przez Kartaginę na rzecz Rzymu po I wojnie punickiej	P	F

Zadanie 4. (0–1)

Fragment roczników

R. 800. Owego dnia najświętszego narodzenia Pana, gdy król podczas mszy przed ołtarzem błogosławionego Piotra apostoła powstał do modlitwy, papież Leon włożył koronę na jego głowę i cały lud rzymski zawołał: „[...] Augustowi przez Boga koronowanemu, potężnemu i pokojowemu cesarzowi rzymskiemu, życie i zwycięstwo!”. I po okrzykach, przez papieża, zwyczajem starożytnych władców, został uczczony i jako obdarzony imieniem patrycjusza cesarzem i Augustem został nazwany.

Wiek V–XV w źródłach [...], oprac. M. Sobańska-Bondaruk, S.B. Lenard, Warszawa 1999, s. 69.

Podaj imię i przydomek cesarza rzymskiego, o którym mowa w tekście.

.....

Zadanie 5. (0–1)

Fragmenty kroniki Jana Długosza

Fragment 1.: Król [...] dobywszy miecza, który mu Opatrzność dała tak, jak każdemu innemu królowi i możnemu [...] dla ścigania krzywd [...]. Nie odstraszone miejscem, porą i stanem biskupim, nie lękając się majestatu Boga i świętych, świątobliwemu biskupowi odprawiającemu mszę rozcina mieczem świętą głowę [...]. Niegodziwy i zbrodniczy król kładzie trupem świętego Bożego, biskupa Stanisława, który prosi o przebaczenie dla niego i pozostałych jego zabójców [...]. Zabija [...] oblubienca na łonie oblubienicy, pasterza w jego owczarni, ojca w objęciach córki i syna [...].

J. Długosz, *Roczniki, czyli kroniki sławnego Królestwa Polskiego. Księga trzecia*, Warszawa 1969, s. 9.

Fragment 2.: Metropolita gnieźnieński Stefan I [...], dotknięty do żywego wielką, przekraczając wszelkie granice, grabieżą dokonaną w katedrze gnieźnieńskiej, tj. zabraniami i wywiezieniem do Czech przedmiotów świętych i Bogu poświęconych przez bezbożnego księcia czeskiego Brzetysława i jego wojsko [...], wysłała do Rzymu znakomitych posłów, by [...] wnieśli skargę na świętokradztwo popełnione przez księcia Brzetysława.

J. Długosz, *Roczniki, czyli kroniki sławnego Królestwa Polskiego. Księga trzecia*, Warszawa 1969, s. 161.

Rozstrzygnij, który fragment kroniki (fragment 1. czy fragment 2.) opisuje wydarzenia wcześniejsze. Odpowiedź uzasadnij.

Rozstrzygnięcie:

Uzasadnienie:

.....
.....
.....

Zadanie 6.

Fragmety przywilejów szlacheckich

Fragment przywileju A:

Przyrzekamy i zaręczamy, iż żadnego ziemianina, posiadacza własności gruntowej nie będziemy za jakieś wykroczenia lub winę więzić, ani nie wydamy nakazu uwięzienia i nie będziemy go wcale karać, jeśli w sądzie w sposób rozumny nie udowodni się jemu winy i jeśli sędziowie tej krainy, w której ten ziemianin mieszka, nie wydadzą go w ręce nasze lub naszych starostów.

Fragment przywileju B:

Przed wszystkim naszym słowem królewskim przyrzekamy w pełni utrzymać wszystkich mieszkańców naszego królestwa przy wszelkich prawach, danych im przez poprzedników naszych. [...] Przyrzekamy również, że ani żadnych nowych ustaw nie wydamy, ani nie polecimy wzywać ziemian na wojnę bez zgody sejmiku ziemskiego, do Środy zwołanego.

<https://bnd.ibe.edu.pl>

Zadanie 6.1. (0–1)

Rozstrzygnij, czy obydwa przywileje nadał ten sam władca. Odpowiedź uzasadnij.

Rozstrzygnięcie:

Uzasadnienie:

.....

.....

.....

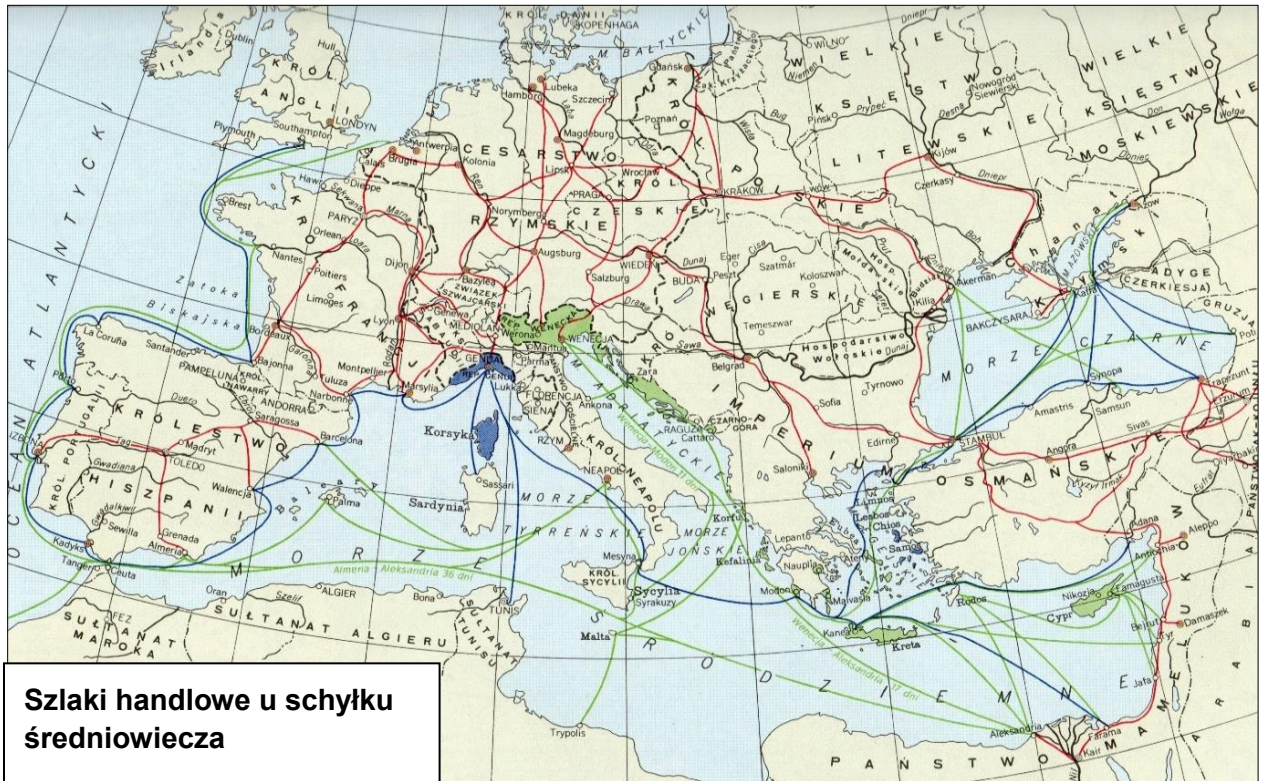
Zadanie 6.2. (0–2)

Oceń prawdziwość poniższych stwierdzeń. Zaznacz P, jeśli stwierdzenie jest prawdziwe, albo F – jeśli jest fałszywe.

1.	We fragmencie przywileju A zawarto gwarancję nietykalności osobistej szlachty.	P	F
2.	Postanowienie zawarte we fragmencie przywileju B wpłynęło na rozwój parlamentaryzmu polskiego.	P	F
3.	Na skutek ogłoszenia przywilejów przytoczonych we fragmentach A i B w Polsce powstała monarchia stanowa.	P	F

Zadanie 7. (0–1)

Mapa



Atlas historyczny świata, Warszawa–Wrocław 1996, s. 65.

Rozstrzygnij, czy na mapie zostały przedstawione szlaki morskie związane z handlem lewantyńskim czy hanzeatyckim. Odpowiedź uzasadnij, odwołując się do treści mapy i własnej wiedzy.

Rozstrzygnięcie:

Uzasadnienie:

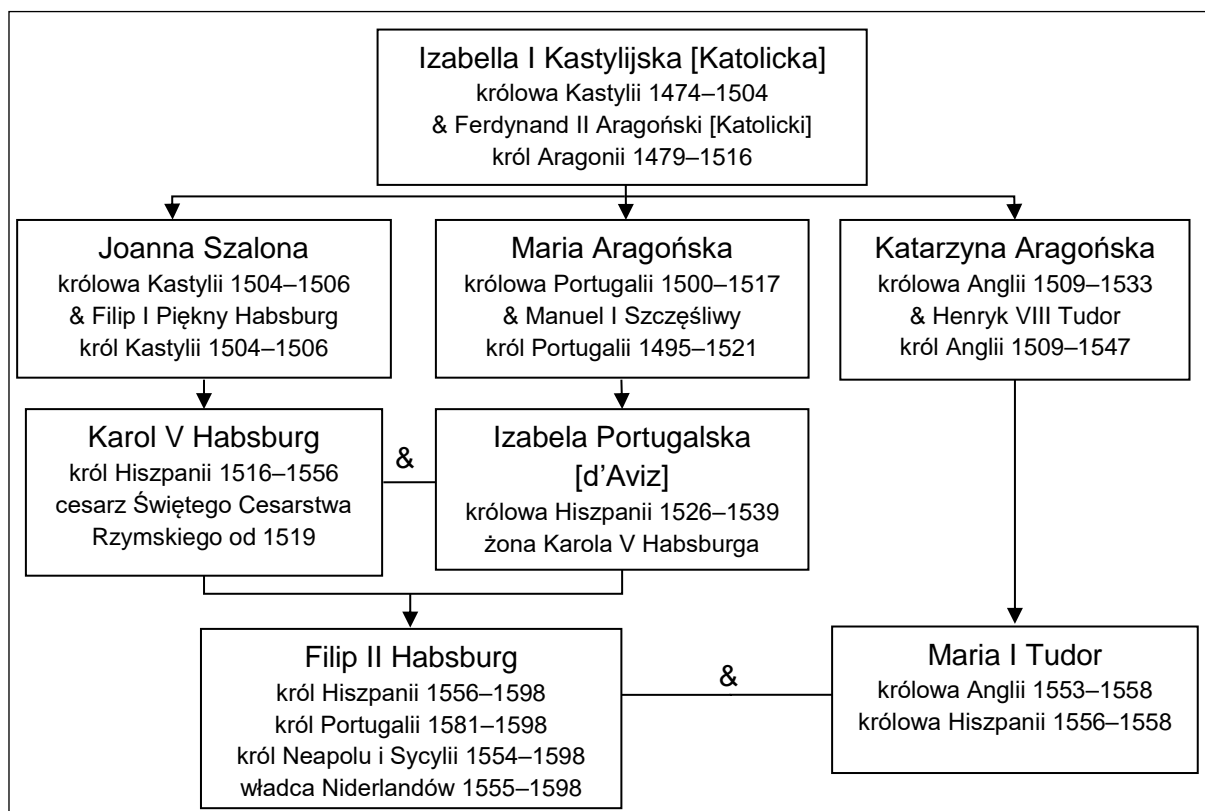
.....

.....

.....

Zadanie 8.

Źródło 1. Fragment tablicy genealogicznej władców Hiszpanii



Objaśnienia: & – małżeństwo; uwzględniono jedynie wybranych przedstawicieli rodzin panujących.

Na podstawie: *Słownik władców Europy* [...], red. J. Dobosz, M. Serwański, Poznań 2002;
A. Wyczański, *Historia powszechna. Wiek XVI*, Warszawa 1987, s. 204, 209–210.

Źródło 2. Fragment listu podróżnika

Przez 33 dni płynąłem z Wysp Kanaryjskich do Indii na okrętach oddanych mi przez najjaśniejszego króla i królową, naszych władców. Napotkałem wiele wysp zamieszkałych przez niezliczone ludy i objąłem je w posiadanie dla ich wysokości [...]; nie stawiano mi żadnego oporu. Pierwszej wyspie, którą odkryłem, nadałem nazwę San Salvador na pamiątkę boskiego majestatu, który [wyspę tę] wspaniale wyposażył.

T. Maresz, K. Juszczak, *Historia z tekstach źródłowych*, t. 1, Toruń 1994, s. 62.

Źródło 3. Fragment anonimowych notatek o wyprawie

Król [...] posłał cztery okręty dla odkrycia, wyszukania korzeni. W niedzielę [...] podnieśliśmy kotwicę w Rastello¹.

7 kwietnia podpłynęliśmy do miasta Mombassa [...].

We wtorek 24 kwietnia wyruszyliśmy stąd do miasta Kalikat, o którym nasz król miał wiadomość. Płynęliśmy na wschód, na ukos przez tę wielką zatokę, gdzie wpada Morze Czerwone [...].

17 maja, po 23 dniach na bezbrzeżnym morzu, ujrzeliśmy ziemię [...], a następnie dopłynęliśmy do miasta Kalikat.

¹ Rastello – obecnie część Lizbony.

T. Maresz, K. Juszczak, *Historia z tekstach źródłowych*, t. 1, Toruń 1994, s. 63–64.

Zadanie 8.1. (0–2)

Oceń prawdziwość poniższych stwierdzeń. Zaznacz P, jeśli stwierdzenie jest prawdziwe, albo F – jeśli jest fałszywe.

1.	Władca Anglii, za którego panowania parlament uchwalił <i>Akt supremacji</i> , był mężem córki Izabeli I Kastylijskiej, zwanej Katolicką.	P	F
2.	Władca Hiszpanii, który wysłał Wielką Armadę przeciwko Anglii, był wcześniej małżonkiem królowej Anglii – córki Henryka VIII.	P	F
3.	W źródle 1. są wymienieni władcy, którzy rozpoczęli rekonkwistę w Hiszpanii.	P	F

Zadanie 8.2. (0–2)

Na podstawie informacji zawartych w źródłach 1–3 uzupełnij tabelę.

Źródło	Imię i nazwisko podróżnika, który stał na czele wyprawy opisanej w źródłach	Władca/y, który/rzy sponsorował/wali wyprawę
Źródło 2. Fragment listu podróżnika		
Źródło 3. Fragment anonimowych notatek o wyprawie		




Zadanie 9. (0–2)

Mapa Rzeczypospolitej Obojga Narodów w XVII wieku



<http://wlapczpolske.pl>

Oceń prawdziwość poniższych stwierdzeń. Zaznacz P, jeśli stwierdzenie jest prawdziwe, albo F – jeśli jest fałszywe.

1.	Symbolem „  ” zaznaczono na mapie miejsca bitew stoczonych podczas potopu szwedzkiego.	P	F
2.	Kolorem niebieskim ( , ) zaznaczono kierunek działań i najdalszy zasięg wypraw tureckich.	P	F
3.	Na mapie została uwzględniona nazwa miejscowości kojarzona z bitwą, podczas której zginął hetman Stanisław Żółkiewski.	P	F

Zadanie 10. (0–2)

Fotografia kościoła



<http://zabytkowekoscioly.net>

Podaj nazwy dwóch stylów architektonicznych, które reprezentuje kościół przedstawiony na fotografii, oraz po jednej ceście każdego z nich, widocznej na tej fotografii.

Nazwa stylu 1.:

Cecha:

.....

Nazwa stylu 2.:

Cecha:

.....

Zadanie 11.

Źródło 1. Opis doktryny ekonomicznej

Jak sądzę, bez trudu zgodzimy się na zasadę, że różnice co do wielkości i potęgi poszczególnych państw wynikają z różnej ilości znajdującego się w ich granicach pieniądza. Wychodząc z tego założenia, należy stwierdzić, że corocznie wywozi się z granic naszego królestwa produkty wyrabiane z naszego surowca, a przeznaczone na zbyć na obczyźnie. Holendrzy i inni cudzoziemcy [...], zamiast by suma ta dostawała się do naszego państwa w gotówce [...], przynoszą nam ją w rozmaitych towarach [...]. Łatwo stąd wywnioskować, że o ile zdołamy znieść zyski Holendrów, ciągnięte z poddanych naszego króla, o tyle pomnożymy ilość gotówki, którą winniśmy ściągnąć w granice królestwa dzięki wywozowi naszych produktów [...].

Wiek XVI–XVIII w źródłach [...], oprac. M. Sobańska-Bondaruk, S.B. Lenard, Warszawa 1999, s. 320.

Źródło 2. Oświadczenie sir Francisa Bernarda na temat polityki kolonialnej Anglii

Polityka angielska musi w odniesieniu do handlu z Ameryką mieć na uwadze dwa wielkie zadania:

1. zmusić Amerykanów, aby wszystkie towary fabryczne i produkty europejskie, których potrzebują, sprowadzali tylko z Wielkiej Brytanii;
2. handel zagraniczny Amerykanów regulować tak, aby wszystkie korzyści z niego płynęły do Wielkiej Brytanii bądź przynosiły pożytek sprawom Imperium Brytyjskiego.

Wiek XVI–XVIII w źródłach [...], oprac. M. Sobańska-Bondaruk, S.B. Lenard, Warszawa 1999, s. 469.

Zadanie 11.1. (0–1)

Rozstrzygnij, czy założenia polityki kolonialnej Anglii przedstawione w źródle 2. były zgodne z zasadami doktryny opisanej w źródle 1. Odpowiedź uzasadnij, odwołując się do informacji zawartych w obu źródłach.

Rozstrzygnięcie:

Uzasadnienie:

.....

.....

.....

Zadanie 11.2. (0–2)

Oceń prawdziwość poniższych stwierdzeń. Zaznacz P, jeśli stwierdzenie jest prawdziwe, albo F – jeśli jest fałszywe.

1.	Doktryna ekonomiczna opisana w źródle 1. to fizjokratyzm.	P	F
2.	Autorem tekstu cytowanego w źródle 1. jest Adam Smith.	P	F
3.	Autor tekstu ze źródła 1. jest zwolennikiem zwiększenia eksportu.	P	F

Zadanie 12.

Źródło 1. Fragmenty opracowania historycznego

Fragment A: Udawał się do Francji nie po to, by ją zdobywać zbrojnie. Zamierzał po prostu wylądować u jej brzegów, wyjawic cel swego przybycia i zażądać zwrotu tronu cesarskiego. Tak wielka była wiara Napoleona w moc swego imienia, iż wydawało mu się, że kraj cały bez walki, bez stawiania oporu, padnie mu do nóg.


Fragment B: Blisko piętnaście tysięcy poległych Rosjan i Austriaków, dwadzieścia tysięcy wziętych do niewoli, zdobycie prawie całej artylerii przeciwników i [...] obozu pełnego materiałów wojennych, i [...] faktyczne zlikwidowanie armii [dwóch cesarzy] – oto plon zwycięstwa [...]. Francuzi stracili mniej niż dziewięć tysięcy żołnierzy.

Fragment C: Wszystko było stracone. Gwardia uszykowana w czworobok, broniąc się rozpaczliwie, cofała się powoli poprzez gęste szeregi nieprzyjaciół. Napoleon cofał się na koniu wśród osłaniającego go batalionu grenadierów gwardii. [...] „Waleczni Francuzi, poddajcie się!” – krzyknął pułkownik angielski Halkett [...].

Fragment D: Nowy sojusznik Napoleona, król Saksonii, otrzymał większą część terytoriów Polski zdobytych podczas walk z Prusami. Była to [...] część etnograficznej Polski przekształcona w Księstwo Warszawskie. Okręg Białostocki został oddany carowi Aleksandrowi.

E. Tarle, *Napoleon*, Kraków 1991, s. 176, 199, 402, 427.

Źródło 2. Obraz Adolfa Roehna – *Spotkanie Napoleona I i Aleksandra I na rzece Niemen*



<https://pl.wikipedia.org>

Zadanie 12.1. (0–1)

Podaj, który fragment ze źródła 1. (A, B, C czy D) jest opisem wydarzenia chronologicznie najwcześniejszego, a który – wydarzenia chronologicznie najpóźniejszego.

Wydarzenie chronologicznie najwcześniejsze opisuje fragment:

Wydarzenie chronologicznie najpóźniejsze opisuje fragment:

Zadanie 12.2. (0–1)

Rozstrzygnij, który fragment ze źródła 1. opisuje skutki wydarzenia upamiętnionego na obrazie. Odpowiedź uzasadnij.

Rozstrzygnięcie:

Uzasadnienie:
.....
.....
.....

Zadanie 13. (0–2)

Źródło 1. Fragment artykułu Aleksandra Świętochowskiego z 1871 roku

[Los] otworzył przed nami szerokie pole podbojów przemysłowo-handlowych, którego dotąd nie opanowaliśmy dostatecznie i na którym odnieść możemy pewniejsze zwycięstwa niż te, w których dotąd pokładaliśmy całą naszą ufność. Nie oczekujemy niczego od przewrotów politycznych, wojen, traktatów, przemiennych łask obcych, lecz zawierzmy tylko własnej żywotności. Zajmujmy wszystkie stanowiska opróżnione, wciskajmy się we wszystkie szczeliny, puszczajmy korzenie wszędzie, gdzie grunt podatny ku temu się znajduje.

Wiek XIX w źródłach [...], oprac. M. Sobańska-Bondaruk, S.B. Lenard, Warszawa 1998, s. 388.

Źródło 2. Wiersz Włodzimierza Zagórskiego

Minął złoty czas krzykactwa
[...] Czas eposu tromtadratów¹!
[...] Naród z ciężkich snów ocknięty
Skupił ducha w pracy cichej;
Ufni w przyszłość, krocym trzeźwi
Drogą naszych prac mozolną,
W jedną tylko wierząc prawdę,
Że nam robić głupstw nie wolno!

¹ Tromtadrate – ktoś, kto krzykliwie, demonstracyjnie głosi swoje poglądy lub hasła pozbawione treści.

H. Samsonowicz i in., *Polska [...]*, Warszawa 1992, s. 369.

Sformułuj dwa argumenty potwierdzające tezę, że oba źródła wyrażają program pozytywizmu.

-
.....
-
.....

Zadanie 14. (0–1)

Karykatura



Reformy

Rewolucja

Na podstawie: G. Szelągowska, *Historia. Dzieje nowożytne i najnowsze*, Warszawa 1998, s. 57.

Rozstrzygnij, czy karykatura odnosi się do rewolucji w 1905 roku czy do rewolucji bolszewickiej. Odpowiedź uzasadnij, interpretując dwa wybrane elementy graficzne.

Rozstrzygnięcie:

Uzasadnienie:

.....

.....

.....

Zadanie 15.

Źródło 1. Fragment listu do Jacka Malczewskiego z wiedeńskiego stowarzyszenia artystów z 1919 roku

Wielce Szanowny Panie Kolego! Zmienione warunki polityczne, niestety, nie pozwalają nam, zgodnie z naszym statutem, utrzymać Pańskiego nazwiska w dalszym ciągu na liście naszych członków zwyczajnych. Osobiście jak najbardziej tego żałując, przekazuję panu jednocześnie jednomyślne pragnienie Stowarzyszenia, by mimo to nie ucierpiała nasza wieloletnia współpraca artystyczna. Jeśli zależałoby Panu na tym, chętnie informowalibyśmy Pana o wszystkich wystawach, w których Pański udział wchodziłby w rachubę.

W imieniu Stowarzyszenia Richard Harefräger

D. Kudelska, *Malczewski obrazy i słowa*, Warszawa 2012, s. 644.

Źródło 2. Jacek Malczewski, *Melancholia*



<https://mn.art.pl>

Zadanie 15.1. (0–1)

Podaj nazwę stylu w malarstwie, którego przykładem jest zaprezentowany obraz. Odpowiedź uzasadnij, opisując jedną cechę tego stylu, widoczną na obrazie.

Nazwa stylu:

Uzasadnienie:

.....
.....
.....

Zadanie 15.2. (0–1)

Wyjaśnij, jakie *warunki polityczne* spowodowały wykreślenie Malczewskiego ze stowarzyszenia, o którym mowa w źródle 1. W odpowiedzi odwołaj się do faktografii.

.....
.....
.....
.....

Zadanie 16.

Fragment afisza ogłoszeniowego

JEDZIEMY do COPU

Centralny Okręg Przemysłowy — to źródło wiary w potęgę Narodu Polskiego

W dniach od 3–9 czerwca r. b. odbędzie się pięciodniowa wycieczka pociągiem turystycznym do COPU

Odjazd 3 VI. po godz. 20⁰⁰ - Powrót 9 VI. około godz. 7⁰⁰

Program wycieczki przewiduje: zwiedzenie fabryki amunicji w Skarżysku K., zwiedzenie grodu nadwiślańskiego Sandomierza, Zakładów Południowych w Stalowej Woli i Nisku, fabryki H. Cegielski w Rzeszowie, i „Stomil” w Dębicy, Zakładów Azot. w Mościcach, zwiedzenie Tarnowa, ewent. Wieliczki oraz udział w procesji Bożego Ciała w Krakowie, złożenie wieńca na trumnie ś. p. Wielkiego Marszałka Józefa Piłsudskiego na Wawelu i zwiedzenie Pałacu Prasy. (Poza tym za dodatkową opłatą zapory wodnej w Rożnowie).

<https://www.nac.gov.pl>

Zadanie 16.1. (0–1)

Dokończ zdanie. Zaznacz właściwą odpowiedź spośród podanych.

Afisz przedstawiony w źródle został opublikowany za prezydentury

- A. Gabriela Narutowicza.
- B. Stanisława Wojciechowskiego.
- C. Ignacego Mościckiego.
- D. Władysława Raczkiewicza.

Zadanie 16.2. (0–1)

Podaj nazwisko polskiego ekonomisty, który był inicjatorem budowy wspomnianego w źródle Centralnego Okręgu Przemysłowego.

.....

Zadanie 17. (0–1)

Fragment Konstytucji Rzeczypospolitej Polskiej

Art. 3.

(1) Organami Państwa, pozostającymi pod zwierzchnictwem Prezydenta Rzeczypospolitej, są: Rząd, Sejm, Senat, Siły Zbrojne, Sądy, Kontrola Państwowa.

(2) Ich zadaniem naczelnym jest służenie Rzeczypospolitej.

<https://iasp.sejm.gov.pl>

**Rozstrzygnij, czy tekst stanowi fragment konstytucji marcowej czy kwietniowej.
Odpowiedź uzasadnij.**

Rozstrzygnięcie:

Uzasadnienie:

.....
.....
.....

Zadanie 18.

Fragment artykułu *Komuniści z Biuletynu Informacyjnego*, wydawanego przez AK

Czas od września 1939 [roku] do [połowy 1941 roku] to okres, w którym prasa moskiewska uroczyście uznaje prawo Niemiec do organizowania Europy na zachód od Bugu, rządu gen. Sikorskiego nie nazywa inaczej jak [„sztuczny rząd”], a słowo „Polska” skreśla zupełnie ze swojego słownictwa. Równocześnie komuniści pod okupacją niemiecką siedzą jak mysz pod miotłą i ani im się śni wówczas przeciwniemiecka dywersja!

Napad [...] jak czarodziejską różdżką odmienił stosunek Kominternu do Polski. Przecież patriotyzm narodu polskiego można doskonale wyzyskać do walki z hitleryzmem! I oto obserwować zaczynamy „wzruszające zjawisko”: komunizm polski staje się narodowym (!), staje „ramię do ramienia” z organizacjami niepodległościowymi w walce z „przemocą wroga”.

Kronika komunizmu w Polsce, Kraków 2009, s. 120.

Zadanie 18.1. (0–1)

Wyjaśnij, dlaczego w początkowym okresie II wojny światowej komuniści prezentowali pozytywny stosunek do polityki Niemiec. W odpowiedzi odwołaj się do faktografii.

.....
.....
.....
.....

Zadanie 18.2. (0–1)

Wyjaśnij, dlaczego w połowie 1941 roku zmienił się stosunek komunistów do Polski.
W odpowiedzi odwołaj się do faktografii.

.....

.....

.....

.....

.....

Zadanie 19. (0–1)

Chiński plakat propagandowy



<http://historianazdjeciach.pl>

Dokończ zdanie. Zaznacz właściwą odpowiedź spośród podanych.

Plakat odnosi się do wydarzeń określanych w historiografii jako

- A. Długi Marsz.
- B. Wielki Skok.
- C. rewolucja kulturalna.
- D. masakra na placu Tiananmen.

Zadanie 20. (0–1)

Fotografia z wiecu



<https://polityka.pl>

Rozstrzygnij, czy zaprezentowana fotografia została wykonana w Polsce w roku 1956 czy w roku 1968. Odpowiedź uzasadnij, odwołując się do informacji ze źródła.

Rozstrzygnięcie:

Uzasadnienie:

.....
.....
.....

Więcej arkuszy znajdziesz na stronie: arkusze.pl

Zadanie 21.

Awers i rewers monety z serii „Polska Droga do Wolności”

Awers



Rewers



<https://nbp.pl>

Zadanie 21.1. (0–1)

Podaj nazwisko premiera upamiętnionego na rewersie monety.

.....

Zadanie 21.2. (0–1)

Uzasadnij, że symbolika awersu monety nawiązuje do genezy wydarzenia przedstawionego na rewersie.

.....

.....

.....

Zadanie 22. (0–12)

Zadanie zawiera pięć tematów. Wybierz jeden z nich do opracowania.

1. Scharakteryzuj przemiany władzy cesarskiej w starożytnym Rzymie w okresie I w. p.n.e. – IV w. n.e.
2. Walka o prymat nad średniowieczną Europą. Opisz przebieg rywalizacji cesarsko-papieskiej w X–XII wieku i oceń jej znaczenie.
3. *Polska była kiedyś krajem bez stosów.* Zajmij stanowisko wobec powyższej tezy, charakteryzując przemiany tolerancji religijnej w Rzeczypospolitej w okresie XVI–XVII w. W pracy wykorzystaj materiały źródłowe (s. 24–25).
4. Od nacjonalizmu do socjalizmu. Opisz nowoczesne ruchy polityczne na ziemiach polskich na przełomie XIX i XX wieku.
5. *Polacy w 1939 r. byli skazani na klęskę.* Zajmij stanowisko wobec powyższej tezy, oceniając przygotowanie II Rzeczypospolitej do wojny obronnej. W pracy wykorzystaj materiały źródłowe (s. 25–26).

Materiały źródłowe do tematu 3.

Źródło A. Fragment artykułów henrykowskich z 1573 r.

A iż w tej zacnej Koronie narodu polskiego i litewskiego [...] niemało jest różnowierstwa [...], warowali to sobie niektórzy obywatele korony konfederacją osobliwą, że w tej mierze w sprawie religii mają być w pokoju zachowani, którą my obiecujemy trzymać w pokoju czasy wiecznymi.

Wiek XVI–XVIII w źródłach [...], oprac. M. Sobańska-Bondaruk, S.B. Lenard, Warszawa 1999, s.108.

Źródło B. Mapa



<https://wlczpolske.pl>

Więcej arkuszy znajdziesz na stronie: arkusze.pl

Źródło C. Fragment ustawy sejmowej z 1658 roku

Lubo zawsze sekcie ariańskiej, albo jako ją niektórzy zowią nowochrześcijańskiej, w państwach naszych być i krzewić się prawo pospolite nie pozwalało, iż jednak [z jakiejś zgubnej przyczyny w interesie państwa] pomieniona sekta niedawnych czasów w państwach naszych [...] szerzyć się poczęła, która Synowi Bożemu przedwieczności ujmuje, reasumowawszy [w mocy swojej], zostawując przeciwko nim statut Władysława Jagiełły [...], postanawiamy:

Iż jeśli by kto taki znalazł się, który by sektę tę ariańską w państwach naszych [...] śmiał i ważył się wyznawać, krzewić albo opowiadać, albo onej [głosicieli osłaniać i łaskawie traktować], a byłby o to [prawnie przekonany], takowy każdy wyżej mianowanemu statutowi podlegać ma i bez wszelakiej odwołki przez starosty nasze, urzędy ich na gardle ma być karany [pod utratą starostwa, a ich poplecznikom, jak za zdradę stanu] [...]. Chcąc jednak [naszą łagodność] pokazać, jeżeli by się który takowy znalazł, co by tej sekty swojej wyrzec się nie chciał, takowemu na lat trzy do wyprzedania się pozwalamy [z zastrzeżeniem bezpieczeństwa dóbr i osób, tudzież prawa żądania zwrotu długów]. [W tym czasie mimo to] żadnych [praktyk swojej sekty] wyżej mianowanej odprawować nie powinien i do żadnych [publicznych obowiązków włączyć się] nie będzie mógł.

Wiek XVI–XVIII w źródłach [...], oprac. M. Sobańska-Bondaruk, S.B. Lenard, Warszawa 1997, s. 156.

Materiały źródłowe do tematu 5.

Źródło A. Plakat propagandowy



<https://wiadomosci.onet.pl>

Źródło B. Fotografia z 1939 roku



<https://pl.wikipedia.org>

Źródło C. Infografika



T. Zawadzki, Wrzesień 1939: porównanie sił, [w:] „Pomocnik Historyczny”, 8/2019, s. 110.

BRUDNOPIS (*nie podlega ocenie*)

Więcej arkuszy znajdziesz na stronie: arkusze.pl

Więcej arkuszy znajdziesz na stronie: arkusze.pl

Więcej arkuszy znajdziesz na stronie: arkusze.pl

HISTORIA

Poziom rozszerzony

Formuła 2015

HISTORIA

Poziom rozszerzony

Formuła 2015

HISTORIA

Poziom rozszerzony

Formuła 2015