

**WYPEŁNIA ZDAJĄCY**

**KOD**

--	--	--

**PESEL**

--	--	--	--	--	--	--	--	--	--	--	--

*miejsce  
na naklejkę*

**EGZAMIN MATURALNY**  
**Z WIEDZY O SPOŁECZEŃSTWIE**  
**POZIOM ROZSZERZONY**

TERMIN: **dodatkowy 2020 r.**

CZAS PRACY: **180 minut**

LICZBA PUNKTÓW DO UZYSKANIA: **60**

**Instrukcja dla zdającego**

1. Sprawdź, czy arkusz egzaminacyjny zawiera 26 stron (zadania 1–32).  
Ewentualny brak zgłoś przewodniczącemu zespołu nadzorującego egzamin.
2. Odpowiedzi zapisz w miejscu na to przeznaczonym przy każdym zadaniu.
3. Pisz czytelnie. Używaj długopisu albo pióra tylko z czarnym tuszem/atramentem.
4. Nie używaj korektora, a błędne zapisy wyraźnie przekreśl.
5. Pamiętaj, że zapisy w brudnopisie nie będą oceniane.
6. Na tej stronie oraz na karcie odpowiedzi wpisz swój numer PESEL i przyklej naklejkę z kodem.
7. Możesz korzystać z kalkulatora prostego.
8. Nie wpisuj żadnych znaków w części przeznaczonej dla egzaminatora.

**NOWA FORMUŁA**



MWO-R1\_1P-203

**Zadanie 1. (0–1)**

O jednym z rodzajów zmian postaw

Jednostka przyjmuje za własne normy, wartości i poglądy pochodzące od jakiejś osoby lub grupy dlatego, że jest głęboko przekonana o ich słuszności. Jest to najbardziej trwałe następstwo wpływu społecznego lub nacisku grupowego.

Na podstawie: *Spółeczeństwo i polityka. Zarys wykładu*,  
red. K.A. Wojtaszczyk, W. Jakubowski, Warszawa 2001, s. 69–70.

**Zaznacz poprawne dokończenie zdania.**

Zmiana postaw przedstawiona w powyższym opisie jest przejawem

- A. alienacji.
- B. ambiwalencji.
- C. konformizmu.
- D. kosmopolityzmu.

**Zadanie 2. (0–2)**

Fotografia i fragment utworu



Anarchia w samym środku mojej  
głowy  
Mój mózg pracuje niezależnie  
I nikt mi nie może zakazać myślenia  
Anarchia w głowie to początek  
wyzwolenia.

Dezerter, „Anarchia”

[www.tekstowo.pl](http://www.tekstowo.pl)

**Rozstrzygnij, czy materiały źródłowe dotyczą typowych przedstawicieli subkultury *skinheadów*. Swój wybór uzasadnij, odnosząc się do każdego z tych materiałów.**

Rozstrzygnięcie – .....

Uzasadnienie – .....

.....

.....

.....

.....

### Zadanie 3. (0–1)

O rodzaju społeczeństwa

Spółeczeństwo to oparte jest na rolnictwie i dominuje w nim gospodarka naturalna. Jednostkami produkcyjnymi są gospodarstwa domowe, w znacznej mierze samowystarczalne. Pieniądz ma niewielki wpływ na kształt stosunków społecznych oraz na określenie miejsca człowieka w społeczeństwie. Charakter społeczności wiejskich decyduje o obliczu całego społeczeństwa. Społeczność wiejska jest zamknięta, jej podstawowymi częściami są rodziny i sąsiedztwa. Regułą jest pomoc sąsiedzka i wymiana usług, jak również spotkania sąsiedzkie w celu wspólnego wykonywania różnych prac. Społeczność wiejską cechuje zachowawczość i orientacja przeszłościowa. Przeszłość uzasadnia sposób postępowania i dostarcza wzorów zachowania się. Ich przestrzeganie zapewnia silną i nieformalną kontrolę społeczną.

Na podstawie: B. Szacka, *Wprowadzenie do socjologii*, Warszawa 2018, s. 101–102.

**Zaznacz poprawne dokończenie zdania.**

Tekst dotyczy społeczeństwa

- A. pierwotnego.
- B. tradycyjnego.
- C. przemysłowego.
- D. postindustrialnego.

### Zadanie 4. (0–1)

C.K. Norwid, *Moja piosnka II*

Do kraju tego, gdzie kruszynę chleba  
Podnoszą z ziemi przez uszanowanie  
Dla darów nieba...

Tęskno mi, Panie...

Do kraju tego, gdzie winą jest dużą  
Popsować gniazdo na gruszy bocianie,  
Bo wszystkim służą...

Tęskno mi, Panie... [...]

*popsować* – dziś: popsuć

**Podaj nazwę typu normy społecznej, do której nawiązuje tekst. Odpowiedź uzasadnij.**

Nazwa typu normy społecznej – .....

Uzasadnienie – .....

.....

.....

.....

### Zadanie 5. (0–2)

Mapa. Polacy na świecie



Na mapie oznaczono:

- kolorem szarym wybrane państwa europejskie, w których znajdują się znaczne skupiska Polaków;
- numerami wybrane państwa pozaeuropejskie, w których znajdują się znaczne skupiska Polaków.

O polityce Rzeczypospolitej Polskiej wobec Polaków za granicą

Rząd RP traktuje prowadzenie akcji repatriacyjnej jako spełnienie moralnego obowiązku wynagrodzenia historycznych krzywd Rodakom. Ustawa o repatriacji ma umożliwić osiedlenie się w kraju i przyznanie polskiego obywatelstwa tym, którzy – bądź których przodkowie – na skutek deportacji, zesłań i innych prześladowań narodowościowych i politycznych nie mogli się w Polsce nigdy osiedlić.

Na podstawie: [www.msw.gov.pl](http://www.msw.gov.pl)

#### 5.1. Uzupełnij zdanie – wpisz nazwę państwa i numer, którym oznaczono je na mapie.

Na podstawie ustawy wskazanej w tekście mogą ubiegać się o przyznanie obywatelstwa polskiego osoby będące obywatelami ..... – państwa oznaczonego na mapie numerem ....

#### 5.2. Podaj nazwy trzech państw zaznaczonych na mapie szarym kolorem, w których liczba Polaków znacznie zwiększyła się w wyniku przystąpienia Rzeczypospolitej Polskiej do Unii Europejskiej.

.....  
.....

### Zadanie 6. (0–1)

O jednym z typów polityki wobec imigrantów

Polityka państwa wobec imigrantów zakłada koncepcję zachowania języka i kultury kraju pochodzenia przy jednoczesnym zapewnieniu im równych praw we wszystkich obszarach życia społecznego. Nurt tej polityki powstał jako odpowiedź na rzeczywistość społeczną w takich państwach, jak Kanada czy Australia. Imigranci tylko do pewnego stopnia przyjmują kulturę

i normy społeczeństwa przyjmującego, natomiast kolejne pokolenia utrzymują już tylko elementy kultury ojczyzny ich przodków i tworzą różnego rodzaju stowarzyszenia i enklawy etniczne.

Na podstawie: mighealth.net

**Rozstrzygnij, czy tekst dotyczy polityki asymilacji. Swój wybór uzasadnij.**

Rozstrzygnięcie – .....

Uzasadnienie – .....

.....

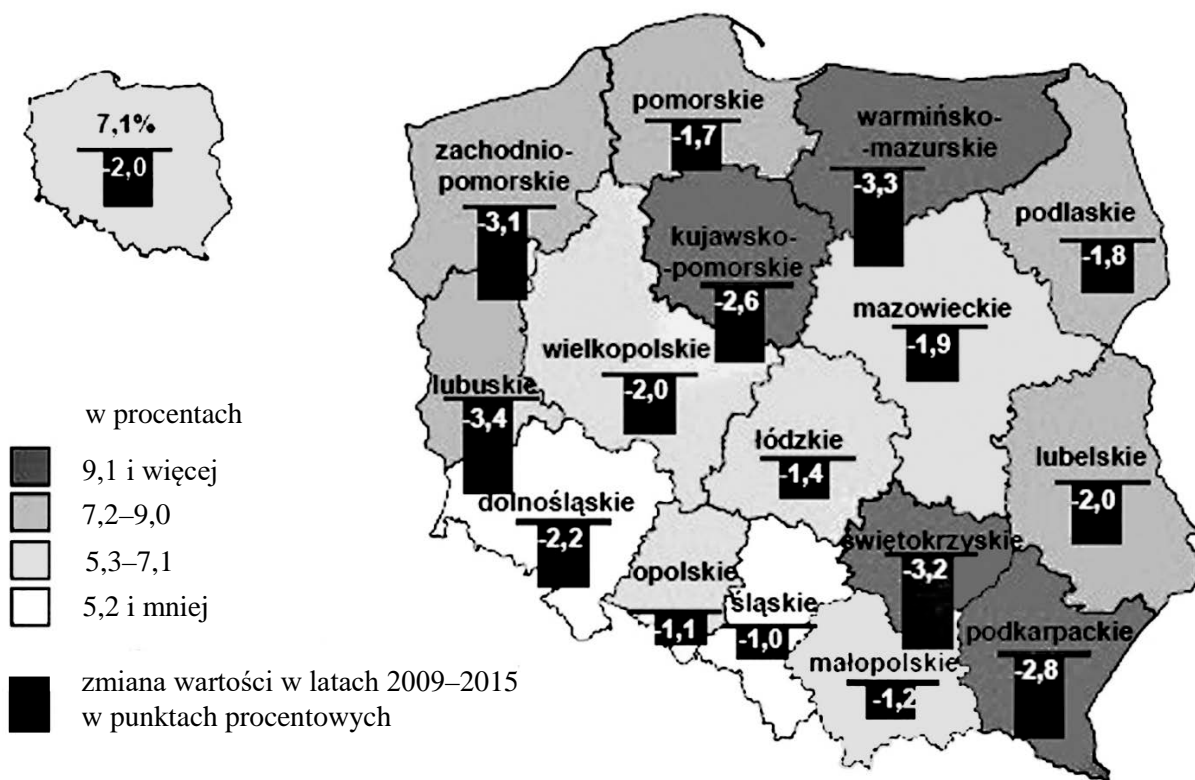
.....

.....

**Zadanie 7. (0–1)**

Mapa Polski. Udział beneficjentów środowiskowej pomocy społecznej w ludności ogółem w 2015 r. oraz zmiana tego wskaźnika w porównaniu z 2009 r.

Więcej arkuszy znajdziesz na stronie: arkusze.pl





*Beneficjenci środowiskowej pomocy społecznej w 2015 r., Warszawa 2016, s. 2.*

**Oceń, czy poniższe informacje są prawdziwe. Zaznacz P, jeśli informacja jest prawdziwa, albo F – jeśli jest fałszywa.**

1.	W 2009 roku w Polsce więcej niż co dziesiąta osoba skorzystała ze środowiskowej pomocy społecznej.	P	F
2.	Największa różnica w zmianie wartości ukazanego wskaźnika w latach 2009–2015 w danym województwie wyniosła 3,4%.	P	F
3.	W 2015 roku w dziewięciu województwach wartość ukazanego wskaźnika była wyższa niż średnia w kraju.	P	F

**Zadanie 8. (0–1)**

O przywódcach ruchów społecznych

Informacja wspólna dla przywódców 1. i 2. Ich metodą walki było stosowanie biernego oporu. Sprzeciwiali się dyskryminacji, walczyli o swobody obywatelskie. Ich działania stały się inspiracją dla wielu współczesnych ruchów społecznych. Obaj zginęli z rąk zamachowców.		
	Przywódca 1.	Przywódca 2.
Fotografia		
Nazwa państwa, w którym działał	Indie	Stany Zjednoczone Ameryki

Opracowanie własne.

**Rozpoznaj obu przywódców przedstawionych w materiale źródłowym – podaj nazwisko każdego z nich.**

Przywódca 1. – .....

Przywódca 2. – .....

**Zadanie 9. (0–2)**

Tabela. Postawy społeczeństwa polskiego wobec składek ZUS dla umów cywilnoprawnych

Forma działalności zarobkowej respondentów [od najbardziej (A.) do najmniej (D.) stabilnej]		Czy uważa Pan(i) za słuszne wprowadzenie obowiązkowego odprowadzania składek ZUS od umów cywilnoprawnych na takich samych zasadach jak w przypadku umów o pracę?		
		Tak	Nie	Trudno powiedzieć
		w procentach		
A.	Praca na podstawie umowy o pracę na czas nieokreślony	66	26	8
B.	Praca na podstawie umowy o pracę na czas określony	57	35	8
C.	Praca na podstawie umowy cywilnoprawnej	56	37	7
D.	Praca bez umowy (praca na czarno)	54	46	0

Na podstawie: *Opinie na temat oskładkowania tzw. umów śmieciowych*, Komunikat z badań CBOS BS/138/2014.

**9.1. Sformułuj zależność pomiędzy stabilnością działalności zarobkowej respondentów a ich postawami wobec składek ZUS dla umów cywilnoprawnych. Odpowiedź uzasadnij, przytaczając dane.**

.....

.....

.....

.....

.....

**9.2. Oceń, czy poniższe informacje są prawdziwe. Zaznacz P, jeśli informacja jest prawdziwa, albo F – jeśli jest fałszywa.**

1.	Do składek, o których mowa w tabeli, zalicza się m.in. składkę emerytalną, rentową i dobrowolną składkę chorobową.	P	F
2.	Jednym z rodzajów umów wskazanych w wierszu C. tabeli jest umowa o dzieło.	P	F
3.	Osoby, których dotyczy wiersz D. tabeli, mają – w porównaniu z innymi kategoriami – najmniej spolaryzowane opinie w kwestii zadanego pytania.	P	F

**Zadanie 10. (0–1)**

Rysunek satyryczny Janka Kozy



Na podstawie: polityka.pl

**Uzasadnij, że wypowiedzi postaci przedstawionej na rysunku satyrycznym świadczą o nieznanym mechanizmach rynkowych.**

.....

.....

.....

.....

.....

**Zadanie 11. (0–1)**

O koncepcji genezy państwa

Państwo należy do tworców natury, a człowiek jest z natury stworzony do życia w państwie. Ten, który z natury – a nie przez przypadek – żyje poza państwem, jest albo nędznikiem, albo nieludzką istotą.

Na podstawie: E. Zieliński, *Nauka o państwie i polityce*, Warszawa 2001, s. 26.

**Podaj nazwę koncepcji genezy państwa, której dotyczy tekst.**

.....

**Zadanie 12. (0–1)**

Państwa totalitarne


<p>Tłumaczenie: <i>Jeden naród, jedna Rzesza, jeden wódz</i></p>

[www.offpffoff.deviantart.com](http://www.offpffoff.deviantart.com)

W książce „Wielki nauczyciel dziennikarzy” zapisana jest wskazówka, jaką Ukochany Przywódca udzielił pracownikom telewizji, że najważniejszym zadaniem operatora kamery telewizyjnej jest takie ustawienie kamery, aby jak najkorzystniej sfilmować Wielkiego Wodza.



„Defilada”, reż. Andrzej Fidyk, 1989; [www.3.bp.blogspot.com](http://www.3.bp.blogspot.com)

**Na podstawie materiałów źródłowych podaj cechy totalitaryzmu wspólne dla obu państw, których dotyczą te materiały.**

- .....
- .....

Więcej arkuszy znajdziesz na stronie: [arkusze.pl](http://arkusze.pl)



### Zadanie 13. (0–1)

Poglądy Jamesa Madisona na temat pojmowania republiki

Dwie wielkie różnice pomiędzy demokracją a republiką są następujące: pierwsza, iż w rządzie republikańskim sprawuje władzę mała liczba delegatów wybieranych przez resztę obywateli; druga, iż rząd ten może rozciągać swą władzę nad większą liczbą ludności i nad większym obszarem niż w systemie demokratycznym.

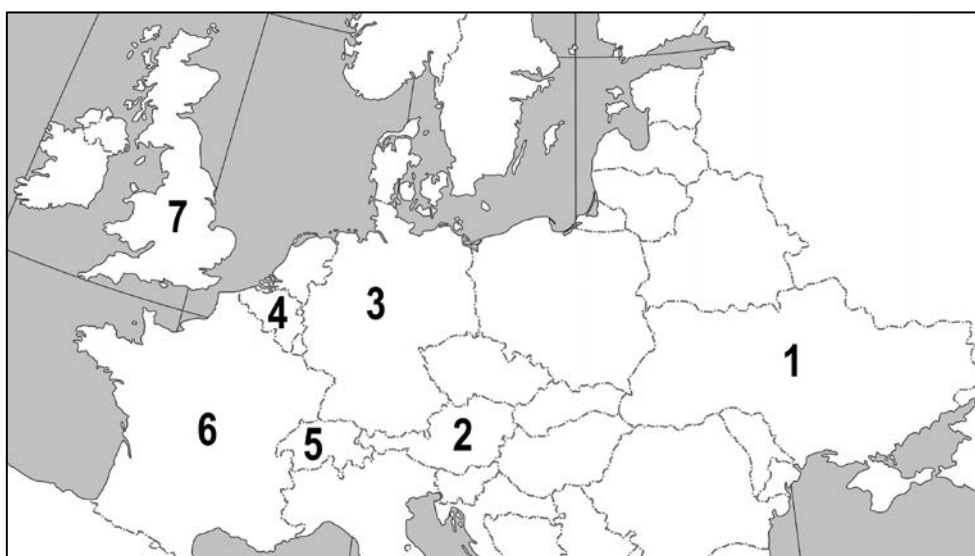
*Historia idei politycznych: wybór tekstów*, Warszawa 2001, t. II, s. 180.

**Podaj nazwę formy demokracji utożsamianej w tekście z republiką.**

.....

### Zadanie 14. (0–2)

Fragment mapy politycznej Europy



O państwach w Europie

**Opis A.** To federalne państwo jest monarchią, w której głową państwa jest monarcha z dynastii sasko-kobursko-gotajskiej, a parlament jest bikameralny.

**Opis B.** To federalne państwo jest republiką, w której głową państwa jest prezydent wybierany w wyborach powszechnych, a parlament jest bikameralny.

**Opis C.** To unitarne państwo jest republiką, w której głową państwa jest prezydent wybierany w wyborach powszechnych, a parlament jest bikameralny.

**Do każdej informacji o ustroju politycznym dopisz nazwę właściwego państwa i numer, którym oznaczono je na mapie.**

	Nazwa państwa	Numer na mapie
Opis A.		
Opis B.		
Opis C.		

### Zadanie 15. (0–1)

Z rozmowy z Rogerem Scrutonem

Istnieje pewna spójność społeczna, a religia jest ważnym elementem ją zapewniającym. Musimy zatem umacniać społeczeństwo świeckie i jednocześnie chronić wartości religijne [...]. Moim zdaniem powinniśmy uznać, że ludzie są niedoskonalimi i nie umieją stworzyć wartościowych rozwiązań dla swoich problemów. [...] Chcę, żeby rzeczy i świat toczyły się zgodnie z naturalnym porządkiem. I chcę, by ludzie szanowali prawo i porządek. By mieli szacunek dla tradycji, kultury, w której się urodzili.

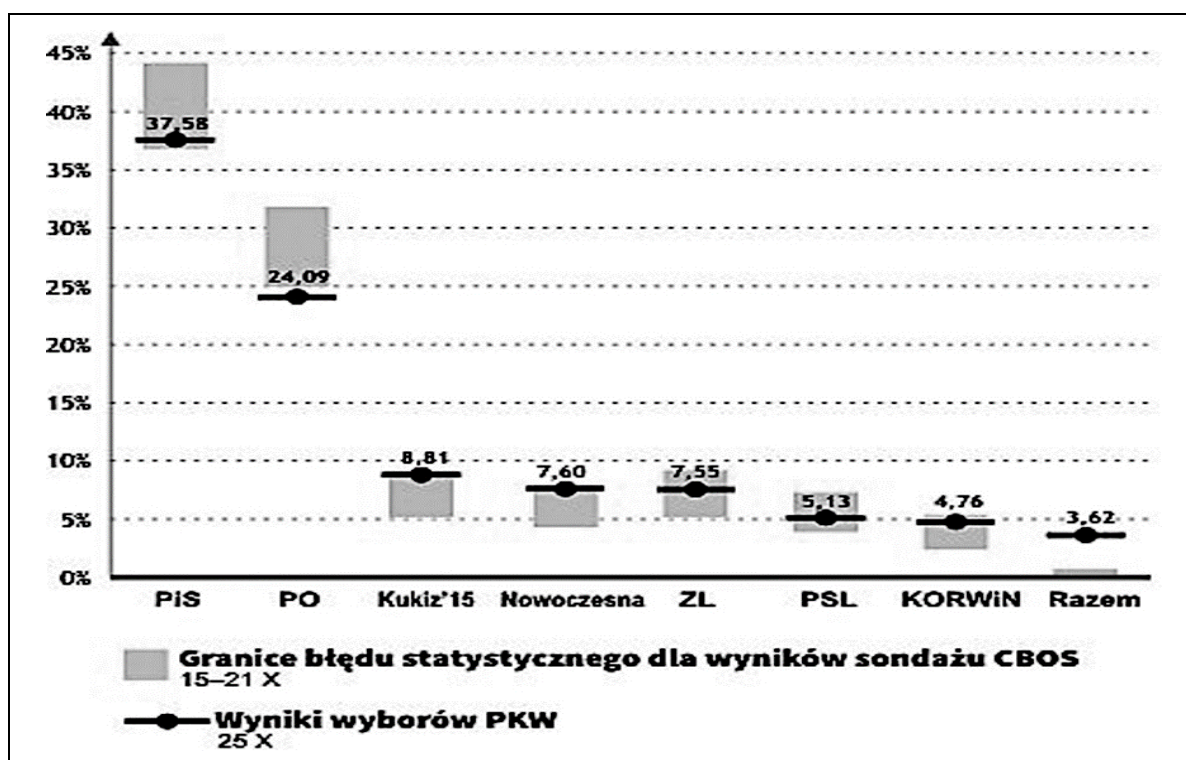
www.polskieradio.pl

Podaj nazwę nurtu myśli politycznej, której dotyczy tekst.

.....

### Zadanie 16. (0–1)

Wykres. Wyniki wyborów do Sejmu RP i rezultaty badań preferencji wyborczych w 2015 r.



Na podstawie: „CBOS News” 2015, nr 38.

Oceń, czy poniższe informacje są prawdziwe. Zaznacz P, jeśli informacja jest prawdziwa, albo F – jeśli jest fałszywa.

1.	KKW Zjednoczona Lewica przekroczył próg wyborczy wymagany dla tego typu komitetów wyborczych.	P	F
2.	Największa dysproporcja między uzyskanym wynikiem w wyborach a wynikiem prognozowanym w sondażu dotyczy KW Partii Razem.	P	F
3.	Wynik wyborów niższy niż dolna granica błędów statystycznych dotyczy dla przeprowadzonego sondażu wyłącznie KW Platformy Obywatelskiej RP.	P	F

### Zadanie 17. (0–2)

Przepisy prawne z *Kodeksu wyborczego* obowiązującego w Rzeczypospolitej Polskiej

Art. 232. [...] dokonuje [się] podziału mandatów pomiędzy uprawnione listy kandydatów w sposób następujący:

- 1) liczbę głosów ważnych oddanych na każdą z tych list w okręgu wyborczym dzieli się kolejno przez: 1; 2; 3; 4 i dalsze kolejne liczby aż do chwili, gdy z otrzymanych w ten sposób ilorazów da się uszeregować tyle kolejno największych liczb, ile wynosi liczba mandatów do rozdzielenia między te listy w okręgu;
- 2) każdej liście przyznaje się tyle mandatów, ile spośród ustalonego w powyższy sposób szeregu ilorazów przypada jej liczb kolejno największych.

Dz.U. 2011, nr 21, poz. 112, z późn. zm. (stan prawny na 7 maja 2020 r.).

Tabela. Wyniki wyborów w okręgu pięciomandatowym (100 głosów; sytuacja fikcyjna)

Ugrupowanie	Biali	Czerwoni	Zieloni	Niebiescy
Wynik uzyskany	38	32	17	13

#### 17.1. Zaznacz poprawne dokończenie zdania.

Przytoczone przepisy prawne dotyczą metody podziału mandatów nazywanej metodą

- A. większości względnej.
- B. większości bezwzględnej.
- C. proporcjonalną d'Hondta.
- D. proporcjonalną St. Laguë'a.

#### 17.2. Do każdej nazwy ugrupowania dopisz liczbę mandatów, które uzyskałoby ono w sytuacji ukazanej w tabeli i po zastosowaniu metody podziału mandatów przedstawionej w przytoczonych przepisach prawnych.

Biali – ..... Czerwoni – ..... Zieloni – ..... Niebiescy – .....

### Zadanie 18. (0–1)

Przepis prawny z *Konstytucji Rzeczypospolitej Polskiej*

Art. 144.2. Akty rządowe Prezydenta Rzeczypospolitej wymagają dla swojej ważności podpisu Prezesa Rady Ministrów, który przez podpisanie aktu ponosi odpowiedzialność przed Sejmem.

Dz.U. 1997, nr 78, poz. 483, z późn. zm. (stan prawny na 7 maja 2020 r.).

#### Zaznacz poprawne dokończenie zdania.

Przytoczony przepis prawny dotyczy

- A. desygnacji.
- B. promulgacji.
- C. prerogatywy.
- D. kontrasygnaty.

### Zadanie 19. (0–2)

Przepisy prawne z jednej z polskich konstytucji

Art. 29.1. Sejm, w wykonaniu prawa kontroli parlamentarnej nad działalnością Rządu, może żądać ustąpienia Rządu lub Ministra.

4. Jeżeli Senat wypowie się za wnioskiem uchwalonym przez Sejm, Prezydent Rzeczypospolitej odwoła Rząd lub Ministra, chyba że rozwiąże Sejm i Senat.

Ustawa [...], Dz.U. [...], nr 30, poz. 227.

**Podaj trzy różnice w procedurze solidarnej odpowiedzialności parlamentarnej rządu między rozwiązaniami z przytoczonych przepisów prawnych a przyjętymi w obecnie obowiązującej *Konstytucji RP*.**

- .....
- .....
- .....

### Zadanie 20. (0–1)

Ulotka



[www.slupca.pl](http://www.slupca.pl)

## Przepisy prawne dotyczące referendum lokalnego w Rzeczypospolitej Polskiej

Art. 2.2. Przedmiotem referendum gminnego może być również:

- 1) odwołanie wójta (burmistrza, prezydenta miasta);
- 2) samoopodatkowanie się mieszkańców na cele publiczne mieszczące się w zakresie zadań i kompetencji organów gminy.

Art. 55.1. Referendum jest ważne, jeżeli wzięło w nim udział co najmniej 30% uprawnionych do głosowania, z zastrzeżeniem ust. 2.

2. Referendum w sprawie odwołania organu jednostki samorządu terytorialnego pochodzącego z wyborów bezpośrednich jest ważne w przypadku, gdy udział w nim wzięło nie mniej niż 3/5 liczby biorących udział w wyborze odwoływanego organu.

Dz.U. 2000, nr 88, poz. 985, z późn. zm. (stan prawny na 7 maja 2020 r.).

**Wyjaśnij, odwołując się do odpowiedniego przepisu prawnego, dlaczego w ulotce wzywano do nieuczestniczenia w referendum.**

.....  
.....  
.....  
.....

### Zadanie 21. (0–2)

Przepisy prawne z *Konstytucji Rzeczypospolitej Polskiej*

Art. 229. W razie zewnętrznego zagrożenia państwa, zbrojnej napaści na terytorium Rzeczypospolitej Polskiej lub gdy z umowy międzynarodowej wynika zobowiązanie do wspólnej obrony przeciwko agresji, Prezydent Rzeczypospolitej na wniosek Rady Ministrów może wprowadzić stan (**A**) na części albo na całym terytorium państwa.

Art. 230.1. W razie zagrożenia konstytucyjnego ustroju państwa, bezpieczeństwa obywateli lub porządku publicznego, Prezydent Rzeczypospolitej na wniosek Rady Ministrów może wprowadzić, na czas oznaczony, nie dłuższy niż 90 dni, stan (**B**) na części albo na całym terytorium państwa.

Dz.U. 1997, nr 78, poz. 483, z późn. zm. (stan prawny na 8 kwietnia 2019 r.).

**21.1. Podaj nazwy stanów nadzwyczajnych, które w przytoczonych przepisach prawnych zostały zastąpione literami (A i B).**

stan A. – .....

stan B. – .....

**21.2. Na podstawie przytoczonych przepisów prawnych podaj różnice między wskazanymi w nich stanami nadzwyczajnymi.**

- .....
- .....

## Zadanie 22. (0–2)

O organach władzy sądowniczej w Rzeczypospolitej Polskiej

**Opis 1.** W tym sądzie jako wydział działa odrębna jednostka organizacyjna do spraw m.in. z zakresu ochrony konkurencji (sąd ochrony konkurencji i konsumentów).

**Opis 2.** Do kompetencji tego sądu należy rozpoznawanie kasacji oraz skargi kasacyjnej i nadzwyczajnej. Dzieli się on na izby, m.in. na Izbę Cywilną i Izbę Karną.

**Opis 3.** Sąd ten sprawuje „nadzór nad działalnością wojewódzkich sądów administracyjnych w zakresie orzekania w trybie określonym ustawami, a w szczególności rozpoznaje środki odwoławcze od orzeczeń tych sądów”.

Na podstawie: Dz.U. [...], nr 153, poz. 1269, z późn. zm.; Dz.U. [...], nr 50, poz. 331, z późn. zm.; Dz.U. [...], poz. 5, z późn. zm. (stan prawny na 7 maja 2020 r.).

**Do każdego opisu dopisz nazwę właściwego sądu.**

Opis 1. – ..... W .....

Opis 2. – .....

Opis 3. – .....

## Zadanie 23. (0–2)

Z komunikatu informującego o przebiegu procesu legislacyjnego

Projekt ustawy o zmianie ustawy *Prawo o szkolnictwie wyższym* został po konsultacjach społecznych skierowany do Sejmu RP jako projekt rządowy. Po pierwszym czytaniu został on skierowany do prac w Komisji Edukacji, Nauki i Młodzieży Sejmu RP. Po zakończeniu pracy Komisji rządowy projekt został skierowany do drugiego czytania. 4 lutego po przyjęciu sprawozdania Komisji i przegłosowaniu poprawek zgodnie z jej rekomendacją w trzecim czytaniu Sejm RP uchwalił ustawę o zmianie ustawy *Prawo o szkolnictwie wyższym*. Tekst ustawy uchwalonej przez Sejm RP został przekazany Marszałkowi Senatu RP. Senat RP wprowadził poprawki do ustawy. W kolejnym etapie ustawa została przekazana do podpisu Prezydentowi Rzeczypospolitej, który ją podpisał.

Na podstawie: [www.znp.zut.edu.pl](http://www.znp.zut.edu.pl)

**23.1. Podaj nazwę większości wymaganej do uchwalenia opisanej ustawy przez Sejm RP.**

.....

**23.2. Określ, który – obowiązkowy w zaprezentowanej sytuacji – etap w postępowaniu legislacyjnym został pominięty w tekście.**

.....

## Zadanie 24. (0–2)

Przepis prawny z jednego z kodeksów obowiązujących w Rzeczypospolitej Polskiej

Art. 1. § 1. Małżeństwo zostaje zawarte, gdy mężczyzna i kobieta jednocześnie obecni złożą przed kierownikiem urzędu stanu cywilnego oświadczenia, że wstępują ze sobą w związek małżeński.

Dz.U. [...], nr 9, poz. 59, z późn. zm. (stan prawny na 7 maja 2020 r.).

**24.1. Zaznacz poprawne dokończenie zdania.**

Kodeks, w którym został zamieszczony przytoczony przepis prawny, to

- A. *Kodeks cywilny.*
- B. *Kodeks rodzinny i opiekuńczy.*
- C. *Kodeks postępowania cywilnego.*
- D. *Kodeks postępowania administracyjnego.*

**24.2. Wymień warunki prawne, jakie muszą zostać spełnione, aby zawrzeć związek, którego dotyczy przytoczony przepis prawny.**

- .....
- .....

**Zadanie 25. (0–2)**

Fragment polskiego pisma procesowego

<p>Wnioskujący: Adam Abacki ul. Kwiatowa 89, 62-500 Konin</p> <p style="text-align: center;">WNIOSEK oskarżonego</p> <p>Wnoszę o ustanowienie mi ... <b>[2. NAZWA FUNKCJI OSOBY]</b> do postępowania. Jestem oskarżony o kradzież z włamaniem, tj. o czyn z art. 279 § 1 ... <b>[3. NAZWA AKTU PRAWNEGO]</b>. Znajduję się w trudnej sytuacji materialnej i nie jestem w stanie ponieść kosztów obrony bez uszczerbku niezbędnego dla utrzymania siebie i rodziny.</p>	<p>Konin, 19 czerwca 2018 r.</p> <p>Do ... <b>[1. NAZWA SĄDU]</b> w Koninie</p>
--	---

Na podstawie: www.[...].gov.pl

Fragment jednego z kodeksów obowiązujących w Rzeczypospolitej Polskiej

Art. 25 § 1. Sąd okręgowy orzeka w pierwszej instancji w sprawach o następujące przestępstwa:

- 1) o zbrodni [...];
- 2) o występki określone w art. 140–142, [...], art. 269, art. 278 § 1 i 2 w zw. z art. 294, art. 284 § 1 i 2 w zw. z art. 294 [...] Kodeksu [...].

Dz.U. [...], nr 89, poz. 555, z późn. zm. (stan prawny na 7 maja 2020 r.).

**Uzupełnij fragment wniosku oskarżonego – wpisz właściwe nazwy.**

Nazwa 1. – .....

Nazwa 2. – .....

Nazwa 3. – .....

## Zadanie 26. (0–2)

O wynagrodzeniu pracownika (sytuacja fikcyjna)

Po odliczeniu składek na ubezpieczenia społeczne oraz zaliczki na podatek dochodowy od osób fizycznych miesięczne wynagrodzenie Jana Kowalskiego wynosi 4000 złotych. W związku z zaliczką udzieloną przez pracodawcę jest z niego potrącana kwota 1000 złotych. Zgodnie z tytułem wykonawczym na zaspokojenie świadczeń alimentacyjnych od grudnia 2016 roku z wynagrodzenia ma być potrącana kwota 1500 złotych.

Przepisy prawne z *Kodeksu pracy* obowiązującego w Rzeczypospolitej Polskiej

Art. 87. § 1. Z wynagrodzenia za pracę – po odliczeniu składek na ubezpieczenia społeczne oraz zaliczki na podatek dochodowy od osób fizycznych [...] – podlegają potrąceniu tylko następujące należności:

1) sumy egzekwowane na mocy tytułów wykonawczych na zaspokojenie świadczeń alimentacyjnych; [...]

3) zaliczki pieniężne udzielone pracownikowi [...].

§ 2. Potrąceń dokonuje się w kolejności podanej w § 1.

§ 3. Potrącenia mogą być dokonywane w następujących granicach:

1) w razie egzekucji świadczeń alimentacyjnych – do wysokości trzech piątych wynagrodzenia;

2) w razie egzekucji innych należności lub potrącania zaliczek pieniężnych – do wysokości połowy wynagrodzenia.

§ 4. Potrącenia, o których mowa w § 1 pkt 2 i 3, nie mogą w sumie przekraczać połowy wynagrodzenia, a łącznie z potrąceniami, o których mowa w § 1 pkt 1 – trzech piątych wynagrodzenia. [...]

Dz.U. 1974, nr 24, poz. 141, z późn. zm. (stan prawny na 7 maja 2020 r.).

**26.1. Wyjaśnij pojęcie, które podkreślono w przytoczonym fragmencie *Kodeksu pracy*.**

.....  
.....  
.....

**26.2. Podaj wysokość wynagrodzenia, jakie zostało wypłacone we wskazanej sytuacji Janowi Kowalskiemu za grudzień 2016 roku.**

.....

## Zadanie 27. (0–2)

O europejskiej instytucji

Jest to wyjątkowy organ sądownictwa międzynarodowego. Został utworzony w 1959 roku, a jego siedziba mieści się w Strasburgu. Składa się z sędziów w liczbie równej liczbie państw członkowskich Rady Europy. Polskim sędzią jest od 2012 roku prof. Krzysztof Wojtyczek.

Na podstawie: strasbourg.gov.pl

**27.1. Podaj pełną polską nazwę międzynarodowej instytucji ochrony praw człowieka, której dotyczy tekst.**

.....



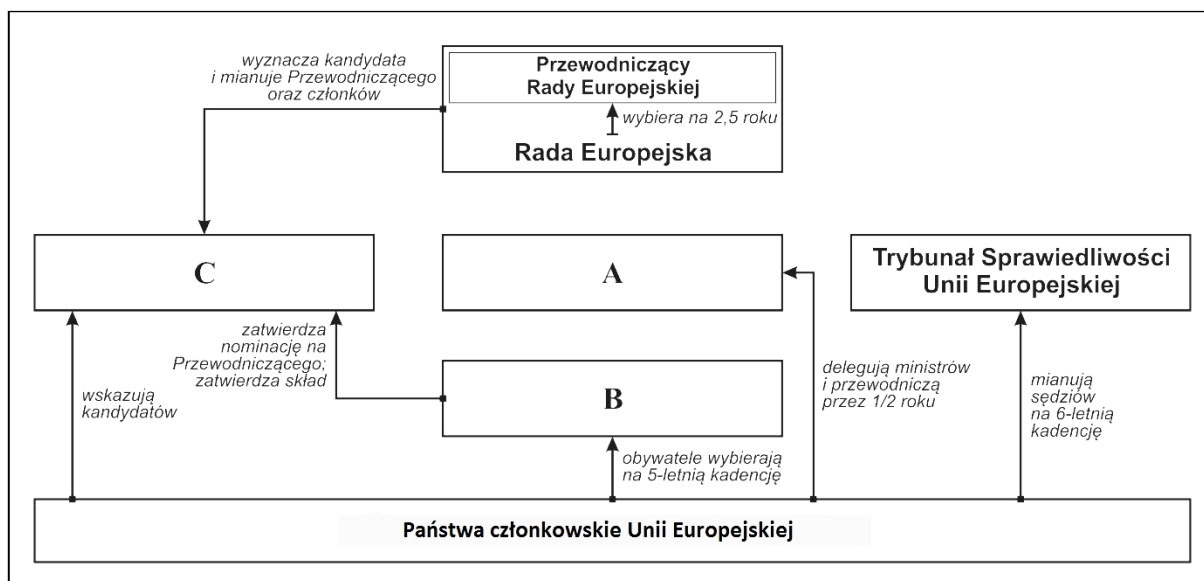
## 27.2. Zaznacz poprawne dokończenie zdania.

Dokument dotyczący ochrony praw człowieka, na podstawie którego orzeka instytucja opisana w tekście, to

- A. Europejska karta socjalna.
- B. Karta praw podstawowych.
- C. Międzynarodowy pakt praw obywatelskich i politycznych.
- D. Konwencja o ochronie praw człowieka i podstawowych wolności.

## Zadanie 28. (0–3)

Schemat. Fragment struktury instytucjonalnej Unii Europejskiej



Opracowanie własne.

### 28.1. Podaj pełne nazwy instytucji zaznaczonych na schemacie literami (A–C).

Nazwa A. – .....

Nazwa B. – .....

Nazwa C. – .....

### 28.2. Zaznacz poprawne dokończenie zdania.

Zaprezentowany schemat zaczął być właściwy dla struktury instytucjonalnej Unii Europejskiej po wejściu w życie traktatu z

- A. Amsterdamu.
- B. Lizbony.
- C. Maastricht.
- D. Nicei.

## Zadanie 29. (0–2)

### **Tekst 1.** O dyrektywie unijnej

Zgodnie z dyrektywą przestępstwem będzie wyjazd do stref konfliktu w celu przyłączenia się do organizacji terrorystycznej, a także powrót do [...] [państwa] UE z zamiarem dokonania ataku terrorystycznego. Za przestępstwo uznana będzie też [...] pomoc logistyczna i materialna w celu ułatwienia takich podróży, jak np. zakup biletów czy zaplanowanie trasy, a także odbycie szkolenia w celu dokonania ataku terrorystycznego, jak np. konstruowanie ładunków wybuchowych i broni, przygotowywanie trujących czy niebezpiecznych substancji.

wiadomosci.onet.pl

### **Tekst 2.** O niedoszłym występie na mistrzostwach świata

Adrian Solano miał reprezentować Wenezuelę na zimowych MŚ w Lahti, ale w tym przeszkadzili mu francuscy celnicy. [...] Zdaniem innego reprezentanta Wenezueli, przyczepili się do jego koloru skóry. [...] O tym, co spotkało biegacza, opowiadał inny reprezentant Wenezueli – Cesar Baena w rozmowie z dziennikiem „Expressen”. [...] – Nie miał przy sobie ani karty płatniczej, ani kredytowej. Miał tylko 20 euro. To wzbudziło spore podejrzenia. Gdy Adrian tłumaczył, że jedzie na mistrzostwa świata, w odpowiedzi usłyszał śmiech celników, którzy żartowali, że przecież w Wenezueli nie ma śniegu – mówił Baena. Solano został przeszukany, a później zapytany, czy nie jest terrorystą. Na lotnisku spędził pięć dni, a uwolniony został dopiero po interwencji dyplomatów z Wenezueli. Musiał jednak wrócić do swojej ojczyzny, przez co nie wystąpi na mistrzostwach świata.

sport.se.pl

**Odnosząc się do informacji z tekstu 2., rozważ słuszność wprowadzenia dyrektywy unijnej opisanej w tekście 1.**

Stanowisko – ..... (słuszna lub niesłuszna)

Argument potwierdzający stanowisko – .....

.....

.....

.....

Kontrargument wobec stanowiska – .....

.....

.....

.....

Krytyka kontrargumentu – .....

.....

.....

## Zadanie 30. (0–1)

O organizacji funkcjonującej w ramach systemu Narodów Zjednoczonych

Ta organizacja działa w celu wspierania międzynarodowej współpracy walutowej, zapewnienia stabilności finansowej, ułatwienia handlu międzynarodowego, promowania wysokiego

poziomu zatrudnienia i zrównoważonego wzrostu gospodarczego, jak również zmniejszenia ubóstwa na świecie. Zapewnia doradztwo w zakresie polityki i finansowanie państw członkowskich w trudnej sytuacji ekonomicznej, a także współpracuje z krajami rozwijającymi się, by pomóc im w osiągnięciu stabilności i zmniejszeniu ubóstwa.

Na podstawie: www.stat.gov.pl

**Podaj pełną polską nazwę organizacji, której dotyczy tekst.**

.....

### Zadanie 31. (0–2)

O wybranych konfliktach w państwach poradzieckich

**Opis A.** Na obszarze tego państwa doszło na początku lat 90. XX wieku do proklamowania separatystycznego państwa naddniestrzańskiego i wojny domowej, w której siły separatystów zostały wsparte przez armię rosyjską. Na obszarze separatystycznym – poza językiem państwowym – językami urzędowymi są rosyjski i ukraiński.

**Opis B.** Konflikt na obszarze tego państwa rozpoczął się jeszcze w okresie istnienia ZSRR. W konsekwencji wojny domowej i interwencji wojska ormiańskiego dawny obszar autonomiczny Górskiego Karabachu stał się organizmem separatystycznym mającym ściśle związki z Armenią.

Fragment mapy politycznej Europy i Azji



**Do każdego opisu konfliktu na obszarze danego państwa dopisz nazwę tego państwa i numer, którym oznaczono je na mapie.**

	Nazwa państwa	Numer na mapie
Opis A.		
Opis B.		

**Zadanie 32. (0–12)**

Wybierz jeden z podanych tematów i napisz wypracowanie.

**Temat 1.**

**Gmina (niebędąca miastem na prawach powiatu) jako wspólnota samorządowa w Rzeczypospolitej Polskiej – przedstaw zarówno zadania takiej gminy, w tym świadczone przez nią usługi społeczne, jak i sprawy, których załatwianie służy realizacji obowiązków i potrzeb członków wspólnoty.**

Fragment przemówienia Jana Pawła II do przedstawicieli władz samorządowych

[...] samorząd terytorialny, podejmując decyzje dotyczące miasta czy miejscowości, winien mieć na względzie w pierwszym rzędzie dobro mieszkańców – ich potrzeby, oczekiwania i perspektywy wszechstronnego rozwoju.

[www.centrumjp2.pl](http://www.centrumjp2.pl)

**Temat 2.**

**Porównaj możliwości działania większościowych koalicji rządowych oraz rządów mniejszościowych w Rzeczypospolitej Polskiej, odnosząc się do unormowań prawnych oraz praktyki ustrojowej XXI wieku.**

**Temat 3.**

**Przedstaw genezę i funkcjonowanie wskazanych w tekście systemów bezpieczeństwa międzynarodowego we współczesnej Europie.**

*Ze Strategii rozwoju systemu bezpieczeństwa narodowego Rzeczypospolitej Polskiej*

W skali kontynentu stale rośnie zakres i intensywność współpracy międzynarodowej, której solidne podstawy instytucjonalne dają Sojusz Północnoatlantycki, Unia Europejska, Organizacja Bezpieczeństwa i Współpracy w Europie (OBWE) [...].

[www.bbn.gov.pl](http://www.bbn.gov.pl)

**WYPRACOWANIE**  
**na temat nr .....**

.....

.....

.....

.....

.....

.....

.....

.....

.....

.....

Blank page with horizontal dotted lines for writing.

Blank page with horizontal dotted lines for writing.

Blank page with horizontal dotted lines for writing.

A series of horizontal dotted lines for writing, consisting of 20 lines spaced evenly down the page.



Blank page with horizontal dotted lines for writing.

# **BRUDNOPIS** (*nie podlega ocenie*)

Więcej arkuszy znajdziesz na stronie: [arkusze.pl](http://arkusze.pl)

Więcej arkuszy znajdziesz na stronie: [arkusze.pl](http://arkusze.pl)

Więcej arkuszy znajdziesz na stronie: [arkusze.pl](http://arkusze.pl)