

Nazwa kwalifikacji: **Wykonywanie usług krawieckich**

Oznaczenie kwalifikacji: **A.12**

Wersja arkusza: **X**

*Arkusz zawiera informacje prawnie chronione
do momentu rozpoczęcia egzaminu*

A.12-X-14.01

Czas trwania egzaminu: **60 minut**

Układ graficzny © CKE 2013

**EGZAMIN POTWIERDZAJĄCY KWALIFIKACJE W ZAWODZIE
Rok 2014
CZĘŚĆ PISEMNA**

Instrukcja dla zdającego

1. Sprawdź, czy arkusz egzaminacyjny zawiera 10 stron. Ewentualny brak stron lub inne usterki zgłoś przewodniczącemu zespołu nadzorującego.
2. Do arkusza dołączona jest KARTA ODPOWIEDZI, na której w oznaczonych miejscach:
 - wpisz oznaczenie kwalifikacji,
 - zamaluj kratkę z oznaczeniem wersji arkusza,
 - wpisz swój numer *PESEL**,
 - wpisz swoją datę urodzenia,
 - przyklej naklejkę ze swoim numerem *PESEL*.
3. Arkusz egzaminacyjny zawiera test składający się z 40 zadań.
4. Za każde poprawnie rozwiązane zadanie możesz uzyskać **1 punkt**.
5. Aby zdać część pisemną egzaminu musisz uzyskać co najmniej **20 punktów**.
6. Czytaj uważnie wszystkie zadania.
7. Rozwiązania zaznaczaj na KARCIE ODPOWIEDZI długopisem lub piórem z czarnym tuszem/atramentem.
8. Do każdego zadania podane są cztery możliwe odpowiedzi: A, B, C, D. Odpowiada im następujący układ krerek w KARCIE ODPOWIEDZI:

A	B	C	D
---	---	---	---

9. Tylko jedna odpowiedź jest poprawna.
10. Wybierz właściwą odpowiedź i zamaluj kratkę z odpowiadającą jej literą – np., gdy wybrałeś odpowiedź „A”:

■	B	C	D
---	---	---	---

11. Staraj się wyraźnie zaznaczać odpowiedzi. Jeżeli się pomylisz i błędnie zaznaczysz odpowiedź, otocz ją kółkiem i zaznacz odpowiedź, którą uważasz za poprawną, np.

⊙	B	C	■
---	---	---	---

12. Po rozwiązaniu testu sprawdź, czy zaznaczyłeś wszystkie odpowiedzi na KARCIE ODPOWIEDZI i wprowadziłeś wszystkie dane, o których mowa w punkcie 2 tej instrukcji.

Pamiętaj, że oddajesz przewodniczącemu zespołu nadzorującego tylko KARTĘ ODPOWIEDZI.

Powodzenia!

* w przypadku braku numeru *PESEL* – seria i numer paszportu lub innego dokumentu potwierdzającego tożsamość

Zadanie 1.

Obwód klatki piersiowej przez piersi zapisuje się za pomocą symbolu

- A. obt
- B. opx
- C. XIXI
- D. XcXc

Zadanie 2.

Pomiary dokonywane w dowolnym kierunku szerokości lub długości po liniach krzywych, to

- A. łuki
- B. odcinki.
- C. obwody.
- D. głębokości.

Zadanie 3.

Poziomo, w miejscu największego przewężenia tułowia mierzymy obwód

- A. szyi.
- B. pasa.
- C. klatki piersiowej przez piersi.
- D. bioder z uwzględnieniem wypukłości brzucha.

Zadanie 4.

Dla potrzeb krawiectwa miarowego pomiaru wysokości krocza dokonuje się przy pomocy

- A. tablicy pomiarowej i antropometru.
- B. antropometru i linijki długości 50 cm.
- C. taśmy centymetrowej i tablicy pomiarowej.
- D. taśmy centymetrowej i linijki długości 50 cm.

Zadanie 5.

Którą z wymienionych tkanin przeznaczysz do wykonania bielizny niemowlęcej np. kaftanika?

- A. Taftę.
- B. Batyst.
- C. Flausz.
- D. Drelich.

Zadanie 6.

Rękawówka – podszewka o przeznaczeniu specjalnym, stosowana do wykańczania rękawów np. w marynarkach męskich, to tkanina

- A. z elany o splocie płóciennym tkana w kratę.
- B. z jedwabiu wiskozowego o splocie płóciennym.
- C. bawełniana o splocie skośnym łamanym lub skośnym wzmocnionym.
- D. z jedwabiu wiskozowego o splocie atlasowym, tkana w białe i czarne paski.

Zadanie 7.

Czynniki wpływające na własności użytkowe tkanin to:

- A. śliskość, strzępienie się, właściwości termiczne.
- B. odporność na ścieranie, wytrzymałość na rozciąganie.
- C. higroskopijność, przepuszczalność powietrza, właściwości cieplne.
- D. trwałość wymiarów, odporność na zagniecenia, odporność na zmechacenia.

Zadanie 8.

Oblicz, zużycie materiału do wykonania jednorzędowego żakietu z gładkiej tkaniny wełnianej o szerokości 140 cm dla klientki, której wymiary wynoszą:

- A. 123 cm
- B. 135 cm
- C. 188 cm
- D. 207 cm

obwód klatki piersiowej – 92 cm
obwód bioder – 96 cm
długość żakietu – 65 cm
długość rękawa – 58 cm

Zadanie 9.

Kształt części powierzchni wyrobu odzieżowego zgodny z projektem, a powstały w wyniku modelowania, to

- A. układ kroju.
- B. forma modelowa.
- C. rysunek modelowy.
- D. szablon podstawowy.

Zadanie 10.

Wykonując szablon należy wyznaczyć dodatki na szwy i podwinięcia. Wielkość tych dodatków zależy od

- A. rodzaju odzieży i typu sylwetki.
- B. typu sylwetki i rodzaju materiału.
- C. rodzaju materiału i sposobu łączenia elementów.
- D. funkcji odzieży i obowiązujących kierunków mody.

Zadanie 11.

Jaka jest wielkość dodatku na szew, w kołnierzu bluzki z tkaniny bawełnianej?

- A. 0,1 cm
- B. 0,5 cm
- C. 1,5 cm
- D. 2,5 cm

Zadanie 12.

Układ linii konstrukcyjnych, w którym odcinki między punktami konstrukcyjnymi oznaczone symbolami określają wielkość odzieży, to

- A. konstrukcja odzieży.
- B. forma konstrukcyjna.
- C. siatka konstrukcyjna.
- D. standard konstrukcji.

Zadanie 13.

Wykonując modelowanie sukni damskiej princeski, konstrukcyjną zaszewkę piersiową należy przenieść na linię

- A. barku.
- B. boku.
- C. podkroju szyi.
- D. podkroju pachy.

Zadanie 14.

Określ podstawowe wymiary do wykonania konstrukcji i modelowania spódnicy z połowy koła.

- A. Obwód bioder, obwód pasa.
- B. Wysokość talii, obwód pasa.
- C. Obwód pasa, długość spódnicy.
- D. Wysokość kolana, obwód bioder.

Zadanie 15.

Wyznacz szerokość zaszewki boku w spódnicy podstawowej dla klientki o wymiarach: obwód pasa = 72,0 cm, obwód bioder = 96,0 cm.

- A. 8 cm
- B. 6 cm
- C. 2 cm
- D. 4 cm

Zadanie 16.

Kołnierzem, którego konstrukcja oparta jest na podstawie wykreślonego kąta prostego jest kołnierz

- A. szalowy.
- B. marynarski.
- C. okrągły be-be.
- D. koszulowy na stójce.

Zadanie 17.

W celu sporządzenia prawidłowego układu kroju na tkaninie z okrywą włosową, szablon należy ułożyć

- A. w jednym kierunku; dopuszczalne są odchylenia od nitki prostej.
- B. w dwóch kierunkach; dopuszczalne są odchylenia od nitki prostej.
- C. w jednym kierunku; oznaczona na szablonach nitka prosta powinna być ułożona równolegle do nitek osnowy.
- D. w dwóch kierunkach, oznaczona na szablonach nitka prosta powinna być ułożona równolegle do nitek osnowy.

Zadanie 18.


Dwukierunkowy układ szablonów można zastosować do krojenia tkaniny

- A. wełnianej z długim włosem.
- B. jedwabnej z wyraźnym połyskiem.
- C. podszewkowej o splocie płóciennym.
- D. bawełnianej o asymetrycznym wzorze.

Zadanie 19.

Jaki ścieg maszynowy przedstawiono na rysunku?

- A. Stębnowy prosty dwunitkowy.
- B. Stębnowy zygzakowy dwunitkowy.
- C. Łańcuszkowy obrzucający trzynitkowy.
- D. Łańcuszkowy jednoigłowy dwunitkowy.



Zadanie 20.

Dziurkę w płaszczu z tkaniny wełnianej wykonasz na

- A. dziurkarce bieliźnianej.
- B. stębnówce dwuigłowej.
- C. dziurkarce odzieżowej.
- D. stębnówce zygzakowej.

Zadanie 21.

Do oprzyrządowania stębnówki **nie należy**


- A. zwijacz.
- B. lamownik.
- C. linijka magnetyczna.
- D. podkładka teflonowa.

Zadanie 22.

Którą ze stoppek stosuje się do wszywania zamków błyskawicznych?



A.



B.



C.



D.

Zadanie 23.

Przyczyną niewłaściwego wiązania ściegu maszynowego jest

- A. nieprawidłowo dobrany docisk stopki.
- B. wyszczerbiony otwór w płytce ściegowej.
- C. regulator długości ściegu ustawiony na zero.
- D. niewłaściwe naprężenie nitki dolnej lub górnej.

Zadanie 24.

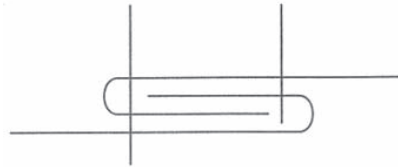
Szew obrzucający jest szwem

- A. łączącym.
- B. klejonym.
- C. brzegowym.
- D. zgrzewanym.

Zadanie 25.

Rysunek przedstawia graficzny schemat szwu

- A. zwykłego.
- B. francuskiego.
- C. bieliźnianego.
- D. wpuszczanego.



Zadanie 26.

Przygotowując bluzkę do pierwszej miary należy

- A. zszyć na maszynie oraz rozprasować zaszewki, szwy i rękawy.
- B. zszyć zaszewki, sfastrygować szwy modelowe oraz lewy rękaw.
- C. sfastrygować zaszewki, szwy modelowe, ramiona oraz prawy rękaw.
- D. sfastrygować zaszewki, szwy modelowe oraz przyfastrygować kołnierz.

Zadanie 27.

Które czynności podczas szycia spodni wykończonych w talii paskiem z podtrzymywaczami, należy wykonać jako pierwsze?

- A. Wszyć pasek i podtrzymywacze.
- B. Wszyć zamek błyskawiczny z listewką.
- C. Zszyć zaszewki, szwy boczne i wewnętrzne nogawek.
- D. Zszyć zaszewki, naszyć kieszenie, wszyć pasek i zamek błyskawiczny.

Zadanie 28.

Obróbka klejowa odzieży polegająca na łączeniu z wkładem klejowym drobnych elementów w celu uzyskania usztywnienia i stabilizacji kształtów, to technika

- A. małych wklejek.
- B. tymczasowych połączeń.
- C. wkładów sztywnikowych.
- D. klejowych wkładów konstrukcyjnych.

Zadanie 29.

Stanowisko do prasowania ręcznego oprócz deski do prasowania i żelazka jest wyposażone również w

- A. prasę płytową i zaparzaczkę.
- B. rękawnik i poduszki do prasowania.
- C. prasulce, nożyczki i taśmę centymetrową.
- D. manekin parowo-powietrzny i szczotkę do prasowania.

Zadanie 30.

Zalecana temperatura żelazka do prasowania tkanin z jedwabiu naturalnego wynosi

- A. 280÷300°C
- B. 180÷220°C
- C. 140÷160°C
- D. 115÷140°C

Zadanie 31.

W celu zapobieżenia kurczeniu się odzieży w procesie obróbki i użytkowania, tkaninę poddajemy

- A. sprasowaniu.
- B. dekatyzowaniu.
- C. odprasowaniu.
- D. zaprasowaniu.

Zadanie 32.

Sprawdzanie ogólnej estetyki ubioru, prawidłowego rozmieszczenia dziurek i staranności prasowania to elementy kontroli

- A. form i wykrojów.
- B. międzyoperacyjnej.
- C. gotowego wyrobu odzieżowego.
- D. wykonania elementów odzieży.

Zadanie 33.

Który ze znaków określających warunki prasowania oznacza: *maksymalna temperatura prasowania 110°C*?



A.



B.



C.



D.

Zadanie 34.

Skład surowcowy tkanin można rozpoznać na podstawie koloru nitek w kraje. Wełna i włókna wełniane oznacza się za pomocą nitek w kolorze

- A. żółtym.
- B. zielonym.
- C. niebieskim.
- D. czerwonym.

Zadanie 35.

Podstawową przyczyną powstawania fałd poziomych na główce rękawa jest zbyt

- A. szeroki rękaw.
- B. długie ramię bluzki.
- C. głęboki podkrój pachy.
- D. wysoka główka rękawa.

Zadanie 36.

Spódnica prosta zapinana z tyłu na zamek błyskawiczny i wykończona paskiem jest za szeroka w pasie o 3 cm, a w biodrach o 4 cm. W celu dopasowania spódnicy do figury klientki należy:

- A. odpruć pasek, pogłębić zaszewki w przodzie i w tyle, skrócić pasek, wszyć pasek do spódnicy.
- B. odpruć pasek, zwęzić spódnice w szwach bocznych na odcinku od linii talii do linii bioder, wszyć pasek do spódnicy.
- C. odpruć pasek, zwęzić spódnice w szwach bocznych na całej długości, skrócić pasek i wszyć pasek do spódnicy.
- D. odpruć pasek w tyle spódnicy, wypruć zamek błyskawiczny, zwęzić spódnice w szwie środkowym tyłu, wszyć zamek i pasek do spódnicy.

Zadanie 37.

Do wykończenia dołu rękawa bluzki wizytowej w celu wydłużenia zbyt krótkiego rękawa można zastosować

- A. obręb.
- B. falbankę.
- C. lamówkę.
- D. ściąg dziergany.

Zadanie 38.

W celu wykonania przeróbki spódnicy lnianej, w której tworzą się poprzeczne fałdy w przodzie, należy

- A. skrócić przód na linii dołu.
- B. pogłębić podkrój przodu na linii pasa.
- C. poszerzyć przód i tył na linii pasa i bioder.
- D. pogłębić podkrój tyłu i przodu na linii pasa.



Zadanie 39.

Naprawa błędu w postaci fałd zachodzących na siebie w dole spódnicy polega na

- A. sprasowaniu kantów fałd.
- B. podwyższeniu linii pasa z przodu.
- C. pogłębieniu podkroju pasa z przodu.
- D. wypuszczeniu zapasu w szwie bocznym.



Zadanie 40.

Jaki jest koszt wykonania usługi polegającej na skróceniu spódnicy i wymianie podszewki w spódnicy, jeśli podszewka do punktu usługowego została dostarczona przez klientkę?

- A. 25 zł
- B. 30 zł
- C. 40 zł
- D. 50 zł

Cennik usług krawieckich			
Skracanie		Wymiana podszewki	
spódnica	15 zł	spódnica	25 zł + materiał
spodnie	20 zł	żakiet	80 zł + materiał
rękawy	30 zł	kurtka	80 zł + materiał

