

Nazwa kwalifikacji: **Prowadzenie działalności handlowej**

Oznaczenie kwalifikacji: **A.22**

Wersja arkusza: **X**

*Arkusz zawiera informacje prawnie chronione
do momentu rozpoczęcia egzaminu*

A.22-X-13.10

Czas trwania egzaminu: **60 minut**

Układ graficzny © CKE 2013

EGZAMIN POTWIERDZAJĄCY KWALIFIKACJE W ZAWODZIE

Rok 2013

CZĘŚĆ PISEMNA

Instrukcja dla zdającego

1. Sprawdź, czy arkusz egzaminacyjny zawiera 12 stron. Ewentualny brak stron lub inne usterki zgłoś przewodniczącemu zespołu nadzorującego.
2. Do arkusza dołączona jest KARTA ODPOWIEDZI, na której w oznaczonych miejscach:
 - wpisz oznaczenie kwalifikacji,
 - zamaluj kratkę z oznaczeniem wersji arkusza,
 - wpisz swój numer *PESEL**,
 - wpisz swoją datę urodzenia,
 - przyklej naklejkę ze swoim numerem *PESEL*.
3. Arkusz egzaminacyjny zawiera test składający się z 40 zadań.
4. Za każde poprawnie rozwiązane zadanie możesz uzyskać **1 punkt**.
5. Aby zdać część pisemną egzaminu musisz uzyskać co najmniej **20 punktów**.
6. Czytaj uważnie wszystkie zadania.
7. Rozwiązania zaznaczaj na KARCIE ODPOWIEDZI długopisem lub piórem z czarnym tuszem/atramentem.
8. Do każdego zadania podane są cztery możliwe odpowiedzi: A, B, C, D. Odpowiada im następujący układ kratek w KARCIE ODPOWIEDZI:

A	B	C	D
---	---	---	---

9. Tylko jedna odpowiedź jest poprawna.
10. Wybierz właściwą odpowiedź i zamaluj kratkę z odpowiadającą jej literą – np., gdy wybrałeś odpowiedź „A”:

■	B	C	D
---	---	---	---

11. Staraj się wyraźnie zaznaczać odpowiedzi. Jeżeli się pomylisz i błędnie zaznaczysz odpowiedź, otocz ją kółkiem i zaznacz odpowiedź, którą uważasz za poprawną, np.

⊙	B	C	■
---	---	---	---

12. Po rozwiązaniu testu sprawdź, czy zaznaczyłeś wszystkie odpowiedzi na KARCIE ODPOWIEDZI i wprowadziłeś wszystkie dane, o których mowa w punkcie 2 tej instrukcji.

Pamiętaj, że oddajesz przewodniczącemu zespołu nadzorującego tylko KARTĘ ODPOWIEDZI.

Powodzenia!

* w przypadku braku numeru *PESEL* – seria i numer paszportu lub innego dokumentu potwierdzającego tożsamość

Zadanie 1.

Przedsiębiorstwo Handlu Hurtowego *BOM* otrzymało wyciąg bankowy nr 12/06 z dnia 10.06.2013 r. Saldo końcowe na rachunku bieżącym wynosi

Przedsiębiorstwo Handlu Hurtowego <i>BOM</i> 38-200 Jasło ul. Szkolna 2		Bank BPH O/Jasło ul. Zamkowa 6 Nr. R-ku: 57 1069 0076 0000 3000 0843 6836		
WYCIĄG BANKOWY		Nr 12/06	z dnia	10.06.2013 r.
saldo początkowe z dnia 09.06.2013 r.				20 000,00
L.p.	Data operacji	Opis operacji	Kwota obciążenia	Kwota uznania
1.	10.06.2013 r.	wpływ utargu od MAX sp. z o.o.		3 000,00
2.	10.06.2013 r.	realizacja czeku gotówkowego nr 102003304050	5 600,00	
3.	10.06.2013 r.	wpływ należności od P.P."ROMIKS"		6 000,00
4.	10.06.2013 r.	splata zobowiązań wobec Z.P. MIR	3 400,00	
5.	10.06.2013 r.	prowizja za przelew	10	
saldo końcowe z dnia 10.06.2013 r.			zł
				stempel banku [XXXX]

- A. 20 000,00 zł
- B. 19 990,00 zł
- C. 9 010,00 zł
- D. 9 000,00 zł

Zadanie 2.

Jaka forma sprzedaży jest najbardziej odpowiednia przy sprzedaży wyrobów jubilerskich?

- A. Komisowa.
- B. Tradycyjna.
- C. Bezpośrednia.
- D. Preselekcyjna.

Zadanie 3.

Oblicz wielkość zapasu minimalnego proszku do prania „PUCUŚ”, jeżeli średnia dzienna sprzedaż wynosi 12 szt., zgodnie z harmonogramem dostawy odbywają się co 8 dni, a opóźnienia w dostawach nie przekraczają 4 dni.

- A. 12 szt.
- B. 24 szt.
- C. 48 szt.
- D. 56 szt.

Zadanie 4.

Podczas inwentaryzacji w hurtowni materiałów budowlanych rozliczono niedobór wynikający z przyczyn losowych. Jak należy zaewidencjonować ten niedobór?

- A. Wn Wyroby gotowe, Ma Straty nadzwyczajne.
- B. Wn Koszty sprzedaży, Ma Straty nadzwyczajne.
- C. Wn Straty nadzwyczajne, Ma Rozliczenie niedoborów i szkód.
- D. Wn Pozostałe koszty operacyjne, Ma Rozliczenie niedoborów i szkód.

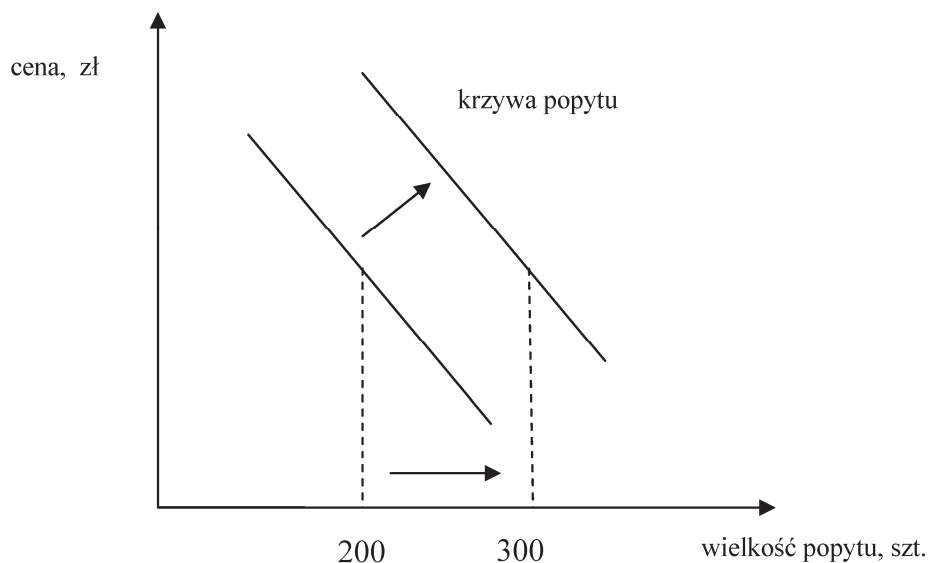
Zadanie 5.

Oblicz wysokość miesięcznej zaliczki na podatek dochodowy, jaką powinien odprowadzić do urzędu skarbowego sklep z zabawkami „BAJKA”, jeżeli przychody sklepu wyniosły 13 100,00 zł, koszty ich uzyskania 10 200,00 zł, a podatek dochodowy od osób prawnych wynosi 19%.

- A. 551,00 zł
- B. 1 938,00 zł
- C. 2 489,00 zł
- D. 3 451,00 zł

Zadanie 6.

Dokonano analizy kształtowania się popytu na telewizory marki „LUNA” w pierwszym kwartale bieżącego roku. Wyniki przedstawiono na załączonym wykresie. Które z wymienionych zjawisk może być przyczyną zachowań konsumentów?



- A. Ograniczenie wydatków na reklamę.
- B. Spadek siły nabywczej konsumentów.
- C. Korzystne warunki kredytowania sprzedaży.
- D. Pojawienie się na rynku dobra substytucyjnego.

Zadanie 7.

W jaki sposób należy zaksięgować transakcję zakupu lamp sufitowych, udokumentowaną fakturą z odroczonym terminem płatności, o wartości netto 3 500,00 zł, opodatkowanej stawką podstawową VAT 23%?

A.	<table><thead><tr><th colspan="2">Rozrachunki z dostawcami i odbiorcami</th></tr></thead><tbody><tr><td>3 500,00</td><td> </td></tr></tbody></table>	Rozrachunki z dostawcami i odbiorcami		3 500,00		<table><thead><tr><th colspan="2">Rozliczenie zakupu towarów</th></tr></thead><tbody><tr><td> </td><td>4 305,00</td></tr></tbody></table>	Rozliczenie zakupu towarów			4 305,00	<table><thead><tr><th colspan="2">Rozrachunki z tytułu podatku VAT</th></tr></thead><tbody><tr><td>805,00</td><td> </td></tr></tbody></table>	Rozrachunki z tytułu podatku VAT		805,00	
Rozrachunki z dostawcami i odbiorcami															
3 500,00															
Rozliczenie zakupu towarów															
	4 305,00														
Rozrachunki z tytułu podatku VAT															
805,00															
B.	<table><thead><tr><th colspan="2">Rozrachunki z dostawcami i odbiorcami</th></tr></thead><tbody><tr><td>4 305,00</td><td> </td></tr></tbody></table>	Rozrachunki z dostawcami i odbiorcami		4 305,00		<table><thead><tr><th colspan="2">Rozliczenie zakupu towarów</th></tr></thead><tbody><tr><td> </td><td>3 500,00</td></tr></tbody></table>	Rozliczenie zakupu towarów			3 500,00	<table><thead><tr><th colspan="2">Rozrachunki z tytułu podatku VAT</th></tr></thead><tbody><tr><td> </td><td>805,00</td></tr></tbody></table>	Rozrachunki z tytułu podatku VAT			805,00
Rozrachunki z dostawcami i odbiorcami															
4 305,00															
Rozliczenie zakupu towarów															
	3 500,00														
Rozrachunki z tytułu podatku VAT															
	805,00														
C.	<table><thead><tr><th colspan="2">Rozrachunki z dostawcami i odbiorcami</th></tr></thead><tbody><tr><td> </td><td>4 305,00</td></tr></tbody></table>	Rozrachunki z dostawcami i odbiorcami			4 305,00	<table><thead><tr><th colspan="2">Rozliczenie zakupu towarów</th></tr></thead><tbody><tr><td>3 500,00</td><td> </td></tr></tbody></table>	Rozliczenie zakupu towarów		3 500,00		<table><thead><tr><th colspan="2">Rozrachunki z tytułu podatku VAT</th></tr></thead><tbody><tr><td>805,00</td><td> </td></tr></tbody></table>	Rozrachunki z tytułu podatku VAT		805,00	
Rozrachunki z dostawcami i odbiorcami															
	4 305,00														
Rozliczenie zakupu towarów															
3 500,00															
Rozrachunki z tytułu podatku VAT															
805,00															
D.	<table><thead><tr><th colspan="2">Rozrachunki z dostawcami i odbiorcami</th></tr></thead><tbody><tr><td> </td><td>3 500,00</td></tr></tbody></table>	Rozrachunki z dostawcami i odbiorcami			3 500,00	<table><thead><tr><th colspan="2">Rozliczenie zakupu towarów</th></tr></thead><tbody><tr><td>4 305,00</td><td> </td></tr></tbody></table>	Rozliczenie zakupu towarów		4 305,00		<table><thead><tr><th colspan="2">Rozrachunki z tytułu podatku VAT</th></tr></thead><tbody><tr><td> </td><td>805,00</td></tr></tbody></table>	Rozrachunki z tytułu podatku VAT			805,00
Rozrachunki z dostawcami i odbiorcami															
	3 500,00														
Rozliczenie zakupu towarów															
4 305,00															
Rozrachunki z tytułu podatku VAT															
	805,00														

Zadanie 8.

Przedsiębiorstwo odnawia zapas towarów co 15 dni. Jeżeli wielkość sprzedaży w kwartale wynosi 120 000 zł oznacza to, że

- A. zapas końcowy wynosi 20 000 zł.
- B. zapas przeciętny wynosi 20 000 zł.
- C. zapas początkowy wynosi 20 000 zł.
- D. zapas maksymalny wynosi 20 000 zł.

Zadanie 9.

Hurtownia odzieżowa sprzedała 200 szt. swetrów po 40,00 zł brutto. Jaka jest wartość faktury brutto, jeśli naliczone przez hurtownię koszty transportu wynosiły netto 163,00 zł, a stawka VAT na koszty transportu wynosi 23%?

- A. 8 000,00 zł
- B. 8 163,49 zł
- C. 8 200,49 zł
- D. 8 300,00 zł

Zadanie 10.

Podczas negocjowania ceny, każda ze stron odniosła częściowe korzyści i poniosła częściowe straty w celu osiągnięcia porozumienia. Jaki styl negocjacji został zastosowany?

- A. Unikanie.
- B. Kompromis.
- C. Dominacja.
- D. Dostosowanie.

Zadanie 11.

Obrót pomiędzy kolejnymi inwentaryzacjami w sklepie ogólnospożywczym wyniósł 58 000,00 zł. Górna granica niedoboru naturalnego uznanego za dopuszczalny została ustalona dla tego sklepu na poziomie 0,5%, a wartość niedoboru niezawinionego, stwierdzona podczas inwentaryzacji, wyniosła 386,00 zł. Jaką kwotę będą musieli wpłacić pracownicy sklepu materialnie odpowiedzialni po rozliczeniu inwentaryzacji?

- A. 96,00 zł
- B. 194,00 zł
- C. 290,00 zł
- D. 386,00 zł

Zadanie 12.

Dokonano zestawienia ilości sprzedanych jabłek LOBO w ciągu trzech kolejnych tygodni. Którą miarę należy zastosować, aby uzyskać informacje o zmianie wielkości sprzedaży jabłek w III tygodniu w porównaniu do II tygodnia i w II tygodniu w odniesieniu do I tygodnia?

- A. Wskaźnik struktury.
- B. Indeksy łańcuchowe.
- C. Średnią arytmetyczną.
- D. Indeksy o podstawie stałej.

L.p.	rodzaj asortymentu	I tydzień	II tydzień	III tydzień
1.	Jabłka LOBO	140 kg	152 kg	150 kg

Zadanie 13.

Umieszczenie w materiałach marketingowych faktury, sugerującej obowiązek zapłaty, który wywołuje u konsumenta wrażenie, że już zamówił reklamowany produkt mimo, że tego nie zrobił, jest przejawem

- A. nieuczciwej praktyki rynkowej.
- B. niejednorodnych warunków umowy.
- C. nadużywania pozycji dominującej.
- D. zaniechania wprowadzającego w błąd.

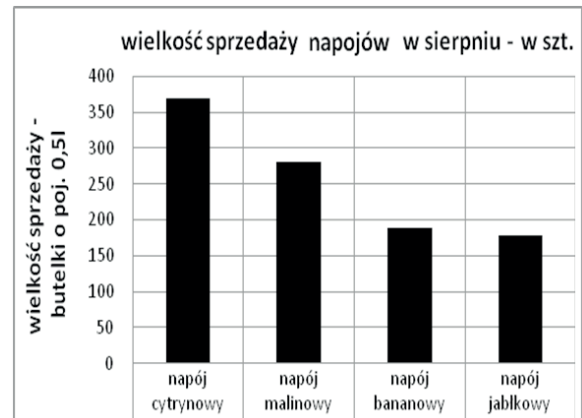
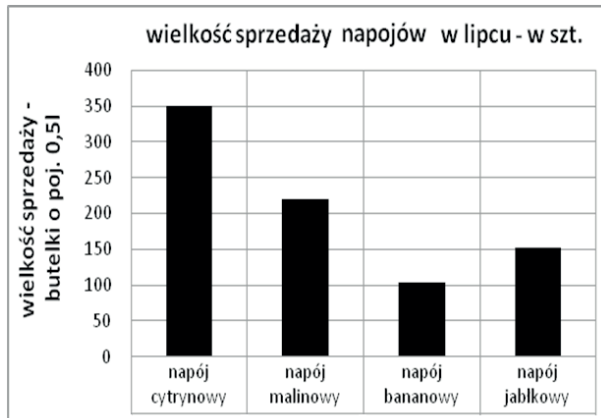
Zadanie 14.

Zgodnie z art. 6 ust.1 ustawy o rachunkowości przedsiębiorstwo handlowe ma obowiązek ujmowania w księgach rachunkowych wszystkich przychodów i kosztów dotyczących danego roku obrotowego, niezależnie od terminu ich zapłaty, zgodnie z zasadą

- A. memoriału.
- B. ostrożności.
- C. periodyzacji.
- D. współmierności.

Zadanie 15.

Agencja marketingowa przeprowadziła badania dotyczące zmian wielkości popytu na napoje, mając na celu dostosowanie struktury oferowanych do sprzedaży towarów do potrzeb klientów. Największą zmianę popytu zaobserwowano na napój



- A. jabłkowy.
- B. malinowy.
- C. bananowy.
- D. cytrynowy.

Zadanie 16.

Przedsiębiorstwo handlowe ma w swojej ofercie towar w fazie wprowadzenia na rynek. W celu wywołania u konsumentów potrzeby zakupu tego towaru przedsiębiorstwo powinno zastosować instrumenty reklamowe, które przede wszystkim pełnią funkcję

- A. przypominającą.
- B. informacyjną.
- C. nakłaniającą.
- D. edukacyjną.

Zadanie 17.

Do wystawienia dowodu księgowego Pz w wersji elektronicznej, należy wykorzystać program komputerowy do sporządzania dokumentów

- A. sprzedaży.
- B. finansowych.
- C. podatkowych.
- D. magazynowych.

Zadanie 18.

Oblicz wynik finansowy brutto sklepu z artykułami AGD na podstawie przedstawionych w tabeli danych z ewidencji księgowej na koniec roku obrotowego.

- A. 48 310,00 zł
- B. 49 490,00 zł
- C. 51 010,00 zł
- D. 52 970,00 zł

- przychody netto ze sprzedaży towarów	- 146 200,00 zł
- wartość sprzedanych towarów według cen zakupu	- 83 100,00 zł
- koszty handlowe	- 17 400,00 zł
- pozostałe przychody operacyjne	- 4 180,00 zł
- odsetki od środków na rachunku bankowym	- 1 350,00 zł
- zapłacona prowizja od otrzymanego kredytu	- 980,00 zł
- zyski nadzwyczajne	- 760,00 zł

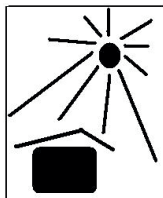
Zadanie 19.

Duża sieć sklepów z artykułami papierniczymi i urządzeniami biurowymi planuje przeprowadzić różne działania reklamowe. Który zestaw narzędzi powinna zastosować?

Zestaw A.	Zestaw B.	Zestaw C.	Zestaw D.
- prezentacja produktów - kontakty z nabywcami - udział w targach - poszukiwanie nabywców	- nagłośnienie informacji o firmie - sponsorowanie - organizowanie imprez	- obniżanie cen - sprzedaż wiązana - konkursy - upominki	- spoty telewizyjne - bilbordy - katalogi i prospekty - ogłoszenia prasowe

Zadanie 20.

Który z podanych znaków należy umieścić na opakowaniu zbiorczym, wysyłanym do odbiorcy serwisów obiadowych z porcelany?



A.



B.



C.



.

Zadanie 21.

Zgłoszona przez klienta niezgodność jakości zakupionego towaru z jakością deklarowaną w umowie sprzedaży wymaga sporządzenia przez sprzedawcę

- A. aneksu do umowy.
- B. karty gwarancyjnej.
- C. protokołu zgłoszenia.
- D. zgłoszenia reklamacyjnego.

Zadanie 22.

Właściciel sklepu sportowego zamierza rozszerzyć asortyment o kijki do uprawiania „nordic walking” i zakupić jednorazowo 100 szt. produktu. Czterech dostawców proponuje równoważny pod względem jakościowym towar. Na podstawie analizy warunków dostawy wybierz najkorzystniejszą ofertę.

L.p.	Warunki dostawy	A.	B.	C.	D.
1.	Nazwa towaru	TRAMP	SPORTI	WALK	LEKSI
2.	Cena netto za 1 szt.	327,00 zł	330,00 zł	332,00 zł	328,00 zł
3.	Formuła dostawy	loco magazyn dostawcy – koszty transportu pokrywa odbiorca	franco sklep – koszty transportu pokrywa dostawca	franco sklep – koszty transportu pokrywa dostawca	loco magazyn dostawcy – koszty transportu pokrywa odbiorca
4.	Koszty transportu	800,00 zł	800,00 zł	800,00 zł	800,00 zł
5.	Rabat	przy zakupie powyżej 60 szt. – 15%	przy zakupie powyżej 60 szt. – 15%	przy zakupie powyżej 60 szt. – 15%	przy zakupie powyżej 60 szt. – 15%
6.	Termin dostawy	3 dni	3 dni	3 dni	3 dni
7.	Forma płatności	przelew – 14 dni	przelew – 14 dni	przelew – 14 dni	przelew – 14 dni

Zadanie 23.

Kody towarów i usług występujących w obrocie gospodarczym na terenie Polski z przypisanymi stawkami podatku VAT można znaleźć w dokumencie

- A. KTM
- B. PKD
- C. PKWiU
- D. REGON

Zadanie 24.

Na podstawie informacji:

- wartość sprzedaży brutto – 13 000 zł
- wartość sprzedaży netto – 11 000 zł
- udzielone przez to przedsiębiorstwo rabaty ilościowe – 1 000 zł
- udzielone przez to przedsiębiorstwo bonifikaty – 500 zł,

wskaz obrót przedsiębiorstwa handlowego.

- A. 12 500 zł
- B. 11 500 zł
- C. 9 500 zł
- D. 9 000 zł

Zadanie 25.

Sklep z konfekcją sprzedaje płaszcze damskie w cenie sprzedaży brutto 1 230,00 zł za sztukę, stosując marżę detaliczną 17% liczoną metodą „w stu” oraz naliczając 23% podatku VAT. Ile wynosi cena zakupu netto?

- A. 508,00 zł
- B. 738,00 zł
- C. 770,00 zł
- D. 830,00 zł

Zadanie 26.

Którego z wymienionych towarów **nie można** układać w bezpośrednim sąsiedztwie sera żółtego?

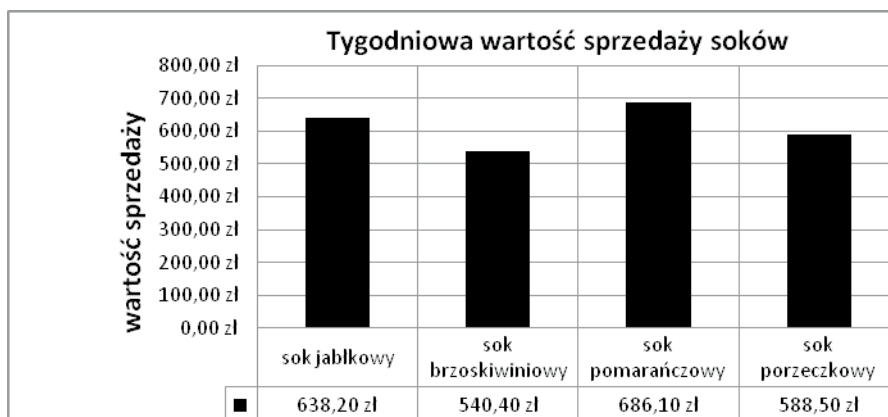
- A. Przetworów warzywnych.
- B. Sałatek owocowych.
- C. Ciast.
- D. Ryb.

Zadanie 27.

Tygodniową wartość sprzedaży czterech rodzajów soków w sklepie spożywczym przedstawiono na zamieszczonym wykresie.

Właściciel sklepu prognozuje wzrost wartości sprzedaży soku brzoskwiniowego o 5% i spadek wartości sprzedaży soku porzeczkowego o 10% w stosunku do poprzedniego tygodnia, natomiast sprzedaż soku jabłkowego i pomarańczowego pozostanie na dotychczasowym poziomie. Właściciel sklepu powinien zaplanować na następny tydzień zamówienie soków o wartości

- A. 2 453,20 zł
- B. 2 421,37 zł
- C. 2 480,22 zł
- D. 2 575,86 zł



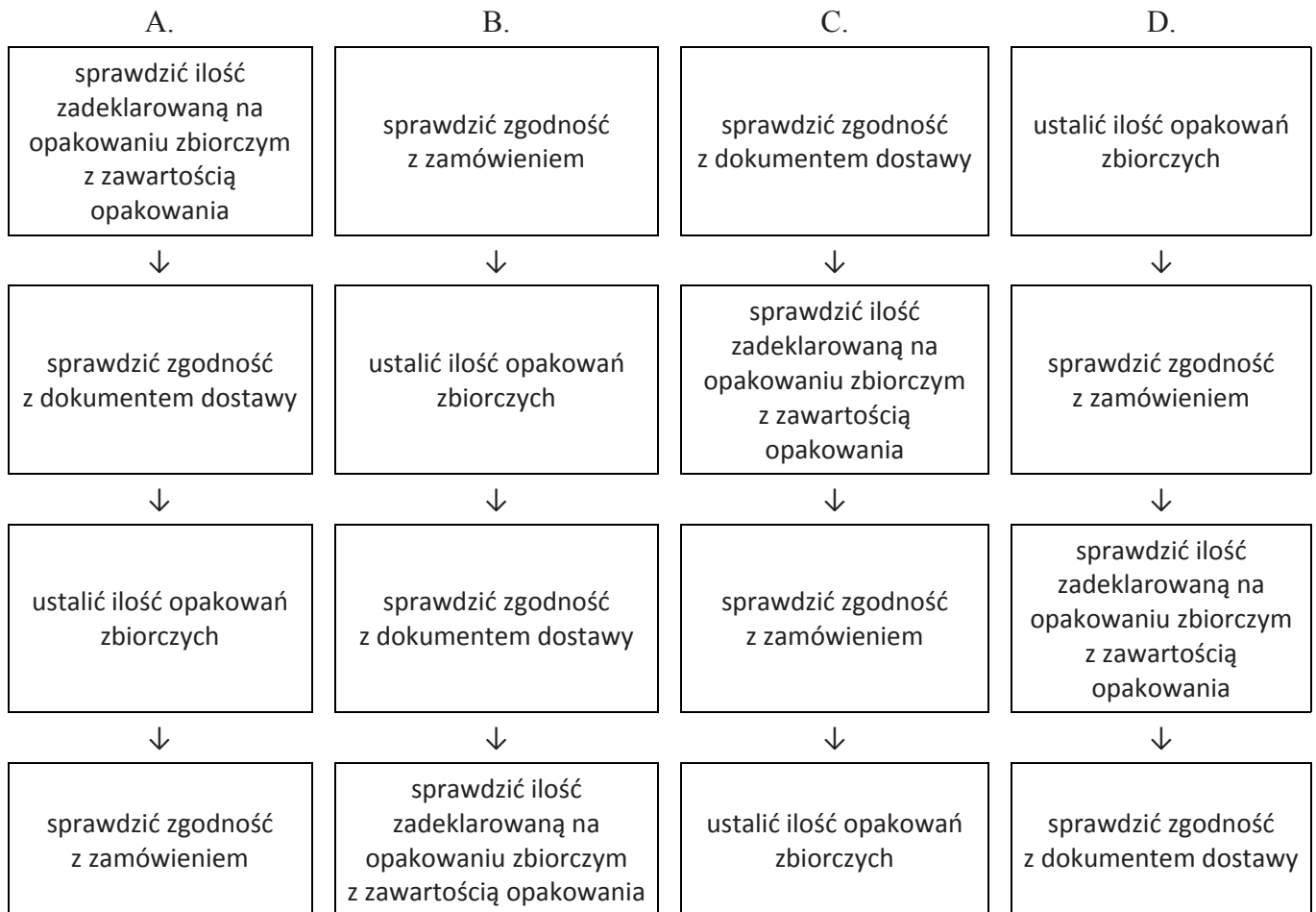
Zadanie 28.

Ile wynosi cena zbytu brutto piórnika, jeżeli koszt własny produkcji 100 szt. piórników wynosi 2 500,00 zł, producent osiąga zysk w wysokości 20% jednostkowego kosztu własnego, a sprzedaż jest opodatkowana stawką podstawową VAT 23%?

- A. 27,40 zł
- B. 27,60 zł
- C. 32,40 zł
- D. 36,90 zł

Zadanie 29.

Który schemat przedstawia prace związane z odbiorem ilościowym towarów we właściwej kolejności?



Zadanie 30.

W magazynie sklepu odzieżowego znajduje się od roku zapas 12 sukienek balowych, na które nie ma popytu ze względu na zmiany mody i gustów klientów. Zapas ten to zapas

- A. rezerwowo.
- B. maksymalny.
- C. nieprawidłowy.
- D. przedsezonowy.

Zadanie 31.

Według rejestrów VAT sklepu meblowego wynika, że w maju 2013 r.:

- zakupiono towary o łącznej wartości netto 8 500,00 zł – wszystkie według stawki VAT 23%,
- sprzedano towary według stawki 23% o wartości netto 11 500,00 zł oraz według stawki 8% o wartości netto 1 500,00 zł.

Jaką kwotę podatku VAT powinien odprowadzić podatnik do urzędu skarbowego za maj 2013 r.?

- A. 330,00 zł
- B. 450,00 zł
- C. 690,00 zł
- D. 810,00 zł

Zadanie 32.

Który z przedstawionych kanałów dystrybucji jest najwłaściwszy przy sprzedaży pieczarek?

Wariant	Uczestnicy kanałów dystrybucji:						
	producent	agent - pośrednik	handel hurtowy	agent - pośrednik	handel detaliczny	konsument	
A.	●	→	●	→	●	→	●
B.	●	→	●	→	●	→	●
C.	●	→	→	→	●	→	●
D.	●	→	●	→	●	→	●

Zadanie 33.

Koszty związane bezpośrednio z zakupami, magazynowaniem i sprzedażą towarów, to koszty

- A. zarządu.
- B. handlowe.
- C. pośrednie.
- D. wydziałowe.

Zadanie 34.

Ile wynosi wynagrodzenie brutto kierownika sklepu za maj 2013 r., jeżeli jego płaca zasadnicza wynosi 2 100,00 zł, premia 12%, a dodatek funkcyjny 250,00 zł?

- A. 2 632,00 zł
- B. 2 602,00 zł
- C. 2 380,00 zł
- D. 2 130,00 zł

Zadanie 35.

Hurtownia sprzętu ogrodniczego stosuje rabat w wysokości 10% przy zakupie towarów o wartości powyżej 500,00 zł. Klient kupił: 1 łopatę po 123,00 zł (brutto) za szt., 4 dwukilogramowe worki ziemi po 8,20 zł (brutto) za 1 kg, 4 krzewy róż po 67,00 zł (brutto) za szt., 2 pary rękawic ogrodniczych po 10,00 zł (brutto) i wiaderko za 48,50 zł (brutto). Jaką kwotę należy wpisać w pozycji „do zapłaty” na fakturze sprzedaży?

- A. 428,31 zł
- B. 434,07 zł
- C. 443,07 zł
- D. 472,59 zł

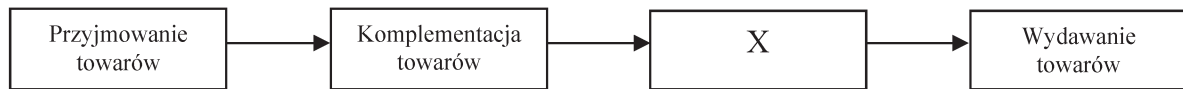
Zadanie 36.

Informacja o podniesieniu od następnego roku stawki akcyzy na olej napędowy w analizie SWOT niewielkiego przedsiębiorstwa transportowego powinna być uznana za

- A. słabą stronę.
- B. mocną stronę.
- C. szansę rozwoju.
- D. zagrożenie rozwoju.

Zadanie 37.

W przedstawionym na schemacie cyklu magazynowania w miejscu oznaczonym „X” należy zaplanować czynność związaną



- A. z sortowaniem towarów.
- B. z rozładunkiem towarów.
- C. ze składowaniem towarów.
- D. z rozpakowaniem towarów.

Zadanie 38.

Na podstawie zapisów na wybranych kontach księgowych w Przedsiębiorstwie Handlowym *REBUS* ustal wartość bilansową (netto) środków trwałych na dzień 31.12.2012 r.

Środki trwałe		Umorzenie środków trwałych		Środki trwałe w budowie	
Sp. 74 000,00	4 600,00	4 600,00	9 400,00 Sp.	Sp. 12 000,00	
2 000,00			1 200,00	10 000,00	

- A. 65 400,00 zł
- B. 69 400,00 zł
- C. 77 400,00 zł
- D. 87 400,00 zł

Zadanie 39.

Bank udzielił kredytu obrotowego Przedsiębiorstwu Handlowemu *MEG* na bieżącą działalność, na okres trzech miesięcy, w wysokości 28 500,00 zł, przy oprocentowaniu 15% rocznie. Określ wartość miesięcznych odsetek od udzielonego kredytu.

- A. 118,75 zł
- B. 190,00 zł
- C. 356,25 zł
- D. 570,00 zł

Zadanie 40.

Wskaźnik rentowności sprzedaży, kształtujący się na poziomie 12% oznacza, że przedsiębiorstwo osiągnęło z 1 złotówki przychodu ze sprzedaży towarów zysk

- A. poniżej 12 gr.
- B. powyżej 12 gr.
- C. w wysokości 12 gr.
- D. nie więcej niż 12 gr.

