

Nazwa kwalifikacji: **Zarządzanie środkami technicznymi podczas realizacji procesów transportowych**
Oznaczenie kwalifikacji: **A.31**
Wersja arkusza: **X**

*Arkusz zawiera informacje prawnie chronione
do momentu rozpoczęcia egzaminu*

A.31-X-15.01
Czas trwania egzaminu: **60 minut**

Układ graficzny © CKE 2015

EGZAMIN POTWIERDZAJĄCY KWALIFIKACJE W ZAWODZIE
Rok 2015
CZĘŚĆ PISEMNA

Instrukcja dla zdającego

1. Sprawdź, czy arkusz egzaminacyjny zawiera 11 stron. Ewentualny brak stron lub inne usterki zgłoś przewodniczącemu zespołu nadzorującego.
2. Do arkusza dołączona jest KARTA ODPOWIEDZI, na której w oznaczonych miejscach:
 - wpisz oznaczenie kwalifikacji,
 - zamaluj kratkę z oznaczeniem wersji arkusza,
 - wpisz swój numer *PESEL**,
 - wpisz swoją datę urodzenia,
 - przyklej naklejkę ze swoim numerem *PESEL*.
3. Arkusz egzaminacyjny zawiera test składający się z 40 zadań.
4. Za każde poprawnie rozwiązane zadanie możesz uzyskać **1 punkt**.
5. Aby zdać część pisemną egzaminu musisz uzyskać co najmniej **20 punktów**.
6. Czytaj uważnie wszystkie zadania.
7. Rozwiązania zaznaczaj na KARCIE ODPOWIEDZI długopisem lub piórem z czarnym tuszem/atramentem.
8. Do każdego zadania podane są cztery możliwe odpowiedzi: A, B, C, D. Odpowiada im następujący układ krerek w KARCIE ODPOWIEDZI:

A	B	C	D
---	---	---	---

9. Tylko jedna odpowiedź jest poprawna.
10. Wybierz właściwą odpowiedź i zamaluj kratkę z odpowiadającą jej literą – np., gdy wybrałeś odpowiedź „A”:

■	B	C	D
---	---	---	---

11. Staraj się wyraźnie zaznaczać odpowiedzi. Jeżeli się pomylisz i błędnie zaznaczysz odpowiedź, otocz ją kółkiem i zaznacz odpowiedź, którą uważasz za poprawną, np.

⊙	B	C	■
---	---	---	---

12. Po rozwiązaniu testu sprawdź, czy zaznaczyłeś wszystkie odpowiedzi na KARCIE ODPOWIEDZI i wprowadziłeś wszystkie dane, o których mowa w punkcie 2 tej instrukcji.

Pamiętaj, że oddajesz przewodniczącemu zespołu nadzorującego tylko KARTĘ ODPOWIEDZI.

Powodzenia!

* w przypadku braku numeru *PESEL* – seria i numer paszportu lub innego dokumentu potwierdzającego tożsamość

Zadanie 1.

Prawa i obowiązki zastrzeżone w kontrakcie handlowym, związane z organizowaniem transportu towarów, pokryciem kosztów wynikających z ich przewozu, ubezpieczenia i odpraw celnych to

- A. kontyngent.
- B. akredytywa.
- C. gestia transportowa.
- D. kongestia transportowa.

Zadanie 2.

Zgodnie z obowiązującym prawem, formuła handlowa *franco* oznacza, że towar jest dostarczany na miejsce wskazane przez

- A. załadowcę.
- B. kupującego.
- C. przewoźnika.
- D. sprzedającego.

Zadanie 3.

Dostęp do zawodu kierowcy wykonującego przewozy drogowe w Polsce w sposób kompleksowy reguluje

- A. Kodeks cywilny.
- B. Prawo przewozowe.
- C. Prawo o ruchu drogowym.
- D. Ustawa o transporcie drogowym.

Zadanie 4.

Międzynarodowe przewozy drogowe towarów niebezpiecznych reguluje Umowa

- A. ATP.
- B. ADR.
- C. CMR.
- D. AETR.

Zadanie 5.

Licencji na wykonywanie zarobkowego transportu drogowego udziela się na czas określony, **nie krótszy** niż

- A. 1 rok i nie dłuższy niż 10 lat.
- B. 2 lata i nie dłuższy niż 50 lat.
- C. 5 lat i nie dłuższy niż 40 lat.
- D. 5 lat i nie dłuższy niż 50 lat.

Zadanie 6.

Przedstawiony na rysunku piktogram, umieszczony na samochodzie, informuje o przewożeniu materiału

- A. trującego.
- B. toksycznego.
- C. szkodliwego dla środowiska.
- D. utylizowanego ekologicznie.



Zadanie 7.

Zapisy zawarte w Konwencji Wiedeńskiej dotyczą

- A. dopuszczalnej prędkości jazdy.
- B. zasad korzystania z karnetu CDP.
- C. jednolitych zasad ruchu drogowego.
- D. zapobiegania zanieczyszczeniu morza przez statki.

Zadanie 8.

W przypadku, gdy gestia transportowa na głównym odcinku przewozu należy do kupującego, to należy zastosować formułę INCOTERMS 2010

- A. DAP
- B. DDP
- C. DAT
- D. EXW

Zadanie 9.

Który rodzaj umowy zawartej pomiędzy współpracującymi przedsiębiorstwami należy zastosować w sytuacji, gdy jedna ze stron zobowiązuje się do przygotowania, wysłania i przewozu przesyłki?

- A. Umowę spedycji.
- B. Umowę przewozu.
- C. Umowę agencyjną.
- D. Umowę przechowania.

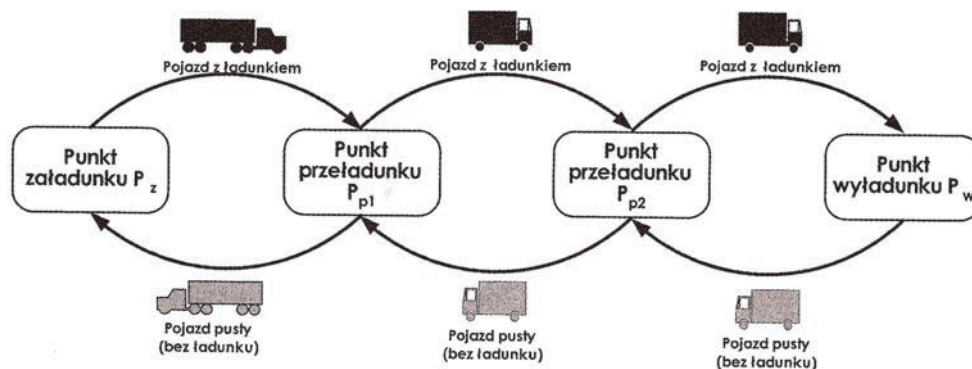
Zadanie 10.

Proces łączenia niewielkich przesyłek (między innymi od różnych dostawców, dla różnych odbiorców) w celu transportu ich w jednym kontenerze to

- A. konsolidacja.
- B. dekonsolidacja.
- C. zlecenie spedycyjne.
- D. potrzeba transportowa.

Zadanie 11.

Schemat przedstawia realizację przewozów w modelu



- A. obwodowym.
- B. sztafetowym.
- C. wahadłowym.
- D. promienistym.

Zadanie 12.

Zgodnie z obowiązującymi przepisami w tachografy muszą być wyposażone pojazdy do przewozu ładunków, których dopuszczalna masa całkowita wraz z przyczepą przekracza

- A. 3,0 t
- B. 3,5 t
- C. 7,5 t
- D. 12,0 t

Zadanie 13.

W celu monitorowania pojazdów i ładunków stosuje się technologię wykorzystującą fale radiowe, którą określa się skrótem

- A. ERP
- B. GTIN
- C. RFID
- D. SSCC

Zadanie 14.

Który z przykładów GS1-128 przedstawia numer identyfikacyjny SSCC?

- A. (00)006141411234567890
- B. (420)45458(401)541234550127201
- C. (02)05901234567015(17)140202(37)40
- D. (01)03123451234569(15)121224(10)LV111

Zadanie 15.

Etykieta logistyczna GS1 służy do

- A. identyfikacji jednostek ładunkowych posiadających specjalny status.
- B. oznaczania i identyfikacji kontenerów, naczep i nadwozi wymiennych.
- C. oznaczenia jednostek logistycznych w standardowy sposób dla potrzeb wszystkich uczestników łańcucha dostaw.
- D. oznaczenia jednostek logistycznych uformowanych w sposób wymagający specjalnych czynności obsługowych w transporcie.

Zadanie 16.

Która z gałęzi transportu wykazuje najkorzystniejsze dostosowanie sieci dróg do rozmieszczenia rynków zaopatrzenia i zbytu?

- A. Transport morski.
- B. Transport lotniczy.
- C. Transport kolejowy.
- D. Transport samochodowy.

Zadanie 17.

Który z kontenerów służy do przewozu ładunków sypkich?



A.



B.



C.



D.

Zadanie 18.

Chcąc zawrzeć umowę o przewóz przesyłek skonsolidowanych transportem lotniczym, należy wystawić zbiorczy list przewozowy

- A. IATA DGR
- B. Bill of Lading.
- C. House Air Waybill.
- D. Master Air Waybill.

Zadanie 19.

Przedstawione logo – "Transports Internationaux Routiers" dotyczy tranzytu towarów w transporcie międzynarodowym



- A. samochodowym.
- B. intermodalnym.
- C. lotniczym.
- D. kolejowym.

Zadanie 20.

Odbiorca wskazany w krajowym samochodowym liście przewozowym kwituje odbiór towaru na egzemplarzu zwanym

- A. cedułą listu przewozowego.
- B. grzbietem listu przewozowego.
- C. oryginałem listu przewozowego.
- D. wtórnikami listu przewozowego.

Zadanie 21.

Cena netto usługi transportowej wynosi 1 100,00 złotych. Usługa transportowa objęta jest stawką VAT 23%. Przedsiębiorstwo transportowe udzieliło klientowi 5% rabat liczony od ceny netto. Ile wynosi kwota brutto wykazana na fakturze VAT?

- A. 1 045,00 zł
- B. 1 285,35 zł
- C. 1 353,00 zł
- D. 1 420,65 zł

Zadanie 22.

Do podstawy kalkulacji ceny za transport ładunku **nie zalicza** się

- A. amortyzacji pojazdu.
- B. składki ZUS kierownictwa firmy.
- C. kwoty mandatów za wykroczenia drogowe.
- D. czynszu za najem pomieszczeń firmy przewozowej.

Zadanie 23.

Dopuszczalna wysokość pojazdu samochodowego łącznie z ładunkiem zgodnie z polskimi przepisami wynosi

- A. 4,0 m
- B. 4,2 m
- C. 4,3 m
- D. 4,5 m

Zadanie 24.

Zgodnie z ustawą o czasie pracy kierowców, maksymalny czas trwania nieprzerwanej jazdy wynosi

- A. 4,5 godziny.
- B. 5,0 godzin.
- C. 9,0 godzin.
- D. 10,0 godzin.

Zadanie 25.

Która konwencja reguluje warunki międzynarodowych przewozów szybko psujących się artykułów żywnościowych i specjalnych środków transportu przeznaczonych do ich przewozu?

- A. ATA
- B. ATP
- C. COTIF
- D. SOLAS

Zadanie 26.

Przepakowywanie, sortowanie, segregację w portach morskich, rzecznych, lotniczych, punktach odprawy celnej oraz magazynach celnych zalicza się do czynności spedycyjnych

- A. wykonawczych występujących po przewozie.
- B. wykonawczych występujących przed przewozem.
- C. organizacyjnych występujących przed przewozem.
- D. wykonawczych występujących w trakcie procesu transportowego.

Zadanie 27.

Do Intermodalnych Jednostek Transportowych UTI nie należą

- A. naczepy siodłowe.
- B. kontenery wielkie.
- C. paletowe jednostki ładunkowe.
- D. nadwozia samochodowe wymienne.

Zadanie 28.

Statki żeglugi morskiej o poziomym systemie przeładunkowym do przewozu znormalizowanych kontenerów zwane są

- A. lo-lo.
- B. ro-ro.
- C. masowcami.
- D. drobnicowcami.

Zadanie 29.

W systemie Ro-La (Rollende Landstrasse – ruchomej drogi) załadunek pojazdów na wagony niskopodwoziowe odbywa się zawsze poziomo poprzez najazd pojazdu

- A. tyłem na rampę boczną.
- B. tyłem na rampę czołową.
- C. przodem na rampę boczną.
- D. przodem na rampę czołową.

Zadanie 30.

Na podstawie tabeli określ, ile platform kolejowych o długości ładunkowej 18 660 mm należy podstawić do załadunku 6-ciu kontenerów typu 1B.

- A. 1 platformę kolejową.
- B. 3 platformy kolejowe.
- C. 6 platform kolejowych.
- D. 9 platform kolejowych.

Typ kontenera	Podstawowe wymiary w mm		
	Długość	Szerokość	Wysokość
1A	12 192	3 438	2 438
1B	9 125	3 438	2 438
1C	6 058	3 438	2 438
1D	2 991	3 438	2 438

Zadanie 31.

System transportu bimodalnego polega na przewozie

- A. naczep siodłowych wraz z ciągnikami na wagonach kolejowych niskopodwoziowych.
- B. specjalnych naczep samochodowych bez przeładunku ich zawartości po torach kolejowych na specjalnych wózkach wagonowych.
- C. samochodów ciężarowych jednoczłonowych i z przyczepami, kierowcy towarzyszą pojazdom, zajmując miejsca w wagonie sypialnym.
- D. naczep siodłowych, przyczep i nadwozi wymiennych na wagonach kolejowych, kierowcy i ciągniki nie towarzyszą przewożonym ładunkom.

Zadanie 32.


Wagon-platformę, przedstawiony na rysunku, należy zastosować do przewozu

- A. drewna.
- B. kontenerów.
- C. samochodów.
- D. ciężkich maszyn.



Zadanie 33.

Który ze środków przeładunkowych stosowany jest do przemieszczania kontenerów?



Zadanie 34.

Do przewozu ładunków ponadgabarytowych i ciężkich **nie nadają** się

- A. nadwozia wymienne.
- B. kontenery platformy.
- C. naczepy teleskopowe.
- D. przyczepy niskopodwoziowe.

Zadanie 35.

Który rodzaj kontenera jest przeznaczony do przewozu ładunków przekraczających wysokość kontenera standardowego lub których nie można załadować do standardowego kontenera przez drzwi ze względów manipulacyjnych?

- A. Box.
- B. Frigo.
- C. Tank Generator.
- D. Open Top.

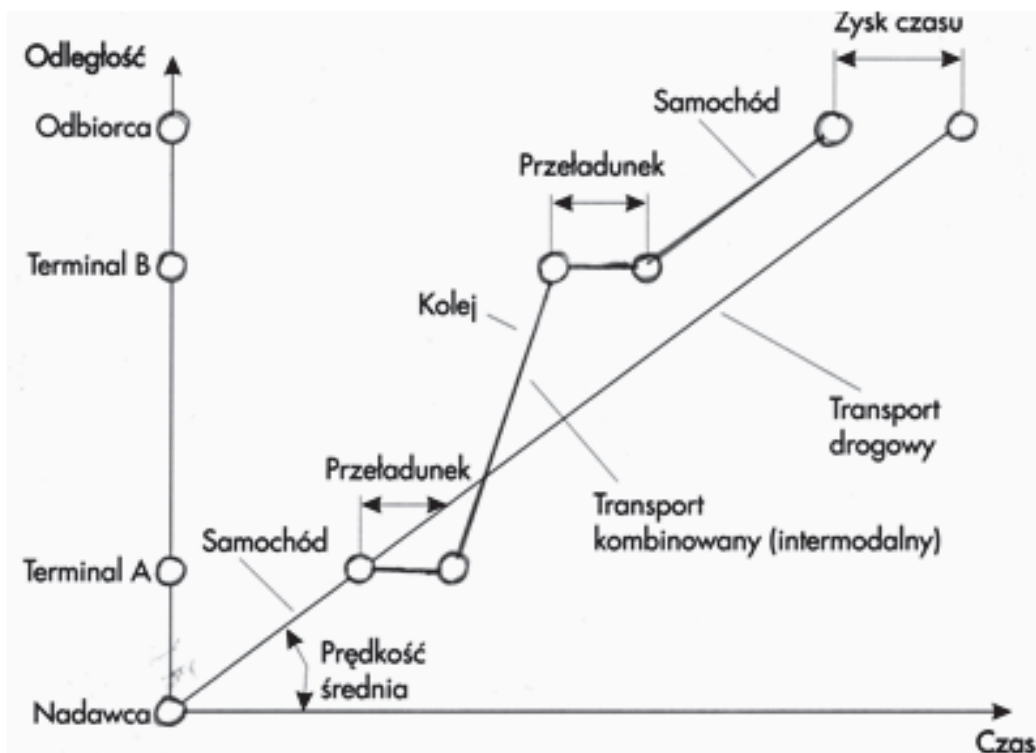
Zadanie 36.

Do przewozu ładunków masowych luzem służą wagony

- A. chłodnie.
- B. węglarki.
- C. platformy.
- D. bagażowe.

Zadanie 37.

Rysunek przedstawia czas i drogę w transporcie kombinowanym. Z rysunku wynika, że



- A. samochód ma większą prędkość przewozu.
- B. pociąg ma większą prędkość przewozu.
- C. samochód przewozi większy ładunek.
- D. pociąg przewozi większy ładunek.

Zadanie 38.

Przedsiębiorstwo transportowe przyjęło zlecenie przewozu ładunku na odległość 600 km. Stawka kilometrowa wynosi 2,50 zł/km. Ile wyniesie podatek VAT od wartości usługi, jeżeli klientowi udzielono 10% rabatu wartości netto, a usługa jest objęta 23% stawką podatku od towarów i usług?

- A. 310,50 zł
- B. 322,00 zł
- C. 345,00 zł.
- D. 379,50 zł

Zadanie 39.

Środkiem transportu służącym do przewozu osób, wyposażonym w miejsca siedzące o wysokim standardzie wygody oraz wydzieloną część przeznaczoną do obsługi w zakresie zaspokajania potrzeb konsumpcyjnych i fizjologicznych podróżnych, jest

- A. autokar.
- B. autobus.
- C. minibus.
- D. mikrobus.

Zadanie 40.

Różnicowanie pionowe stawek taryfowych odbywa się ze względu na

- A. cechy ładunku.
- B. długość trasy przewozowej.
- C. pojemność środka transportowego.
- D. sposób realizacji usługi transportowej.