

Nazwa kwalifikacji: **Wykonywanie zabiegów fryzjerskich**

Oznaczenie kwalifikacji: **AU.21**

Wersja arkusza: **SG**

Czas trwania egzaminu: **60 minut**

AU.21-SG-23.06

EGZAMIN POTWIERDZAJĄCY KWALIFIKACJE W ZAWODZIE

Rok 2023

CZĘŚĆ PISEMNA

**PODSTAWA PROGRAMOWA
2017**

Instrukcja dla zdającego

1. Sprawdź, czy arkusz egzaminacyjny zawiera 10 stron. Ewentualny brak stron lub inne usterki zgłoś przewodniczącemu zespołu nadzorującego.
2. Do arkusza dołączona jest KARTA ODPOWIEDZI, na której w oznaczonych miejscach:
 - wpisz oznaczenie kwalifikacji,
 - zamaluj kratkę z oznaczeniem wersji arkusza,
 - wpisz swój numer PESEL*,
 - wpisz swoją datę urodzenia,
 - przyklej naklejkę ze swoim numerem PESEL.
3. Arkusz egzaminacyjny zawiera test składający się z 40 zadań.
4. Za każde poprawnie rozwiązane zadanie możesz uzyskać 1 punkt.
5. Aby zdać część pisemną egzaminu musisz uzyskać co najmniej 20 punktów.
6. Czytaj uważnie wszystkie zadania.
7. Rozwiązania zaznaczaj na KARCIE ODPOWIEDZI długopisem lub piórem z czarnym tuszem/atramentem.
8. Do każdego zadania podane są cztery możliwe odpowiedzi: A, B, C, D. Odpowiada im następujący układ krerek w KARCIE ODPOWIEDZI:

A	B	C	D
---	---	---	---

9. Tylko jedna odpowiedź jest poprawna.
10. Wybierz właściwą odpowiedź i zamaluj kratkę z odpowiadającą jej literą – np., gdy wybrałeś odpowiedź „A”:

<input checked="" type="checkbox"/>	B	C	D
-------------------------------------	---	---	---

11. Staraj się wyraźnie zaznaczać odpowiedzi. Jeżeli się pomylisz i błędnie zaznaczysz odpowiedź, otocz ją kółkiem i zaznacz odpowiedź, którą uważasz za poprawną, np.

<input checked="" type="checkbox"/>	B	C	<input checked="" type="checkbox"/>
-------------------------------------	---	---	-------------------------------------

12. Po rozwiązaniu testu sprawdź, czy zaznaczyłeś wszystkie odpowiedzi na KARCIE ODPOWIEDZI i wprowadziłeś wszystkie dane, o których mowa w punkcie 2 tej instrukcji.

Pamiętaj, że oddajesz przewodniczącemu zespołu nadzorującego tylko KARTĘ ODPOWIEDZI.

Powodzenia!

* w przypadku braku numeru PESEL – seria i numer paszportu lub innego dokumentu potwierdzającego tożsamość

Zadanie 1.

Klientka ma włosy lśniące z nienaturalnym połyskiem, które myje do sześciu razy w tygodniu. W karcie diagnozy stanu skóry głowy należy zapisać, że skóra klientki jest

- A. sucha.
- B. łuszcząca się.
- C. z oznakami łupieżu.
- D. z oznakami łojotoku.

Zadanie 2.

Diagnoza organoleptyczna we fryzjerstwie polega na zastosowaniu

- A. trichogramu.
- B. mikrokamery.
- C. zmysłów dotyku i wzroku.
- D. zmysłów powonienia i smaku.

Zadanie 3.

Do zabiegu regeneracji włosów przesuszonych, na stanowisku fryzjerskim należy przygotować między innymi:

- A. maskę, szampon nawilżający, saunę fryzjerską.
- B. szczotkę płaską, olejek, szampon uniwersalny, suszarkę ręczną.
- C. szczotkę okrągłą, odżywkę, szampon natłuszczający, saunę fryzjerską.
- D. czepek kauczukowy, płukanekę, szampon zakwaszający, suszarkę hełmową.

Zadanie 4.

W celu zabezpieczenia włosów przed szkodliwym działaniem promieni UV należy wykonać zabieg

- A. ochronny.
- B. nawilżający.
- C. regenerujący.
- D. kondycjonujący.

Zadanie 5.

Celem stosowania zabiegów regulujących procesy fizjologiczne na skórze głowy jest

- A. zmiana kształtu włosów.
- B. opóźnienie wzrostu włosów.
- C. przyspieszenie wzrostu włosów.
- D. odbudowa zewnętrznej warstwy włosa.

Zadanie 6.

Intensywnej pielęgnacji z użyciem maski regeneracyjnej wymagają włosy

- A. lśniące.
- B. gładkie.
- C. szorstkie.
- D. połyskliwe.

Zadanie 7.

Do mycia włosów metodą na mokro przed zabiegiem strzyżenia należy zastosować szampon

- A. oleisty.
- B. pudrowy.
- C. aerozolowy.
- D. detergentowy.

Zadanie 8.

Do regeneracji włosów zniszczonych w kolorze ciemnego brązu należy użyć preparatów, które zawierają w swoim składzie wyciąg

- A. z aloesu.
- B. z łopianu.
- C. z chmielu.
- D. z kory dębu.

Zadanie 9.

Szampon w pudrze po zaaplikowaniu na włosy powoduje

- A. stymulację mieszków włosowych.
- B. regulację funkcji wydzielniczych skóry.
- C. częściowe usunięcie zanieczyszczeń z włosów.
- D. całkowite usunięcie zanieczyszczeń ze skóry głowy.

Zadanie 10.

Klientce z zaburzeniami kierunku wzrostu włosów na całym poroście **nie należy** proponować fryzury

- A. krótkiej z symetryczną krótką grzywką.
- B. asymetrycznej ze zróżnicowaną grzywką.
- C. o reliefowej fakturze z asymetryczną grzywką.
- D. o mieszanej fakturze z symetryczną długą grzywką.

Zadanie 11.

Prowadzenie rozmowy konsultacyjnej z klientem przed zabiegiem strzyżenia ma na celu ustalenie

- A. rodzaju włosów.
- B. kształtu i rysów twarzy.
- C. sekcji i separacji włosów.
- D. upodobań i oczekiwań klienta.

Zadanie 12.

Techniką uzupełniającą strzyżenia, polegającą na skręcaniu pasm włosów i nacinaniu ich nożycami, jest

- A. skalowanie.
- B. palcowanie.
- C. cieniowanie.
- D. degażowanie.

Zadanie 13.

Wykonane zgodnie z zamieszczonym opisem strzyżenie damskie włosów przyjmuje formę

- A. spójną.
- B. stopniowaną.
- C. jednolitą warstwowo.
- D. przyrastającą warstwowo.

Opis strzyżenia damskiego włosów

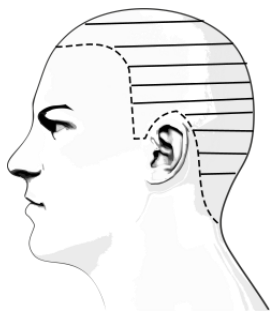
Strzyżenie jest wykonane z zastosowaniem projekcji 0°, linia bazowa na tym samym poziomie. Efektem strzyżenia jest przyrastająca długość włosów od karku do wierzchołka głowy, która tworzy formę prostokąta.

Zadanie 14.

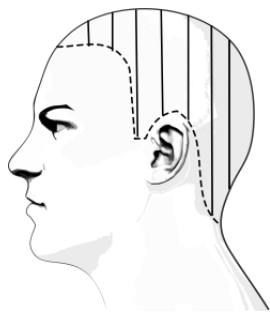
U klientki ze zniszczonymi włosami po zabiegach chemicznych, która oczekuje jednoczesnego skrócenia i pielęgnacji uszkodzonych włosów, należy zastosować strzyżenie nożyczkami

- A. punktującymi.
- B. termicznymi.
- C. klasycznymi.
- D. ślizgowymi.

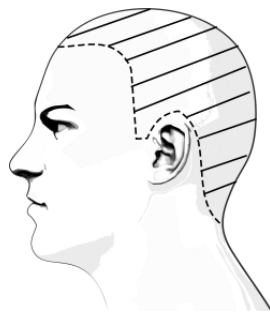
Zadanie 15.



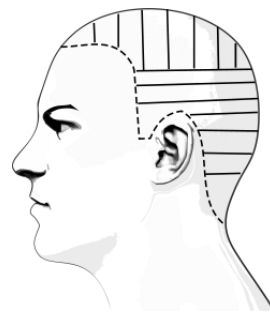
Rysunek 1.



Rysunek 2.



Rysunek 3.



Rysunek 4.

Na którym rysunku przedstawiony jest podział porostu na separacje pionowe?

- A. Na rysunku 1.
- B. Na rysunku 2.
- C. Na rysunku 3.
- D. Na rysunku 4.

Zadanie 16.

W celu uzyskania fryzury o jednakowej długości włosów na całej głowie, należy podczas strzyżenia zastosować kąt projekcji 90° i dystrybucję

- A. naturalną.
- B. przesuniętą.
- C. prostopadłą.
- D. kierunkową.

Zadanie 17.

W którym etapie strzyżenia wykonuje się czynność mycia włosów?

- A. Wstępnym.
- B. Końcowym.
- C. Wykonywania.
- D. Personalizacji.

Zadanie 18.

Fryzura, która poszerza głowę i twarz w obrębie linii żuchwy ma kształt

- A. koła.
- B. owalu.
- C. trapezu.
- D. prostokąta.

Zadanie 19.

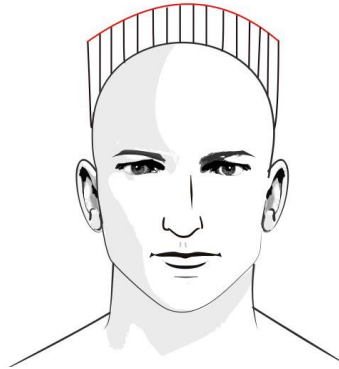
Fryzurę męską na jeża wykonuje się podczas strzyżenia

- A. specjalnego.
- B. klasycznego.
- C. kreatywnego.
- D. awangardowego.

Zadanie 20.

Przedstawiony rysunek schematyczny strzyżenia męskiego należy wykorzystać podczas strzyżenia

- A. jeża karo.
- B. jeża półokrągłego.
- C. klasycznego pełnego.
- D. klasycznego półdługiego.



Zadanie 21.

Zabiegu chemicznego prostowania **nie należy** wykonywać na włosach

- A. mocno rozjaśnionych.
- B. pojaśnionych słońcem.
- C. farbowanych farbą trwałą.
- D. farbowanych farbą półtrwałą.

Zadanie 22.

Który rodzaj włosów może zostać poddany zabiegowi ondulacji chemicznej alkalicznej o pH 9,8?

- A. Siwe.
- B. Porowate.
- C. Farbowane.
- D. Rozjaśniane.

Zadanie 23.

W którym etapie zabiegu trwałej ondulacji przeprowadzana jest kontrola uzyskanego skrętu włosów?

- A. Wstępnym.
- B. Końcowym.
- C. Właściwym.
- D. Przygotowawczym.

Zadanie 24.

Podczas zabiegu chemicznego prostowania włosów, test węzełkowy wykonuje się w celu kontroli

- A. stopnia odkształcenia włosów.
- B. sposobu wykonania chemicznego prostowania.
- C. działania preparatu wyrównującego strukturę włosów.
- D. równomierności pokrycia włosów preparatem do chemicznego prostowania.

Zadanie 25.

Wykonując zabieg chemicznego prostowania włosów, krem prostujący należy aplikować od linii

- A. ucha.
- B. czoła.
- C. karku.
- D. skroni.

Zadanie 26.

Kremu do chemicznego prostowania włosów należy użyć zgodnie z technologią do zmiany struktury włosów

- A. meszkowych.
- B. szczeciniastych.
- C. naturalnie kręconych.
- D. kręconych po zabiegu trwałej ondulacji.

Zadanie 27.

Plisowanie włosów polega na

- A. loczkowaniu włosów.
- B. modelowaniu włosów.
- C. wyciskaniu fal palcami.
- D. nawijaniu pasm na wałki.

Zadanie 28.

Który z kątów należy zastosować podczas ondulacji fenowej, aby uzyskać maksymalne odbicie włosów od nasady?

- A. 30°
- B. 60°
- C. 90°
- D. 120°

Zadanie 29.

W celu uzyskania wzmocnienia intensywności odcienia włosów farbowanych, do pielęgnacji należy użyć

- A. maski koloryzującej.
- B. odżywki keratynowej.
- C. odżywki neutralizującej.
- D. płukanki komplementarnej.

Zadanie 30.

Kok dzienny charakteryzuje się

- A. prostą konstrukcją i klasyczną formą.
- B. prostą konstrukcją i fantazyjną formą.
- C. trwałą konstrukcją, posiadającą dekoracje i kontrasty.
- D. różnorodną konstrukcją, od prostej do bardzo skomplikowanej.

Zadanie 31.

Zabiegu przedłużania i zagęszczania włosów **nie należy** wykonywać na włosach

- A. farbowanych farbą trwałą.
- B. z załamaniami przy nasadzie.
- C. farbowanych farbą utleniającą.
- D. z załamaniami na końcówkach.

Zadanie 32.



Rysunek 1.



Rysunek 2.



Rysunek 3.



Rysunek 4.

Który rysunek przedstawia szczotkę do pielęgnacji włosów przedłużanych?

- A. Rysunek 1.
- B. Rysunek 2.
- C. Rysunek 3.
- D. Rysunek 4.

Zadanie 33.

Wykonanie rozjaśniania na włosach krótkich, tapirowanych, w celu wyeksponowania końcówek, wymaga zastosowania techniki

- A. rombu.
- B. jodełkowej.
- C. lukrowania.
- D. szydełkowej.

Zadanie 34.

Przyczyną nadmiernego rozjaśnienia włosów jest

- A. niedostateczne pokrycie pasm mieszaniną.
- B. nałożenie zbyt dużej ilości mieszaniny.
- C. użycie mocnego stężenia oksydantu.
- D. użycie słabego stężenia oksydantu.

Zadanie 35.

Do farbowania rozjaśniającego o 2-3 poziomy od wyjściowego koloru włosów, zgodnie z przeznaczeniem technologicznym należy użyć oksydantu

- A. 3%
- B. 4%
- C. 6%
- D. 9%

Zadanie 36.

Który kolor włosów należy zaproponować klientce, w celu podkreślenia jej kolorystycznego typu urody jesień?

- A. Popielaty brąz.
- B. Platynowy blond.
- C. Czarno - granatowy.
- D. Miedziano - brązowy.

Zadanie 37.

Technikę szydełkową należy zastosować podczas koloryzacji

- A. panelowej na poroście.
- B. całościowej na poroście.
- C. pasemek na folii aluminiowej.
- D. pasemek na czepku foliowym.

Zadanie 38.

Do sporządzenia mieszaniny koloryzującej w proporcjach 1:2 należy użyć

- A. 10 ml farby + 20 ml oksydantu
- B. 10 ml farby + 10 ml oksydantu
- C. 15 ml farby + 20 ml oksydantu
- D. 20 ml farby + 10 ml oksydantu

Zadanie 39.

Zabieg dekoloryzacji polega na

- A. zmianie odcienia włosów siwych.
- B. zmianie koloru włosów szpakowatych.
- C. usunięciu z włosów barwnika naturalnego.
- D. usunięciu z włosów barwnika wcześniej wprowadzonego.

Zadanie 40.

Niedostateczne pokrycie siwych włosów podczas zabiegu koloryzacji należy skorygować poprzez wykonanie

- A. demakijażu.
- B. pojaśnienia włosów.
- C. ponownej koloryzacji.
- D. farbowania rozjaśniającego.