

Nazwa kwalifikacji: **Montaż konstrukcji budowlanych**
Oznaczenie kwalifikacji: **B.20**
Numer zadania: **01**

Wypełnia zdający

Miejsce na naklejkę z numerem
PESEL i z kodem ośrodka

Numer PESEL zdającego*

--	--	--	--	--	--	--	--	--	--	--	--	--	--	--	--	--	--	--	--

B.20-01-17.06

Czas trwania egzaminu: **180 minut**

EGZAMIN POTWIERDZAJĄCY KWALIFIKACJE W ZAWODZIE
Rok 2017
CZĘŚĆ PRAKTYCZNA

Instrukcja dla zdającego

1. Na pierwszej stronie arkusza egzaminacyjnego wpisz w oznaczonym miejscu swój numer PESEL i naklej naklejkę z numerem PESEL i z kodem ośrodka.
2. Na **KARCIE OCENY** w oznaczonym miejscu przyklej naklejkę z numerem PESEL oraz wpisz:
 - swój numer PESEL*,
 - oznaczenie kwalifikacji,
 - numer zadania,
 - numer stanowiska.
3. **KARTĘ OCENY** przekaz zespołowi nadzorującemu.
4. Sprawdź, czy arkusz egzaminacyjny zawiera 4 strony i nie zawiera błędów. Ewentualny brak stron lub inne usterki zgłoś przez podniesienie ręki przewodniczącemu zespołu nadzorującego.
5. Zapoznaj się z treścią zadania oraz stanowiskiem egzaminacyjnym. Masz na to 10 minut. Czas ten nie jest wliczany do czasu trwania egzaminu.
6. Czas rozpoczęcia i zakończenia pracy zapisze w widocznym miejscu przewodniczący zespołu nadzorującego.
7. Wykonaj samodzielnie zadanie egzaminacyjne. Przestrzegaj zasad bezpieczeństwa i organizacji pracy.
8. Jeżeli w zadaniu egzaminacyjnym występuje polecenie „zgłoś gotowość do oceny przez podniesienie ręki”, to zastosuj się do polecenia i poczekaj na decyzję przewodniczącego zespołu nadzorującego.
9. Po zakończeniu wykonania zadania pozostaw rezultaty oraz arkusz egzaminacyjny na swoim stanowisku lub w miejscu wskazanym przez przewodniczącego zespołu nadzorującego.
10. Po uzyskaniu zgody zespołu nadzorującego możesz opuścić salę/miejsce przeprowadzania egzaminu.

Powodzenia!

* w przypadku braku numeru PESEL – seria i numer paszportu lub innego dokumentu potwierdzającego tożsamość

Zadanie egzaminacyjne

Wykonaj montaż fragmentu słupa stalowego z dwoma ryglami na betonowym fundamencie, zgodnie z rysunkami 1, 2, 3 i 4 oraz warunkami technicznymi wykonania konstrukcji stalowych.

Rygle wykonaj z ceowników zgodnie z rysunkiem 3.

Fundament z osadzonymi kotwami, fragment słupa, ceowniki na rygle, elementy złączne oraz sprzęt i narzędzia są przygotowane na stanowisku egzaminacyjnym.

Zadania wykonaj w następującej kolejności:

1. Przytnij ceowniki na wymiar i wykonaj w nich otwory na połączenia śrubowe. Miejsca po przycięciu i otwory wygładź z zadziorów i nierówności przez zukosowanie.

Po wykonaniu tych czynności zgłoś przewodniczącemu ZN gotowość do oceny przez podniesienie ręki.

2. Nałóż nakrętki rektyfikacyjne i podkładki na kotwy fundamentowe i ustal ich poziom.
3. Ustaw przygotowany fragment słupa na kotwach fundamentowych z nałożonymi nakrętkami rektyfikacyjnymi i podkładkami płaskimi M16 (rysunek 2).

Przy podnoszeniu słupa możesz poprosić o pomoc asystenta technicznego.

4. Wykonaj rektyfikację ustawienia fragmentu słupa i zamocuj go nałożonymi na każdą kotwę nakrętką z podkładką kontrującą (rysunek 2).
5. Zamontuj rygle z ceowników na słupie (rysunek 4).

Podczas wykonywania zadania przestrzegaj zasad organizacji pracy, przepisów bezpieczeństwa i higieny pracy, przepisów przeciwpożarowych oraz ochrony środowiska.

Po wykonaniu zadania uporządkuj stanowisko pracy, a odpady umieść w przygotowanym pojemniku na odpady.

Warunki techniczne wykonania konstrukcji stalowych (wyciąg)

- Odchyłka osi otworu od jego projektowanego położenia w grupie otworów (dotyczy rygła): ± 1 mm
- Osie otworów znajdują się $210 \text{ mm} \pm 2 \text{ mm}$ od krawędzi ceownika (rygła).
- Odchyłka długości ceownika (rygła) ± 2 mm
- Odchyłka położenia w pionie dolnej blachy fragmentu słupa od powierzchni fundamentu: ± 5 mm
- Odchylenie końca fragmentu słupa od pionu (zmierzone w 2 osiach) nie przekracza ± 5 mm

Czas przeznaczony na wykonanie zadania wynosi 180 minut.

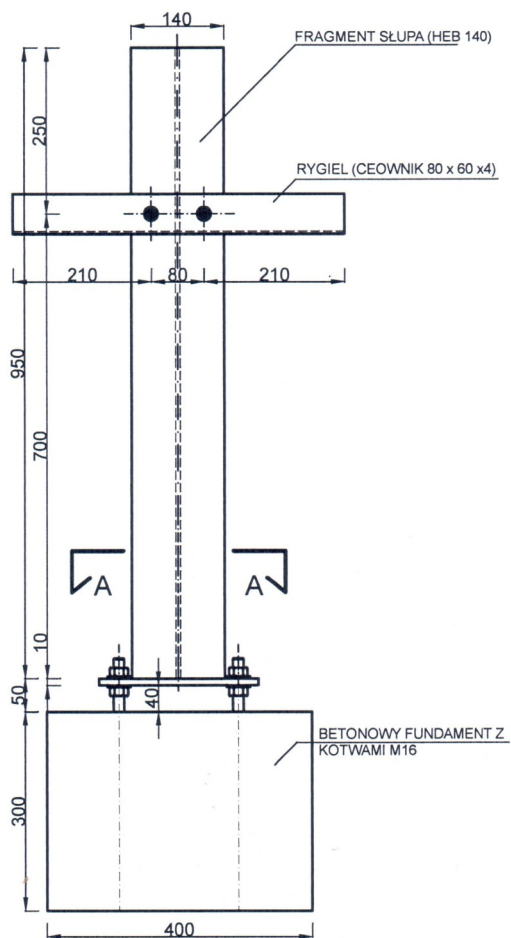
Ocenię podlegać będą 4 rezultaty:

- przycięte na wymiar ceowniki na rygle,
- otwory montażowe w ryglach,
- fragment słupa stalowego zamontowany na fundamencie,
- rygle zamontowane do słupa

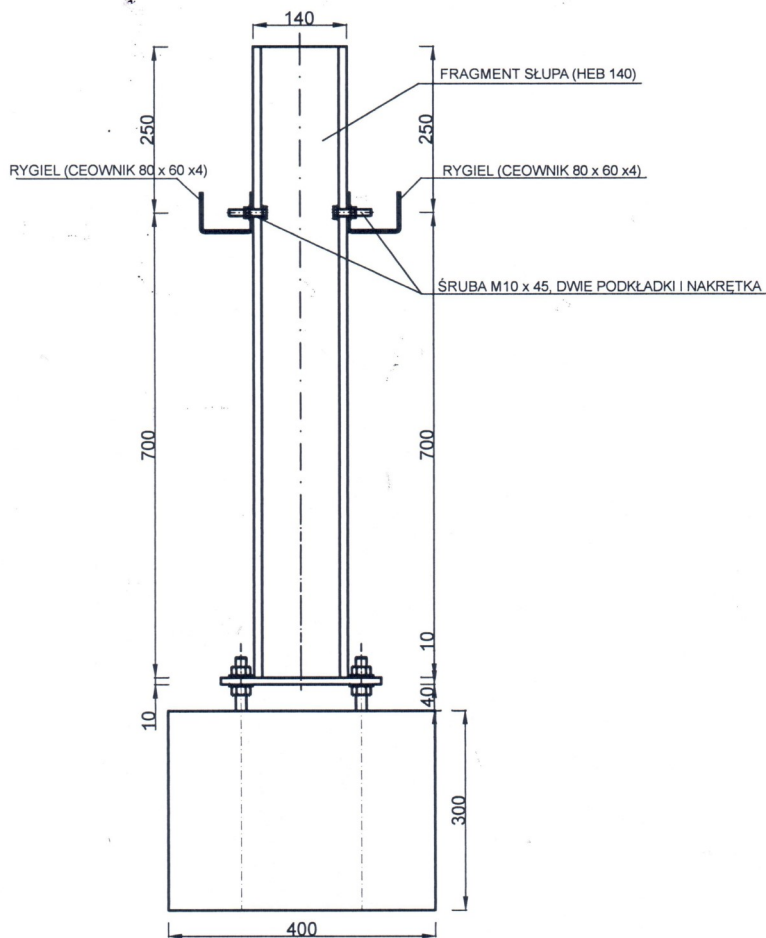
oraz

przebieg wykonania montażu słupa z ryglami.

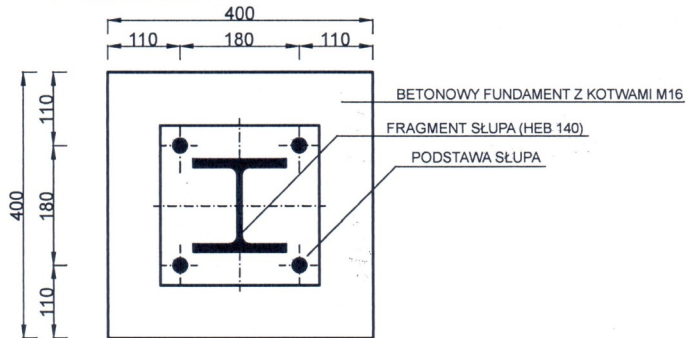
**FRAGMENT SŁUPA NA FUNDAMENCIE -
WIDOK OD STRONY RYGLI**



**FRAGMENT SŁUPA NA FUNDAMENCIE -
WIDOK OD Z BOKU**

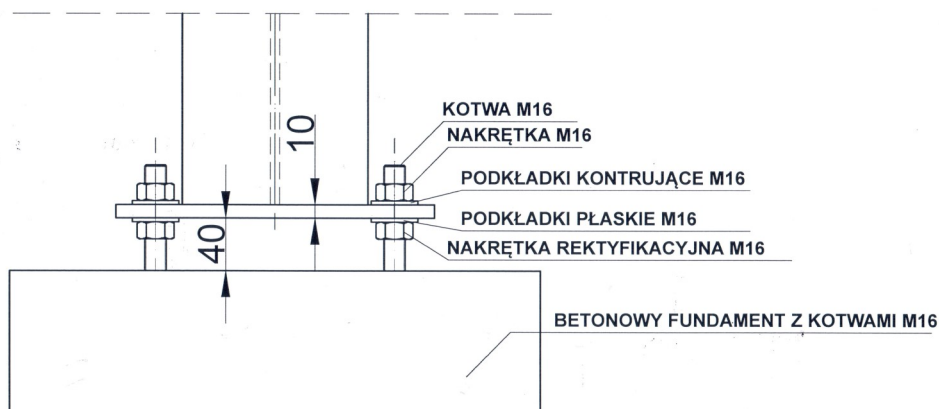


**FRAGMENT SŁUPA NA FUNDAMENCIE
- PRZEKRÓJ A-A**

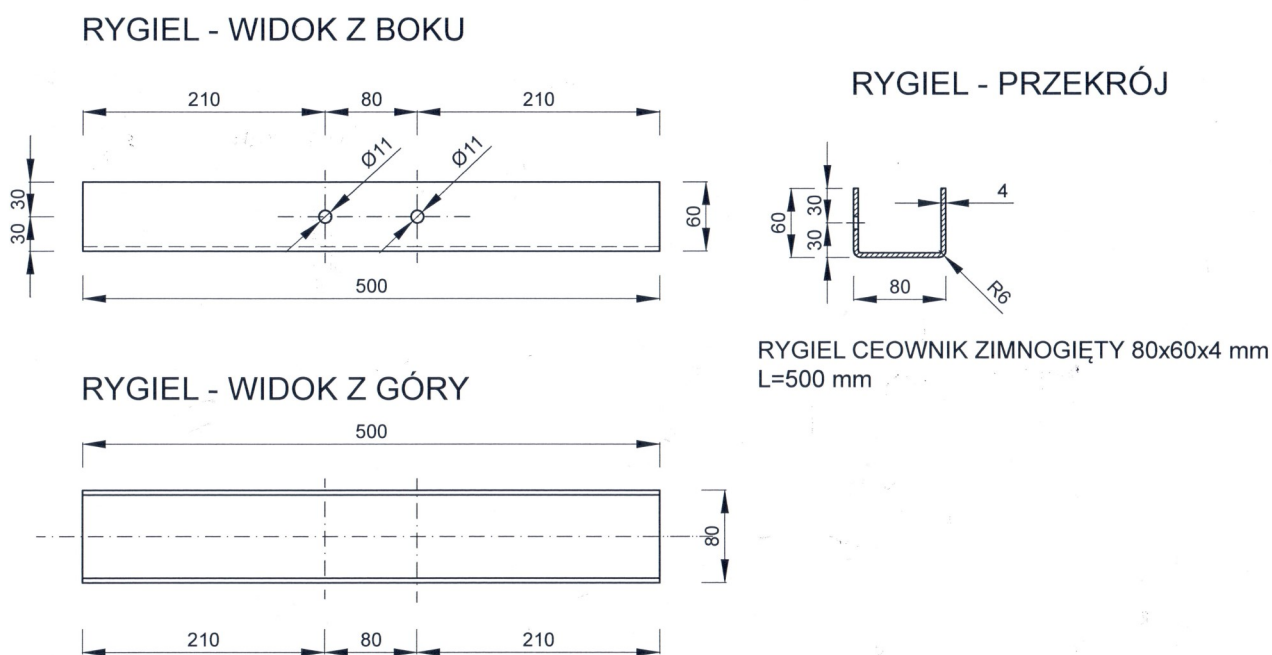


Rysunek 1. Słup stalowy na fundamencie, z zamocowanymi ryglami

SZCZEGÓŁ POŁĄCZENIA SŁUPA Z FUNDAMENTEM

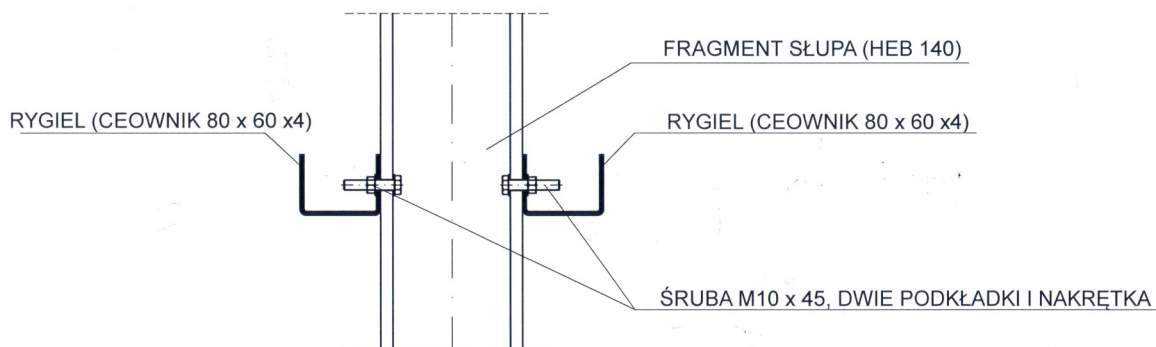


Rysunek 2. Szczegół połączenia słupa z fundamentem



Rysunek 3. Rygiel z ceownika

SPOSÓB MONTAŻU DO SŁUPA



Rysunek 4. Szczegół połączenia rygla ze słupem

