

Nazwa kwalifikacji: **Wytwarzanie wyrobów z drewna i materiałów drewnopochodnych**

Oznaczenie kwalifikacji: **DRM.04**

Numer zadania: **01**

Wersja arkusza: **SG**

Wypełnia zdający

Numer PESEL zdającego\*

--	--	--	--	--	--	--	--	--	--	--	--	--	--	--	--	--	--	--	--

Miejsce na naklejkę z numerem  
PESEL i z kodem ośrodka

Czas trwania egzaminu: **180** minut.

DRM.04-01-23.06-SG

## **EGZAMIN ZAWODOWY**

**Rok 2023**

**CZĘŚĆ PRAKTYCZNA**

**PODSTAWA PROGRAMOWA  
2019**

### **Instrukcja dla zdającego**

1. Na pierwszej stronie arkusza egzaminacyjnego wpisz w oznaczonym miejscu swój numer PESEL i naklej naklejkę z numerem PESEL i z kodem ośrodka.
2. Na KARCIE OCENY w oznaczonym miejscu przyklej naklejkę z numerem PESEL oraz wpisz:
  - swój numer PESEL\*,
  - oznaczenie kwalifikacji,
  - numer zadania,
  - numer stanowiska.
3. KARTĘ OCENY przełącz zespołowi nadzorującemu.
4. Sprawdź, czy arkusz egzaminacyjny zawiera 8 stron i nie zawiera błędów. Ewentualny brak stron lub inne usterki zgłoś przez podniesienie ręki przewodniczącemu zespołu nadzorującego.
5. Zapoznaj się z treścią zadania oraz stanowiskiem egzaminacyjnym. Masz na to 10 minut. Czas ten nie jest wliczany do czasu trwania egzaminu.
6. Czas rozpoczęcia i zakończenia pracy zapisz w widocznym miejscu przewodniczący zespołu nadzorującego.
7. Wykonaj samodzielnie zadanie egzaminacyjne. Przestrzegaj zasad bezpieczeństwa i organizacji pracy.
8. Jeżeli w zadaniu egzaminacyjnym występuje polecenie „zgłoś gotowość do oceny przez podniesienie ręki”, to zastosuj się do polecenia i poczekaj na decyzję przewodniczącego zespołu nadzorującego.
9. Po zakończeniu wykonania zadania pozostaw rezultaty oraz arkusz egzaminacyjny na swoim stanowisku lub w miejscu wskazanym przez przewodniczącego zespołu nadzorującego.
10. Po uzyskaniu zgody zespołu nadzorującego możesz opuścić salę/miejsce przeprowadzania egzaminu.

**Powodzenia!**

\* w przypadku braku numeru PESEL – seria i numer paszportu lub innego dokumentu potwierdzającego tożsamość

## Zadanie egzaminacyjne

Wykonaj z drewna litego półkę wiszącą zgodnie z dokumentacją rysunkową zamieszczoną w arkuszu egzaminacyjnym. Elementy składowe półki są częściowo przygotowane i znajdują się na stanowisku egzaminacyjnym. Wykonaj piłowanie elementów półki na wymiary zgodnie z rysunkami. W ścianach bocznych wykonaj gniazda na listwę wzmacniającą.

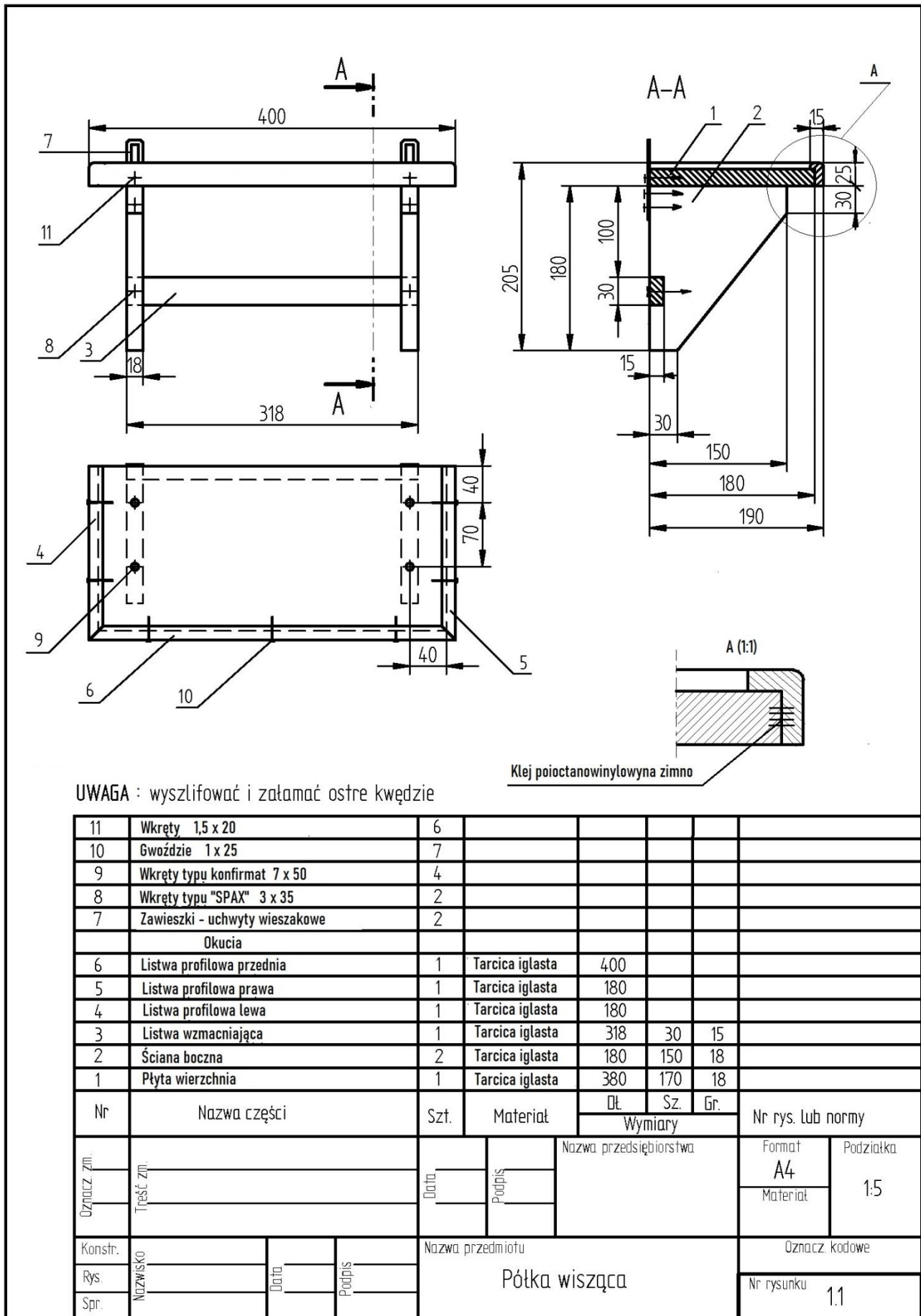
*Uwaga! Po wykonaniu obróbki mechanicznej i ręcznej elementów półki zgłoś, przez podniesienie ręki, Przewodniczącemu Zespołu Nadzorującego gotowość do oceny przygotowanych elementów. Po uzyskaniu zgody przystąp do wykonywania czynności związanych z montażem wyrobu.*

Zmontuj płytę wierzchnią i ściany boczne półki za pomocą wkrętów typu konfirmant. Zamocuj listwę wzmacniającą za pomocą kleju i wkrętów. Przytnij na odpowiedni wymiar listwy profilowe. Do zamocowania listwy profilowej do płyty wierzchniej użyj kleju i gwoździ. Zamocuj uchwyty wieszakowe.

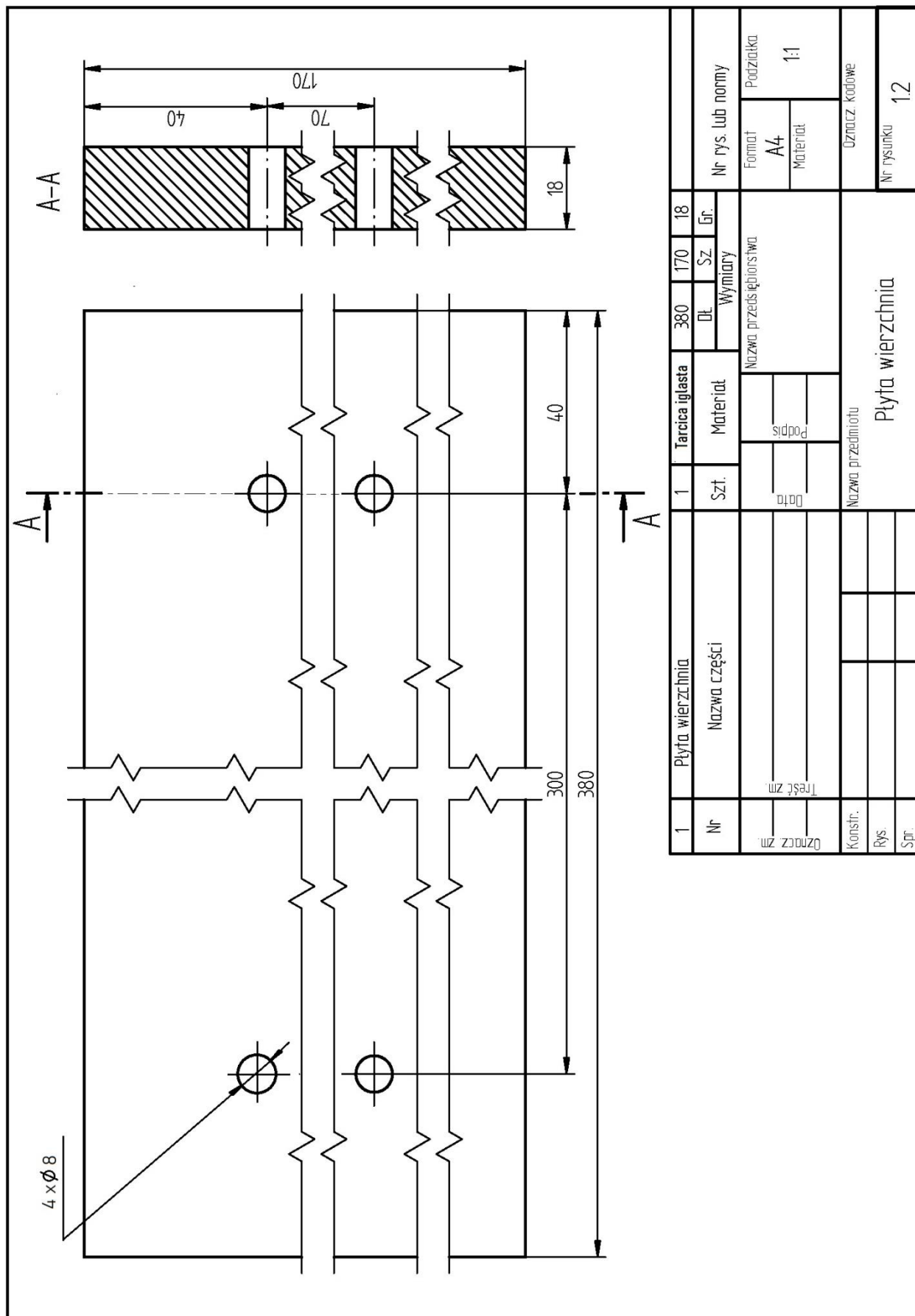
Zadanie wykonaj na stanowisku egzaminacyjnym wyposażonym w niezbędne materiały, narzędzia i sprzęt. Przestrzegaj zasad organizacji pracy, przepisów bezpieczeństwa i higieny pracy oraz ochrony środowiska.

Po zakończeniu pracy gotowy wyrób pozostaw na stanowisku, oczyść narzędzia i sprzęt, uporządkuj stanowisko egzaminacyjne, odpady posegreguj i umieść w odpowiednich pojemnikach.



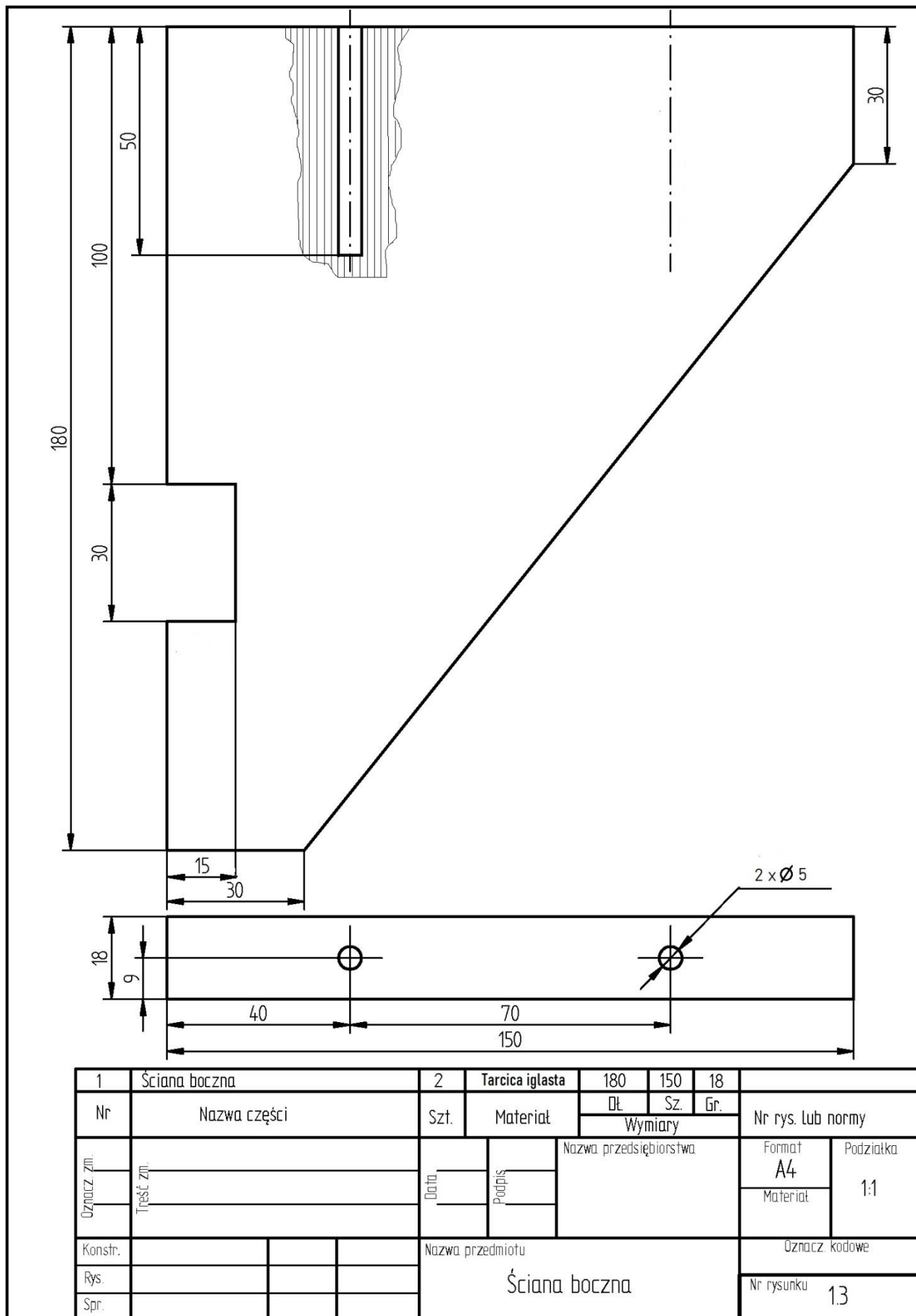


**Rysunek 2. Rysunek złożeniowy półki**

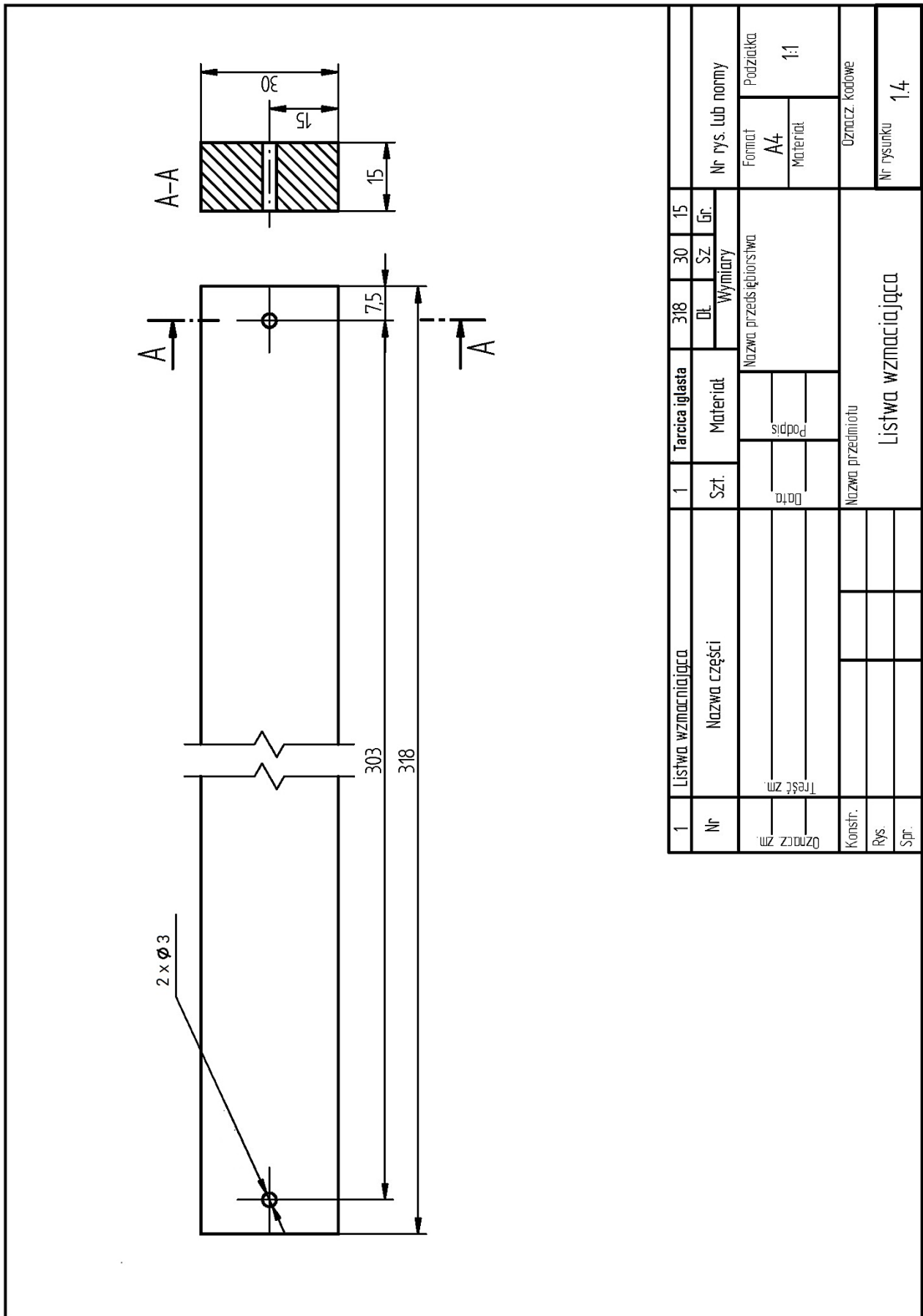


1	Płyta wierzchnia	1	Tarcica iglasta	380	170	18
	Nazwa części	Szt.	Materiał	Wymiary		
				Dł.	Sz.	Gr.
				Nazwa przedsięwzięcia		
				Nazwa przedmiotu		
				Płyta wierzchnia		
				Oznaczk. Kody		
				Nr rysunku		
				12		

Rysunek 3. Rysunek wykonawczy płyty wierzchniej



Rysunek 4. Rysunek wykonawczy ściany bocznej



Rysunek 5. Rysunek wykonawczy listwy wzmacniającej

1	Listwa wzmacniająca	1	Tarcica iglasta	318	30	15
Nr	Nazwa części	Szt.	Materiał	Wymiary		
Oznac. zm.	Treść zm.	Data	Podpis	Nazwa przedsiębiorstwa		
Konstr.	Nazwa przedmiotu					
Rys.	Listwa wzmacniająca					
Spr.	Oznac. kodowe					
			Nr rys. lub normy		Podziałka	
			Format A4		1:1	
			Materiał			
			Oznac. kodowe			
			Nr rysunku		1.4	

**Czas przeznaczony na wykonanie zadania wynosi 180 minut.**

**Ocenić będą 2 rezultaty:**

- elementy półki wiszącej przygotowane do montażu,
  - wykonana półka wisząca
- oraz przebieg wykonania półki wiszącej.



