

Nazwa kwalifikacji: **Projektowanie i programowanie urządzeń i systemów mechatronicznych**

Oznaczenie kwalifikacji: **E.19**

Wersja arkusza: **SG**

E.19-SG-23.06

Czas trwania egzaminu: **60 minut**

EGZAMIN POTWIERDZAJĄCY KWALIFIKACJE W ZAWODZIE

Rok 2023

CZĘŚĆ PISEMNA

**PODSTAWA PROGRAMOWA
2012**

Instrukcja dla zdającego

1. Sprawdź, czy arkusz egzaminacyjny zawiera 19 stron. Ewentualny brak stron lub inne usterki zgłoś przewodniczącemu zespołu nadzorującego.
2. Do arkusza dołączona jest KARTA ODPOWIEDZI, na której w oznaczonych miejscach:
 - wpisz oznaczenie kwalifikacji,
 - zamaluj kratkę z oznaczeniem wersji arkusza,
 - wpisz swój numer PESEL*,
 - wpisz swoją datę urodzenia,
 - przyklej naklejkę ze swoim numerem PESEL.
3. Arkusz egzaminacyjny zawiera test składający się z 40 zadań.
4. Za każde poprawnie rozwiązane zadanie możesz uzyskać 1 punkt.
5. Aby zdać część pisemną egzaminu musisz uzyskać co najmniej 20 punktów.
6. Czytaj uważnie wszystkie zadania.
7. Rozwiązania zaznaczaj na KARCIE ODPOWIEDZI długopisem lub piórem z czarnym tuszem/atramentem.
8. Do każdego zadania podane są cztery możliwe odpowiedzi: A, B, C, D. Odpowiada im następujący układ krerek w KARCIE ODPOWIEDZI:

A	B	C	D
---	---	---	---

9. Tylko jedna odpowiedź jest poprawna.
10. Wybierz właściwą odpowiedź i zamaluj kratkę z odpowiadającą jej literą – np., gdy wybrałeś odpowiedź „A”:

<input checked="" type="checkbox"/>	B	C	D
-------------------------------------	---	---	---

11. Staraj się wyraźnie zaznaczać odpowiedzi. Jeżeli się pomylisz i błędnie zaznaczysz odpowiedź, otocz ją kółkiem i zaznacz odpowiedź, którą uważasz za poprawną, np.

<input checked="" type="checkbox"/>	B	C	<input checked="" type="checkbox"/>
-------------------------------------	---	---	-------------------------------------

12. Po rozwiązaniu testu sprawdź, czy zaznaczyłeś wszystkie odpowiedzi na KARCIE ODPOWIEDZI i wprowadziłeś wszystkie dane, o których mowa w punkcie 2 tej instrukcji.

Pamiętaj, że oddajesz przewodniczącemu zespołu nadzorującego tylko KARTĘ ODPOWIEDZI.

Powodzenia!

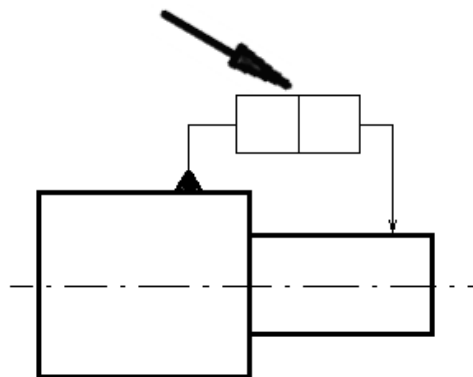
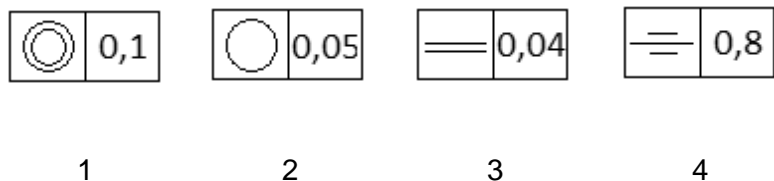
* w przypadku braku numeru PESEL – seria i numer paszportu lub innego dokumentu potwierdzającego tożsamość

Zadanie 1.

Do przedstawienia wzajemnego usytuowania części i zespołów projektowanej maszyny służy rysunek

- A. rzutowy.
- B. częściowy.
- C. zespołowy.
- D. złożeniowy.

Zadanie 2.



Które oznaczenie należy wstawić we wskazane strzałką puste pola kwadratów, aby dotyczyło ono określenia współosiowości przedstawionych na rysunku powierzchni walcowych?

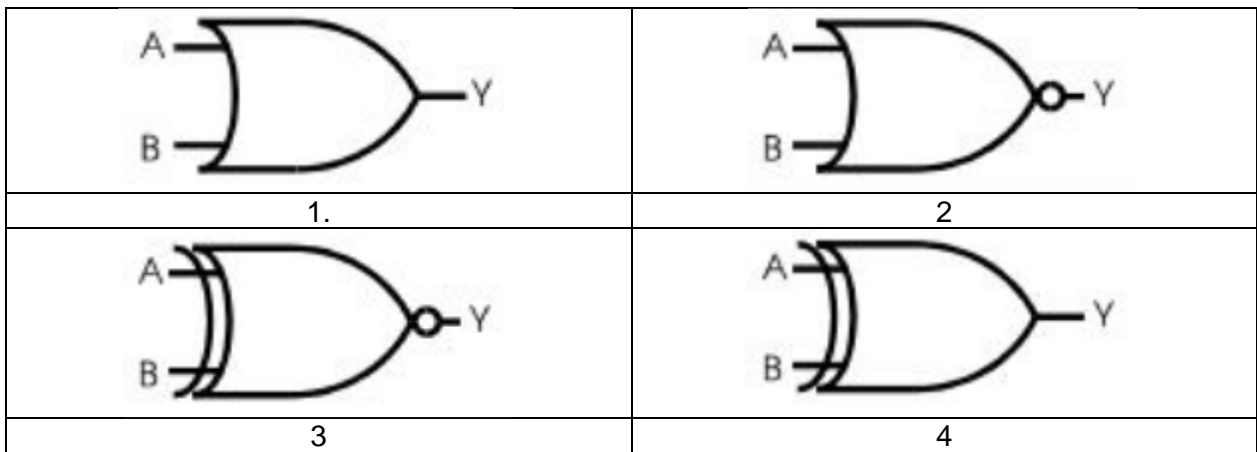
- A. 1
- B. 2
- C. 3
- D. 4

Zadanie 3.

Aby zaznaczyć na rysunku promień łuku należy użyć litery

- A. R
- B. D
- C. Φ
- D. X

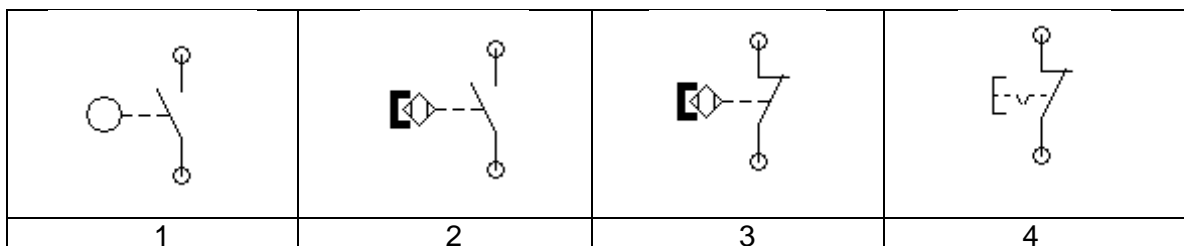
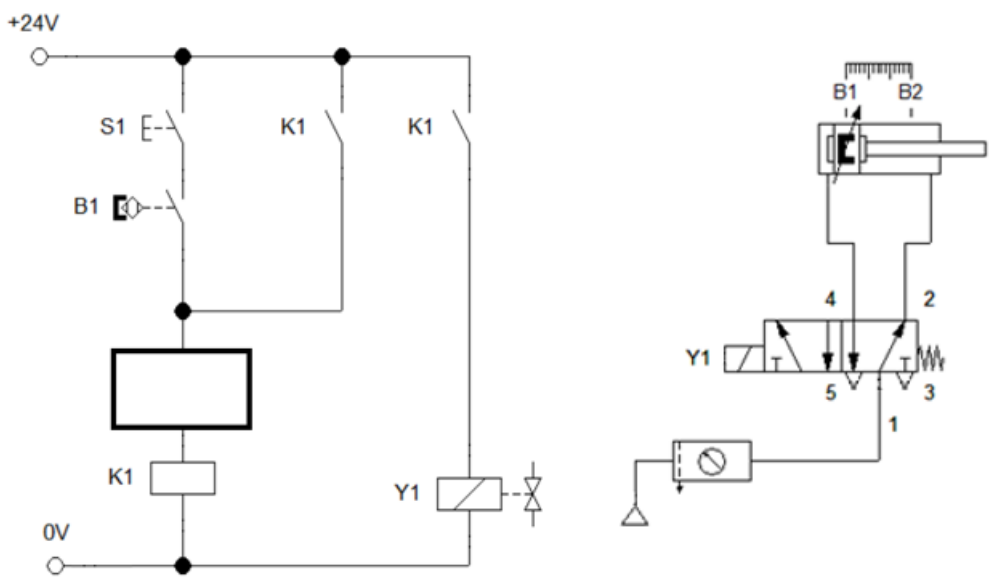
Zadanie 4.



Którego symbolu graficznego należy użyć, aby przedstawić na schemacie układu cyfrowego bramkę logiczną, której wyjście $Y=1$ tylko wtedy, gdy $A = B$?

- A. 1
- B. 2
- C. 3
- D. 4

Zadanie 5.



Którego symbolu graficznego należy użyć na przedstawionym schemacie, by tłoczyśko siłownika zostało wsunięte po osiągnięciu maksymalnego wysunięcia?

- A. 1
- B. 2
- C. 3
- D. 4

Zadanie 6.

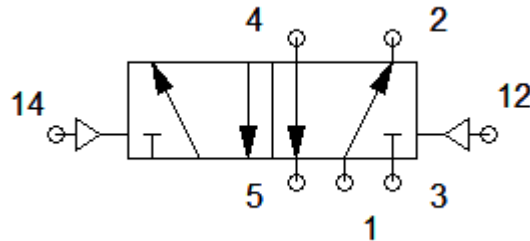
W jakim stanie należy przedstawiać na schematach układów sterowania zestyki elementów stykowych?

- A. Przewodzenia.
- B. Wzbudzonym.
- C. Nieprzewodzenia.
- D. Niewzbudzonym.

Zadanie 7.

Do których przyłączy zaworu rozdzielającego przedstawionego na rysunku podłączane są sygnały sterujące?

- A. 2 i 4
- B. 5 i 3
- C. 1, 3 i 5
- D. 12 i 14



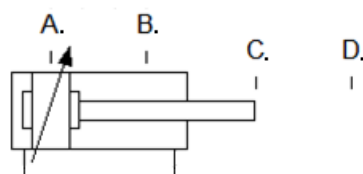
Zadanie 8.

Którą linią zaznacza się na schematach pneumatycznych wewnętrzne sygnały sterujące?

- A. Ciągłą.
- B. Kreskową.
- C. Punktową.
- D. Dwupunktową.

Zadanie 9.

Wskaż miejsce, w którym należy umieścić czujnik indukcyjny, który będzie aktywny, gdy tłoczek siłownika będzie całkowicie wysunięty.

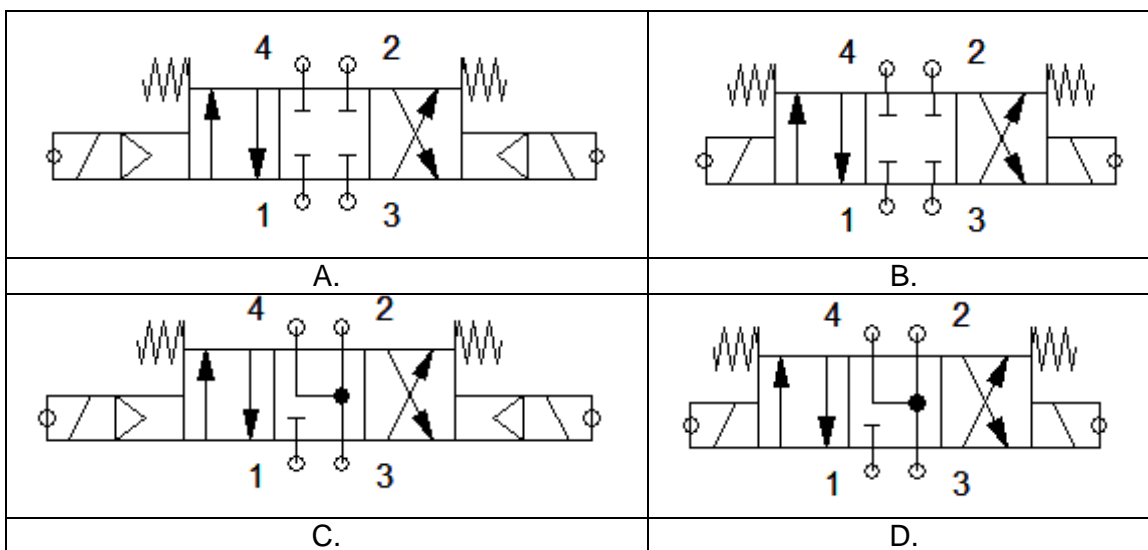


- A. A
- B. B
- C. C
- D. D

Zadanie 10.

Zawór sterujący kierunkiem przepływu z czterema drogami przepływu i trzema niezależnymi położeniami, sterowany dwustopniowo za pomocą elektromagnesów i wzrostu ciśnienia czynnika roboczego, w położeniu środkowym sphyw do zbiornika, położenie środkowe ustalane za pomocą dwóch sprężyn.

Który symbol powinien zostać umieszczony na schemacie, aby przedstawiał zawór opisany w ramce?



Zadanie 11.

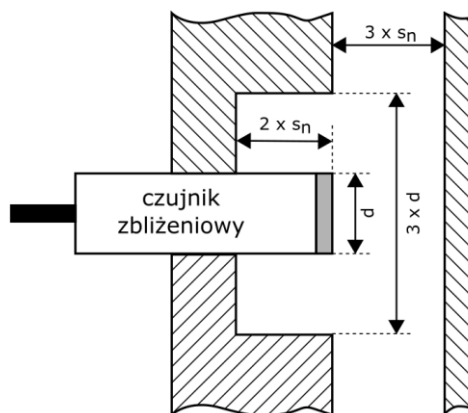
Której czynności projektowej **nie można wykonać** w oprogramowaniu typu CAM?

- A. Opracowania instrukcji (G-CODE) dla maszyn typu Rapid Prototyping.
- B. Symulowania obróbki obiektu w wirtualnym środowisku.
- C. Opracowania dokumentacji technologicznej wyrobu.
- D. Wygenerowania kodu dla obrabiarki CNC.

Zadanie 12.

Rysunek przedstawia nieekranowany czujnik indukcyjny zamontowany w otoczeniu metalowych części konstrukcji mechanicznej. W jakiej minimalnej odległości przed czołem czujnika mogą znajdować się metalowe elementy konstrukcyjne, by umożliwić jego prawidłowe działanie?

- A. $2 \times d$
- B. $3 \times d$
- C. $2 \times S_n$
- D. $3 \times S_n$

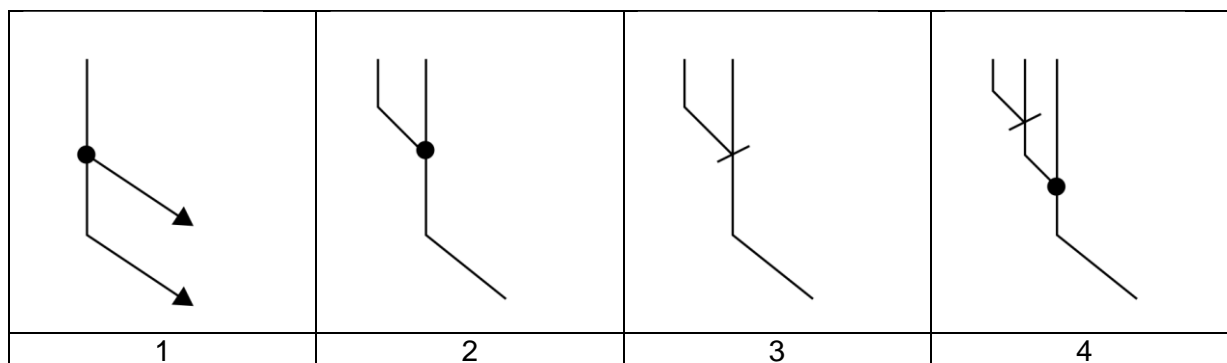


Zadanie 13.

Parametry techniczne czujnika	
Ekonomiczny przetwornik ciśnienia - Zakres pomiarowy: 0 ... 1 bar / 0 ... 250 bar - Dokładność: 0,3% - Przyłącze procesowe: G1/4" - Sygnał wyjściowy: 4 ... 20 mA - Przyłącze elektryczne: wtyczka kątowna - Temperatura medium: -25 ... 85 °C - Zasilanie: 9 ... 30 V DC	

Sterownik PLC sterujący układem mechatronicznym, w którym zastosowano przetwornik ciśnienia o prądowym sygnale wyjściowym 4 ... 20 mA, musi być wyposażony w

- A. wejście analogowe 0 ÷ 10 VDC
- B. wyjście analogowe 0 ÷ 10 VDC
- C. wejście prądowe 4 ÷ 20 mA
- D. wyjście prądowe 4 ÷ 20 mA

Zadanie 14.

Który z przedstawionych symboli należy zastosować, rysując diagram stanów, aby zaznaczyć sumę sygnałów?

- A. 1
- B. 2
- C. 3
- D. 4

Zadanie 15.

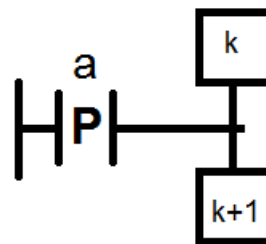
Który z wymienionych kwalifikatorów działań, stosowanych w metodzie SFC, opisuje uzależnienia czasowe?

- A. D
- B. N
- C. R
- D. S

Zadanie 16.

Który warunek zagwarantuje przejście z kroku k do kroku $k+1$?

- A. Gdy wartość $a=0$
- B. Gdy wartość $a=1$
- C. Gdy a zmieni wartość z 1 na 0
- D. Gdy a zmieni wartość z 0 na 1

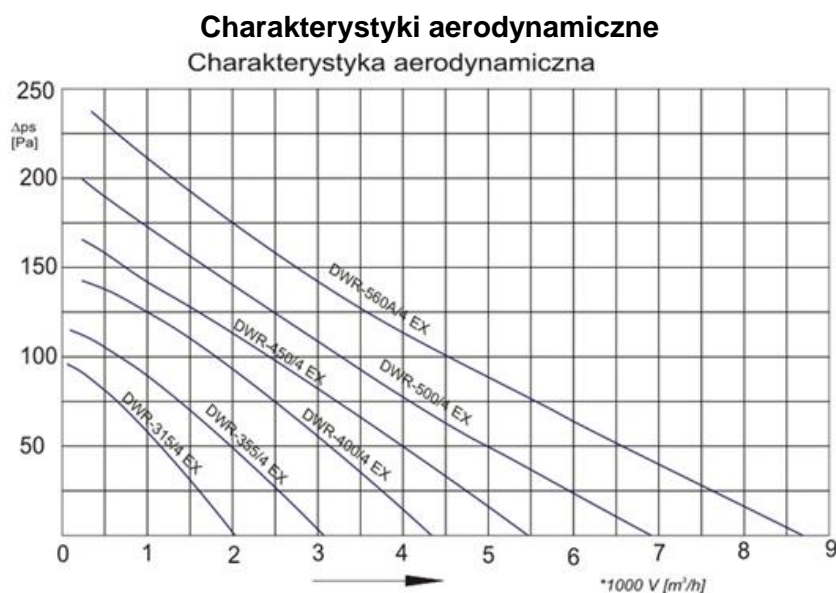


Zadanie 17.

Zgodnie z zasadą tworzenia programu za pomocą SFC

- A. dwa kroki nie mogą być bezpośrednio ze sobą połączone, muszą być rozdzielone tranzycją.
- B. dwa kroki powinny być bezpośrednio ze sobą połączone, nie mogą być rozdzielone tranzycją.
- C. dwie tranzycje mogą być bezpośrednio ze sobą połączone, nie muszą być rozdzielone krokiem.
- D. dwie tranzycje powinny być bezpośrednio ze sobą połączone, nie mogą być rozdzielone krokiem.

Zadanie 18.



Na podstawie przedstawionych charakterystyk aerodynamicznych wskaż, który z wymienionych wentylatorów należy zastosować, aby przy przepływie $4000 \text{ m}^3/\text{h}$ zapewnić sprężenie powyżej 100 Pa .

- A. DWR-400/4 EX
- B. DWR-450/4 EX
- C. DWR-500/4 EX
- D. DWR-560A/4 EX

Zadanie 19.

Który z elementów należy zastosować w projektowanym układzie hydraulicznym, w celu uzyskania stałej prędkości wysuwu tłoczyśka siłownika przy zmiennym obciążeniu?

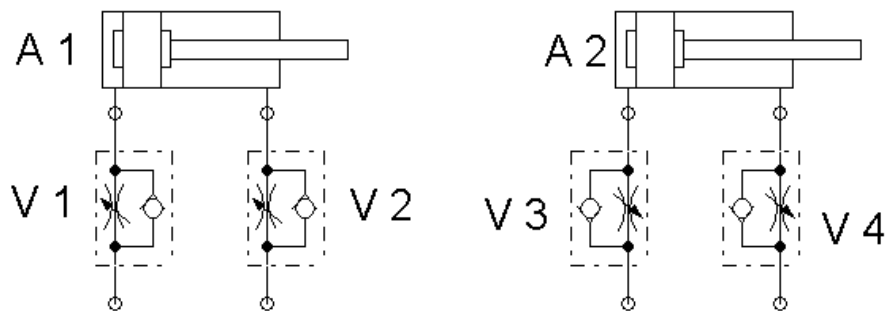
- A. Zawór redukcyjny.
- B. Zawór dławiąco-zwrotny.
- C. Zawór zwrotny sterowany.
- D. Regulator natężenia przepływu.

Zadanie 20.

Co najmniej ilu bitowy przetwornik A/C należy zastosować w układzie, by dla zakresu pomiarowego $0 \text{ mA} \div 20 \text{ mA}$ zapewnić rozdzielczość w zaokrągleniu równą $0,01 \text{ mA}$?

- A. 16 bitowy
- B. 12 bitowy
- C. 11 bitowy
- D. 10 bitowy

Zadanie 21.



Które połączenie zaworu dławiąco-zwrotnego z siłownikiem należy narysować na schemacie, by projektowany układ zapewniał spowolnienie wysuwu tłoczyska siłownika dwustronnego działania na wylocie?

- A. V1
- B. V2
- C. V3
- D. V4

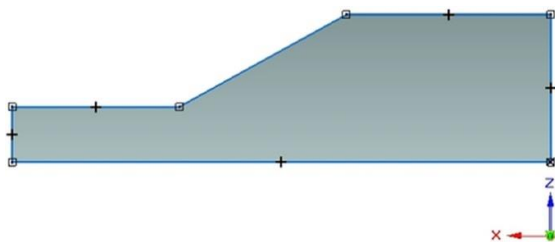
Zadanie 22.

Która z liter adresowych zastosowanych w poniższej instrukcji programowania obrabiarki oznacza szybkość posuwu?

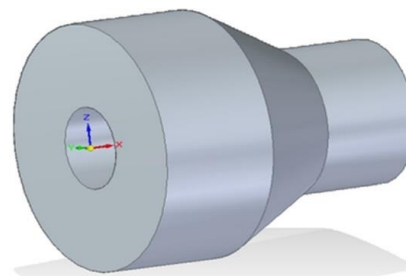
- A. F
- B. G
- C. N
- D. Q

```
CNC N120 G31 X50 Z-30 D-2 F3 Q3
```


Zadanie 23.



Rysunek 1.

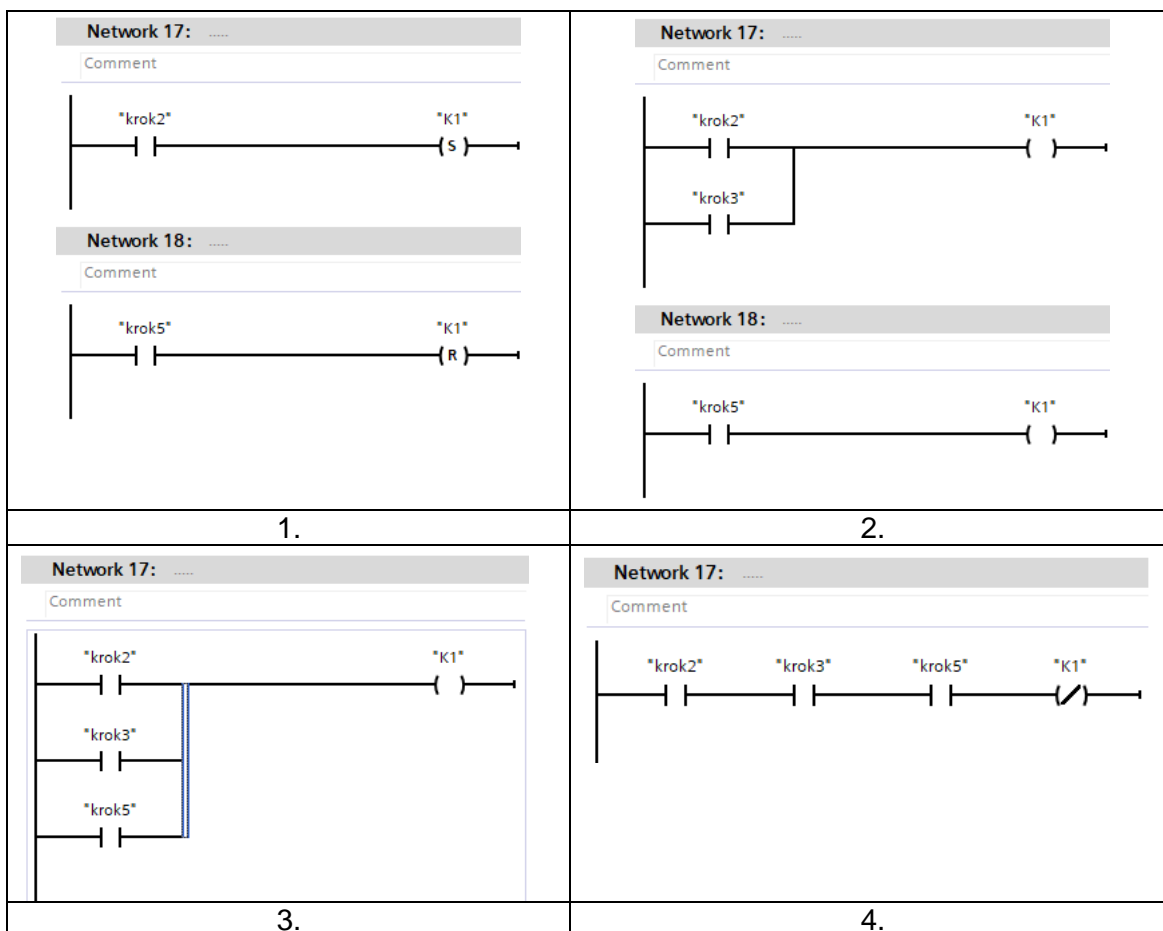


Rysunek 2.

Którą operację należy wykonać w programie CAD, aby ze szkicu przedstawionego na rysunku 1. utworzyć bryłę 3D przedstawioną na rysunku 2?

- A. Wyciągnięcie proste.
- B. Wyciągnięcie obrotowe.
- C. Przeciągnięcie po krzywej.
- D. Przeciągnięcie przez przekroje.

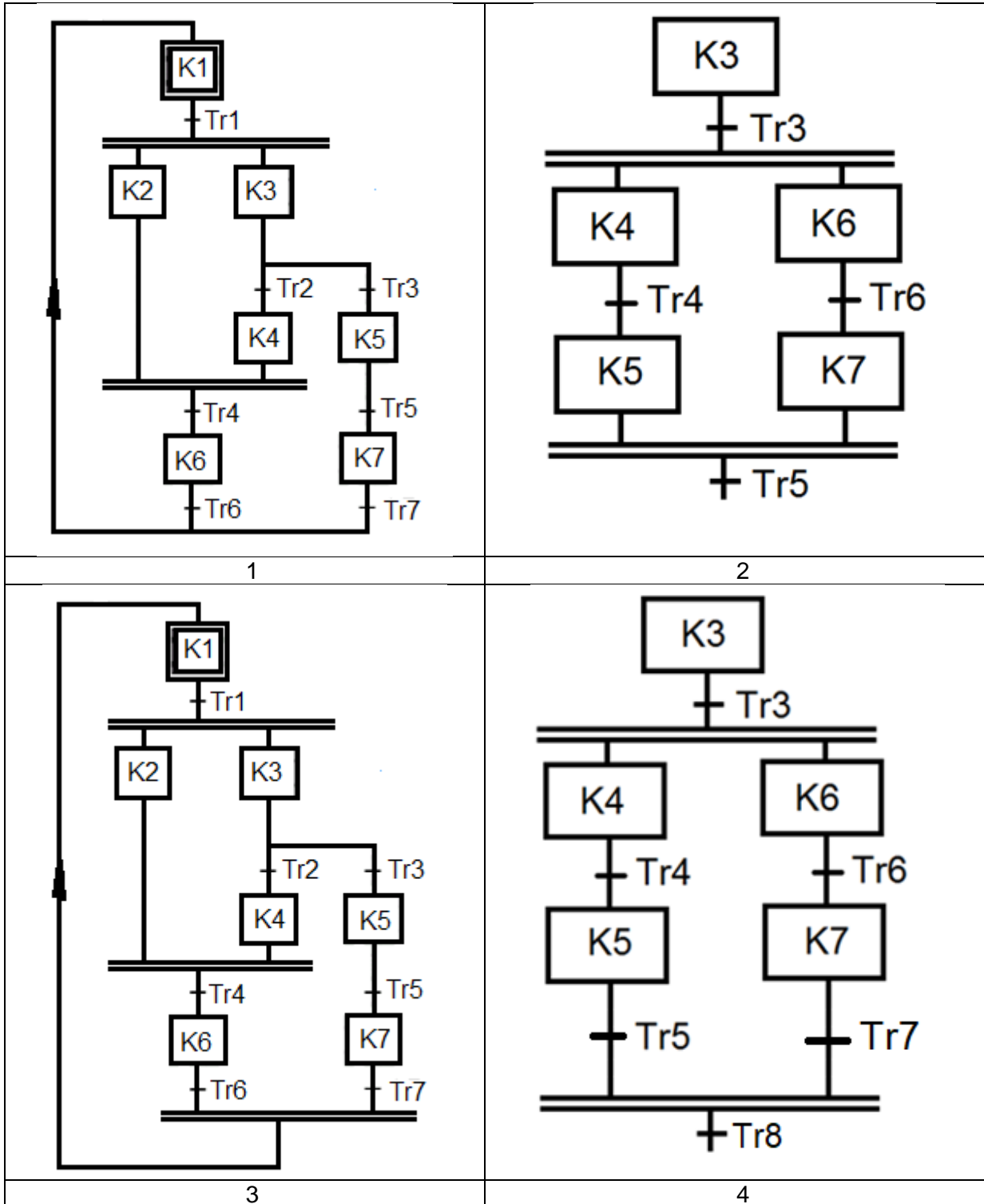
Zadanie 24.



Urządzenie sterowane za pomocą PLC realizuje proces produkcyjny w 5 krokach. Stycznik K1 podłączony do wyjścia Q0.1 sterownika powinien być załączony tylko w krokach 2, 3 i 5. Który fragment programu prawidłowo realizuje sterowanie stycznikiem K1?

- A. 1.
- B. 2.
- C. 3.
- D. 4.

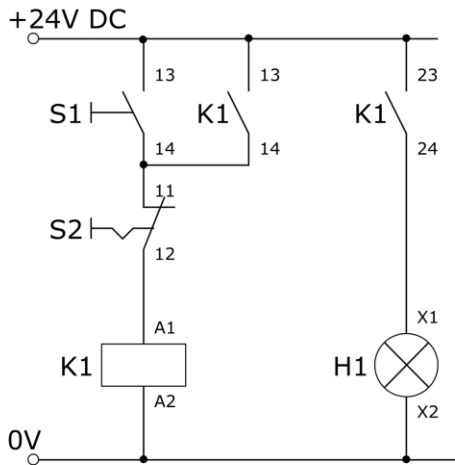
Zadanie 25.



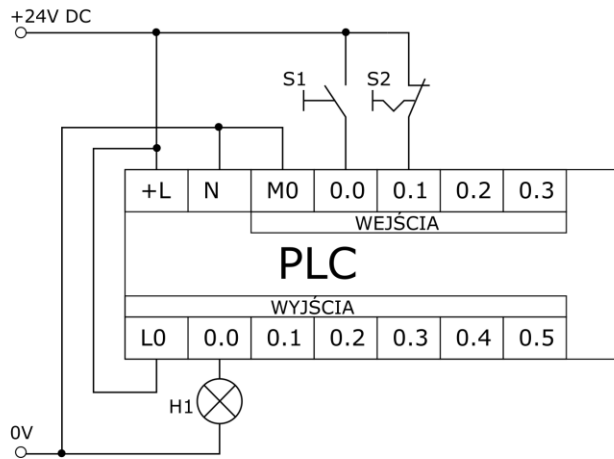
Który z algorytmów zawiera sekwencję współbieżną zapisaną zgodnie z zasadami języka SFC?

- A. 1
- B. 2
- C. 3
- D. 4

Zadanie 26.



Układ przekaźnikowo-stycznikowy



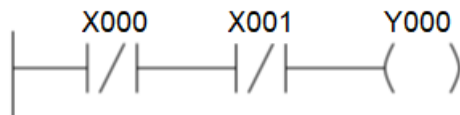
Układ ze sterownikiem PLC

1	2
3	4

Na schematach zostały przedstawione układy: przekaźnikowo-stycznikowy oraz zastępujący go układ ze sterownikiem PLC. Który z przedstawionych programów zapisanych w języku LD realizuje działanie układu przekaźnikowo-stykowego?

- A. 1
- B. 2
- C. 3
- D. 4

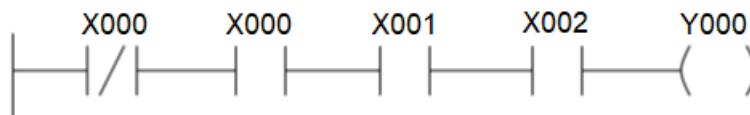
Zadanie 27.



Którą funkcję logiczną realizuje fragment programu napisany w języku drabinkowym?

- A. $Y000 = X000 \wedge X001$
- B. $Y000 = \overline{X000} \vee \overline{X001}$
- C. $Y000 = \overline{X000} \wedge \overline{X001}$
- D. $Y000 = \overline{X000} \vee X001$

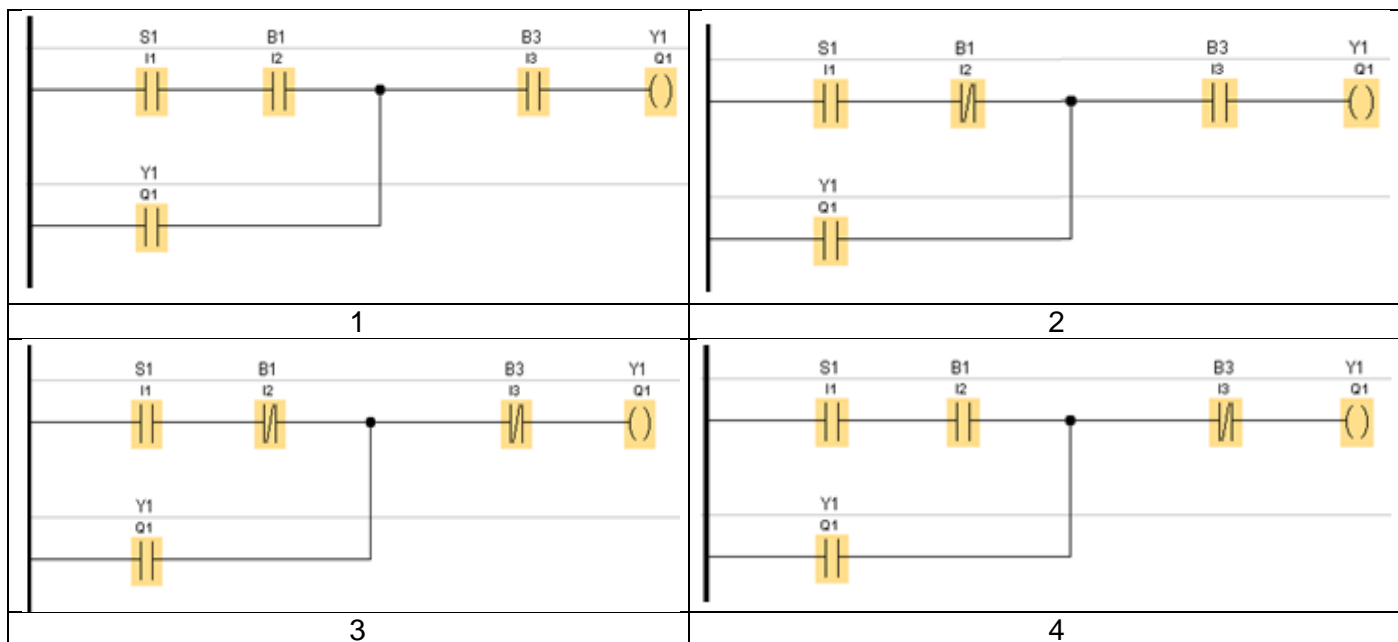
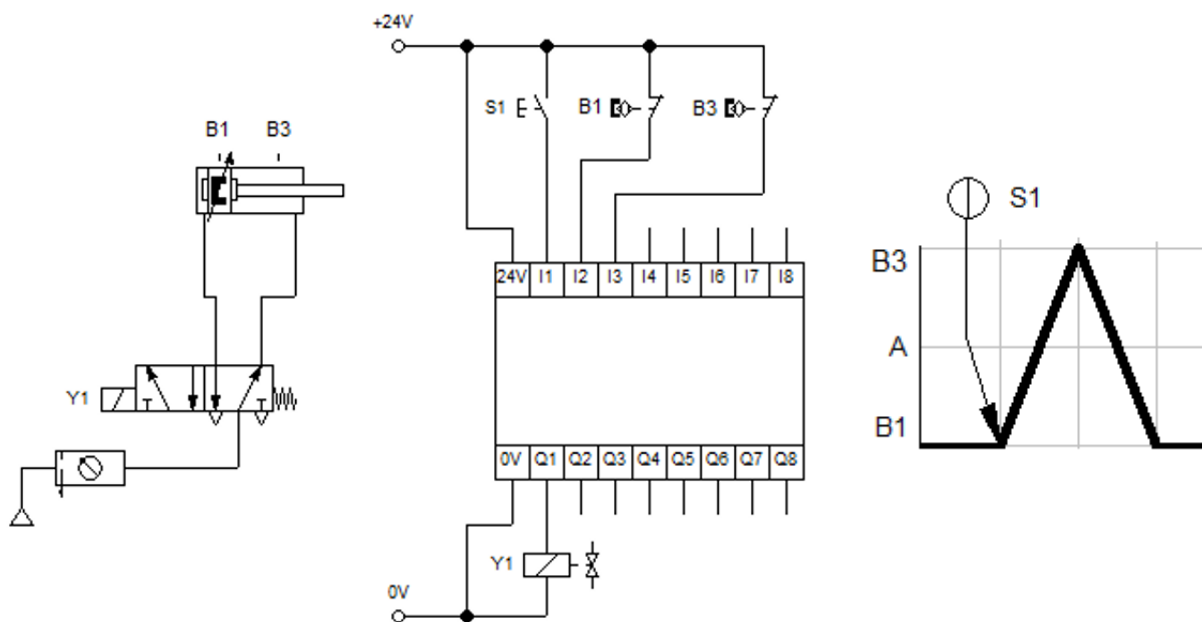
Zadanie 28.



Które zdanie właściwie opisuje stan wyjścia Y000?

- A. Stan wyjścia Y000 zależy od wartości iloczynu wejść X000, X001 i X002.
- B. Stan wyjścia Y000 zależy od wartości negacji iloczynu wejść X000, X001 i X002.
- C. Stan wyjścia Y000 jest równy 0 niezależnie od stanów wejść X000, X001 i X002.
- D. Stan wyjścia Y000 jest równy 1 niezależnie od stanów wejść X000, X001 i X002.

Zadanie 29.

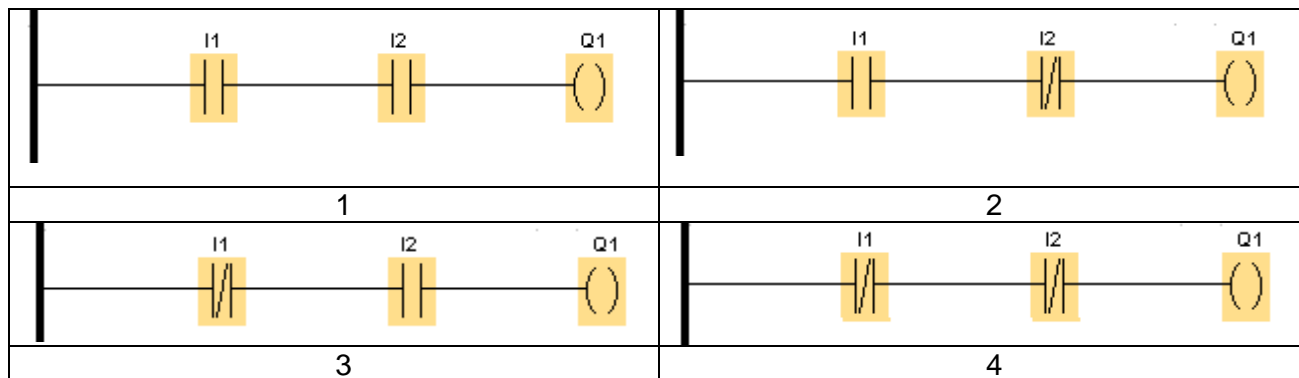


Który z programów realizuje działanie układu przedstawione w formie diagramu stanów?

- A. 1
- B. 2
- C. 3
- D. 4

Zadanie 30.

Do wejść I1 i I2 zostały podłączone dwa przyciski NC, a do wyjścia Q1 lampka sygnalizacyjna. Lampka ma świecić, gdy oba z przyciski zostaną naciśnięte.



Który z programów realizuje opisane działanie?

- A. 1
- B. 2
- C. 3
- D. 4

Zadanie 31.

Zgodnie z zasadami rysowania schematów układów pneumatycznych symbolem literowo-cyfrowym zawierającym literę A oznaczane są

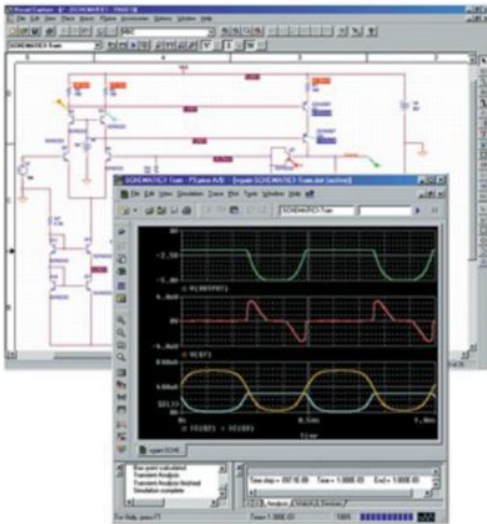
- A. pompy.
- B. siłowniki.
- C. elementy sygnałowe.
- D. zawory pneumatyczne.

Zadanie 32.

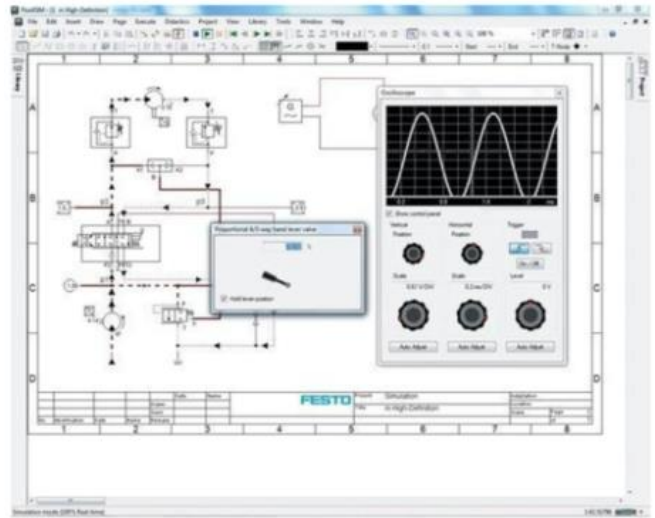
Które z przedstawionych poleceń spowoduje przesłanie programu z pamięci komputera do sterownika PLC?

- A. Write
- B. Upload
- C. Download
- D. Erase Memory

Zadanie 33.



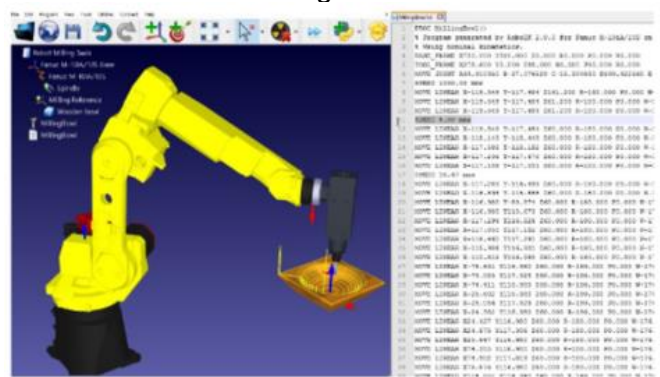
PSpice
Program 1



FluidSim
Program 2



WebHMI
Program 3

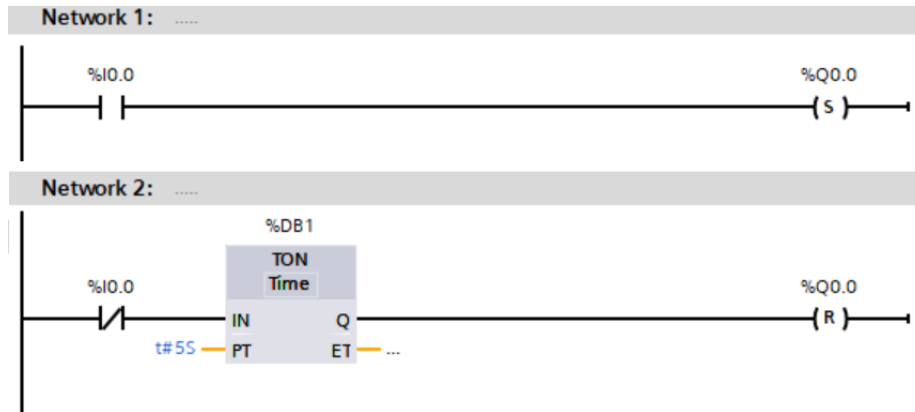


RoboDK
Program 4

Który z wymienionych programów komputerowych umożliwi przeprowadzenie symulacji działania zaprojektowanego multiwibratora?

- A. Program 1
- B. Program 2
- C. Program 3
- D. Program 4


Zadanie 34.



Jaki będzie stan wyjścia Q0.0, gdy na wejściu I0.0 nastąpi zmiana z 0 na 1?

- A. Q0.0 będzie równe 1.
- B. Q0.0 będzie równe 0.
- C. Zostanie załączone po 5s.
- D. Zostanie wyłączone po 5s.

Zadanie 35.



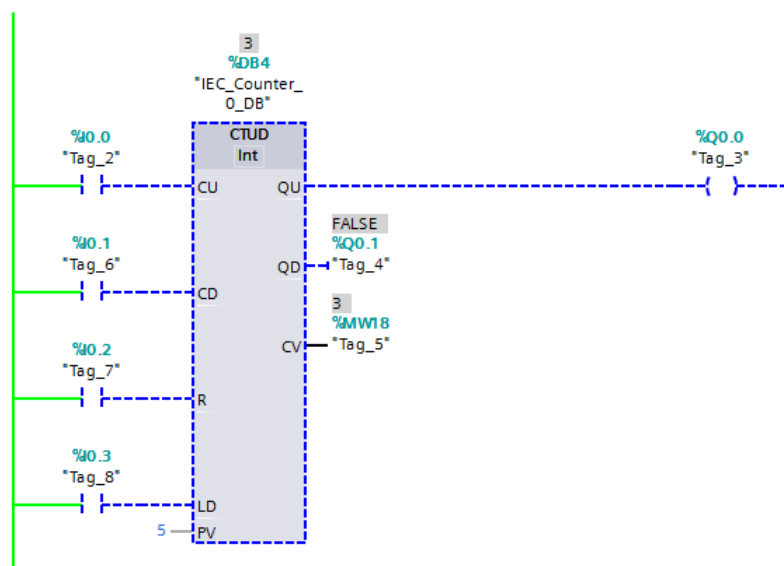
Marker M4.1 będzie równy 1, gdy

- A. M4.0=0 i MD0=11.5
- B. M4.0=0 i MD0=12.0
- C. M4.0=1 i MD0=11.5
- D. M4.0=1 i MD0=12.0

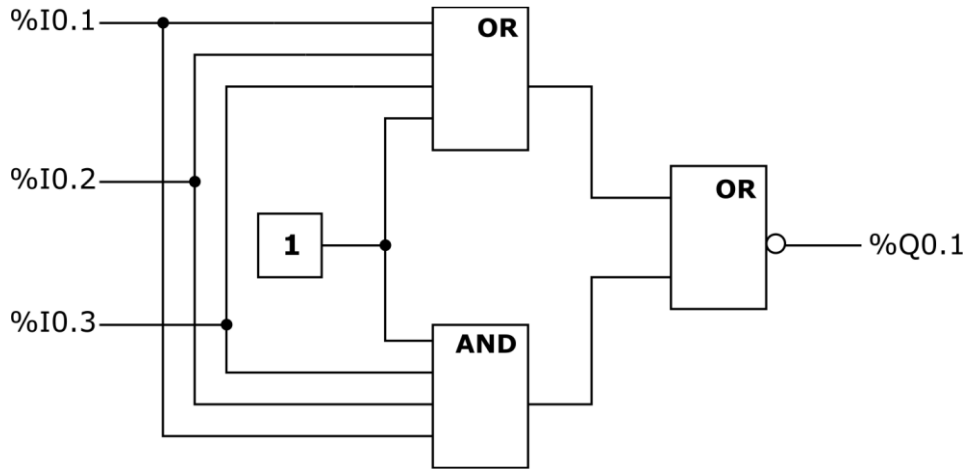
Zadanie 36.

Jaki będzie stan licznika przedstawionego na rysunku, jeśli na wejście R zostanie podany sygnał jedynki logicznej?

- A. 0
- B. 2
- C. 3
- D. 5



Zadanie 37.

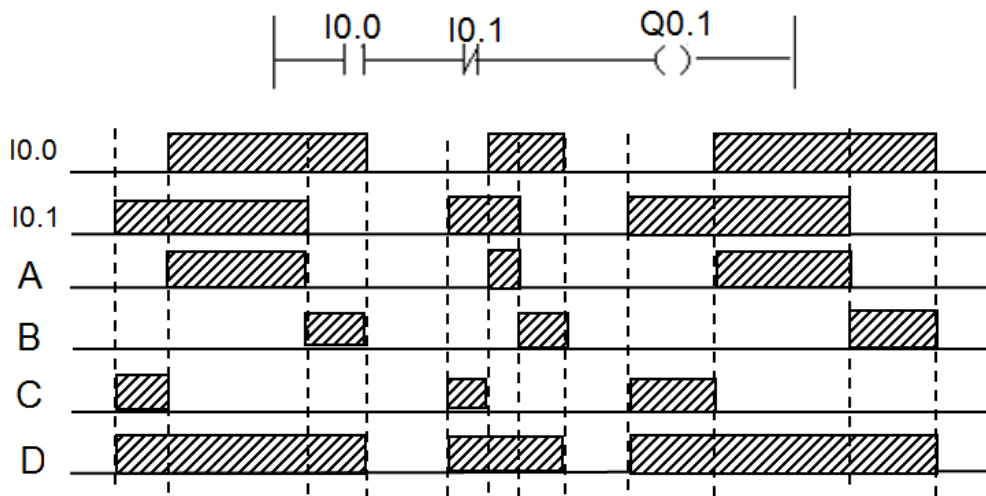


Który z wymienionych opisów stanów wejść %I0.1, %I0.2 i %I0.3 oraz stanu wyjścia %Q0.1 jest prawidłowy dla programu przedstawionego na rysunku?

- A. Wyjście %Q0.1=1 dla wejść %I0.1=%I0.2=%I0.3=0
- B. Wyjście %Q0.1=0 wyłącznie dla wejść %I0.1=%I0.2=%I0.3=1
- C. Wyjście %Q0.1=1 bez względu na stan wejść %I0.1, %I0.2 i %I0.3
- D. Wyjście %Q0.1=0 bez względu na stan wejść %I0.1, %I0.2 i %I0.3

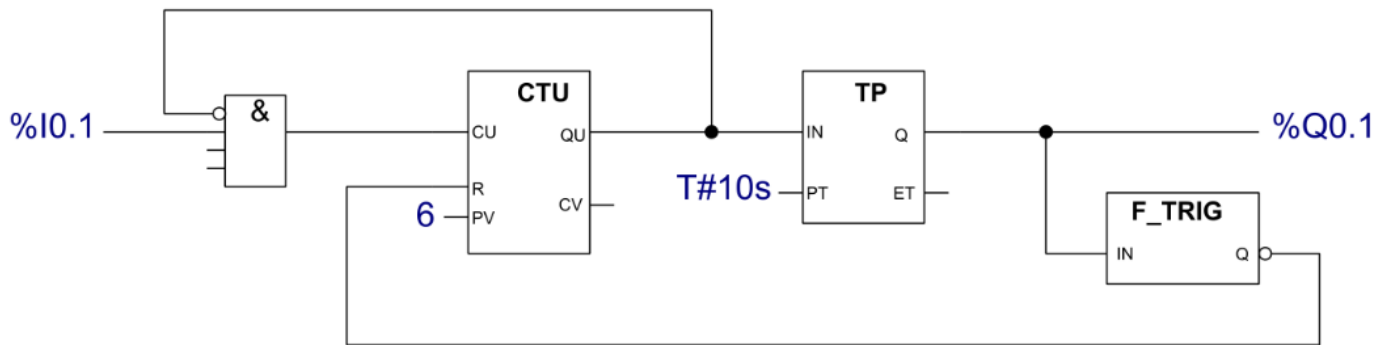
Zadanie 38.

Który z przebiegów czasowych przedstawia stan wyjścia Q0.1 dla stanów wejść przedstawionych poniżej?



- A. Przebieg A
- B. Przebieg B
- C. Przebieg C
- D. Przebieg D

Zadanie 39.



Na rysunku przedstawiono program sterujący linią technologiczną pakowania kawy. W wyniku jego działania do kartonu trafia 6 paczek kawy, po czym rozpoczyna się transport do maszyny zamykającej opakowanie. Wartość którego parametru należy zmienić w programie, aby w kartonie umieszczane były 4 paczki kawy?

- A. Kierunek zliczania.
- B. Wartość progową włączenia licznika.
- C. Wartość progową wyłączenia licznika.
- D. Czas transportu do maszyny zamykającej opakowanie.

Zadanie 40.

Jakie muszą być nastawy timera TON i komparatora w przedstawionym programie, by uzyskać przebieg prostokątny o częstotliwości 0,5Hz i wypełnieniu 40%?

- A. Timer: PT=100, komparator: +40
- B. Timer: PT=100, komparator: +60
- C. Timer: PT=200, komparator: +40
- D. Timer: PT=200, komparator: +60

