

Nazwa kwalifikacji: **Użytkowanie obrabiarek skrawających**  
Oznaczenie kwalifikacji: **M.19**  
Wersja arkusza: **X**

**M.19-X-18.06**  
Czas trwania egzaminu: **60 minut**

**EGZAMIN POTWIERDZAJĄCY KWALIFIKACJE W ZAWODZIE**  
**Rok 2018**  
**CZĘŚĆ PISEMNA**

**Instrukcja dla zdającego**

1. Sprawdź, czy arkusz egzaminacyjny zawiera 12 stron. Ewentualny brak stron lub inne usterki zgłoś przewodniczącemu zespołu nadzorującego.
2. Do arkusza dołączona jest KARTA ODPOWIEDZI, na której w oznaczonych miejscach:
  - wpisz oznaczenie kwalifikacji,
  - zamaluj kratkę z oznaczeniem wersji arkusza,
  - wpisz swój numer PESEL\*,
  - wpisz swoją datę urodzenia,
  - przyklej naklejkę ze swoim numerem PESEL.
3. Arkusz egzaminacyjny zawiera test składający się z 40 zadań.
4. Za każde poprawnie rozwiązane zadanie możesz uzyskać 1 punkt.
5. Aby zdać część pisemną egzaminu musisz uzyskać co najmniej 20 punktów.
6. Czytaj uważnie wszystkie zadania.
7. Rozwiązania zaznaczaj na KARCIE ODPOWIEDZI długopisem lub piórem z czarnym tuszem/atramentem.
8. Do każdego zadania podane są cztery możliwe odpowiedzi: A, B, C, D. Odpowiada im następujący układ krerek w KARCIE ODPOWIEDZI:

A	B	C	D
---	---	---	---

9. Tylko jedna odpowiedź jest poprawna.
10. Wybierz właściwą odpowiedź i zamaluj kratkę z odpowiadającą jej literą – np., gdy wybrałeś odpowiedź „A”:

<input checked="" type="checkbox"/>	B	C	D
-------------------------------------	---	---	---

11. Staraj się wyraźnie zaznaczać odpowiedzi. Jeżeli się pomylisz i błędnie zaznaczysz odpowiedź, otocz ją kółkiem i zaznacz odpowiedź, którą uważasz za poprawną, np.

<input checked="" type="checkbox"/>	B	C	<input checked="" type="checkbox"/>
-------------------------------------	---	---	-------------------------------------

12. Po rozwiązaniu testu sprawdź, czy zaznaczyłeś wszystkie odpowiedzi na KARCIE ODPOWIEDZI i wprowadziłeś wszystkie dane, o których mowa w punkcie 2 tej instrukcji.

**Pamiętaj, że oddajesz przewodniczącemu zespołu nadzorującego tylko KARTĘ ODPOWIEDZI.**

***Powodzenia!***

\* w przypadku braku numeru PESEL – seria i numer paszportu lub innego dokumentu potwierdzającego tożsamość

### Zadanie 1.

Na którym rysunku przedstawiono wiertarkę kadłubową?



A.



B.



C.



D.

### Zadanie 2.

„Jest to obrabiarka służąca do obróbki otworów kształtowych, rowków i bardziej złożonych powierzchni zewnętrznych, w której narzędzie zdejmuje cały naddatek przeznaczony na obróbkę podczas jednego ruchu roboczego”.

Której obrabiarki skrawającej dotyczy opis?

- A. Tokarki.
- B. Szlifierki.
- C. Dłutownicy.
- D. Przeciągarki.

### Zadanie 3.

Którą obrabiarkę należy zastosować do obróbki wykańczającej czopa wałka po hartowaniu?

- A. Nakielczarkę do wałków.
- B. Szlifierkę do otworów.
- C. Frezarkę uniwersalnej.
- D. Szlifierkę do wałków.

### Zadanie 4.

Którą obrabiarkę należy zastosować do obróbki elementu typu tuleja w produkcji masowej?

- A. Automat tokarski.
- B. Tokarkę uniwersalną.
- C. Tokarkę rewolwerową.
- D. Tokarkę kłowo-uchwytową CNC.

### Zadanie 5.

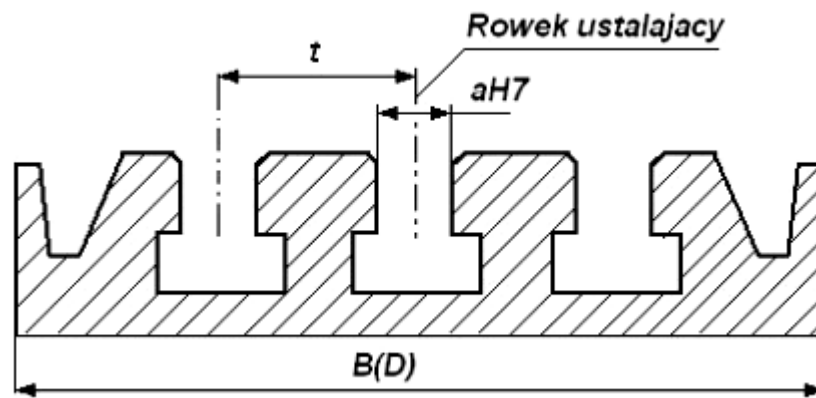
Do wykonywania zębów na kole zębatym stożkowym należy zastosować

- A. dłutownicę Magga.
- B. strugarkę Gleasona.
- C. strugarkę wzdłużną.
- D. dłutownicę Fellowsa.

### Zadanie 6.

Obrabiarka, na której należy wykonać rowki ustalające zgodnie z przedstawionym rysunkiem, to

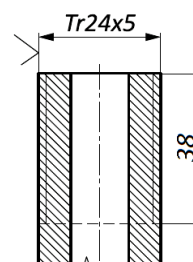
- A. dłutownica.
- B. frezarka pionowa.
- C. strugarka poprzeczna.
- D. przeciągarka pozioma.



### Zadanie 7.

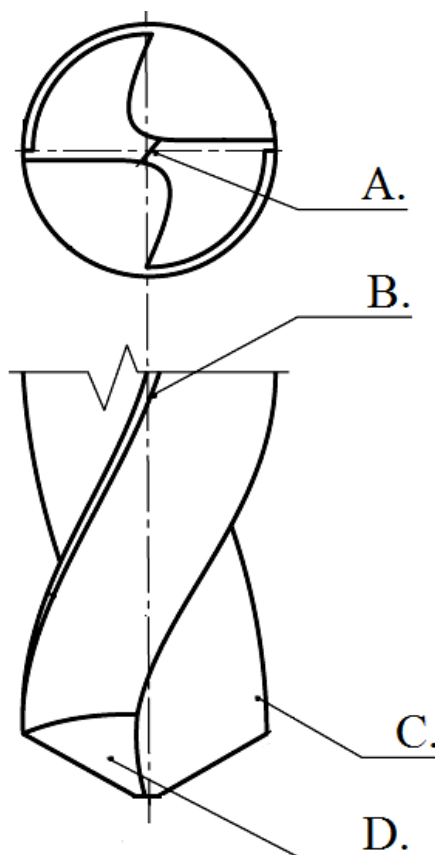
Który zabieg obróbki skrawaniem należy wykonać na powierzchni oznaczonej na rysunku Tr24x5?

- A. Nacinanie gwintu.
- B. Nacinanie uzębienia.
- C. Frezowanie rowka pod wpust.
- D. Frezowanie powierzchni płaskiej.



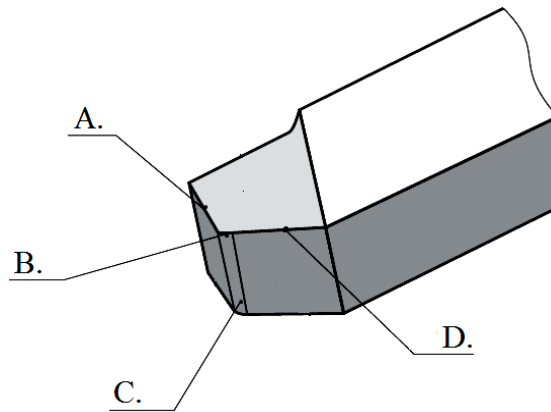
### Zadanie 8.

Rysunek przedstawia część roboczą wiertła krętego. Ścin oznaczony jest literą



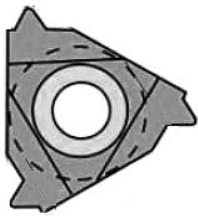
### Zadanie 9.

Główna krawędź skrawająca na rysunku noża tokarskiego oznaczona jest literą



### Zadanie 10.

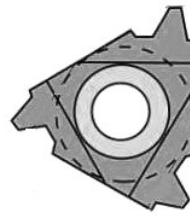
Której płytki wielostrzowej należy użyć do wykonania gwintu trapezowego?



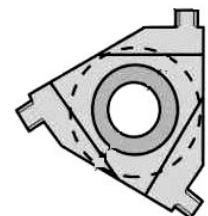
A.



B.



C.



D.

### Zadanie 11.

Na którym rysunku przedstawiono nóż tokarski poprawkowy prawy do rowków prostych?



A.



B.



C.

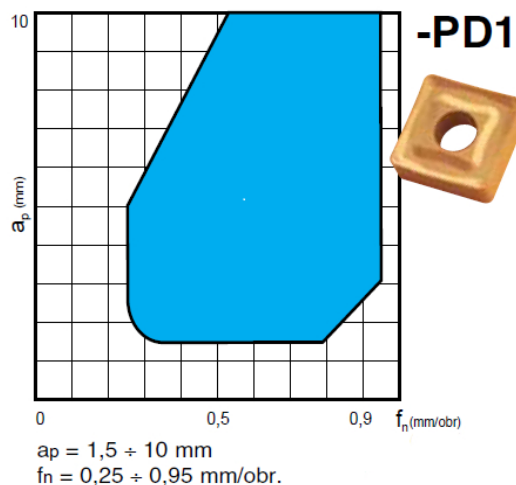


D.

## Zadanie 12.

Diagram przedstawia wykres łamania wióra dla płytki wielostrzowej przeznaczonej do obróbki zgrubnej stali węglowej zwykłej jakości. Wybierz zalecane wartości głębokości skrawania  $a_p$  i posuwu  $f$  w celu zapewnienia łamania wióra.

- A.  $a_p = 1,0$ ;  $f = 0,1$
- B.  $a_p = 0,5$ ;  $f = 0,7$
- C.  $a_p = 3,5$ ;  $f = 0,2$
- D.  $a_p = 9,0$ ;  $f = 0,8$



## Zadanie 13.

Zalecane szybkości i posuw przy toczeniu stali i odlewów stalowych					
Materiał	Wytrzymałość na rozciąganie $R_m$ [MPa]	S10	S20	S30	S35
		S10S	S20S	S30S	S40S
		Posuw [mm/obr]			
		0,6-0,05	1,2-0,1	2-0,2	3
		Obróbka zgrubna wykańczająca			
Szybkość skrawania $v_c$ [m/min]					
Stale węglowe	500	100÷200÷280	80÷150÷200	60÷100÷150	40÷60
	500÷600	90÷160÷250	70÷120÷180	50÷80÷120	35÷55
	600÷700	80÷140÷220	60÷100÷180	40÷70÷110	30÷50
	700÷800	70÷120÷200	50÷90÷150	25÷60÷100	25÷45
	800÷1000	60÷100÷180	40÷80÷140	30÷50÷90	20÷40

Na podstawie danych w tabeli dobierz zakres szybkości skrawania do obróbki stali węglowej o wytrzymałości równej 750 MPa narzędziem z płytką z węglików gatunku S35.

- A.  $v_c = 20 \div 40 \text{ m/min}$
- B.  $v_c = 25 \div 45 \text{ m/min}$
- C.  $v_c = 30 \div 50 \text{ m/min}$
- D.  $v_c = 40 \div 60 \text{ m/min}$

#### Zadanie 14.

Zalecane parametry skrawania dla frezów						
Materiał	Wytrzymałość [MPa]	$v_c$ [m/min]	Średnica freza [mm]			
			2÷3	4÷5	6÷10	12÷16
			$f_z$ [mm]			
Stop aluminium <10%Si	do 550	800	0,02	0,03	0,05	0,08

Oblicz zalecaną wartość posuwu minutowego podczas obróbki frezem dwuostrzowym  $\phi 10$  mm, stopu aluminium dla prędkości obrotowej wrzeciona  $n = 1000$  obr/min. Skorzystaj z tabeli oraz wzoru:  $v_f = f_z \cdot z \cdot n$

- A.  $v_f = 20$  mm/min
- B.  $v_f = 100$  mm/min
- C.  $v_f = 200$  mm/min
- D.  $v_f = 400$  mm/min

#### Zadanie 15.

Do sprawdzenia wykonania wymiaru  $\phi 40H7$  należy użyć

- A. czujnika zegarowego.
- B. suwmiarki uniwersalnej.
- C. sprawdzianu szczękowego nastawnego.
- D. sprawdzianu tłoczkowego dwugranicznego.

#### Zadanie 16.

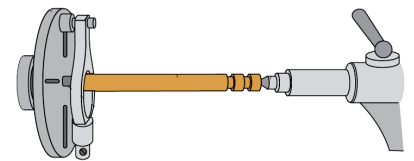
Którego narzędzia należy użyć do pomiaru wymiaru wewnętrznego tulei  $\phi 50_{-0,03}^{+0,02}$ ?

- A. Głębokościomierza.
- B. Suwmiarki uniwersalnej.
- C. Mikrometru talerzykowego.
- D. Średnicówki mikrometrycznej.

#### Zadanie 17.

W przykładzie przedstawionym na rysunku przedmiot obrabiany jest zamocowany za pomocą

- A. zabieraka czołowego z podtrzymałą ruchomą.
- B. uchwytu membranowego z podtrzymałą stałą.
- C. uchwytu tulejkowego z podparciem kłmem stałym.
- D. tarczy zabierakowej z zabierakiem i z podparciem kłmem.



#### Zadanie 18.

Współosiowość otworu z zewnętrzną powierzchnią walcową w przedmiocie typu tarcza (otwór wykonany na gotowo, zewnętrzna powierzchnia obrobiona zgrubnie) zapewnia ustalenie i zamocowanie przedmiotu podczas obróbki wykańczającej powierzchni zewnętrznej

- A. na trzpieniu.
- B. w uchwycie tulejkowym.
- C. w uchwycie dwuszcękowym.
- D. w uchwycie trójszcękowym samocentrującym.

### Zadanie 19.

Do mocowania noża tokarskiego oprawkowego na tokarce CNC służy

- A. podtrzymka stała.
- B. tarcza zabierakowa.
- C. głowica narzędziowa.
- D. uchwyt tokarski hydrauliczny.

### Zadanie 20.

Który uchwyt zapewnia zamocowanie pręta walcowego ciągniętego bez uszkodzeń materiału?



A.



B.



C.



D.

### Zadanie 21.

Materiał	Twardość HB	NTP15	NTP25	NTP35
		Posuw mm/obr		
		0,1÷0,8	0,15÷0,8	0,2÷1,0
		Prędkość skrawania mm/min		
Stal węglowa konstrukcyjna ogólnego przeznaczenia				
C0,2%	135	430÷230	380÷185	280÷150
C0,4%	180	385÷200	370÷175	245÷90
C0,7%	230	150÷80		200÷70
Stal niskostopowa				
wyżarzona	180	350-170	300÷150	180÷90
ulepszona	300	220÷110	185÷100	135÷90
Stal szybko tnąca wyżarzona	250	220-110	200÷125	100÷55

Ile może wynieść wartość prędkości skrawania przy toczeniu płytką wielostrzową o gatunku NTP15 stali węglowej konstrukcyjnej o zawartości węgla C równej 0,4%. Skorzystaj z danych w tabeli.

- A. 80 m/min
- B. 120 m/min
- C. 160 m/min
- D. 220 m/min

### Zadanie 22.

Podczas toczenia materiału najbardziej pożądanym ze względu na trwałość ostrza jest wiór

- A. piłkowy.
- B. wstęgowy.
- C. schodkowy.
- D. odpryskowy.

### Zadanie 23.

Narost najczęściej powstaje podczas obróbki skrawaniem metali

- A. bardzo twardych.
- B. kruchych i twardych.
- C. łamliwych i twardych.
- D. miękkich i ciągliwych.

### Zadanie 24.

Przyczyną wyłamania ostrza płytki skrawającej może być

- A. zbyt duży posuw.
- B. zbyt mały posuw.
- C. za mała szybkość skrawania.
- D. za mała głębokość skrawania.

### Zadanie 25.

Odczytaj z przedstawionego rysunku wynik pomiaru suwmiarką.

- A. 3,80 mm
- B. 4,34 mm
- C. 4,55 mm
- D. 4,75 mm



### Zadanie 26.

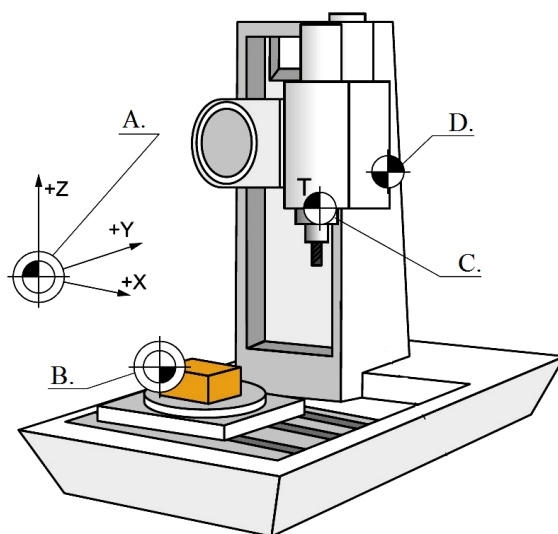
W celu sprawdzenia grubości zębów kół zębatych o zębach prostych i skośnych należy użyć

- A. suwmiarki uniwersalnej.
- B. mikrometru talerzykowego.
- C. średnicówki mikrometrycznej.
- D. mikrometru o wymiennym kowadełku.



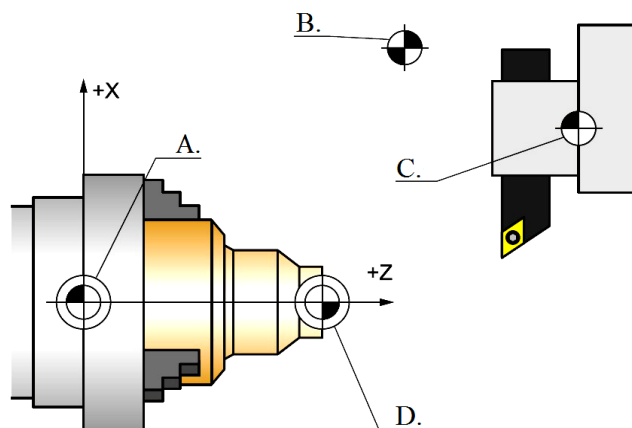
### Zadanie 27.

Punkt zerowy frezarki CNC oznaczony jest na rysunku literą



### Zadanie 28.

Punkt zerowy przedmiotu obrabianego oznaczony jest na rysunku literą



### Zadanie 29.

W którym z fragmentów programu sterującego na obrabiarce CNC zawarta jest informacja o gwintowaniu?

- A. N05 G01 X20 Y50 F1.25
- B. N05 G02 X30 Y50 I5 J0
- C. N05 S120 M03 T1 D1
- D. N05 G33 Z-20 K2

### Zadanie 30.

Cykli stałych tokarki CNC nie stosuje się do

- A. gwintowania.
- B. toczenia rowków.
- C. wymiany narzędzia.
- D. wiercenia głębokich otworów.

### Zadanie 31.

Koniec programu ze skokiem na początek oznacza się funkcją

- A. M03
- B. M08
- C. M17
- D. M30

### Zadanie 32.

Którym znakiem/symbolem rozpoczyna się komentarz w programie dla obrabiarki sterowanej numerycznie przy pomocy kodów ISO?

- A. %
- B. (
- C. -
- D. ?

### Zadanie 33.

W którym z bloków programu sterującego znajduje się informacja o przesunięciu punktu zerowego?

- A. N05 G90 G54
- B. N05 G01 X100 F.50
- C. N05 G02 I5 K0 X30 Z-5
- D. N05 G96 S120 M04 T1 D1 F0.2

### Zadanie 34.

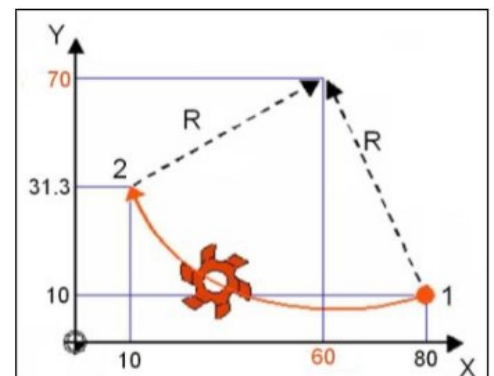
Podczas obróbki z wysoką prędkością narzędzia (High Speed Cutting) należy ustawić

- A. duży posuw narzędzia i małą grubość warstwy skrawanej.
- B. duży posuw narzędzia i dużą grubość warstwy skrawanej.
- C. mały posuw narzędzia i małą grubość warstwy skrawanej.
- D. mały posuw narzędzia i dużą grubość warstwy skrawanej.

### Zadanie 35.

Który fragment programu opisuje ruch narzędzia z punktu 1 do 2?

- A. G03 X10 Y31.3 I20 J60
- B. G02 X10 Y31.3 I-20 J60
- C. G02 X10 Y31.3 I20 J-60
- D. G03 X10 Y31.3 I-20 J-60

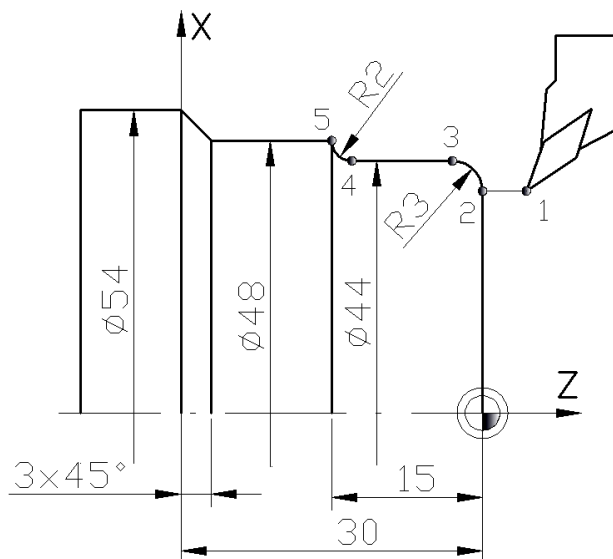


### Zadanie 36.

W bloku N145 G01 G90 X100 G41 F350 M03 programu dla frezarki CNC kod G90 oznacza

- A. cykl obróbczy.
- B. programowanie absolutne.
- C. ustawienie stałej prędkości skrawania.
- D. ustawienie stałej prędkości obrotowej wrzeciona.

### Zadanie 37.



Część programu sterującego realizująca ruch noża z punktu 1 do 5 (z kompensacją promienia) ma postać

```
G42
G01 X38 Z0
G03 X44 Z-3 I0 K-3
G01 X44 Z-13
G02 X48 Z-15 I3 K0
```

A.

```
G42
G01 X38 Z0
G02 X44 Z3 I0 K-3
G01 X44 Z-13
G03 X48 Z-15 I3 K0
```

B.

```
G42
G01 X38 Z0
G03 X44 Z-3 I-3 K0
G01 X44 Z-13
G02 X48 Z-15 I3 K0
```

C.

```
G42
G01 X38 Z0
G03 X44 Z3 I0 K-3
G01 X44 Z-13
G02 X48 Z-15 I0 K3
```

D.

### Zadanie 38.

Który blok programu ISO zawiera informację o włączeniu funkcji kompensacji prawostronnej narzędzia?

- A. G01 G41 X-6 Y19
- B. G00 G42 X-10 Y20
- C. G01 X45 Y12 F1500
- D. G02 X0 Y20 I0 J-5 F300

### Zadanie 39.

Przedstawiony na rysunku sprawdzian służy do kontroli wykonania

- A. kątów.
- B. wałków.
- C. gwintów.
- D. otworów.



### Zadanie 40.

Który uchwyt tokarski służy do mocowania noży o kwadratowym przekroju trzonka?



A.



B.



C.



D.

