

Nazwa kwalifikacji: **Szkolenie i użytkowanie koni**

Oznaczenie kwalifikacji: **R.20**

Wersja arkusza: **X**

*Arkusz zawiera informacje prawnie chronione
do momentu rozpoczęcia egzaminu*

R.20-X-15.01

Czas trwania egzaminu: **60 minut**

EGZAMIN POTWIERDZAJĄCY KWALIFIKACJE W ZAWODZIE

Rok 2015

CZĘŚĆ PISEMNA

Układ graficzny © CKE 2015

Instrukcja dla zdającego

1. Sprawdź, czy arkusz egzaminacyjny zawiera 10 stron. Ewentualny brak stron lub inne usterki zgłoś przewodniczącemu zespołu nadzorującego.
2. Do arkusza dołączona jest KARTA ODPOWIEDZI, na której w oznaczonych miejscach:
 - wpisz oznaczenie kwalifikacji,
 - zamaluj kratkę z oznaczeniem wersji arkusza,
 - wpisz swój numer *PESEL**,
 - wpisz swoją datę urodzenia,
 - przyklej naklejkę ze swoim numerem *PESEL*.
3. Arkusz egzaminacyjny zawiera test składający się z 40 zadań.
4. Za każde poprawnie rozwiązane zadanie możesz uzyskać **1 punkt**.
5. Aby zdać część pisemną egzaminu musisz uzyskać co najmniej **20 punktów**.
6. Czytaj uważnie wszystkie zadania.
7. Rozwiązania zaznaczaj na KARCIE ODPOWIEDZI długopisem lub piórem z czarnym tuszem/atramentem.
8. Do każdego zadania podane są cztery możliwe odpowiedzi: A, B, C, D. Odpowiada im następujący układ kratek w KARCIE ODPOWIEDZI:

| | | | |
|---|---|---|---|
| A | B | C | D |
|---|---|---|---|

9. Tylko jedna odpowiedź jest poprawna.
10. Wybierz właściwą odpowiedź i zamaluj kratkę z odpowiadającą jej literą – np., gdy wybrałeś odpowiedź „A”:

| | | | |
|-------------------------------------|---|---|---|
| <input checked="" type="checkbox"/> | B | C | D |
|-------------------------------------|---|---|---|

11. Staraj się wyraźnie zaznaczać odpowiedzi. Jeżeli się pomylisz i błędnie zaznaczysz odpowiedź, otocz ją kółkiem i zaznacz odpowiedź, którą uważasz za poprawną, np.

| | | | |
|-------------------------------------|---|---|-------------------------------------|
| <input checked="" type="checkbox"/> | B | C | <input checked="" type="checkbox"/> |
|-------------------------------------|---|---|-------------------------------------|

12. Po rozwiązaniu testu sprawdź, czy zaznaczyłeś wszystkie odpowiedzi na KARCIE ODPOWIEDZI i wprowadziłeś wszystkie dane, o których mowa w punkcie 2 tej instrukcji.

Pamiętaj, że oddajesz przewodniczącemu zespołu nadzorującego tylko KARTĘ ODPOWIEDZI.


Powodzenia!

* w przypadku braku numeru *PESEL* – seria i numer paszportu lub innego dokumentu potwierdzającego tożsamość

Zadanie 1.

Zdjęcie przedstawia rasę do użytkowania

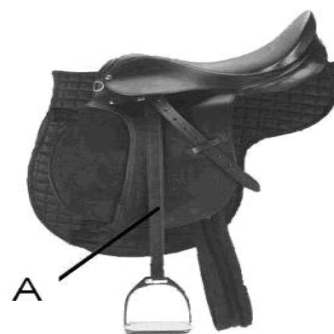
- A. jucznego.
- B. pociągowego.
- C. wyścigowego.
- D. zaprzęgowego.



Zadanie 2.

Zaznaczona na rysunku literą A część siodła to

- A. podtybinka.
- B. przystuła.
- C. puślisko.
- D. terlica.



Zadanie 3.

Praca w smyku jest elementem wdrażania koni do pracy

- A. ujeżdżeniowej.
- B. zaprzęgowej.
- C. skokowej.
- D. jucznej.

Zadanie 4.

Dla której dyscypliny charakterystyczne są szybkie piruety wykonywane w galopie?

- A. WKKW.
- B. Reiningu.
- C. Woltyżerki.
- D. Ujeżdżenia.

Zadanie 5.

Kandydat dżokejski to jeździec, który wygrał przynajmniej

- A. 200 gonitw.
- B. 150 gonitw.
- C. 100 gonitw.
- D. 50 gonitw.

Zadanie 6.

Według FEI, zawody określane skrótem CRI to zawody międzynarodowe

- A. w reiningu.
- B. w ujeżdżeniu.
- C. w woltyżerce.
- D. w powożeniu.

Zadanie 7.

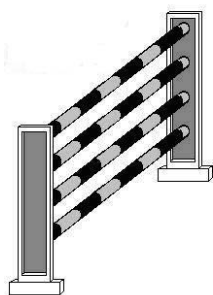
Przedstawiony na schemacie ruch konia to

- A. stęp.
- B. kłus.
- C. cwał.
- D. galop.

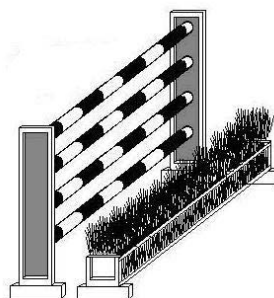


Zadanie 8.

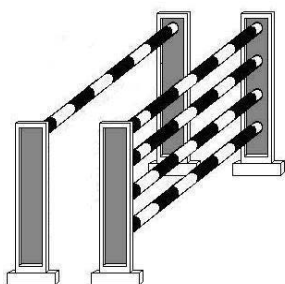
Okser to przeszkoda przedstawiona na rysunku



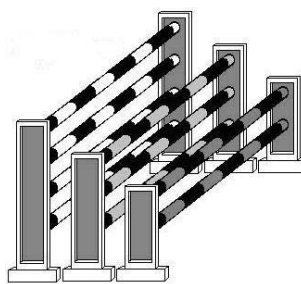
A.



B.



C.



D.

Zadanie 9.

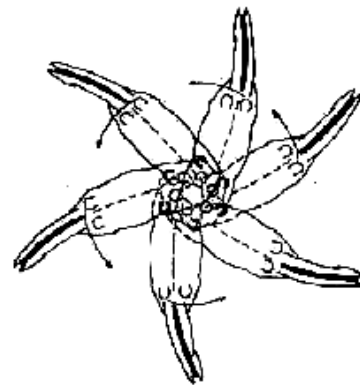
W skład parkuru klasy P wchodzi

- A. od 6 do 8 przeszkód o wysokości do 115 cm.
- B. od 9 do 12 przeszkód o wysokości do 115 cm.
- C. od 6 do 8 przeszkód o wysokości do 130 cm.
- D. od 9 do 12 przeszkód o wysokości do 130 cm.

Zadanie 10.

Przedstawiony na schemacie ruch konia, dookoła własnej osi (przód porusza się wokół zadu) wykonywany zwykle w stopie zebranych lub galopie nazywa się

- A. renwersem.
- B. piruetem.
- C. pasażem.
- D. ciągiem.



Zadanie 11.

Przedstawiony na zdjęciu powóz nazywany jest

- A. Gig.
- B. Lando.
- C. Vis a vis.
- D. Wagonet.



Zadanie 12.

Prawidłowo dopasowany nachrapnik angielski leży poniżej grzebienia kości jarzmowej

- A. o 2 palce.
- B. o 3 palce.
- C. o 4 palce.
- D. o 5 palców.

Zadanie 13.

Na zdjęciu przedstawiono nachrapnik

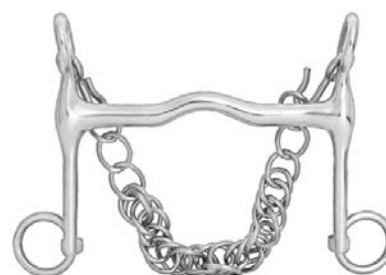
- A. kombinowany.
- B. meksykański.
- C. hanowerski.
- D. angielski.



Zadanie 14.

Zdjęcie przedstawia

- A. hackamore.
- B. munsztuk.
- C. pelham.
- D. bosal.



Zadanie 15.

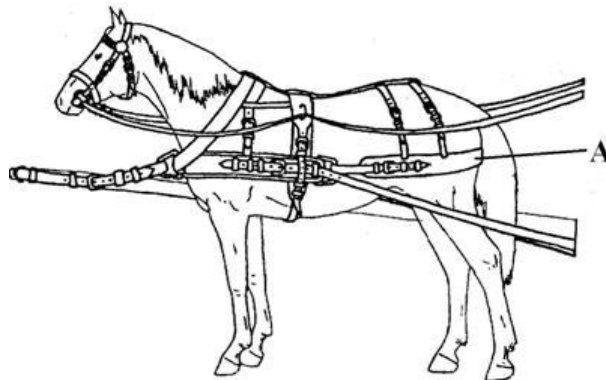
Krótki palcat używany w skokach i terenie ma długość **nie przekraczająca**

- A. 50 cm.
- B. 75 cm.
- C. 100 cm.
- D. 125 cm.

Zadanie 16.

Na rysunku rzędu literą A oznaczono

- A. naszelnik.
- B. podogonie.
- C. nagrzbietnik.
- D. pas oporowy.



Zadanie 17.

Sarniak to narośl kostna na

- A. dolnej, zewnętrznej stronie stawu skokowego.
- B. górnej, wewnętrznej stronie stawu skokowego.
- C. dolnej, zewnętrznej stronie stawu nadgarstkowego.
- D. górnej, wewnętrznej stronie stawu nadgarstkowego.

Zadanie 18.

Faza przyzwyczajania konia według skali szkoleniowej (piramidy jeździeckiej) składa się

- A. z rozluźnienia, kontaktu, impulsu.
- B. z kontaktu, impulsu, prostowania.
- C. z impulsu, prostowania, zebrania.
- D. z taktu, rozluźnienia, kontaktu.

Zadanie 19.

Podkowę z poszerzonym przodkiem powinno stosować się u koni z kopytem

- A. tempokończystym.
- B. ostrokończystym.
- C. koślawym.
- D. krzywym.

Zadanie 20.

Przedstawiony na zdjęciu przyrząd pielęgnacyjny służy do


- A. przerywania grzywy.
- B. czyszczenia grzywy.
- C. przycinania kopyt.
- D. ściągania wody i potu.



Zadanie 21.

Przedstawiony na zdjęciu przyrząd służy do

- A. czyszczenia kopyt.
- B. przycinania kopyta.
- C. rozczesywania ogona.
- D. wyrównywania grzywy.



Zadanie 22.

Na zdjęciu przedstawiono sposób zaplatania grzywy

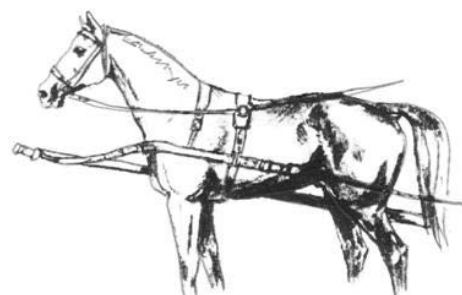
- A. w warkocz.
- B. w koreczki.
- C. w siatkę.
- D. w kłos.



Zadanie 23.

Na rysunku przedstawiono naszelnik

- A. karkowy.
- B. piersiowy.
- C. piersiowo-karkowy.
- D. karkowo-grzbietowy.



Zadanie 24.

Zdjęcie przedstawia siodło typu

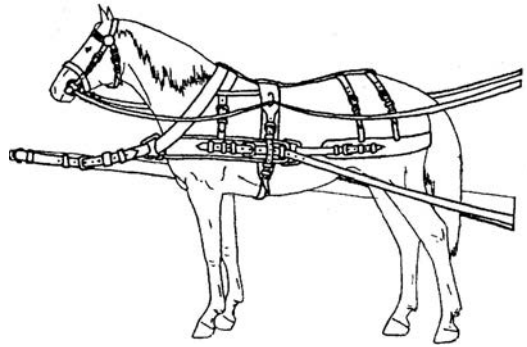
- A. rajdowego.
- B. skokowego.
- C. wyścigowego.
- D. ujeżdżeniowego.



Zadanie 25.

Na rysunku przedstawiono pólśzor

- A. krakowski.
- B. podlaski.
- C. lubelski.
- D. śląski.



Zadanie 26.

Który wynik osiągnie para w próbie terenowej zawodów w WKKW, gdy na przeszkodzie nr 2 3, 4 i 6 będzie miała po jednym wyłamaniu?

- A. 20
- B. 40
- C. 60
- D. Eliminacja.

Zadanie 27.

Przedstawione na zdjęciu urządzenie emitujące promieniowanie podczerwone służy do

- A. masażu.
- B. opalania.
- C. rozgrzania.
- D. czyszczenia.



Zadanie 28.

Przedstawione na zdjęciu ogłowie służy do pracy

- A. z jukami.
- B. na lonży.
- C. wierzchem.
- D. w zaprzęgu.



Zadanie 29.

Prawo startu w zawodach krajowych dotyczących skoków przez przeszkody mają zawodnicy, którzy

- A. mają aktualną licencję oraz ważne badania lekarskie.
- B. uzyskali dyplom ukończenia technikum hodowli koni.
- C. uzyskali świadectwo ukończenia technikum hodowli koni.
- D. ukończyli kurs specjalistyczny i mają aktualne badania lekarskie.

Zadanie 30.

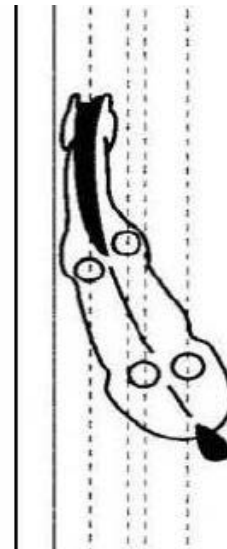
Ósemka to figura ujeżdżeniowa złożona z dwóch stycznych do siebie

- A. półparad.
- B. półwolt.
- C. parad.
- D. wolt.

Zadanie 31.

Chód boczny konia, w którym porusza się on na czterech śladach, nazywa się

- A. łopatka do wewnątrz.
- B. łopatka do zewnątrz.
- C. trawers.
- D. ciąg.



Zadanie 32.

Przedstawioną na zdjęciu wodzę przebiegającą od popręgu pomiędzy przednimi nogami (od wewnętrznej strony przez pierścienie wędzidła) do ręki jeźdźca nazywa się

- A. wodzą draw.
- B. czarną wodzą.
- C. wodzą Kohlera.
- D. gogiem ruchomym.



Zadanie 33.

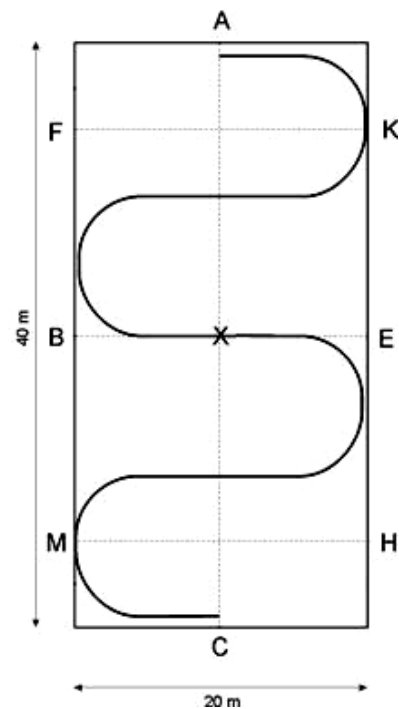
Kegel to element

- A. rzędu zaprzęgowego.
- B. rzędu wierzchowego.
- C. przeszkody w konkurencji skokowej.
- D. przeszkody w konkurencjach zaprzęgowych.

Zadanie 34.

Figura ujeżdżeniowa przedstawiona na schemacie to

- A. serpentyna.
- B. półwolta.
- C. wężyk.
- D. wolta.



Zadanie 35.


Dosiadając konia na ujeżdżalni powinno się ustawić konia na linii

- A. środkowej prostopadle do krótkiej ściany.
- B. środkowej równoległe do krótkiej ściany.
- C. bocznej prostopadle do krótkiej ściany.
- D. bocznej równoległe do krótkiej ściany.

Zadanie 36.

Przedstawiony na rysunku zaprzęg nosi nazwę

- A. random.
- B. tandem.
- C. szydło.
- D. trojka.



Zadanie 37.

Zgodnie z przepisami FEI, w skokach każda pomoc fizyczna zawodnikowi jest niedozwolona. Wyjątek stanowi

- A. podanie bata.
- B. podanie kasku.
- C. poprawienie rzędu.
- D. poprawienie ogłowia.

Zadanie 38.

Zmuszanie konia za pomocą sztucznych środków do skakania wyżej i uważniej niż wymaga tego przeszkoda nazywane jest

- A. kurtyzowaniem.
- B. majzłowaniem.
- C. poprawianiem.
- D. barowaniem.

Zadanie 39.

Przedstawione na zdjęciu wędzidło zapobiega

- A. przesuwaniu w pysku.
- B. przekładaniu języka.
- C. nadmiernemu żuciu.
- D. obfitemu ślinieniu.



Zadanie 40.

Na rysunku podstawiono uprząż

- A. chomątową angielską.
- B. chomątową podlaską.
- C. szorową poznańską.
- D. szorową lubelską.

