

Nazwa kwalifikacji: **Szkolenie i użytkowanie koni**  
Oznaczenie kwalifikacji: **R.20**  
Wersja arkusza: **X**

**R.20-X-15.08**

Czas trwania egzaminu: **60 minut**

**EGZAMIN POTWIERDZAJĄCY KWALIFIKACJE W ZAWODZIE**  
**Rok 2015**  
**CZEŚĆ PISEMNA**

**Instrukcja dla zdającego**

1. Sprawdź, czy arkusz egzaminacyjny zawiera 9 stron. Ewentualny brak stron lub inne usterki zgłoś przewodniczącemu zespołu nadzorującego.
2. Do arkusza dołączona jest KARTA ODPOWIEDZI, na której w oznaczonych miejscach:
  - wpisz oznaczenie kwalifikacji,
  - zamaluj kratkę z oznaczeniem wersji arkusza,
  - wpisz swój numer PESEL\*,
  - wpisz swoją datę urodzenia,
  - przyklej naklejkę ze swoim numerem PESEL.
3. Arkusz egzaminacyjny zawiera test składający się z 40 zadań.
4. Za każde poprawnie rozwiązane zadanie możesz uzyskać 1 punkt.
5. Aby zdać część pisemną egzaminu musisz uzyskać co najmniej 20 punktów.
6. Czytaj uważnie wszystkie zadania.
7. Rozwiązania zaznaczaj na KARCIE ODPOWIEDZI długopisem lub piórem z czarnym tuszem/atramentem.
8. Do każdego zadania podane są cztery możliwe odpowiedzi: A, B, C, D. Odpowiada im następujący układ kratek w KARCIE ODPOWIEDZI:

A	B	C	D
---	---	---	---

9. Tylko jedna odpowiedź jest poprawna.
10. Wybierz właściwą odpowiedź i zamaluj kratkę z odpowiadającą jej literą – np., gdy wybrałeś odpowiedź „A”:

<input checked="" type="checkbox"/>	B	C	D
-------------------------------------	---	---	---

11. Staraj się wyraźnie zaznaczać odpowiedzi. Jeżeli się pomylisz i błędnie zaznaczysz odpowiedź, otocz ją kółkiem i zaznacz odpowiedź, którą uważasz za poprawną, np.

<input checked="" type="checkbox"/>	B	C	<input checked="" type="checkbox"/>
-------------------------------------	---	---	-------------------------------------

12. Po rozwiązaniu testu sprawdź, czy zaznaczyłeś wszystkie odpowiedzi na KARCIE ODPOWIEDZI i wprowadziłeś wszystkie dane, o których mowa w punkcie 2 tej instrukcji.

**Pamiętaj, że oddajesz przewodniczącemu zespołu nadzorującego tylko KARTĘ ODPOWIEDZI.**

***Powodzenia!***

\* w przypadku braku numeru PESEL – seria i numer paszportu lub innego dokumentu potwierdzającego tożsamość

### **Zadanie 1.**

Ocena indeksowa jako wynik Testu 100-dniowego w Zakładzie Treningowym dla ogierów pozwala porównywać konie

- A. w jednym zakładzie treningowym na tle całej populacji koni w danej rasie.
- B. w jednym zakładzie treningowym na tle stawki, z którą były oceniane.
- C. w różnych rocznikach w różnych zakładach treningowych.
- D. w różnych rocznikach w tym samym zakładzie treningowym.

### **Zadanie 2.**

Do programu ochrony zasobów genetycznych zwierząt gospodarskich należą konie rasy

- A. oo.
- B. xx.
- C. śl.
- D. sp.

### **Zadanie 3.**

W konkurencji WKKW najlepiej sprawdzają się konie

- A. o wrodzonych zdolnościach do ujeżdżenia i gorącym temperamentem.
- B. o dużym posłuszeństwie, mniejszej sprawności wyczynowej.
- C. o dużej zdolności do galopu, odporności i wytrwałości.
- D. o szlachetnym wyglądzie, dużej zdolności do kłusa.

### **Zadanie 4.**

Najważniejszym celem szkolenia jeździeckiego jest

- A. uzyskanie podczas jazdy harmonii pomiędzy jeźdźcem a koniem.
- B. wpojenie zasad użycia pomocy jeździeckich przez jeźdźcę.
- C. nabycie umiejętności „kreślenia rysunku” na czworoboku.
- D. nabycie umiejętności skakania przez przeszkody.

### **Zadanie 5.**

Pierwszy etap w procesie zajeżdżania młodego konia to

- A. akceptacja ogłowia i nauka pracy na lonży.
- B. akceptacja ogłowia i siodła.
- C. nauka jazdy kłusem anglezowanym.
- D. przyzwyczajanie podjazdka do masy ciała jeźdźcy.

### Zadanie 6.

Objawem braku rozluźnienia u konia w czasie treningu jest

- A. głośne parskanie.
- B. kołyszący się ogon.
- C. zamknięty, nie przeżuwiający pysk.
- D. równomiernie sprężynujący grzbiet.

### Zadanie 7.

Zmuszanie konia za pomocą sztucznych środków do skakania wyżej i uważniej niż wymaga tego przeszkoda nazywane jest

- A. kurtyzowaniem.
- B. majzłowaniem.
- C. poprawianiem.
- D. barowaniem.

### Zadanie 8.

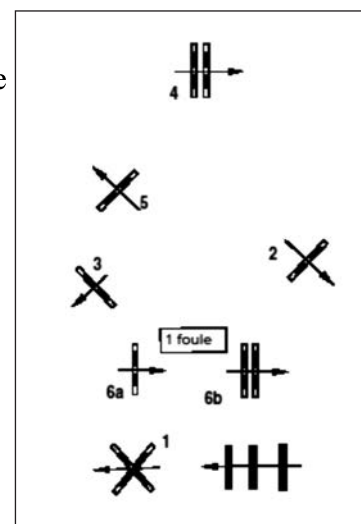
Zmuszanie konia za pomocą sztucznych środków do skakania wyżej i uważniej niż wymaga tego przeszkoda nazywane jest

- A. kurtyzowaniem.
- B. majzłowaniem.
- C. poprawianiem.
- D. barowaniem.

### Zadanie 9.

Jaka jest odległość między przeszkodami w szeregu oznaczonym na planie parkuru numerami 6a i 6b?

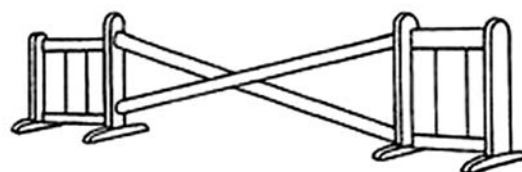
- A. 14,00 m – 15,00 m
- B. 10,50 m – 11,00 m
- C. 7,50 m – 8,00 m
- D. 3,50 m – 4,00 m



### Zadanie 10.

Pokazana na rysunku przeszkoda to

- A. okser.
- B. koperta.
- C. wachlarz.
- D. stacjonata.



### Zadanie 11.

Ocena wartości użytkowej koni prowadzona na torach wyścigowych obejmuje ocenę

- A. pokroju, charakteru i wytrzymałości.
- B. szybkości, wytrzymałości, charakteru i zdrowia.
- C. zdrowia, wykorzystania paszy, wytrzymałości i urody.
- D. cech wierzchowych, rozplodowych, zdrowia i charakteru.

### Zadanie 12.

Do usuwania zaklejek z sierści konia **nie wolno** używać

- A. zgrzebła metalowego.
- B. szczotki plastikowej.
- C. szczotki gumowej.
- D. wiechcia słomy.

### Zadanie 13.

Jak nazywa się przedstawiona na zdjęciu podkowa i które konie się nią podkuwa?

- A. Hacelowa dla koni sportowych.
- B. Zwarta dla koni po ochwacie.
- C. Ślepa dla koni o płaskich kopytach.
- D. Zębцова dla koni zaprzęgowych.



### Zadanie 14.

Prezentując konia w pozycji stój na płycie, należy go zaprezentować w postawie

- A. zebranej.
- B. prostopadłej.
- C. anatomicznej.
- D. zootechnicznej.

### Zadanie 15.

Sarniak to narośl kostna na

- A. górnej, wewnętrznej stronie stawu skokowego.
- B. dolnej, zewnętrznej stronie stawu skokowego.
- C. dolnej, zewnętrznej stronie stawu nadgarstkowego.
- D. górnej, wewnętrznej stronie stawu nadgarstkowego.

### Zadanie 16.

Którego schorzenia kopyt dotyczy przedstawiony opis?

*„Kulawizna, podniesiona ciepłota kopyta, wrażliwość na omacywanie czułkami kopytowymi”.*

- A. Podbicia kopyta.
- B. Gnicia strzałki.
- C. Zatrutu.
- D. Grudy.

### Zadanie 17.

Którego schorzenia u konia dotyczy przedstawiony opis?

*„Choroba bakteryjna, której objawem jest uszkodzona skóra w zgięciu pęciny. Rozwojowi sprzyja wilgoć, wystąpienie wczesnych przymrozków oraz stres”.*

- A. Świerzbowca pęciny.
- B. Grzybicy skóry.
- C. Grudy.
- D. Zatrutu.

### Zadanie 18.


Podstawowe parametry fizjologiczne (CTO), które można kontrolować na bieżąco u koni podczas treningu, to:

- A. oddech, zawartość żelaza we krwi, wartość odczynu OB.
- B. temperatura ciała, poziom kwasu mlekowego, oddech.
- C. zawartość mocznika we krwi, oddech, wartość tętna.
- D. temperatura ciała, wartość tętna, oddech.

### Zadanie 19.

Rysunek przedstawia dosiad

- A. ujeżdzeniowy.
- B. widłowy.
- C. fotelowy.
- D. półsiad.



### Zadanie 20.

Krótkie, mocniejsze zamknięcie konia pomiędzy pomocami ciężaru, łydek i wodzy, po którym następuje ustąpienie wodzy, wykonywane w celu np. przejścia z jednego chodu do drugiego, nazywa się

- A. paradą.
- B. kadencją.
- C. półparadą.
- D. przepuszczalnością.

### Zadanie 21.

Koń, który chętnie przyjmuje kontakt, ustępuje od wodzy i daje jeźdźcowi w zatrzymaniu oraz w ruchu poczucie stałej i miękkiej łączności między ręką a pyskiem, jest

- A. postawiony na wodzy.
- B. na swobodnej wodzy.
- C. na długiej wodzy.
- D. ponad wodzą.

### Zadanie 22.

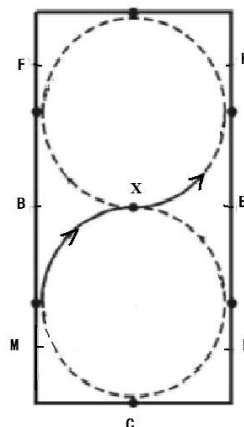
Wykonanie parady prowadzi do

- A. cofania konia.
- B. skrócenia tempa bez zmiany rodzaju chodu.
- C. zatrzymania konia bez względu na rodzaj chodu.
- D. zebrania konia do bardziej wyniosłego stawiania kończyn.

### Zadanie 23.

Podczas wykonywania ósemki pokazanej na rysunku jeździec powinien w punkcie X (stycznym kół)

- A. wyprostować konia tuż przed zmianą kierunku.
- B. wyprostować konia tuż po zmianie kierunku.
- C. zgiąć konia w prawo.
- D. zgiąć konia w lewo.



### Zadanie 24.

W czasie przejazdu na czworoboku koń wykonał zmianę nogi w galopie z przejściem do stępa i powtórny zagalopowaniem. Jest to zmiana nogi

- A. lotna.
- B. zwykła.
- C. robocza.
- D. pośrednia.

### Zadanie 25.

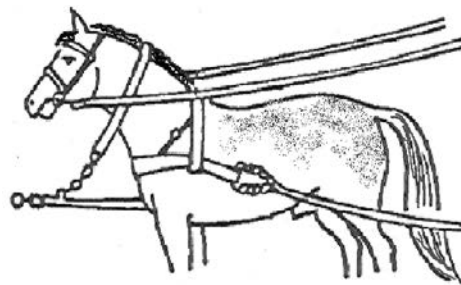
Międzynarodowe zawody w powożeniu zaprzęgami parokonnymi oznaczają się skrótem

- A. CAI
- B. CDI
- C. CVI
- D. CCI

### Zadanie 26.

Rysunek przedstawia

- A. półszor poznański z naszelnikiem karkowym.
- B. półszor lubelski z naszelnikiem piersiowym.
- C. szor z naszelnikiem karkowo-piersiowym.
- D. szleję z naszelnikiem karkowym.



### Zadanie 27.

Zgodnie z przepisami PZJ w konkurencji ujeżdżenia, przy kielznaniu munsztukowym można stosować nachrapnik

- A. polski.
- B. irlandzki.
- C. hanowerski.
- D. meksykański.

### Zadanie 28.

W konkurencji ujeżdżenia, cylindra jako nakrycia głowy pozwala się używać zawodnikom

- A. 18-letnim i starszym, wiek konia nie ma znaczenia.
- B. młodocianym, dosiadającym koni sześcioletnich i starszych.
- C. młodocianym, dosiadającym koni siedmioletnich i starszych.
- D. 18-letnim i starszym, dosiadającym koni siedmioletnich i starszych.

### Zadanie 29.

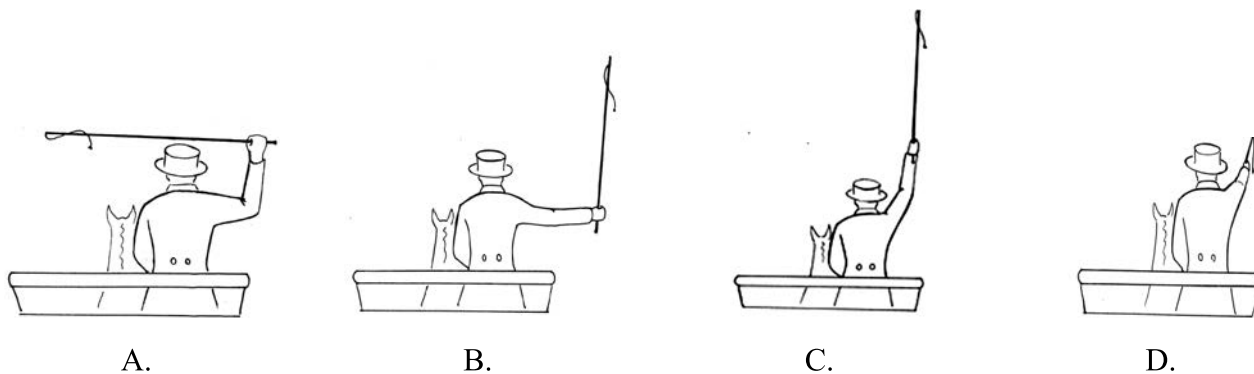
Zaprzęg przedstawiony na schemacie to

- A. random.
- B. tandem.
- C. szydło.
- D. trojka.



### Zadanie 30.

Wskaż rysunek, na którym powoźący sygnalizuje zmianę kierunku jazdy w prawo.



### Zadanie 31.

Dobierz narzędzia i materiały do zszywania przerwanych wodzy i spłaszczenia szwu.

- A. Dwie deseczki, szydło, igła ostra, klej.
- B. Nici styłonowe, igła tępą, szydło, młotek.
- C. Imadło, dwie deseczki, igła ostra, szydło, klej.
- D. Nóż, gwoździki, igła ostra, nici, dwie deseczki.

### Zadanie 32.

Określ wielkość minimalnej powierzchni ładownej dla 10 młodych koni podróżujących koniowozem przez 54 godziny.

*Wielkość minimalnej powierzchni ładownej dla koni w transporcie drogowym*

Dorośle konie	1,75 m <sup>2</sup> (0,7 x 2,5 m)
Młode konie (6 – 24 miesięcy) dla podróży do 48 godzin	1,20 m <sup>2</sup> (0,6 x 2,0 m)
Młode konie (6 – 24 miesięcy) dla podróży ponad 48 godzin	2,40 m <sup>2</sup> (1,2 x 2,0 m)
Żrebięta (0 – 6 miesięcy)	1,40 m <sup>2</sup> (1,0 x 1,4 m)

- A. 12,0 m<sup>2</sup>
- B. 14,0 m<sup>2</sup>
- C. 17,5 m<sup>2</sup>
- D. 24,0 m<sup>2</sup>

### Zadanie 33.

W pojeździe dopuszczonym do transportu drogowego koni nachylenie trapu, bez ograniczników dla kopyt, w stosunku do podłoża powinno wynosić nie więcej niż

- A. 20 stopni.
- B. 40 stopni.
- C. 60 stopni.
- D. 80 stopni.

### Zadanie 34.

Przygotowując konia do transportu, **nie należy**

- A. zakładać mu ochraniaczy na nogi.
- B. karmić go paszą treściwą.
- C. okrywać go derką.
- D. wykręcać haceli.



### Zadanie 35.

Wartość spoczynkowa liczby oddechów na minutę u konia wynosi

- A. 12-16.
- B. 28-40.
- C. 50-60.
- D. 80-100.

### Zadanie 36.

Konia, którego wysokość w kłębie jest niższa niż w krzyżu, nazywa się

- A. przebudowanym.
- B. rozbudowanym.
- C. zabudowanym.
- D. cybatym.

### Zadanie 37.

Czerwona wstążeczka wpleciona w grzywę oznacza konia

- A. kopiającego.
- B. gryzącego.
- C. prowadzącego zastęp.
- D. zamykającego zastęp.

### Zadanie 38.

Wskaż informację, której dotyczy zamieszczone oznakowanie szlaku jeździeckiego.

- A. Stajnia etapowa w odległości 500 m.
- B. 500 m – wspólny odcinek z trasą nr 7.
- C. Za 500 m w prawo.
- D. Za 500 m koniec trasy nr 7.



### Zadanie 39.

O Srebrną Jeździecką Odznakę Turystyki Górskiej PTTK może ubiegać się osoba, która

- A. ukończyła 10 lat.
- B. ukończyła 12 lat.
- C. ma już Brązową Jeździecką Odznakę Turystyki Górskiej i Nizinnej PTTK.
- D. ma już Popularną Jeździecką Odznakę Turystyki Górskiej i Nizinnej PTTK.

### Zadanie 40.

Przodownik Turystyki Jeździeckiej I stopnia ma prawo prowadzenia

- A. jazd na ujeżdżalni przy gospodarstwie rolnym, w celu przygotowania turystów do wyjazdu na wycieczkę.
- B. szkoleń i jazd na stopnie Jeździeckiej Odznaki Nizinnej i Górskiej, od popularnej do złotej.
- C. wycieczek i rajdów konnych na terenie całego kraju.
- D. prowadzenia szkoleń na Odznakę Złotą.