

Nazwa kwalifikacji: **Szkolenie i użytkowanie koni**
Oznaczenie kwalifikacji: **R.20**
Wersja arkusza: **X**

R.20-X-17.06
Czas trwania egzaminu: **60 minut**

EGZAMIN POTWIERDZAJĄCY KWALIFIKACJE W ZAWODZIE
Rok 2017
CZĘŚĆ PISEMNA

Instrukcja dla zdającego

1. Sprawdź, czy arkusz egzaminacyjny zawiera 9 stron. Ewentualny brak stron lub inne usterki zgłoś przewodniczącemu zespołu nadzorującego.
2. Do arkusza dołączona jest KARTA ODPOWIEDZI, na której w oznaczonych miejscach:
 - wpisz oznaczenie kwalifikacji,
 - zamaluj kratkę z oznaczeniem wersji arkusza,
 - wpisz swój numer PESEL*,
 - wpisz swoją datę urodzenia,
 - przyklej naklejkę ze swoim numerem PESEL.
3. Arkusz egzaminacyjny zawiera test składający się z 40 zadań.
4. Za każde poprawnie rozwiązane zadanie możesz uzyskać 1 punkt.
5. Aby zdać część pisemną egzaminu musisz uzyskać co najmniej 20 punktów.
6. Czytaj uważnie wszystkie zadania.
7. Rozwiązania zaznaczaj na KARCIE ODPOWIEDZI długopisem lub piórem z czarnym tuszem/atramentem.
8. Do każdego zadania podane są cztery możliwe odpowiedzi: A, B, C, D. Odpowiada im następujący układ kratek w KARCIE ODPOWIEDZI:

A	B	C	D
---	---	---	---

9. Tylko jedna odpowiedź jest poprawna.
10. Wybierz właściwą odpowiedź i zamaluj kratkę z odpowiadającą jej literą – np., gdy wybrałeś odpowiedź „A”:

<input checked="" type="checkbox"/>	B	C	D
-------------------------------------	---	---	---

11. Staraj się wyraźnie zaznaczać odpowiedzi. Jeżeli się pomylisz i błędnie zaznaczysz odpowiedź, otocz ją kółkiem i zaznacz odpowiedź, którą uważasz za poprawną, np.

<input checked="" type="checkbox"/>	B	C	<input checked="" type="checkbox"/>
-------------------------------------	---	---	-------------------------------------

12. Po rozwiązaniu testu sprawdź, czy zaznaczyłeś wszystkie odpowiedzi na KARCIE ODPOWIEDZI i wprowadziłeś wszystkie dane, o których mowa w punkcie 2 tej instrukcji.

Pamiętaj, że oddajesz przewodniczącemu zespołu nadzorującego tylko KARTĘ ODPOWIEDZI.

Powodzenia!

* w przypadku braku numeru PESEL – seria i numer paszportu lub innego dokumentu potwierdzającego tożsamość

Zadanie 1.

Wyraźnie zaznaczone mięśnie i ścięgna, duża pojemność klatki piersiowej i płuc oraz lekka budowa ciała to cechy pożądane u koni

- A. pogrubionych.
- B. prymitywnych.
- C. zimnokrwistych.
- D. gorącokrwistych.

Zadanie 2.

Wada ruchu konia polegająca na uderzaniu kopytami tylnych nóg o nogi przednie to

- A. szłap.
- B. ściganie.
- C. podrywanie
- D. strychowanie.

Zadanie 3.

Koniem przebudowanym nazywa się konia, który jest wyższy w

- A. krzyżu niż w kłębie.
- B. kłębie niż w krzyżu.
- C. potylicy niż w lędźwiach.
- D. lędźwiach niż w potylicy.

Zadanie 4.

Który koń jest najbardziej przydatny do prowadzenia hipoterapii pod względem wieku, płci, rasy i wymiarów?

- A. Ośmioletnia klacz rasy m, o wymiarach 165-190-20 cm.
- B. Siedmioletni ogier rasy oo, o wymiarach 155-178-18 cm.
- C. Dziesięcioletni wałach rasy sp, o wymiarach 170-200-22 cm.
- D. Dziewięcioletni wałach rasy hc, o wymiarach 135-170-17 cm.

Zadanie 5.

Wskaż parę (rasa konia – konkurencja jeździecka), w której rasa konia jest najlepiej dopasowana do konkurencji jeździeckiej.

- A. Pełna krew angielska – woltyżerka.
- B. Rasa śląska – powożenie zaprzęgami.
- C. Polski koń szlachetny półkrwi – reining.
- D. Czysta krew arabska – skoki przez przeszkody.

Zadanie 6.

Odległości pomiędzy kolejnymi koziółkami (cavaletti) ustawionymi do ćwiczeń w stępie, kłusie i galopie wynoszą odpowiednio:

- A. 80 cm (stęp), 130 cm (kłus), 300 cm (galop).
- B. 110 cm (stęp), 170 cm (kłus), 370 cm (galop).
- C. 140 cm (stęp), 210 cm (kłus), 400 cm (galop).
- D. 170 cm (stęp), 250 cm (kłus), 450 cm (galop).

Zadanie 7.

Wskaż prawidłowy dobór klas konkursów w konkurencji skoki przez przeszkody do wysokości przeszkód.

	Do 90 cm	100 cm	110 cm	120 cm	130 cm	140 cm	150 cm
A.	LL	L1	L2	N	P	C	CS
B.	LL	L	C	P	N	CS	CC
C.	LL	L	P	N	C	CC	CS
D.	L1	L2	N1	N2	C*	C**	C***

Zadanie 8.

Przeszkoda przedstawiona na rysunku to

- A. mur.
- B. hyrda.
- C. tripplebar.
- D. stacjonarna.



Zadanie 9.

W której pozycji prezentuje się konie na pokazach hodowlanych przed komisją?

- A. Prostej.
- B. Bocznej.
- C. Fotograficznej.
- D. Zootechnicznej.

Zadanie 10.

Na którym dystansie rozgrywana jest klasa 1* w konkurencji jeździeckiej sportowe rajdy konne?

- A. 20-39 km
- B. 40-79 km
- C. 80-90 km
- D. 80-119 km

Zadanie 11.

Konie startujące w zawodach sportowych, muszą mieć wykonane i odnotowane w paszporcie konia PZHK szczepienie przeciwko

- A. grypie.
- B. zołzom.
- C. arteritis.
- D. wścieklicznie.

Zadanie 12.

Rysunek przedstawia

- A. kopystkę do czyszczenia kopyt.
- B. kluczyk do regulacji uprzęży.
- C. szczotkę do długich włosów.
- D. szczotkę do sierści konia.



Zadanie 13.

Wskaż niedozwolony element wyposażenia konia lub ubioru prezentera w czasie prezentacji konia przed komisją.

- A. Białe spodnie prezentera.
- B. Wędzidło podwójnie łamane.
- C. Ochroniacze na przednich nogach konia.
- D. Ogłowie z nachrapnikiem kombinowanym.

Zadanie 14.

Wadliwy ruch konia, polegający na wyrzucaniu kończyn kolistymi ruchami na zewnątrz nazywa się

- A. szłapem.
- B. ściganiem.
- C. bilardowaniem.
- D. strychowaniem.

Zadanie 15.

„Nadwyreżenie mięśni piersiowych konia z powodu przemieszczania się ich pod mocno dopiętym poprzęgiem. Może to nastąpić podczas schylania się lub obracania konia w wąskiej przestrzeni, np. w wąskim stanowisku z mocno dopiętym poprzęgiem.”

Opisane schorzenie to

- A. Zagwożdżenie.
- B. Zapoprzężenie.
- C. Odsednienie.
- D. Gruda.

Zadanie 16.

Temperatura ciała zdrowego konia wynosi

- A. 35,5-36,5°C
- B. 36,5-37,5°C
- C. 37,5-38,5°C
- D. 38,5-39,5°C

Zadanie 17.

Za które przystępy przypina się popręg do siodła na standardowym koniu (licząc od lewej)?

- A. Pierwszą i drugą.
- B. Drugą i trzecią.
- C. Pierwszą i trzecią.
- D. Tylko za środkową.

Zadanie 18.

Wskaż nazwę i przeznaczenie urządzenia przedstawionego na rysunku.

- A. Karuzela dla koni – służy do zapewnienia koniom ruchu w stępie i kłusie.
- B. Poskrom – służy do bezpiecznego unieruchamiania koni.
- C. Bieżnia – miejsce do zaprawy młodych koni w ruchu.
- D. Maneż – miejsce do krycia klaczy.



Zadanie 19.

Przeszkoda przedstawiona na rysunku to

- A. taxis.
- B. hyrda.
- C. szwed.
- D. bankiet.



Zadanie 20.

Do sztucznych pomocy jeździeckich należą:

- A. lejce, głos, bat.
- B. palcat, głos, ostrogi.
- C. dosiad, łydka, wodza.
- D. wędzidło, wzrok, ciężar ciała.

Zadanie 21.

Wskaż nazwę i zastosowanie sprzętu pokazanego na rysunku.

- A. Ogłowie z nachrapnikiem polskim – służy do pracy pod siodłem.
- B. Ogłowie bezokularowe – stosowane w wyścigach kłusaków.
- C. Kantar stajenny – służy do prowadzenia konia w rękę.
- D. Kawecan – służy do lonżowania konia.



Zadanie 22.

Wskaż liczbę taktów w poszczególnych chodach koni.

Chód konia	Ilość taktów			
	A.	B.	C.	D.
Stęp	4	3	2	4
Kłus	3	4	3	2
Galop	2	3	4	3
Cwał	3	2	4	4

A. B. C. D.

Zadanie 23.


Wskaż dystans pomiędzy dwoma przeszkodami, który należy pokonać na 3 foule.

- A. 14-15 m
- B. 17,5-18,5 m
- C. 21-22 m
- D. 24,5-25,5 m

Zadanie 24.

Który rodzaj dosiadu przedstawiono na rysunku?

- A. Podstawowy.
- B. Widłowy.
- C. Stiplowy.
- D. Półsiad.



Zadanie 25.

Brakujący element skali szkoleniowej to

- A. rytm.
- B. impuls.
- C. równowaga.
- D. przepuszczalność.



Zadanie 26.

Krótkie, mocniejsze zamknięcie konia pomiędzy pomocami ciężaru, łydek i wodzy, po którym następuje ustąpienie wodzy wykonywane w celu np. zwiększenia uwagi konia przed nowym ćwiczeniem nazywa się

- A. przepuszczalnością.
- B. ustępowaniem.
- C. półparadą.
- D. woltą.

Zadanie 27.

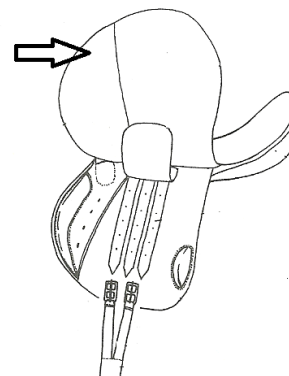
Wykonanie parady kończy się

- A. piafem.
- B. pasażem.
- C. piruetem.
- D. zatrzymaniem.

Zadanie 28.

Element siodła wskazany strzałką na przedstawionym rysunku to

- A. przystuła.
- B. puślisko.
- C. tybinka.
- D. terlica.



Zadanie 29.

Wskaż prawidłową kolejność wyprowadzania konia z przyczepy dwukonnej do przewozu koni.

- A. Odwiązanie konia, otwarcie tylnej klapy przyczepki przez pomocnika, wyjęcie belek ogonowych przez pomocnika, wycofanie konia.
- B. Wyjęcie belek ogonowych przez pomocnika, odwiązanie konia, otwarcie tylnej klapy przyczepki przez pomocnika, wyprowadzenie konia.
- C. Wyjęcie belek ogonowych, otwarcie tylnej klapy przyczepki, wejście małymi drzwiami do przyczepy, odwiązanie konia, wycofanie konia.
- D. Otwarcie tylnej klapy przez pomocnika, wyjęcie belek ogonowych przez pomocnika, odwiązanie konia, wycofanie konia.

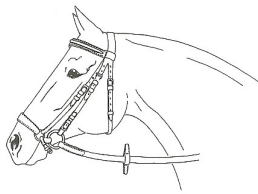
Zadanie 30.

Pozycja, którą przybiera koń o prawidłowej technice i dynamice ruchu w czasie skoku nad przeszkodą, charakteryzująca się zaokrąglonym w łuk grzbietem oraz obniżoną szyją konia to

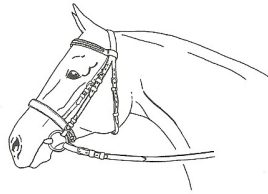
- A. foule.
- B. bukiet.
- C. baskil.
- D. parabola.

Zadanie 31.

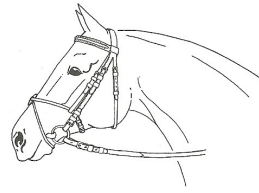
Wskaż ogłowie wędzidłowe z nachrapnikiem hanowerskim.



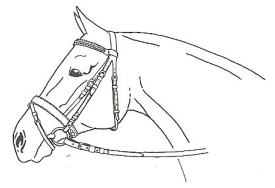
A.



B.



C.



D.

Zadanie 32.

W której konkurencji jeździeckiej dozwolone jest stosowanie prezentowanego nakrycia głowy?

- A. Skokach przez przeszkody.
- B. Ujeżdżeniu.
- C. Reiningu.
- D. Polo.



Zadanie 33.

Zwycięzcą konkursu dokładności w konkurencji skoki przez przeszkody zostanie zawodnik, który

- A. ukończy przejazd w najkrótszym czasie z najmniejszą ilością punktów karnych.
- B. trafi idealnie w ustaloną normę czasu z najmniejszą ilością punktów karnych.
- C. ukończy przejazd w najkrótszym czasie wraz z ewentualnie doliczonymi sekundami karnymi za zrzutki.
- D. ukończy przejazd w normie czasu z najmniejszą ilością punktów karnych, w tym konkursie może być kilku zwycięzców lub o pierwsze miejsce może być przeprowadzona rozgrywka.

Zadanie 34.

Które z zaprezentowanych wędzideł zaprzęgowych stosowane jest w zaprzęgu w stylu angielskim?



A.



B.



C.



D.


Zadanie 35.

W czasie usługowego przewozu konia na terenie Polski, konieczne jest posiadanie

- A. zaświadczenia o odrobaczeniu konia.
- B. zaświadczenia o szczepieniu przeciw tężcowi.
- C. świadectwa potwierdzającego kwalifikację R.20.
- D. świadectwa zatwierdzenia środka transportu drogowego.

Zadanie 36.


Który z przedstawionych znaków oznacza szklak konny?



A.



B.



C.



D.

Zadanie 37.

Wskaż objaw ochwatu u koni.

- A. Wydech dwufazowy.
- B. Koń ogląda się na słabizny.
- C. Ogryzanie i kopanie w ściany boksów.
- D. Wyciąganie przednich nóg daleko przed siebie.

Zadanie 38.

W czasie przejazdu na czworoboku koń wykonał zmianę nogi w galopie bez przejścia do stępa i powtórnego zagalopowania. Jest to zmiana nogi

- A. lotna.
- B. zwykła.
- C. robocza.
- D. podstawowa.

Zadanie 39.

Który zapis, dotyczący zasady pierwszeństwa **nie obowiązuje** w czasie jazdy na ujeżdżalni?

- A. Jazda „na wprost” ma pierwszeństwo przed „kołem”, także w przypadku jazdy dowolnie.
- B. Jeźdźcy jadący wyższym chodem mają pierwszeństwo przed jadącymi niższym chodem.
- C. Jeźdźcy jadący na pierwszym śladzie mają pierwszeństwo przed wykonującymi figury.
- D. Jeżdżący dowolnie jeźdźcy mijają się prawymi rękoma.

Zadanie 40.

Jak nazywa się odznaka jeździecka przedstawiona na rysunku?

- A. Srebrna Odznaka Jeździecka PZJ.
- B. Brązowa Odznaka PZJ w powożeniu.
- C. Jeździecka Odznaka Turystyki Nizinnej PTTK.
- D. Jeździecka Odznaka Turystyki Górskiej PTTK w stylu western.

