

Nazwa kwalifikacji: **Szkolenie i użytkowanie koni**
Oznaczenie kwalifikacji: **R.20**
Wersja arkusza: **X**

R.20-X-17.01
Czas trwania egzaminu: **60 minut**

EGZAMIN POTWIERDZAJĄCY KWALIFIKACJE W ZAWODZIE
Rok 2017
CZĘŚĆ PISEMNA

Instrukcja dla zdającego

1. Sprawdź, czy arkusz egzaminacyjny zawiera 10 stron. Ewentualny brak stron lub inne usterki zgłoś przewodniczącemu zespołu nadzorującego.
2. Do arkusza dołączona jest KARTA ODPOWIEDZI, na której w oznaczonych miejscach:
 - wpisz oznaczenie kwalifikacji,
 - zamaluj kratkę z oznaczeniem wersji arkusza,
 - wpisz swój numer PESEL*,
 - wpisz swoją datę urodzenia,
 - przyklej naklejkę ze swoim numerem PESEL.
3. Arkusz egzaminacyjny zawiera test składający się z 40 zadań.
4. Za każde poprawnie rozwiązane zadanie możesz uzyskać 1 punkt.
5. Aby zdać część pisemną egzaminu musisz uzyskać co najmniej 20 punktów.
6. Czytaj uważnie wszystkie zadania.
7. Rozwiązania zaznaczaj na KARCIE ODPOWIEDZI długopisem lub piórem z czarnym tuszem/atramentem.
8. Do każdego zadania podane są cztery możliwe odpowiedzi: A, B, C, D. Odpowiada im następujący układ kratek w KARCIE ODPOWIEDZI:

A	B	C	D
---	---	---	---

9. Tylko jedna odpowiedź jest poprawna.
10. Wybierz właściwą odpowiedź i zamaluj kratkę z odpowiadającą jej literą – np., gdy wybrałeś odpowiedź „A”:

<input checked="" type="checkbox"/>	B	C	D
-------------------------------------	---	---	---

11. Staraj się wyraźnie zaznaczać odpowiedzi. Jeżeli się pomylisz i błędnie zaznaczysz odpowiedź, otocz ją kółkiem i zaznacz odpowiedź, którą uważasz za poprawną, np.

<input checked="" type="checkbox"/>	B	C	<input checked="" type="checkbox"/>
-------------------------------------	---	---	-------------------------------------

12. Po rozwiązaniu testu sprawdź, czy zaznaczyłeś wszystkie odpowiedzi na KARCIE ODPOWIEDZI i wprowadziłeś wszystkie dane, o których mowa w punkcie 2 tej instrukcji.

Pamiętaj, że oddajesz przewodniczącemu zespołu nadzorującego tylko KARTĘ ODPOWIEDZI.

Powodzenia!

* w przypadku braku numeru PESEL – seria i numer paszportu lub innego dokumentu potwierdzającego tożsamość

Zadanie 1.

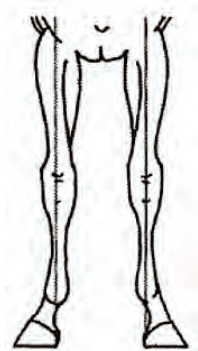
Której rasy koń przedstawiony jest na ilustracji?

- A. Polski koń szlachetny półkrwi.
- B. Polski koń zimnokrwisty.
- C. Huculskiej.
- D. Śląskiej.



Zadanie 2.

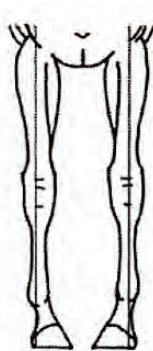
Który rysunek przedstawia postawę francuską (tancerską) ustawienia nóg przednich konia?



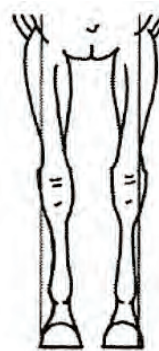
A.



B.



C.



D.

Zadanie 3.

W konkurencji jeździeckiej – rajdy długodystansowe najlepiej sprawdzają się konie rasy oznaczonej symbolem

- A. oo
- B. sp
- C. BWP
- D. KWPN

Zadanie 4.

W jakich jednostkach i skali publikowany jest przez Polski Klub Wyścigów Konnych handicap generalny dla koni pełnej krwi angielskiej jako ocena wartości wyścigowej koni biegających na torze?

- A. W sekundach, od 0 do 60 s.
- B. W kilogramach, od 25 do 100 kg.
- C. W centymetrach, od 149 do 176 cm.
- D. W punktach bonifikacyjnych, od 0 do 100 pkt.

Zadanie 5.


Konkurs Pucharu Narodów w skokach przez przeszkody jest organizowany podczas zawodów, które oznaczają się skrótem

- A. CSIO
- B. CDIO
- C. CSI
- D. CCI

Zadanie 6.

Przeszkoda przedstawiona na rysunku to

- A. doublebarre.
- B. triplebarre.
- C. wachlarz.
- D. okser.



Zadanie 7.

Na którym rysunku koń porusza się piaffem?



A.



B.



C.



D.

Zadanie 8.

Wskaż narzędzie do podawania pasty odrobaczającej dla koni.



A.



B.



C.



D.

Zadanie 9.

Ile trzszczek pęciny (dodatkowych kości) znajduje się w stawie pęciny u konia?

- A. 0
- B. 1
- C. 2
- D. 4

Zadanie 10.

Który rysunek przedstawia rozwarty (prosty) staw skokowy konia?



A.



B.



C.



D.

Zadanie 11.

Temperatura ciała zdrowego dorosłego konia wynosi

- A. 35,5-36,5°C
- B. 36,5-37,5°C
- C. 37,5-38,5°C
- D. 38,5-39,5°C

Zadanie 12.

Minimalna powierzchnia boksu dla dorosłego konia sportowego powyżej 147 cm wzrostu w kłębie zgodnie z Rozporządzeniem Ministra Rolnictwa i Rozwoju Wsi w sprawie minimalnych warunków utrzymania zwierząt gospodarskich powinna wynosić

- A. 9 m²
- B. 12 m²
- C. 15 m²
- D. 18 m²

Zadanie 13.

Które urządzenie nie występuje w stajni lub jej otoczeniu i nie jest przeznaczone dla koni?




A.



B.



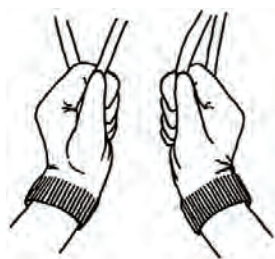
C.



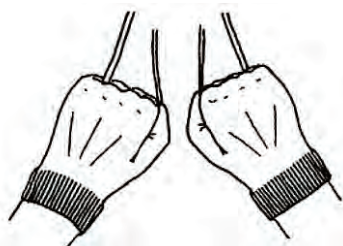
D.

Zadanie 14.

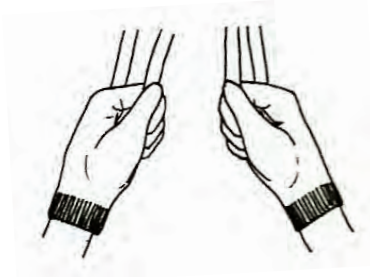
Wskaż prawidłowe ustawienie ręki i wodzy podczas jazdy wierzchem na wprost.



A.



B.



C.



D.

Zadanie 15.

Wskaż pomoce jeździeckie stosowane w czasie powożenia zaprzęgiem parokonnym.

- A. Lejce, bat, głos.
- B. Ciężar bryczki, nogi, wodze.
- C. Hamulec, dyszel, ciężar luzaka.
- D. Orczyk, naszelnik piersiowy, wędzidło.

Zadanie 16.

Działanie jeźdźca przez mocniejsze napinanie krzyża i przyłożenie łydek, prowadzące do zatrzymania konia, to

- A. zebranie.
- B. lewada.
- C. parada.
- D. wolta.

Zadanie 17.

Który rodzaj dosiadu stosowany jest podczas ćwiczeń w skokach przez przeszkody?

- A. Półsiad.
- B. Dosiad widłowy.
- C. Dosiad fotelowy.
- D. Dosiad podstawowy.

Zadanie 18.

Wstrzymujące działanie wodzy polega na

- A. chwilowym, mocniejszym przymknięciu ręki i odpuszczeniu.
- B. stałym zamknięciu ręki i odpuszczeniu po zatrzymaniu konia.
- C. naprzemiennym (prawa - lewa) nabieraniu wodzy i ciągnięciu wstecz.
- D. stałym zamknięciu ręki i podnoszeniu wodzy do góry z coraz większą siłą.

Zadanie 19.

Ilu taktowym chodem jest stęp konia?

- A. Dwutaktowym krocącym.
- B. Trzytaktowym z fazą lotu.
- C. Czterotaktowym z fazą lotu.
- D. Czterotaktowym krocącym.

Zadanie 20.

Chód boczny, w którym koń jednocześnie porusza się do przodu i w bok oraz jest zgięty w kierunku ruchu, to


- A. ciąg.
- B. piaff.
- C. piruet.
- D. lewada.

Zadanie 21.

Wskaż zaprzęg w stylu węgierskim.




A.



B.



C.



D.

Zadanie 22.

Wskaż element uprzęży jednokonnej obejmujący zad konia, który pełni rolę hamulca oraz dzięki niemu pojazd nie najeżdża na zad konia.

- A. Natylnik.
- B. Naszelnik.
- C. Nakarcznik.
- D. Nagrzbietnik.

Zadanie 23.

Wskaż prawidłowe przypięcie ostróg.



A.



B.



C.



D.

Zadanie 24.

Zapręg dwóch koni ustawionych jeden za drugim to

- A. random.
- B. w szydło.
- C. poręcz.
- D. tandem.

Zadanie 25.

Ruszanie zaprzęgiem powinno odbyć się przez

- A. cmoknięcie i lekkie popuszczenie lejcy.
- B. uderzenie lejcami po grzbiecie konia.
- C. uderzenie batem po zadzie konia.
- D. napięcie lejcy i sygnał głosem.

Zadanie 26.

W jakiej odległości od przeszkody powinna leżeć wskazówka w czasie treningu skokowego na niskich przeszkodach i najazdach z kłusa?

- A. 1,5-1,7 m
- B. 2-2,2 m
- C. 2,8-3 m
- D. 3,5-3,7 m

Zadanie 27.

„Choroba układu oddechowego koni spowodowana porażeniem nerwu krtaniowego głównie lewego. Konsekwencją tego jest niedostateczne odwodzenie chrząstki nalewkowatej krtani podczas wdechu. Objawia się to patologicznymi dźwiękami podczas ruchu konia (świst), konie takie ze względu na utrudnione oddychanie są mniej wydajne w pracy i szybko się męczą.”

Przedstawiony opis dotyczy schorzenia krtani, które nazywa się

- A. rorer.
- B. RAO.
- C. świstnica.
- D. rodokokoza.

Zadanie 28.

Określ wielkość minimalnej powierzchni ładownej dla 10 roczniaków rasy polski koń szlachetny półkrwi podróżujących koniowozem przez 54 godziny.

Wielkość minimalnej powierzchni ładownej dla koni w transporcie drogowym

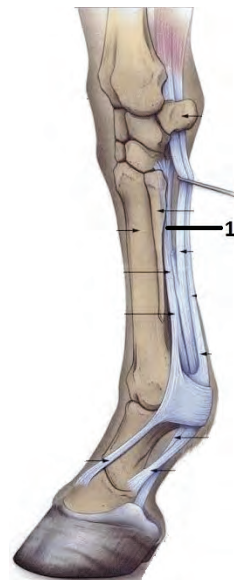
Dorośle konie	1,75 m ² (0,7 x 2,5 m)
Młode konie (6-24 miesięcy) dla podróży do 48 godzin	1,20 m ² (0,6 x 2,0 m)
Młode konie (6-24 miesięcy) dla podróży ponad 48 godzin	2,40 m ² (1,2 x 2,0 m)
Żrebięta (0-6 miesięcy)	1,40 m ² (1,0 x 1,4 m)

- A. 12,0 m²
- B. 14,0 m²
- C. 17,5 m²
- D. 24,0 m²

Zadanie 29.

Wskaż przyczynę zerwania mięśnia międzykostnego w nodze przedniej u koni ujeżdżeniowych, oznaczonego na przedstawionym rysunku numerem 1.

- A. Nadmierna ilość ćwiczeń w chodach wyciągniętych.
- B. Jazda ze zbyt mocno dociągniętym popręgiem.
- C. Stosowanie rollkur w czasie treningu.
- D. Przekarmienie paszą treściwą.



Zadanie 30.

Wskaż konia, który najlepiej nadaje się do pracy w hipoterapii pod względem rasy, wieku i wzrostu.

- A. 6-letni wałach rasy czystej krwi arabskiej o wzroście 153 cm.
- B. 8-letni wałach kuca szetlandzkiego o wzroście 100 cm.
- C. 10-letni wałach rasy huculskiej o wzroście 128 cm.
- D. 11-letni ogier rasy małopolskiej o wzroście 166 cm.

Zadanie 31.

Do konserwacji i czyszczenia skórzanych elementów rzędu jeździeckiego używa się mydła

- A. litowego.
- B. potasowego.
- C. toaletowego.
- D. glicerynowego.

Zadanie 32.

W czasie długich odcinków rajdu konnego pokonywanych kłusem anglezowanym należy pamiętać

- A. o przechodzeniu do kłusa ćwiczebnego.
- B. o zmianie nogi co 1 km, tj. co 5 minut.
- C. o wydłużeniu strzemion o 2 dziurki.
- D. o skróceniu strzemion o 5 dziurek.

Zadanie 33.

Osoba podejmująca się zarobkowego transportu koni na terenie Polski powinna posiadać

- A. Srebrną Odznakę Jeździecką Polskiego Związku Jeździeckiego.
- B. dyplom potwierdzający kwalifikację R.20. Szkolenie i użytkowanie koni.
- C. uprawnienia konwojenta zwierząt wydane przez Powiatowego Lekarza Weterynarii.
- D. Odznakę Przodownika Jeździeckiej Nizinnej Turystyki Konnej Polskiego Towarzystwa Turystyczno-Krajoznawczego.

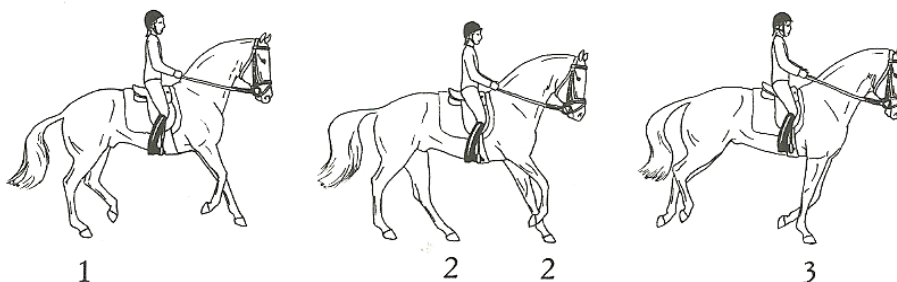
Zadanie 34.

Fotografia przedstawia ochraniacze na nogi konia stosowane podczas

- A. transportu koni.
- B. stępowania w karuzeli po treningu.
- C. treningu na lonży na twardym podłożu.
- D. leczenia zerwania mięśnia międzykostnego.



Zadanie 35.



Chód konia przedstawiony na rysunkach to

- A. cwał konia.
- B. prawidłowy galop z lewej nogi.
- C. prawidłowy galop z prawej nogi.
- D. wadliwy galop, tzw. krzyżowanie.

Zadanie 36.

Pierwszeństwo na ujeżdżalni mają jeźdźcy jadący

- A. na lewą rękę.
- B. na prawą rękę.
- C. kłusem przed jeźdźcami poruszającymi się galopem.
- D. na kole przed jeźdźcami poruszającymi się po liniach prostych.

Zadanie 37.

Wskaż wadliwe ustawienie stawu nadgarstkowego u koni, w którym na skutek przeciążenia pracą lub kontuzji ścięгна noga telegrafuje.

- A. Barania noga.
- B. Koziniec nabyty.
- C. Koziniec wrodzony.
- D. Nadgarstek zeszlifowany.

Zadanie 38.

Na podstawie danych przedstawionych w tabeli oblicz miesięczny zysk z pracy konia w rekreacji po odliczeniu kosztów utrzymania, przy założeniu, że koń pracuje 25 godzin w miesiącu, a cena jednej godziny jazdy wynosi 40 zł.

- A. 150 zł
- B. 450 zł
- C. 550 zł
- D. 1 000 zł

Miesięczny koszt utrzymania konia rekreacyjnego

Koszty	
Pasza	250 zł
Obsługa stajni	100 zł
Obsługa weterynaryjna i kowalska	200 zł

Zadanie 39.

Konie kociące powinny mieć

- A. zapleciony ogon.
- B. zaplecioną grzywę.
- C. wplecioną czerwoną wstążkę w ogon.
- D. wplecioną czerwoną wstążkę w grzywę.

Zadanie 40.

Wskaż informację, której dotyczy zamieszczone oznakowanie szlaku jeździeckiego.

- A. Stajnia etapowa w odległości 500 m.
- B. 500 m – wspólny odcinek z trasą nr 7.
- C. Za 500 m koniec trasy nr 7.
- D. Za 500 m w prawo.



