

Nazwa kwalifikacji: **Organizacja chowu i hodowli koni**
Symbol kwalifikacji: **RL.19**
Numer zadania: **01**
Wersja arkusza: **SG**

Wypełnia zdający

Numer PESEL zdającego*

--	--	--	--	--	--	--	--	--	--	--	--	--	--	--	--	--	--	--	--

Miejsce na naklejkę z numerem
PESEL i z kodem ośrodka

Czas trwania egzaminu: **180** minut.

RL.19-01-24.01-SG

EGZAMIN POTWIERDZAJĄCY KWALIFIKACJE W ZAWODZIE

Rok 2024

CZĘŚĆ PRAKTYCZNA

**PODSTAWA PROGRAMOWA
2017**

Instrukcja dla zdającego

1. Na pierwszej stronie arkusza egzaminacyjnego wpisz w oznaczonym miejscu swój numer PESEL i naklej naklejkę z numerem PESEL i z kodem ośrodka.
2. Na **KARCIE OCENY** w oznaczonym miejscu przyklej naklejkę z numerem PESEL oraz wpisz:
 - swój numer PESEL*,
 - oznaczenie kwalifikacji,
 - numer zadania,
 - numer stanowiska.
3. Sprawdź, czy arkusz egzaminacyjny zawiera 8 stron i nie zawiera błędów. Ewentualny brak stron lub inne usterki zgłoś przez podniesienie ręki przewodniczącemu zespołu nadzorującego.
4. Zapoznaj się z treścią zadania oraz stanowiskiem egzaminacyjnym. Masz na to 10 minut. Czas ten nie jest wliczany do czasu trwania egzaminu.
5. Czas rozpoczęcia i zakończenia pracy zapisze w widocznym miejscu przewodniczący zespołu nadzorującego.
6. Wykonaj samodzielnie zadanie egzaminacyjne. Przestrzegaj zasad bezpieczeństwa i organizacji pracy.
7. Po zakończeniu wykonania zadania pozostaw arkusz egzaminacyjny z rezultatami oraz **KARTĘ OCENY** na swoim stanowisku lub w miejscu wskazanym przez przewodniczącego zespołu nadzorującego.
8. Po uzyskaniu zgody zespołu nadzorującego możesz opuścić salę/miejsce przeprowadzania egzaminu.

Powodzenia!

* w przypadku braku numeru PESEL – seria i numer paszportu lub innego dokumentu potwierdzającego tożsamość

Zadanie egzaminacyjne

Uzupełnij Tabelę 1. *Odmiany na głowie i kończynach u koni*. Podaj pełne nazwy odmian przedstawionych na rysunkach, bez podawania skrótów.

Na podstawie zamieszczonego w arkuszu egzaminacyjnym Rysunku 1. przedstawiającego części ciała konia nazwij oznaczone poszczególnymi cyframi części ciała konia. Nazwy wpisz do Tabeli 2. *Nazwy części ciała konia*.

Uzupełnij Tabelę 3. *Zestawienie przyczyn, objawów i sposobów zapobiegania podstawowym schorzeniom u koni* wpisując nazwy chorób koni i numery opisów przyczyn, objawów i sposobów zapobiegania. Ponumerowane opisy znajdują się w arkuszu egzaminacyjnym (do tabeli wpisz tylko numery opisów).

Uzupełnij Tabelę 4. *Krzyżówki ras koni i skróty ras*.

Podaj skrót rasy dla potomstwa w wyniku krzyżowania matki i ojca różnych ras koni, dla których prowadzone są w Polsce księgi stadne.











W Tabeli 5. zapisz objawy rui jakie będzie wykazywała klacz w czasie próby z ogierem w próbniku (klacz jest w rui) oraz wymień sprzęt potrzebny do wyposażenia klaczy w czasie krycia naturalnego „z ręki”.

Czas przeznaczony na wykonanie zadania wynosi 180 minut.

Ocenię podlegać będzie 5 rezultatów:

- odmiany na głowie i kończynach u koni,
- nazwy części ciała konia,
- zestawienie przyczyn, objawów i sposobów zapobiegania podstawowym schorzeniom u koni,
- krzyżówki różnych ras koni i skróty ras,
- objawy rui u klaczy w czasie próby z ogierem oraz wyposażenie klaczy w czasie krycia naturalnego „z ręki”.

Tabela 1. Odmiiany na głowie i kończynach u koni (podaj pełne nazwy przedstawionych odmian)

Odmiiany na głowie	Nazwa odmiany na głowie	Odmiiany na kończynach	Nazwa odmiany na kończynach
			
			
			
			
			

Rysunek 1. Części ciała konia

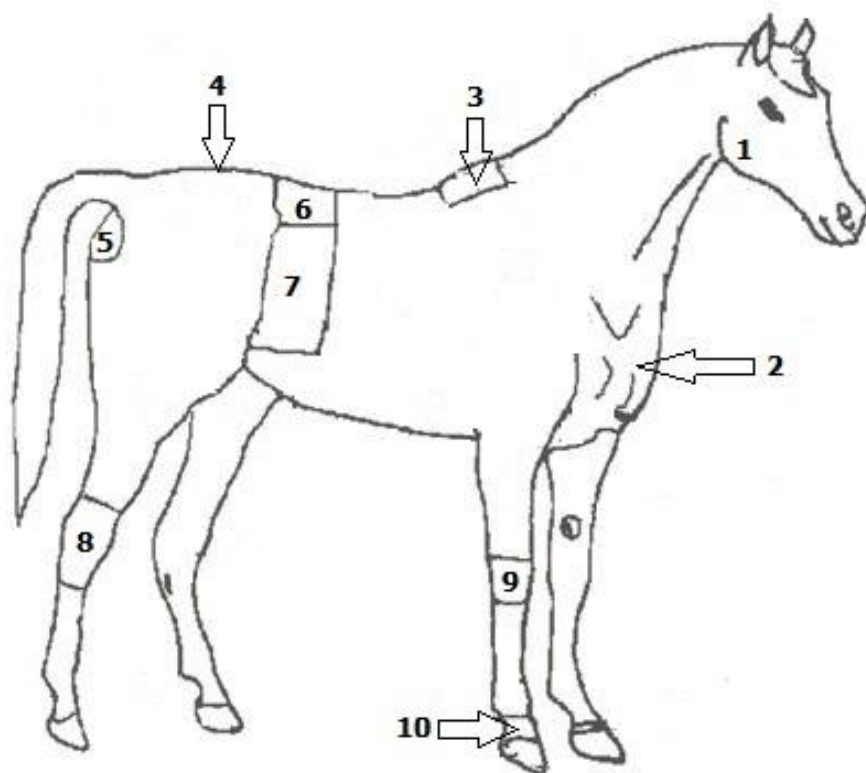


Tabela 2. Nazwy części ciała konia

Numer	Nazwa części ciała konia
1.	
2.	
3.	
4.	
5.	
6.	
7.	
8.	
9.	
10.	

Ponumerowane opisy przyczyn, objawów i sposobów zapobiegania podstawowym schorzeniom u koni

1.

- długotrwałe przebywanie konia w zamkniętych małych pomieszczeniach, niezbyt dobrze wietrzonych,
- przebywanie koni wrażliwych w stajniach, gdzie stwierdza się obecność zanieczyszczonego grzybami siana i słomy.
- przebyte choroby układu oddechowego na tle wirusowym.

2.

- rowek strzałki wypełniony lepłą szaroczną mazią o zapachu zgnilizny,
- bolesność podczas czyszczenia strzałki,
- może pojawić się kulawizna.

3.

- zapewnić koniowi regularny codzienny ruch, ruch ma wpływ dodatni na ukrwienie i motorykę jelit;
- regularnie żywić dobrej jakości paszą i w ilości odpowiedniej do pracy jaką koń wykonuje;
- nie należy konia przekarmiać;
- regularnie odrobaczać konie.

4.

- podanie nadmiernej ilości paszy treściwej – przy braku ruchu,
- pasza zbyt bogata w białko,
- zbyt intensywny ruch na twardym podłożu,
- zatrucia różnego rodzaju i alergię.

5.

- nie przekarmiać koni paszą treściwą,
- regularnie wykonywać korekcję kopyt.
- dawka pokarmowa dostosowana do rasy i sposobu użytkowania.

6.

- moczyć siano,
- częste czyszczenie i odkażanie stajni,
- konie na padoku lub na pastwisku przebywają jak najdłużej,
- koniom zdrowym podawać słomę i siano tylko najlepszej jakości, niepyłące się, niezakażone grzybami.

7.

- codziennie czyścić kopyta,
- utrzymywać konia na suchej ściółce,
- regularnie przeprowadzać werkowanie kopyt.

8.

- zwierzę zaczyna głębiej i szybciej oddychać, kaszel,
- nozdrza wyraźnie rozszerzają się przy każdym oddechu,
- wyciek z nosa wydzieliny śluzowej, śluzowo-ropnej, z obu nozdrzy,
- wydech jest dwufazowy, po ruchu klatki piersiowej następuje skurcz mięśni brzucha wspomagający wydychanie powietrza.

9.

- koń uderza tylnymi kopytami w brzuch,
- koń ogląda się na boki, grzebie przednią nogą,
- koń może przyjmować postawę "*siedzącego psa*",
- koń wysuwa przednie kończyny do przodu, tylne do tyłu.

10.

- czynnikiem chorobotwórczym są bakterie beztlenowe,
- utrzymywanie koni na wilgotnej i głębokiej ściółce,
- nieprawidłowa pielęgnacja kopyt.

11.

- przekarmienie, nadmiar paszy treściwej,
- nagła zmiana paszy, podawanie paszy nieświeżej, zgniłego siana czy słomy;
- zapiaszczenie jelita ślepego, zapętlenie jelita, zarobaczenie.

12.

- gorące i wrażliwe na dotyk kopyta,
- koń ma trudności w poruszaniu się.
- koń przyjmuje postawę z wysuniętymi kończynami do przodu.

Tabela 3. Zestawienie przyczyn, objawów i sposobów zapobiegania podstawowym schorzeniom u koni. (wpisz nazwę choroby oraz uzupełnij brakujące pola odpowiednimi numerami opisów)

Nazwa choroby	Przyczyny	Objawy	Zapobieganie
		8.	
	11.		3.
		12.	
	10.		7.

Tabela 4. Krzyżówki ras koni i skróty ras

Określ jakiej rasy będzie potomstwo matki i ojca podanych w Tabeli oraz wyjaśnij skróty ras.
W kolumnie „Potomstwo” wpisz tylko skrót rasy koni.

Lp.	Matka	Ojciec	Potomstwo
1.	m	śl	
2.	wlkp	oo	
3.	sp	bwp	
4.	śl	xx	
5.	xx	oo	
	Podaj pełną nazwę rasy koni		
6.	xx		
7.	oo		
8.	pkz		
9.	sp		
10.	hc		



Tabela 5. Objawy rui u klaczy w czasie próby z ogierem oraz wyposażenie klaczy w czasie krycia naturalnego „z ręki”

Lp.	Objawy rui u klaczy w czasie próby z ogierem w próbniku
1.	
2.	
3.	
4.	
5.	
	Wyposażenie klaczy w czasie krycia z ręki
6.	
7.	
8.	
9.	

