

Nazwa kwalifikacji: **Szkolenie i użytkowanie koni**
Oznaczenie kwalifikacji: **RL.20**
Wersja arkusza: **SG**
Czas trwania egzaminu: **60 minut**

RL.20-SG-20.06

EGZAMIN POTWIERDZAJĄCY KWALIFIKACJE W ZAWODZIE

Rok 2020

CZĘŚĆ PISEMNA

**PODSTAWA PROGRAMOWA
2017**

Instrukcja dla zdającego

1. Sprawdź, czy arkusz egzaminacyjny zawiera 11 stron. Ewentualny brak stron lub inne usterki zgłoś przewodniczącemu zespołu nadzorującego.
2. Do arkusza dołączona jest KARTA ODPOWIEDZI, na której w oznaczonych miejscach:
 - wpisz oznaczenie kwalifikacji,
 - zamaluj kratkę z oznaczeniem wersji arkusza,
 - wpisz swój numer PESEL*,
 - wpisz swoją datę urodzenia,
 - przyklej naklejkę ze swoim numerem PESEL.
3. Arkusz egzaminacyjny zawiera test składający się z 40 zadań.
4. Za każde poprawnie rozwiązane zadanie możesz uzyskać 1 punkt.
5. Aby zdać część pisemną egzaminu musisz uzyskać co najmniej 20 punktów.
6. Czytaj uważnie wszystkie zadania.
7. Rozwiązania zaznaczaj na KARCIE ODPOWIEDZI długopisem lub piórem z czarnym tuszem/atramentem.
8. Do każdego zadania podane są cztery możliwe odpowiedzi: A, B, C, D. Odpowiada im następujący układ krerek w KARCIE ODPOWIEDZI:

A	B	C	D
---	---	---	---

9. Tylko jedna odpowiedź jest poprawna.
10. Wybierz właściwą odpowiedź i zamaluj kratkę z odpowiadającą jej literą – np., gdy wybrałeś odpowiedź „A”:

<input checked="" type="checkbox"/>	B	C	D
-------------------------------------	---	---	---

11. Staraj się wyraźnie zaznaczać odpowiedzi. Jeżeli się pomylisz i błędnie zaznaczysz odpowiedź, otocz ją kółkiem i zaznacz odpowiedź, którą uważasz za poprawną, np.

<input checked="" type="checkbox"/>	B	C	<input checked="" type="checkbox"/>
-------------------------------------	---	---	-------------------------------------

12. Po rozwiązaniu testu sprawdź, czy zaznaczyłeś wszystkie odpowiedzi na KARCIE ODPOWIEDZI i wprowadziłeś wszystkie dane, o których mowa w punkcie 2 tej instrukcji.

Pamiętaj, że oddajesz przewodniczącemu zespołu nadzorującego tylko KARTĘ ODPOWIEDZI.

Powodzenia!

* w przypadku braku numeru PESEL – seria i numer paszportu lub innego dokumentu potwierdzającego tożsamość

Zadanie 1.

Przedstawiony w ramce opis cechy wpływającej na użytkowość dotyczy

- A. temperamentu.
- B. konstytucji.
- C. charakteru.
- D. kondycji.

Jest to zespół cech psychicznych, właściwych danemu koniowi, które przejawiają się w jego świadomym działaniu. Jego wyrazem jest również stosunek do innych koni i ludzi. W populacji można wyróżnić między innymi: konie łagodne i gwałtowne, łatwe i trudne w obsłudze, przyjazne i złośliwe.

Zadanie 2.

Najlepszą polską rasą koni do powożenia pokazaną na rysunku jest

- A. rasa śląska.
- B. kuc feliński.
- C. rasa huculska.
- D. rasa małopolska.



Zadanie 3.

Minimalny wiek konia upoważniający do startu w Mistrzostwach Polski w skokach przez przeszkody wynosi

- A. 4 lata.
- B. 5 lat.
- C. 6 lat.
- D. 7 lat.

Zadanie 4.

Element przejazdu w reiningu przedstawiony na rysunku to


- A. spin.
- B. circles.
- C. backups.
- D. sliding stop.



Zadanie 5.

Ćwiczenia woltyżerskie przedstawione na rysunku to

- A. faga.
- B. flanka.
- C. nożyce.
- D. młynek.



Zadanie 6.

W celu zapobieżenia wysokiemu unoszeniu głowy przez konia w czasie jazdy konnej, stosuje się

- A. wytok.
- B. forgurt.
- C. napierśnik.
- D. podpierśnik.

Zadanie 7.

W którym miejscu przeszkody ma być umieszczona biała chorągiewka kierunkowa?

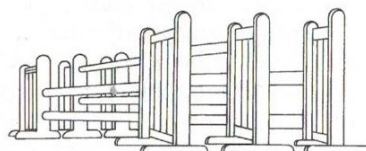
- A. Na prawym stojaku u góry.
- B. Na prawym stojaku na dole.
- C. Na lewym stojaku u góry.
- D. Na lewym stojaku na dole.

Zadanie 8.


Który rysunek przedstawia stacjonatę?



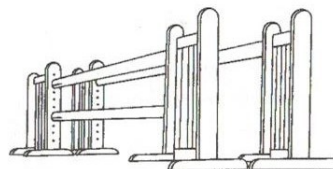
A.



B.



C.

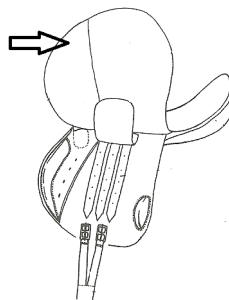


D.

Zadanie 9.

Element siodła wskazany strzałką na rysunku to


- A. tybinka.
- B. puślisko.
- C. przystuły.
- D. przystulica.



Zadanie 10.

Koń przedstawiony na rysunku reprezentuje typ konia do

- A. WKKW.
- B. reiningu.
- C. powożenia.
- D. wołyżerki.



Zadanie 11.

Wadą budowy, która najbardziej obniża wartość użytkową konia, jest

- A. pipak.
- B. jelenia szyja.
- C. pchnięcie lancą.
- D. szczupaczy pysk.

Zadanie 12.

Zabieg wykonywany cyklicznie w celu ochrony strzałki kopyta przed gniciem to

- A. masaż koronki.
- B. dziegciowanie podeszwy kopyta.
- C. natłuszczenie przedniej ściany kopyta.
- D. ekspozycja konia na działanie solarium.

Zadanie 13.

Ćwiczenia polegające na rozciąganiu u konia mięśni, które prowadzą do poprawy ich elastyczności i zwiększenia zakresu ruchu, przedstawione na rysunku, to


- A. masaż Mastersona.
- B. masaż sportowy.
- C. kinesiotaping.
- D. stretching.



Zadanie 14.

Na rysunku przedstawiono podkowę

- A. hacelową.
- B. sztyftową.
- C. gryfowaną.
- D. pantoflową.



Zadanie 15.

Odpowiedzialność osoby sprzedającej konia z tytułu rękojmi trwa

- A. 30 dni.
- B. 6 miesięcy.
- C. 12 miesięcy.
- D. 2 lata.

Zadanie 16.

Przedstawiona na rysunku infekcja skóry u konia to

- A. opoje.
- B. gruda.
- C. grzybica.
- D. odsednienie.



Zadanie 17.

Przyczyną wystąpienia zatrutu jest

- A. zbyt głębokie wbicie podkowiaków.
- B. mechaniczny uraz koronki lub piątek kopytowych.
- C. podanie nadmiernej ilości paszy treściwej przy braku ruchu.
- D. praca niepodkutych koni na twardym, kamienistym podłożu.

Zadanie 18.

Temperatura ciała konia wynosi 39°C. Wskaż prawidłowe postępowanie z koniem w zaistniałej sytuacji.

- A. Temperatura ciała konia w normie. Brak reakcji.
- B. Koń ma gorączkę, należy wezwać lekarza weterynarii.
- C. Temperatura ciała konia na dolej granicy normy. Konia okryć ciepłą derką.
- D. Temperatura ciała konia na górnej granicy normy. Należy bacznie obserwować konia.

Zadanie 19.

Urządzenie przedstawione na rysunku służy u konia do

- A. rozluźnienia napiętych mięśni.
- B. usuwania martwego naskórka.
- C. rozczesywania grzywy.
- D. golenia sierści.

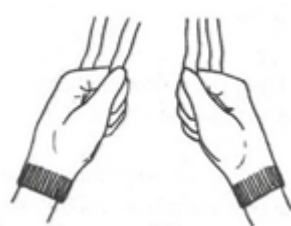


Zadanie 20.

Prawidłowe trzymanie wodzy przedstawiono na rysunku



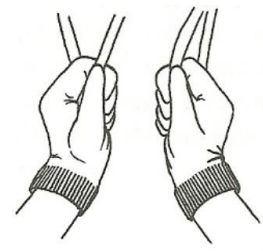
A.



B.



C.



D.

Zadanie 21.

Błędy szkolenia konia do pracy w zaprzęgu jednokonnym mogące powodować odmowę ciągnięcia to

- A. zbyt krótkie wypięcie naszelnika.
- B. za długie wypięcie podogonia.
- C. nadmierne obciążenie.
- D. stosowanie okularów.

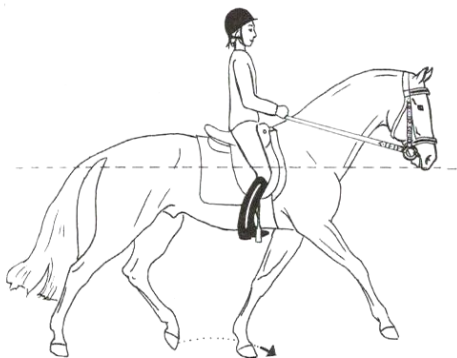
Zadanie 22.

Pomoce naturalne stosowane przez jeźdźca podczas jazdy konnej to


- A. ostrogi.
- B. palcat.
- C. łydki.
- D. bat.

Zadanie 23.

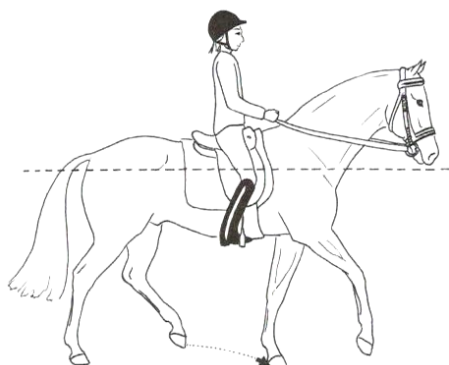
Na którym rysunku przedstawiono jeźdźca w kłusie wyciągniętym?



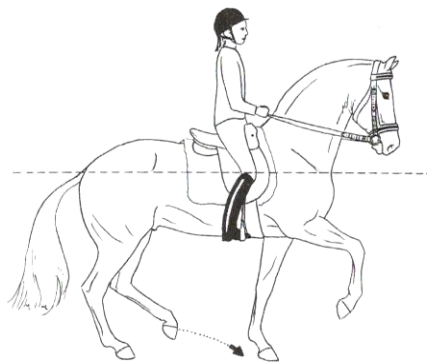
A.



B.



C.



D.

Zadanie 24.

Rysunek przedstawia ogłowie z nachrapnikiem

- A. meksykańskim.
- B. hanowerskim.
- C. irlandzkim.
- D. polskim.



Zadanie 25.

Ogłowie przedstawione na rysunku to

- A. hackamore.
- B. munsztuk.
- C. pelham.
- D. bosal.



Zadanie 26.

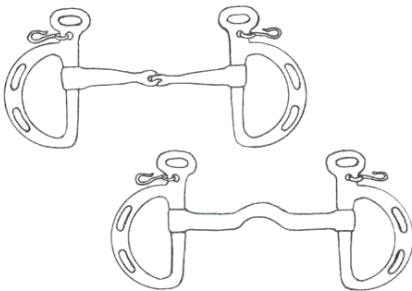
Na rysunku przedstawiono zaprzęg w stylu

- A. podlaskim.
- B. angielskim.
- C. węgierskim.
- D. krakowskim.

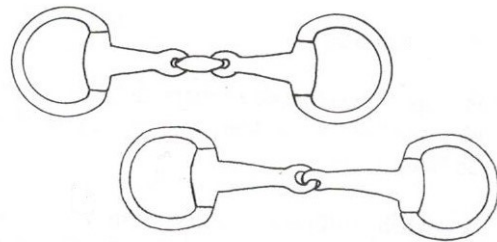


Zadanie 27.

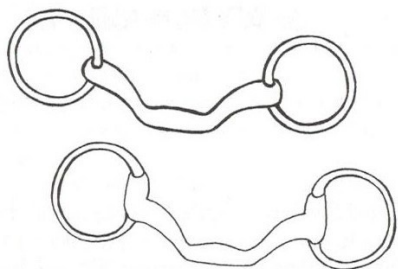
Na którym rysunku przedstawiono wędzidło anatomiczne?



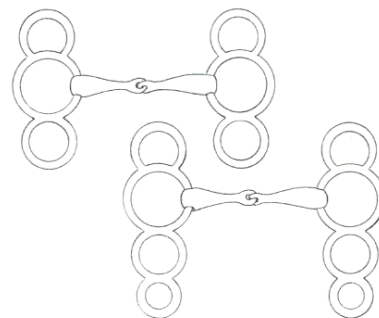
A.



B.



C.



D.

Zadanie 28.

W której konkurencji jeździeckiej zawodnik musi być ubrany w marynarkę pokazaną na rysunku?

- A. Reining.
- B. Rajdy sportowe.
- C. Skoki przez przeszkody.
- D. Powożenie zaprzęgami czterokonnymi.



Zadanie 29.

Parokonna uprząż szorowa różni się od jednokonnej obecnością

- A. nagrzbietnika.
- B. nakarcznika.
- C. naszelnika.
- D. podpinki.

Zadanie 30.

Na którym rysunku przedstawiono powóz typu gig?



A.



B.



C.



D.

Zadanie 31.

Pierwszą czynnością podczas zaprzęgnięcia pary koni, po podprowadzeniu do dyszła, jest

- A. przypięcie krzyżaków do sąsiednich koni.
- B. zapięcie pasów pociągowych.
- C. przypięcie naszelników.
- D. spięcie końcówek lejcy.

Zadanie 32.

Przedstawiony w ramce opis dopasowania elementu uprzęży szorowej dotyczy

- A. nagrzbietnika.
- B. nakarcznika.
- C. natylnika.
- D. siodełka.

Górna rozszerzona część leży tuż przed kłębem konia na kosmyku grzywy we wcięciu siekiery i przebiega lekko skośnie do napierśnika.

Zadanie 33.

Do czyszczenia skórzanych elementów sprzętu jeździeckiego i zaprzęgowego służy mydło

- A. litowe.
- B. potasowe.
- C. toaletowe.
- D. glicerynowe.

Zadanie 34.

Zabiegiem pielęgnacyjnym sprzętu jeździeckiego wykonywanym po każdym użyciu jest

- A. pranie potnika.
- B. mycie wędzidła.
- C. natłuszczanie siodła.
- D. naoliwienie sprzączek.

Zadanie 35.

Który dokument **nie jest** wymagany podczas usługowego transportu klaczy?

- A. Świadczenie zatwierdzenia środka transportu.
- B. Paszport hodowlany przewożonej klaczy.
- C. Potwierdzenie kwalifikacji konwojenta.
- D. Świadczenie pokrycia klaczy.

Zadanie 36.

Przygotowując konia do transportu, **nie należy**

- A. poić konia.
- B. podawać paszy treściwej.
- C. podawać paszy objętościowej.
- D. zakładać ochraniacze transportowych na nogi.

Zadanie 37.

Dla mężczyzny o wadze 85 kg i wzroście 180 cm najlepszym koniem do rekreacyjnej jazdy konnej będzie koń rasy

- A. huculskiej.
- B. konik polski.
- C. czystej krwi arabskiej.
- D. polski koń szlachetny półkrwi.

Zadanie 38.

Znak postawiony na szlaku konnym oznacza

- A. jesteś na szlaku konnym (znak podstawowy).
- B. informację o postoju lub popasie.
- C. nakaz jazdy prosto.
- D. stajnię etapową.



Zadanie 39.

Uraz kłębu powstały wskutek ucisku źle dopasowanego siodła to

- A. pipak.
- B. spleczenie.
- C. odsednienie.
- D. zapoprężenie.

Zadanie 40.

Przedstawiony na rysunku sygnał stosowany podczas jazdy w zastępie oznacza, że należy

- A. zwinąć szyk.
- B. rozproszyć się.
- C. skrócić w lewo.
- D. wsiąść na konia.

