

Nazwa kwalifikacji: **Szkolenie i użytkowanie koni**

Symbol kwalifikacji: **RL.20**

Wersja arkusza: **SG**

Czas trwania egzaminu: **60 minut**

RL.20-SG-24.06

EGZAMIN POTWIERDZAJĄCY KWALIFIKACJE W ZAWODZIE

Rok 2024

CZĘŚĆ PISEMNA

**PODSTAWA PROGRAMOWA
2017**

Instrukcja dla zdającego

1. Sprawdź, czy arkusz egzaminacyjny zawiera 10 stron. Ewentualny brak stron lub inne usterki zgłoś przewodniczącemu zespołu nadzorującego.
2. Do arkusza dołączona jest KARTA ODPOWIEDZI, na której w oznaczonych miejscach:
 - wpisz oznaczenie kwalifikacji,
 - zamaluj kratkę z oznaczeniem wersji arkusza,
 - wpisz swój numer PESEL*,
 - wpisz swoją datę urodzenia,
 - przyklej naklejkę ze swoim numerem PESEL.
3. Arkusz egzaminacyjny zawiera test składający się z 40 zadań.
4. Za każde poprawnie rozwiązane zadanie możesz uzyskać 1 punkt.
5. Aby zdać część pisemną egzaminu musisz uzyskać co najmniej 20 punktów.
6. Czytaj uważnie wszystkie zadania.
7. Rozwiązania zaznaczaj na KARCIE ODPOWIEDZI długopisem lub piórem z czarnym tuszem/atramentem.
8. Do każdego zadania podane są cztery możliwe odpowiedzi: A, B, C, D. Odpowiada im następujący układ krerek w KARCIE ODPOWIEDZI:

A	B	C	D
---	---	---	---

9. Tylko jedna odpowiedź jest poprawna.
10. Wybierz właściwą odpowiedź i zamaluj kratkę z odpowiadającą jej literą – np., gdy wybrałeś odpowiedź „A”:

<input checked="" type="checkbox"/>	B	C	D
-------------------------------------	---	---	---

11. Staraj się wyraźnie zaznaczać odpowiedzi. Jeżeli się pomylisz i błędnie zaznaczysz odpowiedź, otocz ją kółkiem i zaznacz odpowiedź, którą uważasz za poprawną, np.

<input checked="" type="checkbox"/>	B	C	<input checked="" type="checkbox"/>
-------------------------------------	---	---	-------------------------------------

12. Po rozwiązaniu testu sprawdź, czy zaznaczyłeś wszystkie odpowiedzi na KARCIE ODPOWIEDZI i wprowadziłeś wszystkie dane, o których mowa w punkcie 2 tej instrukcji.

Pamiętaj, że oddajesz przewodniczącemu zespołu nadzorującego tylko KARTĘ ODPOWIEDZI.

Powodzenia!

* w przypadku braku numeru PESEL – seria i numer paszportu lub innego dokumentu potwierdzającego tożsamość

Zadanie 1.

Wskaż nieprawdziwą cechę wzroku konia.

- A. Koń doskonale widzi ruch nawet drobnych przedmiotów.
- B. W nocy koń widzi dwukrotnie lepiej niż człowiek.
- C. Konia nie oślepia światło słoneczne.
- D. Pole widzenia konia wynosi 200°.

Zadanie 2.

Wada ruchu konia polegająca na uderzaniu kopytami tylnych nóg o nogi przednie to

- A. szłap.
- B. ściganie.
- C. podrywanie.
- D. strychowanie.

Zadanie 3.

Na podstawie podanych poniżej wymiarów konia, wskaż najlepszego konia do konkurencji skoki przez przeszkody (wartości podane w centymetrach).

- A. 149-180-18
- B. 160-215-28
- C. 165-195-23
- D. 175-210-25

Zadanie 4.

Wskaż parę (rasa konia - konkurencja jeździecka), w której rasa konia jest najlepiej dopasowana do konkurencji jeździeckiej.

- A. Rasa śląska – Wszechstronny Konkurs Konia Wierzchowego.
- B. Czysta krew arabska – sportowe rajdy konne.
- C. Pełna krew angielska – woltyżerka.
- D. Polski koń sportowy – reining.

Zadanie 5.

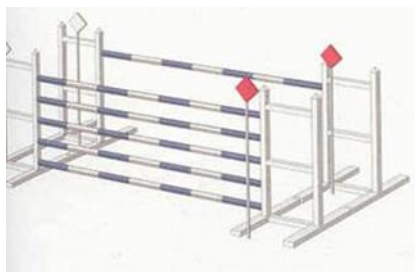
Na podstawie podanego wieku, płci i rasy, wskaż konia o najlepszych predyspozycjach do ujeżdżenia.

- A. 4-letni ogier rasy zimnokrwistej w typie sztumskim.
- B. 6-letni ogier rasy pełnej krwi angielskiej.
- C. 11-letnia klacz rasy polski koń sportowy.
- D. 14-letni wałach rasy huculskiej.

Zadanie 6.

Przeszkoda przedstawiona na ilustracji to

- A. mur.
- B. stacjonarna.
- C. triplebarre.
- D. doublebarre.

**Zadanie 7.**

Wysokość przeszkód w konkursie klasy C w skokach przez przeszkody wynosi

- A. 110 cm.
- B. 120 cm.
- C. 130 cm.
- D. 140 cm.

Zadanie 8.

Przedstawione na ilustracji narzędzie służy do

- A. tarnikowania kopyt konia.
- B. przerywania grzywy konia.
- C. rozczesywania ogona konia.
- D. czyszczenia szczotki włosianej.

**Zadanie 9.**

Ocena pokroju i ruchu 4-letnich koni podczas Mistrzostw Polski Młodych Koni odbywa się na

- A. trójkącie o wymiarach 30x30x30 m.
- B. czworoboku o wymiarach 20x40 m.
- C. prostej ścieżce o długości 40 m.
- D. kole o średnicy 20 m.

Zadanie 10.

W której pozycji prezentuje się konie półkwi na pokazach hodowlanych przed komisją?

- A. Prostej.
- B. Bocznej.
- C. Pomiarowej.
- D. Zootechnicznej.

Zadanie 11.

Przedstawiona na ilustracji infekcja skóry u konia to

- A. opoje.
- B. gruda.
- C. grzybica.
- D. odsednienie.

**Zadanie 12.**

Przyczyną wystąpienia zatratu jest

- A. zbyt głębokie wbicie podkowiaków.
- B. mechaniczny uraz koronki lub piętek kopytowych.
- C. podanie nadmiernej ilości paszy treściwej przy braku ruchu.
- D. praca niepodkutych koni na twardym, kamienistym podłożu.

Zadanie 13.

Które badanie stanu zdrowia konia przedstawiono na ilustracji?

- A. Stan odwodnienia organizmu.
- B. Wypełnienia żyły jarzmowej.
- C. Stan napięcia mięśni.
- D. Pomiar tętna.

**Zadanie 14.**

Wskaż nazwę i przeznaczenie urządzenia przedstawionego na ilustracji.

- A. Karuzela dla koni – służy do zapewnienia koniom ruchu w stępie i kłusie.
- B. Poskrom – służy do bezpiecznego unieruchamiania koni.
- C. Bieżnia – miejsce do zaprawy młodych koni w ruchu.
- D. Maneż – miejsce do krycia klaczy.

**Zadanie 15.**

Minimalne wymiary boksu dla dorosłego konia powyżej 147 cm wysokości w kłębie wynoszą

- A. 5 m x 3 m
- B. 4 m x 3 m
- C. 3 m x 3 m
- D. 2 m x 3 m

Zadanie 16.

Konie ras półkrwi zajeżdża się pod siodłem w wieku

- A. 12 miesięcy.
- B. 1,5 roku.
- C. 3 lat.
- D. 5 lat.

Zadanie 17.

Za które przystęły przypina się popręg do siodła (licząc od lewej strony) na prawidłowo zbudowanym koniu?

- A. Pierwszą i drugą.
- B. Drugą i trzecią.
- C. Pierwszą i trzecią.
- D. Tylko za środkową.

Zadanie 18.

Wskaż błędnie opisaną i wykonaną czynność jeźdźca w czasie zagalopowania z prawej nogi.

- A. Zwiększa uwagę konia przez wykonanie półparady.
- B. Przesuwa wewnętrzną łydkę na szerokość dłoni za popręg.
- C. Prawą łydką, leżącą przy popręgu, nadaje impuls do ruchu do przodu.
- D. W momencie zagalopowania, jeździec wypuszcza skok galopu do przodu przez lekko ustępujące wodze, zwłaszcza wewnętrzną.

Zadanie 19.

Działanie jeźdźca przez mocniejsze napinanie krzyża i przyłożenie łydek, prowadzące do zatrzymania konia, to

- A. zebranie.
- B. lewada.
- C. parada.
- D. wolta.

Zadanie 20.


Odmiany na ciele konia zaznacza się na diagramie w paszporcie konia kolorem

- A. czarnym.
- B. zielonym.
- C. niebieskim.
- D. czerwonym.

Zadanie 21.

Ćwiczenie ujeżdzeniowe pokazane na rysunku to

- A. oddawanie i nabieranie wodzy.
- B. koń na swobodnej wodzy.
- C. żucie z ręki.
- D. półparada.



Zadanie 22.

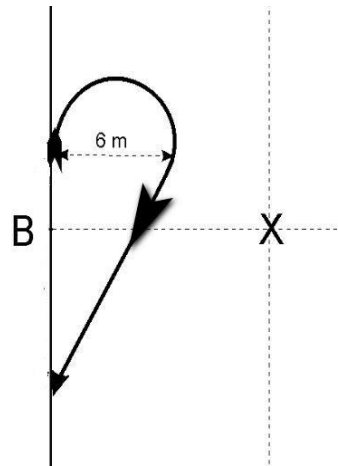
Środki pomocnicze jeździeckie, pozwalające osiągnąć lepsze porozumienie z koniem, to:

- A. lejce, głos, bat.
- B. palcat, głos, ostrogi.
- C. dosiad, łydka, wodza.
- D. wędzidło, wzrok, ciężar ciała.

Zadanie 23.

Figura ujeżdzeniowa pokazana na wycinku czworoboku to

- A. półvolta w prawo.
- B. volta o średnicy 6 metrów.
- C. odwrotna półvolta w prawo.
- D. zmiana kierunku jazdy po przekątnej.



Zadanie 24.

Brakujący element skali szkoleniowej to

- A. rytm.
- B. impuls.
- C. równowaga.
- D. przepuszczalność.



Zadanie 25.

Gotowość równomiernie rozluźnionego na obydwie strony i posłusznego konia do przyjmowania bez przymusu pomocy: aktywizujących, wstrzymujących i przesuwających wraz z natychmiastową reakcją konia na pomoce jeźdźca to

- A. przepuszczalność.
- B. prostowanie.
- C. jezdność.
- D. impuls.

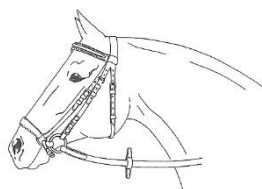
Zadanie 26.

Ilustracja przedstawia konia ubranego w

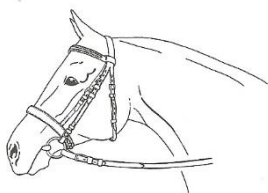
- A. gogue.
- B. kawecan.
- C. chambon.
- D. uździenicę.




Zadanie 27.



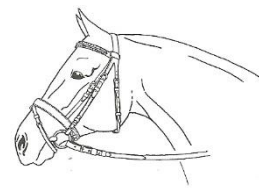
Ogłowie 1.



Ogłowie 2.



Ogłowie 3.



Ogłowie 4.

Wskaż ogłowie wędzidłowe z nachrapnikiem hanowerskim.

- A. Ogłowie 1.
- B. Ogłowie 2.
- C. Ogłowie 3.
- D. Ogłowie 4.

Zadanie 28.



Wędzidło 1.

Wędzidło 2.

Wędzidło 3.

Wędzidło 4.

Które z zaprezentowanych wędzideł zaprzęgowych stosowane jest w zaprzęgu w stylu angielskim?

- A. Wędzidło 1.
- B. Wędzidło 2.
- C. Wędzidło 3.
- D. Wędzidło 4.

Zadanie 29.



Koszulka 1.

Koszulka 2.

Koszulka 3.

Koszulka 4..

W której koszulce zawodniczka **nie zostanie dopuszczona** do zawodów w skokach przez przeszkody?

- A. Koszulka 1.
- B. Koszulka 2.
- C. Koszulka 3.
- D. Koszulka 4.

Zadanie 30.

Na ilustracji przedstawiono uprzęż chomątową angielską. Strzałką oznaczono

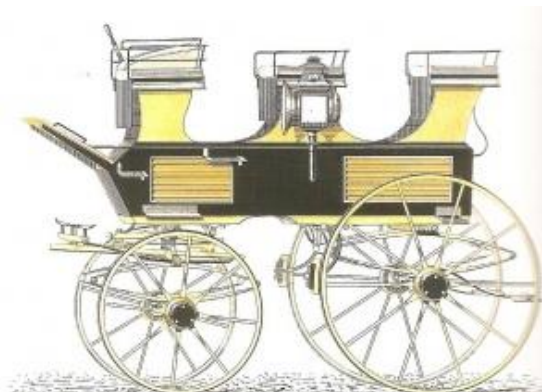
- A. naszelnik.
- B. chomąto.
- C. szprung.
- D. czek.



Zadanie 31.

Powóz konny przedstawiony na ilustracji to

- A. wagonetka.
- B. sulky.
- C. lando.
- D. brek.



Zadanie 32.

Wskaż miejsce powożącego na bryczce w czasie jazdy.

- A. Na środku.
- B. Z lewej strony.
- C. Z prawej strony.
- D. Nie ma to znaczenia.

Zadanie 33.

Ilustracja przedstawia zaprzęg w stylu

- A. podlaskim.
- B. angielskim.
- C. węgierskim.
- D. krakowskim.



Zadanie 34.

Mydła glicerynowego używa się do

- A. czyszczenia lakierowanych elementów zabytkowych pojazdów konnych.
- B. konserwacji i czyszczenia skórzanych elementów rzędu jeździeckiego.
- C. kąpieli konia tzn. mycia sierści konia.
- D. mycia ogona i grzywy konia.

Zadanie 35.

Który dokument **nie jest** wymagany podczas usługowego transportu klaczy?

- A. Świadectwo zatwierdzenia środka transportu.
- B. Paszport hodowlany przewożonej klaczy.
- C. Potwierdzenie kwalifikacji konwojenta.
- D. Świadectwo pokrycia klaczy.

Zadanie 36.

Ilustracja przedstawia ochraniacze stosowane podczas

- A. transportu konia.
- B. treningu skokowego.
- C. leczenia pochwatowego.
- D. pobytu koni w stajni angielskiej.

**Zadanie 37.**

Czerwona wstążka wpleciona w grzywę konia, który uczestniczy w rajdzie wyznaczonym szlakiem konnym oznacza konia

- A. prowadzącego zastęp.
- B. zamykającego zastęp.
- C. kopiącego.
- D. gryzącego.

Zadanie 38.

Który zapis dotyczący zasad bezpieczeństwa jazdy na ujeżdżalni jest prawidłowy?

- A. Jeźdźcy mijają się lewymi rękoma.
- B. Jadący „po kole” mają pierwszeństwo przed jadącymi „na wprost”.
- C. Jeźdźcy wykonujący figury mają pierwszeństwo przed jadącymi na pierwszym śladzie
- D. Jeźdźcy jadący niższym chodem mają pierwszeństwo przed jadącymi wyższym chodem.

Zadanie 39.

Po lasach państwowych można poruszać się konno tylko wtedy, gdy

- A. droga nie jest utwardzona.
- B. mamy uprawnienia instruktora.
- C. nie ma zagrożenia pożarowego.
- D. wyznaczone są oznaczone szlaki.

Zadanie 40.

Stajnia posiada 6 koni „pod siodło”. Konie pracują pod siodłem 5 dni w tygodniu po 2 godziny. Opłata za godzinę jazdy wynosi 50,00 zł. Oblicz jaki jest przychód stajni z jazd konnych w okresie pełnych 4 tygodni?

- A. 3 000,00 zł
- B. 6 000,00 zł
- C. 9 000,00 zł
- D. 12 000,00 zł