

Nazwa kwalifikacji: **Ochrona osób i mienia**

Oznaczenie kwalifikacji: **Z.03**

Wersja arkusza: **X**

Z.03-X-16.05

Czas trwania egzaminu: **60 minut**

**EGZAMIN POTWIERDZAJĄCY KWALIFIKACJE W ZAWODZIE
Rok 2016
CZĘŚĆ PISEMNA**

Instrukcja dla zdającego

1. Sprawdź, czy arkusz egzaminacyjny zawiera 9 stron. Ewentualny brak stron lub inne usterki zgłoś przewodniczącemu zespołu nadzorującego.
2. Do arkusza dołączona jest KARTA ODPOWIEDZI, na której w oznaczonych miejscach:
 - wpisz oznaczenie kwalifikacji,
 - zamaluj kratkę z oznaczeniem wersji arkusza,
 - wpisz swój numer PESEL*,
 - wpisz swoją datę urodzenia,
 - przyklej naklejkę ze swoim numerem PESEL.
3. Arkusz egzaminacyjny zawiera test składający się z 40 zadań.
4. Za każde poprawnie rozwiązane zadanie możesz uzyskać 1 punkt.
5. Aby zdać część pisemną egzaminu musisz uzyskać co najmniej 20 punktów.
6. Czytaj uważnie wszystkie zadania.
7. Rozwiązania zaznaczaj na KARCIE ODPOWIEDZI długopisem lub piórem z czarnym tuszem/atramentem.
8. Do każdego zadania podane są cztery możliwe odpowiedzi: A, B, C, D. Odpowiada im następujący układ kratek w KARCIE ODPOWIEDZI:

A	B	C	D
---	---	---	---

9. Tylko jedna odpowiedź jest poprawna.
10. Wybierz właściwą odpowiedź i zamaluj kratkę z odpowiadającą jej literą – np., gdy wybrałeś odpowiedź „A”:

<input checked="" type="checkbox"/>	B	C	D
-------------------------------------	---	---	---

11. Staraj się wyraźnie zaznaczać odpowiedzi. Jeżeli się pomylisz i błędnie zaznaczysz odpowiedź, otocz ją kółkiem i zaznacz odpowiedź, którą uważasz za poprawną, np.

<input checked="" type="checkbox"/>	B	C	<input checked="" type="checkbox"/>
-------------------------------------	---	---	-------------------------------------

12. Po rozwiązaniu testu sprawdź, czy zaznaczyłeś wszystkie odpowiedzi na KARCIE ODPOWIEDZI i wprowadziłeś wszystkie dane, o których mowa w punkcie 2 tej instrukcji.

Pamiętaj, że oddajesz przewodniczącemu zespołu nadzorującego tylko KARTĘ ODPOWIEDZI.

Powodzenia!

* w przypadku braku numeru PESEL – seria i numer paszportu lub innego dokumentu potwierdzającego tożsamość

Zadanie 1.

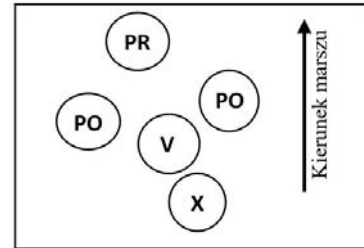
Pracownik ochrony osobistej ma prawo odstąpić od wezwania osoby do zachowania zgodnego z prawem oraz uprzedzenia o zastosowaniu środka przymusu bezpośredniego, jeżeli

- A. występuje bezpośrednie zagrożenie życia, zdrowia lub wolności pracownika ochrony lub osoby ochranianej.
- B. używa siły fizycznej w postaci technik obrony lub transportowych.
- C. nie ma takiego prawa.
- D. używa broni palnej.

Zadanie 2.

Miejsce w szyku ochronnym zaznaczone znakiem X na schemacie zajmuje

- A. dowódca zmiany.
- B. dowódca ochrony.
- C. pracownik ochrony zamykający.
- D. pracownik ochrony rozpoznania.



Zadanie 3.

Ochronę osobistą osoby szczególnie zagrożonej atakiem organizuje się w formie

- A. pierścieni kombinowanych.
- B. ochrony kompleksowej.
- C. pierścieni ochronnych.
- D. ochrony totalnej.

Zadanie 4.

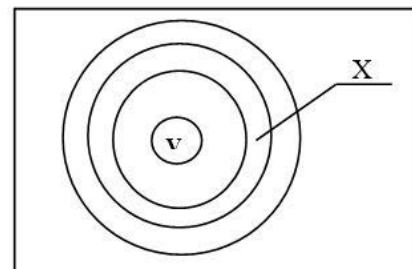
Pracownik ochrony osobistej **nie może** użyć kajdanek w celu

- A. częściowego unieruchomienia kończyn.
- B. całkowitego unieruchomienia kończyn.
- C. zapobieżenia objawom autoagresji.
- D. zapobieżenia objawom agresji.

Zadanie 5.

Znakiem X na schemacie zaznaczono pierścień ochrony

- A. wewnętrzny.
- B. peryferyjny.
- C. zewnętrzny.
- D. środkowy.



Zadanie 6.

Aby obliczyć aktualną wartość jednostki obliczeniowej należy

- A. pomnożyć przeciętne miesięczne wynagrodzenie w ubiegłym kwartale (ogłaszane w dzienniku urzędowym „Monitor Polski”) przez 120.
- B. pomnożyć przeciętne roczne wynagrodzenie (ogłaszane w dzienniku urzędowym „Monitor Polski”) przez 120.
- C. pomnożyć przeciętne miesięczne wynagrodzenie w ubiegłym kwartale (ogłaszane w dzienniku urzędowym „Monitor Polski”) przez 10.
- D. pomnożyć przeciętne miesięczne wynagrodzenie w ostatnim kwartale (ogłaszane w dzienniku urzędowym „Monitor Polski”) przez 12.

Zadanie 7.

Dokument zawierający sposób niejawnego porozumiewania się uczestników konwoju za pomocą środków łączności nazywany jest

- A. szyfrogramem.
- B. tabelą kodową.
- C. tabelą szyfrową.
- D. instrukcją kodową.

Zadanie 8.

Największe ryzyko ataku na ochranianą osobę następuje w chwili

- A. wsiadania i wysiadania z limuzyny.
- B. przemieszczania się po chodniku.
- C. przejścia po schodach.
- D. przejazdu windą.

Zadanie 9.

Wobec osoby, która na wezwanie pracownika ochrony osobistej nie podporządkowała się wezwaniu do zachowania zgodnego z prawem przed zastosowaniem środka przymusu bezpośredniego, powinien on w pierwszej kolejności

- A. uprzedzić o możliwości zastosowania środka przymusu bezpośredniego.
- B. zastosować środek przymusu bezpośredniego bez uprzedzenia.
- C. wylegitymować osobę.
- D. wezwać Policję.

Zadanie 10.

Członkowie służb porządkowych imprezy masowej powinni bezpośrednio współpracować

- A. z komendantem powiatowym Państwowej Straży Pożarnej.
- B. z Powiatowym Centrum Reagowania Kryzysowego.
- C. z kierownikiem do spraw bezpieczeństwa.
- D. z komendantem miejskim Policji.

Zadanie 11.

Do noszenia w widocznym miejscu identyfikatora, wydanego przez organizatora imprezy masowej obowiązani są

- A. członkowie służby informacyjnej.
- B. członkowie służby informacyjnej i członkowie służby porządkowej.
- C. członkowie służby informacyjnej, członkowie służby porządkowej i kierownik do spraw bezpieczeństwa.
- D. członkowie służby informacyjnej, członkowie służby porządkowej, kierownik do spraw bezpieczeństwa oraz spiker.

Zadanie 12.

Art. 6.

Liczebność służby porządkowej oraz służby informacyjnej określa się w następujący sposób:

w przypadku imprezy masowej podwyższonego ryzyka – co najmniej 15 członków służb: porządkowej i informacyjnej na 200 osób, które mogą być obecne na imprezie masowej, i co najmniej 2 członków służby porządkowej lub służby informacyjnej na każde następne 100 osób, przy czym nie mniej niż 50% ogólnej liczby członków służb stanowią członkowie służby porządkowej.

Ilu członków służby porządkowej i informacyjnej należy wyznaczyć do zabezpieczenia imprezy masowej będącą imprezą podwyższonego ryzyka w przypadku, gdy sprzedano na nią 500 biletów?

- A. 11 członków służby porządkowej i 10 członków służby informacyjnej.
- B. 10 członków służby porządkowej i 11 członków służby informacyjnej.
- C. 9 członków służby porządkowej i 12 członków służby informacyjnej.
- D. 8 członków służby porządkowej i 13 członków służby informacyjnej.

Zadanie 13.

Instrukcja postępowania w przypadku pożaru lub innego miejscowego zagrożenia w miejscu i w czasie imprezy masowej **nie musi** zawierać

- A. opisu systemu ostrzegania w formie sygnałów ostrzegawczych.
- B. prognozy pogody w miejscu i czasie trwania imprezy masowej.
- C. opisu organizacji ewakuacji i sposobu jej przeprowadzenia.
- D. opisu graficznego planu obiektu lub terenu.

Zadanie 14.

Obowiązkiem członka służby informacyjnej imprezy masowej **nie jest**

- A. usuwanie z terenu imprezy masowej osób, które swoim zachowaniem zakłócają porządek publiczny, zachowują się niezgodnie z regulaminem obiektu lub imprezy masowej.
- B. obserwowanie obszarów potencjalnego zagrożenia i przeciwdziałanie nadmiernemu zagęszczeniu osób.
- C. informowanie o usytuowaniu punktów pomocy medycznej, gastronomicznych, sanitarnych.
- D. niedopuszczanie uczestników imprezy do miejsc nieprzeznaczonych dla publiczności.

Zadanie 15.

Współpraca służb porządkowo-informacyjnych imprezy masowej z jednostkami ochrony przeciwpożarowej powinna polegać na

- A. współdziałaniu w celu utrzymania ładu i porządku podczas trwania imprezy masowej.
- B. wprowadzaniu jednostek ratowniczych na teren imprezy masowej.
- C. zabezpieczaniu miejsc popełnienia przestępstw lub wykroczeń.
- D. zatrzymywaniu osób podejrzanych o spowodowanie pożaru.

Zadanie 16.

Z punktu widzenia bezpieczeństwa, „obiektowy magazyn broni” powinien być zlokalizowany w strefie ochrony

- A. wewnętrznej.
- B. zewnętrznej.
- C. peryferyjnej.
- D. środkowej.

Zadanie 17.

Określ, kto jest bezpośrednim przełożonym starszego wartownika – konwojenta w strukturach wewnętrznej służby ochrony.

- A. Dowódca zmiany.
- B. Kierownik jednostki.
- C. Zastępca szefa ochrony.
- D. Szef ochrony.

Zadanie 18.

Za dyscyplinę wykonywania zadań ochronnych podczas zmiany odpowiada bezpośrednio

- A. najstarszy pracownik ochrony pełniący służbę.
- B. kierownik chronionej jednostki.
- C. dowódca zmiany.
- D. szef ochrony.

Zadanie 19.

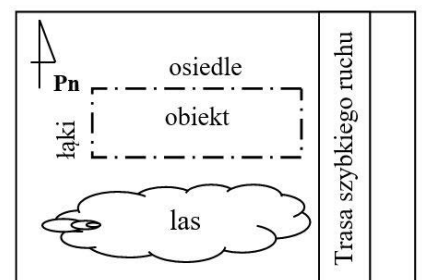
Do zakresu obowiązków pracownika ochrony pełniącego służbę na posterunku stałym przy bramie wjazdowej do chronionego obiektu **nie należy**

- A. utrzymywanie broni i innego wyposażenia w stałej gotowości do użycia bądź wykorzystania.
- B. podejmowanie interwencji w związku z naruszeniem bezpieczeństwa obiektu.
- C. wykonywanie obchodów w granicach chronionego posterunku.
- D. ochrona obiektu w granicach widoczności.

Zadanie 20.

Z jakiego kierunku istnieje największe prawdopodobieństwo penetracji obiektu?

- A. Południowego.
- B. Wschodniego.
- C. Zachodniego.
- D. Północnego.



Zadanie 21.

Zgodnie z obowiązującym przepisami, do obiektów podlegających obowiązkowej ochronie zalicza się

- A. fabrykę maszyn budowlanych.
- B. hutę szkła gospodarczego.
- C. port morski.
- D. archiwum zakładowe.

Zadanie 22.

W przypadku stwierdzenia obecności przedmiotu niewiadomego pochodzenia, na podstawie wyglądu którego można domniemywać, że może to być ładunek wybuchowy, ewakuację strefy zagrożenia zarządza

- A. szef ochrony.
- B. dowódca zmiany.
- C. administrator obiektu.
- D. osoba, która stwierdziła ten fakt.

Zadanie 23.

W hipermarkecie zauważono wzrost kradzieży kosmetyków poprzez wyjmowanie ich z opakowań. Które z poniższych przedsięwzięć powinno wpłynąć na zmniejszenie skali tego procederu?

- A. Zwiększenie ilości pracowników ochrony w strefie stoiska perfumeryjnego.
- B. Zwiększenie ilości pracowników ochrony na „linii kas”.
- C. Przyklejenie specjalnych zabezpieczeń na opakowania.
- D. Zatrudnienie dodatkowych pracowników sklepu.

Zadanie 24.

W skład obowiązkowej dokumentacji prowadzonej przez wewnętrzne służby ochrony **nie wchodzi**

- A. Dziennik szkolenia pracowników ochrony.
- B. Dziennik wydarzeń.
- C. Książka konwojów.
- D. Dziennik zmiany.

Zadanie 25.

Pracownik ochrony przy wykonywaniu zadań ochrony osób i imienia w granicach chronionych obiektów i obszarów może korzystać z uprawnień porządkowych w postaci

- A. zatrzymania osób stwarzających zagrożenie celem niezwłocznego przekazania ich Policji.
- B. przeszukiwania zawartości bagażu i odzieży osób podejrzanych o kradzież.
- C. ustalania uprawnień do przebywania osób na terenie chronionym.
- D. obezwładnienia osoby niepodporządkowującej się poleceniom.

Zadanie 26.

Po użyciu środka przymusu bezpośredniego ze skutkiem szczególnym pracownik ochrony ma obowiązek sporządzić notatkę z jego użycia. Której informacji **nie musi** zawierać sporządzana notatka?

- A. Służbowych danych identyfikacyjnych sporządzającego.
- B. Imion rodziców osoby, wobec której użyto środek.
- C. Informacji o przyczynie użycia środka.
- D. Opisu skutków użycia środka.

Zadanie 27.

W strefie peryferyjnej mogą przebywać

- A. pracownicy i pojazdy należące do chronionej jednostki.
- B. tylko pracownicy zatrudnieni w tej strefie.
- C. tylko pracownicy i pojazdy ochrony.
- D. wszystkie osoby i pojazdy.

Zadanie 28.

Po ilu dniach przechowywania przez organizatora imprezy masowej zarejestrowanego zapisu z urządzeń rejestrujących obraz i dźwięk (niezawierających dowodów pozwalających na wszczęcie postępowania karnego lub w sprawach o wykroczenia) można komisyjnie go zniszczyć?

- A. 90
- B. 60
- C. 30
- D. 14

Zadanie 29.

Po wygenerowaniu sygnału alarmowego przez centralę sygnalizacji pożaru, pracownik ochrony pełniący służbę na stanowisku „lokalnego monitoringu” powinien w pierwszej kolejności

- A. czasowo wstrzymać transmisję sygnału alarmu do najbliższej jednostki straży pożarnej i zweryfikować zagrożenie.
- B. powiadomić najbliższą jednostkę Państwowej Straży Pożarnej.
- C. powiadomić o zdarzeniu administratora obiektu.
- D. uruchomić system gaszenia pożaru.

Zadanie 30.

Poza granicami chronionych obiektów, obszarów bądź urządzeń, każdy pracownik ochrony ma prawo do

- A. ujęcia osoby stwarzającej w sposób oczywisty bezpośrednie zagrożenie dla życia lub zdrowia ludzkiego.
- B. wykorzystania środków przymusu bezpośredniego.
- C. użycia broni palnej.
- D. zatrzymania osoby.

Zadanie 31.

Zabezpieczeniem technicznym **nie jest**

- A. montaż urządzeń i środków mechanicznego zabezpieczenia, ich eksploatacja, konserwacja, naprawa i awaryjne otwieranie w miejscu zainstalowania.
- B. stały dozór sygnałów przesyłanych, gromadzonych i przetwarzanych w elektronicznych urządzeniach i systemach alarmowych.
- C. montaż elektronicznych urządzeń i systemów alarmowych, sygnalizujących zagrożenie chronionych osób i mienia.
- D. eksploatacja, konserwacja i naprawa systemów alarmowych sygnalizujących zagrożenie w miejscu ich zainstalowania.

Zadanie 32.

W jednostkach obliczeniowych (j.o.) określa się

- A. dopuszczalny limit wartości pieniężnych przechowywanych bądź transportowanych w pomieszczeniach i urządzeniach.
- B. odporność na włamanie urządzeń zabezpieczenia technicznego do przechowywania wartości pieniężnych.
- C. pojemność urządzeń zabezpieczenia technicznego do przenoszenia wartości pieniężnych.
- D. ładowność bankowozu.

Zadanie 33.

Transport wartości pieniężnych w ilości 17 jednostek obliczeniowych powinien być ochraniający przez co najmniej

- A. 1 konwojenta.
- B. 2 konwojentów.
- C. 3 konwojentów.
- D. 4 konwojentów.

Zadanie 34.

Bankowozem typu A bez potrzeby użycia pojazdu ubezpieczającego można przewozić wartości pieniężne w liczbie nieprzekraczającej

- A. 50 jednostek obliczeniowych.
- B. 44 jednostek obliczeniowych.
- C. 24 jednostek obliczeniowych.
- D. 20 jednostek obliczeniowych.

Zadanie 35.

Do środków ochrony osobistej konwojenta zalicza się

- A. maskę przeciwgazową i specjalny mundur.
- B. nakolanniki i rękawiczki skórkowe.
- C. opatrunek osobisty i nałokietniki.
- D. kamizelkę i hełm kuloodporny.

Zadanie 36.

W przypadku ostrzelania konwoju „na trasie” w formie zasadzki, w pierwszej kolejności należy

- A. maksymalnie zwiększyć prędkość i oddalić się z miejsca zagrożenia.
- B. odpowiedzieć ogniem z broni palnej nie zatrzymując konwoju.
- C. zatrzymać konwój i rozwinąć obronę okrężną.
- D. wezwać na pomoc grupę interwencyjną.

Zadanie 37.

W przypadku nagłej choroby dowódcy konwoju podczas transportu wartości pieniężnych dwoma pojazdami jego obowiązki przejmuje

- A. najstarszy wiekiem konwojent.
- B. konwojent kierunkowy.
- C. osoba transportująca.
- D. kasjer.

Zadanie 38.

Tożsamość cudzoziemca można ustalić na podstawie

- A. karty stałego pobytu wydanej przez wojewodę.
- B. karty ubezpieczenia zdrowotnego.
- C. karty bankomatowej.
- D. identyfikatora.

Zadanie 39.

Którego z wymienionych czynników **nie musi** uwzględniać osoba organizująca konwój wartości pieniężnych przy planowaniu jego trasy?

- A. Liczebności grupy konwojowej.
- B. Warunków atmosferycznych.
- C. Stanu nawierzchni.
- D. Natężenia ruchu.

Zadanie 40.

Jaka jest maksymalna wartość konwojowanego mienia, wyrażona w jednostkach obliczeniowych, którą może ochraniać grupa konwojowa złożona z 3 konwojentów?

- A. 10 jednostek obliczeniowych.
- B. 25 jednostek obliczeniowych.
- C. 50 jednostek obliczeniowych.
- D. 75 jednostek obliczeniowych.